



石景山区 2021 届初三年级一模考试



历史试卷

考生须知	1. 本试卷共 12 页，共 24 道小题，满分 70 分。考试时间 70 分钟。 2. 请在答题卡上准确填写学校名称、姓名和准考证号。 3. 试题答案一律填涂或书写在答题卡上，选择题用 2B 铅笔作答，其他试题用黑色字迹签字笔作答，在试卷上作答无效。 4. 考试结束，请将答题卡交回。
------	----------------------------------------------------------------------------------------------------------------------------------------------------------

第I卷 选择题（共 30 分）

本大题共 20 道小题，每小题 1.5 分，共计 30 分。每题只有一个正确选项。

1. 下列考古发现中，能够证明河姆渡居民比北京人进步的是



- ①猪纹陶钵 ②骨耜 ③打制石器 ④铁制农具

- A. ①② B. ①④ C. ②③ D. ③④

2. 中国古代有灿烂的青铜文明。《左传》有云：“国之大事，在祀与戎。”说明当时的青铜器的主要用途是


- A. 农具和酒器 B. 礼器和兵器 C. 礼器和农具 D. 兵器和农具

3. 某同学整理了我国古代的两次著名战役，空缺处应该补充的是

战役	时间	交战双方	结果	意义
①	200 年	曹操和袁绍	曹操以少胜多	为曹操统一北方打下基础
赤壁之战	208 年	曹操和孙刘联军	孙刘联军以少胜多	②

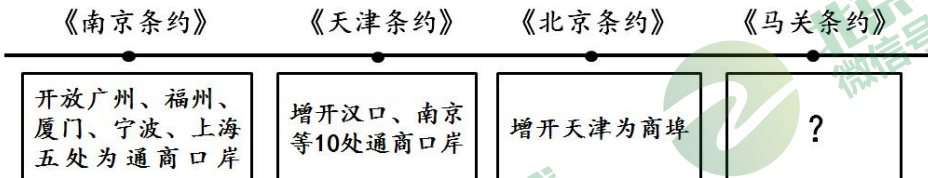
- A. ①涿鹿之战 ②结束了东汉末年以来的分裂局面
 B. ①长平之战 ②为三国鼎立局面的形成奠定基础
 C. ①淝水之战 ②结束了东汉末年以来的分裂局面
 D. ①官渡之战 ②为三国鼎立局面的形成奠定基础

4. 某学习小组开展题为“明清时期对外关系”的研究性学习，成员们搜集了以下素材，其中符合要求的是



- A. ①②③ B. ①②④ C. ①③④ D. ②③④

5. 在复习近代不平等条约时，小明绘制了如下示意图，其中？处应填



- A. 割辽东半岛、台湾全岛及所有附属各岛屿、澎湖列岛给日本
B. 开放沙市、重庆、苏州、杭州为商埠
C. 赔偿日本兵费白银2亿两
D. 允许日本在通商口岸开设工厂

6. 根据右侧资料可以得出

- A. 洋务运动实现了富国强兵的目的
B. 洋务运动为中国工业近代化奠基
C. 洋务运动促进了科学技术的传播
D. 洋务运动沉重打击了封建统治

洋务运动资料卡

兴办 19 个近代军事工业企业和近 40 个近代民用工业企业；

至 1894 年，洋务企业总资本达 26344 万元，占当时近代企业资本总额的 45.22%；

至 1894 年，工人总数为 34110~40810 人，占当时近代企业工人总数的 37.33%~41.62%。

7. 《社会变迁与百年转折丛书》讲述了从 1840 年鸦片战争到 1949 年中华人民共和国成立的百年历史，其中第五册为《1937 年：大灾难与大牵手》。其中“大灾难”与“大牵手”分别是指

- A. 卢沟桥事变和国共合作进行北伐 B. 卢沟桥事变和西安事变
C. 日本全面侵华和国共第二次合作 D. 日本全面侵华和平型关大捷

8. 右侧地图所示战役发生在





A. 1900年 B. 1926年 C. 1945年 D. 1948年

9. 对以下材料理解正确的是

①1978年中共十一届三中全会召开 ②十一届三中全会开启了社会主义建设的新时期

- A. ①属于历史结论 B. ①标志着我国已全面建成小康社会
C. ②属于历史史实 D. ②肯定了十一届三中全会的重要作用

10. 50年前和20年前发生的两件大事使中国在全球政治治理和经济治理方面开始发挥越来越重要的作用，这两件事分别是

- A. 中国恢复在联合国的合法席位 中国加入世界贸易组织
B. 中国提出人类命运共同体构想 中国实施改革开放政策
C. 中国恢复在联合国的合法席位 中国提出人类命运共同体构想
D. 中国提出人类命运共同体构想 中国发出“一带一路”倡议

11. 2021年3月11日，文艺复兴巨匠拉斐尔36幅数码还原画作亮相广州。与拉斐尔同时期的文艺巨匠还有

- A. 达·芬奇 B. 托尔斯泰 C. 梵高 D. 巴尔扎克

12. 据统计，从15世纪到19世纪的400余年中，非洲的人口损失达到1亿之多。造成这一现象的主要原因是

- A. 奴隶贸易的盛行 B. 欧洲人将瘟疫带到非洲
C. 工业革命的扩展 D. 第一次世界大战的影响

13. 以下内容是一位历史人物的部分生平，他是

时间	1799年	1804年	1812年
事件	发动雾月政变，组建新政府	主持制定了民法典	远征俄国失败

- A. 华盛顿 B. 克伦威尔 C. 罗伯斯庇尔 D. 拿破仑

14. 1895年，列宁说：《共产党宣言》的精神至今还鼓舞着、推动着文明世界全体有组织的正在进行斗争的无产阶级。这句话的含义是

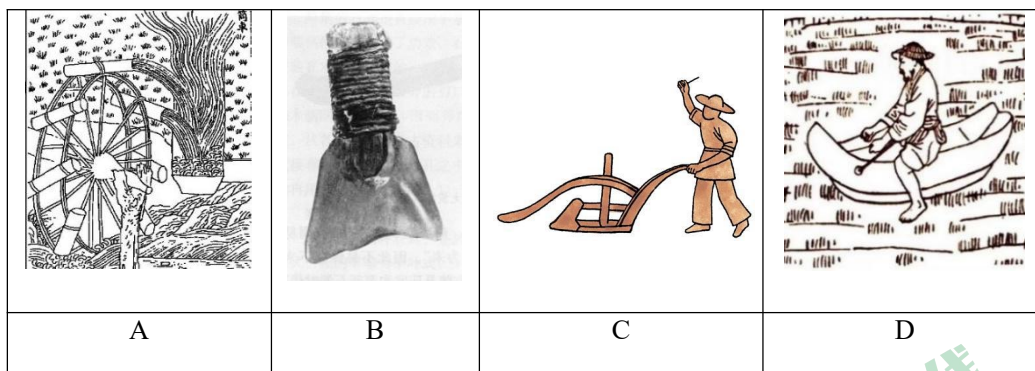
- A. 俄国十月革命取得了胜利 B. 马克思主义指导了工人运动
C. 社会主义力量逐渐壮大 D. 无产阶级开始登上历史舞台

15. 斯塔夫里阿诺斯在《全球通史》中写道“_____以后的几十年中，美国经历了最惊人的经济发展。……1860年，美国在世界工业国家中排在第四位，而到1894年时却跃居首位。”句中空白之处应该补充的内容是

- A. 独立战争 B. 工业革命 C. 南北战争 D. 第一次世界大战

16. 帝国主义各国经济发展不平衡，导致它们的实力对比发生重大变化。为了重新瓜分殖民地，争夺世界霸权，各国竞相扩军备战，制定战争计划。这段话描述的是第一次世界大战的

- A. 历史背景 B. 交战过程 C. 战争结果 D. 战后秩序



(2) 我国古代农业技术成果丰富，阅读下列文字，将材料二的内容对应填入下表。

(填写字母) (3分)

<p>①如纺车，以细竹为之，车骨之末，缚以竹筒，旋转时低则舀水，高则泻水。 ——《湖湘以竹车激水诗序》</p>	<p>②按秧马制甚有理，今农家拔秧时宜用之。可省足力，兼可载秧，供拔秧者甚便。 ——《思辨录》</p>	<p>③冶金而为之者曰犁铧、曰犁壁；斫木而为之者曰犁底、曰压挽、曰策额、曰犁箭、曰犁辕、曰犁梢、曰犁评、曰犁键、曰犁槃。木与金十有一。 ——《耒耜经》</p>

材料三



①《齐民要术》



②《农政全书》



③《王祯农书》



(3) 仿照示例，选择一本古代农学著作，进行简要介绍。(2分)

示例：③《王祯农书》是元代农学家王祯所著，该书兼论中国南北方农业技术，提出了中国古代农学的体系。

材料四 中央一号文件原指中共中央每年发布的第一份文件，现在已成为中共中央、国务院重视农村问题的专有名词。2004年至2021年，中共中央连续十八年发布以“三农”（农业、农村、农民）为主题的中央一号文件。其主题词整理摘录如下：

2004 农民增收	2010 农业农村发展	2016 农业现代化
2005 农业生产能力	2011 水利改革	2017 农业供给侧改革
2006 社会主义新农村	2012 农业科技	2018 乡村振兴

2007 农业现代化	2013 农业现代化	2019 脱贫攻坚
2008 农民增收	2014 农业现代化	2020 脱贫攻坚
2009 农民增收	2015 农业现代化	2021 乡村振兴、农业现代化

——根据国务院政策文件库整理

(4) 依据材料四，指出我国的农业农村工作呈现的发展趋势。(1分) 并对乡村振兴提出一条合理建议。(1分)

22. (11分) 体育运动与人类社会息息相关。


材料一 佗语普(吴普)曰：“人体欲得劳动，但不当使极(过度)耳。动摇则谷气得销，血脉流通，病不得生，譬犹户枢，终不朽也。……体有不快，起作一禽之戏，恰而汗出，因以著粉，身体轻便而欲食。”普施行之，年九十余，耳目聪明，齿牙完坚。

——范晔《后汉书》

(1) 依据材料一，指出华佗对运动的建议。(1分) 结合所学列举华佗的贡献。(1分)

蹴鞠在唐宋时期延续了汉代的发展，并由于皇帝和民间的共同推动而进入了繁荣阶段。南宋时期，宋代的踢球艺人组织了自己的团体“齐云社”，这是专业的蹴鞠组织，专事蹴鞠活动的比赛组织和宣传推广，是我国最早的单项运动协会，也可以说是世界上最早的足球俱乐部。正是由于唐宋经济的繁荣和商贸的沟通，蹴鞠开始了它向东西方的传播，并产生了广泛的世界影响。

——摘编自岳长志、马国庆《中国蹴鞠》



《长春百子图卷》(南宋)

材料二

(2) 依据材料二，说出唐宋时期蹴鞠发展的表现。(2分) 结合所学分析原因。(2分)

材料三 “乒乓外交”大事记

1971年3月	包括中国在内的50多个国家乒乓球运动员汇集在日本参加第31届世乒赛
3月26日	美国乒协领导对中国代表团表达了美国乒乓球代表团想访问中国的意愿
4月3日	外交部和国家体委就是否邀请美国乒乓球队访华写报告给周恩来总理
4月4日	美国队员科恩在训练完没有赶上班车，搭乘中国代表团的大巴前往比赛场馆，中



	国队员庄则栋与其友好交流并赠送了一幅杭州织锦作为礼物
4月5日	科恩把别着美国乒乓协会纪念章的短袖运动衫送给庄则栋
4月6日	毛泽东主席作出决定，中方正式邀请美国乒乓球代表团访华
4月10日	美国乒乓球代表团乘飞机到达北京
4月14日	周恩来总理在人民大会堂会见了美国、加拿大等五国乒乓球代表团
4月19日	中国乒乓球代表团应邀到达纽约进行友好访问。美国掀起了一阵“乒乓热”
7月9日	美国总统国家安全事务助理基辛格秘密访华，并同周恩来总理举行了会谈
1972年2月	美国总统尼克松访华。毛泽东会见了尼克松，周恩来与尼克松举行了会谈。中美双方签署并发表了《联合公报》，两国关系开始走向正常化

(3) 依据材料三，说明“乒乓外交”得以实现的原因。(2分) 周总理用“小球转动了地球，震动世界”来评价这次外交活动，谈谈你对这句话的理解。(1分)

材料四

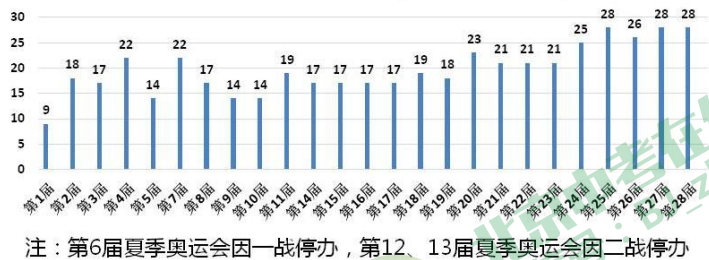
玩出色 腕出众

- 117种运动模式
- 全新血氧检测
- 16天续航升级
- 32.5g轻量化设计



某品牌运动手表广告

历届夏季奥运会大项数(截止至第28届)



(4) 依据材料四，谈谈体育运动发展的表现。(2分)

23. (10分) 人口见证时代变迁

材料一 南北朝时期北方移民的南迁促进了南方经济的发展。主要体现在：北方某些先进的手工业技术的传入，由于移民南迁引起的麦粟等作物种植面积的扩大，皆有利于农业手工业产品质量的提高和数量的增加。移民及时补充了江淮地区和江南等地区在北宋初期大量下降的人口，使上述地区能够在原有基础上继续向前发展而不致因缺少人口陷于停滞或后退。

——摘编自吴松弟《北方移民与南宋社会变迁》

(1) 依据材料一，概括移民对于南宋社会经济发展的影响。(2分)

材料二



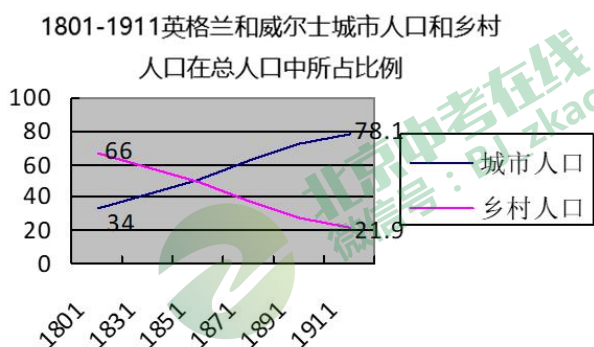


- ①秦始皇在位时，为加强中央集权，打击地方势力，强行迁徙天下豪富十二万户到咸阳。
- ②西晋八王之乱历时十几年，中原数十万人逃往南方，形成人口迁徙高潮。
- ③明太祖在位时，在长城一线设置了9个边镇，设立卫所、移民屯边。
- ④据统计，第一次世界大战死亡人口1000多万，第二次世界大战死亡人口5700多万。

(2) 用材料二的史实说明以下观点。(4分。填序号，每空多选、少选、错选均不得分)

- A. 战争是导致人口数量急剧减少的重要原因之一：_____
- B. 统治者通过强制移民来实现一定的政治目的：_____
- C. 政局动荡导致人口迁移，改变人口的空间分布：_____

材料三 1801-1911年英格兰和威尔士城市 and 乡村人口估计



——数据来源：王红印《14-19世纪中英人口数据梳理分析》

(3) 依据材料三，说出英国人口结构变化的趋势。(1分) 指出促成这一趋势的背景。

(1分)

材料四 中华人民共和国历史上的七次人口普查

时间	特点
1953年	新中国第一次采用全面科学的方法开展人口普查；采用登记常住人口的办 法 ，由户主到登记站登记
1964年	首次将“文化程度”“职业”等加入普查项目，为制定第三个五年计划和长远规划提供了可靠依据
1982年	首次对数据进行计算机处理，是中国现代人口普查工作发展过程中的里程碑
1990年	调查项目增多，拓展到21项，汇总资料丰富，为制定人口政策和人口规划提供了可靠的依据，为确定人口社会问题提供了翔实数据
2010年	国务院于2010年5月12日颁布《全国人口普查条例》；首次将居住在中国境内的港澳台和外籍人员纳入普查范围
2020年	首次采用电子化采集数据方式开展人口普查登记；普查项目增加居民身份证号码；增加普查对象通过互联网自主填报方式

(4) 依据材料四，指出人口普查工作的变化。(2分)



24. (10分) 中国共产党建党百年之际，某历史社团开展了以“追寻记忆·传承精神”为主题的实践活动。

【观看红剧 追寻记忆】

 <p>① 《觉醒年代》</p>	 <p>② 《换了人间》</p>	 <p>③ 《秀美人生》</p>
<p>描写了自 1915 年至 1921 年间，中国共产党一代先驱为中国命运和前途勇敢追求和探索的历史</p>	<p>真实和完整地再现了 1949 年到 1954 年期间中国革命进程和在中国发生的翻天覆地的变化</p>	<p>讲述了黄文秀学成之后放弃大城市的工作机会，毅然回到家乡，担任驻村干部，带领家乡人民摆脱贫苦，奉献自我的故事</p>

(1) 结合所学，为三部影视剧选择适当的史实。(填字母) (3分)

A. 决胜脱贫攻坚战 B. 五四运动 C. 筹备中国人民政治协商会议

【品读家书 感受力量】

家书1	家书2
<p>我在高安已住二十多日，现南昌已克复，三、二日后，我将到南昌去了！我们国民革命军由广州出发，我也由湖南到湖北、江西，将来不知能否到南京、上海。南昌到汉口只需二日，汉口四日到重庆，要是我回家也很容易，不过我现在不能回来！ ——1926年11月6日陆更夫致弟弟的家书</p>	<p>您信中谈到咱们卖给国家余粮七百斤，这是应当的。国家正在建设之际，特别是重工业建设需要更多的资金和粮食供应，解决工厂工人和国家军队的需要，起到一定的保证。现在这样做，今后更应该继续积极做下去。 ——1955年1月7日李振华致父亲的家书</p>

(2) 分别指出两封家书反映的历史事件。(2分) 概括两封家书内容的共同点。(1分)

【实践考察 主题探究】



京畿红地标（部分）

序号	考察地点	地点介绍
①	北大红楼	马克思主义学说研究会、北京共产主义小组在这里诞生
②	焦庄户地道战遗址	1943 起，为了跟日军进行长期的斗争，村党支部发动群众，陆续挖出了 11.5 公里长的地道，形成了能打能防的战斗型地道网
③	来今雨轩	马克思主义学说研究会与其他进步团体交流及扩大影响之处
④	康庄铁路党支部旧址	1922 年 10 月 27 日，在中共党员周振声等人的领导下，康庄火车站铁路工人全体罢工，罢工持续三天，取得了增加工资的胜利
⑤	冀热察挺进军司令部旧址陈列馆	陈列馆共有四个展室，其中第一展室展出了挺进军成立前后的历史。1939 年挺进军成立，司令部驻在马栏村。第三展室展示了马栏人民进行破袭战、地雷战等史实
⑥	长辛店工人俱乐部旧址	在共产主义小组的领导下，北京长辛店铁路工人成立工会，后改为工人俱乐部，1922 年 8 月，长辛店工人举行大罢工并取得胜利

(3) 概括上述京畿红地标所体现的中国共产党的主要贡献。(3 分) 要求：仿照示例完成。

示例：

序号	主要贡献
①	传播马克思主义
③	

序号	主要贡献 1
	领导工人运动

序号	主要贡献 2

【唱响红歌 分享感悟】
“没有共产党就没有新中国，……共产党，辛劳为民族，共产党，他一心救中国，他指给了人民解放的道路，他领导中国走向光明……”1943 年，《没有共产党就没有新中国》这首歌在北京房山区霞云岭乡堂上村诞生并唱响。这首歌由平西唱到晋察冀，由东北唱到全中国。20 世纪 50 年代中国人民志愿军在朝鲜大唱它，60 年代困难时期，周总理到天津视察工作，亲自指挥群众高唱它。2020 年，在抗击新冠疫情的重大胜利面前，人们情不自禁地唱起这首歌。

(4) 结合所学，分析这首歌流传至今，久唱不衰的主要原因。(1 分)



参考答案

I、选择题（每小题 1.5 分，共 30 分）

题号	1	2	3	4	5	6	7	8	9	10
答案	A	B	D	C	B	B	C	D	D	A
题号	11	12	13	14	15	16	17	18	19	20
答案	A	A	D	B	C	A	B	C	C	D

II、材料解析题（共 40 分）

21. （9 分）

（1）（2 分）

重视农业发展（1 分）；奖励耕织（1 分）

（2）（3 分）

①：A ②：D ③：C（每个 1 分）

（3）（2 分）

① 《齐民要术》为北朝农学家贾思勰所著，是我国现存最早的一部完整农书，对后世农学有深远影响。

② 《农政全书》为明代科学家徐光启所著，全面总结了我国古代农业生产的先进经验和创新研究成果，是明代一部重要的农业科学著作。

（时间、作者正确，1 分；正确评价，1 分）

（4）（2 分）

农业农村工作从单纯的强调农民增收到强调实现农业现代化。（1 分）

建议言之有理即可。（1 分）

22. （11 分）

（1）（2 分）

适量的运动可以保持身体健康。（1 分）发明麻沸散与五禽戏。（1 分）

（2）（4 分）

表现：出现了专业的蹴鞠组织；开始向东西方传播；蹴鞠已成为常见的健身娱乐方式。

（答出以上任意两点即可得分。每点 1 分，共 2 分）

序号	主要贡献 1
----	--------

原因：这一时期商品经济的发展（或经济的繁荣）；海外贸易的发展；贵族和平民百姓的共同推动。（答出以上任意两点即可得分。每点 1 分，共 2 分）

(3) (3 分)

原因：中美运动员互相表达善意；（1 分）

中美领导层都希望改善双方关系。（1 分）

理解：乒乓外交推进了中美关系的正常化，或其他合理表述。（1 分）

(4) (2 分)

运动项目数量增加；（1 分）

科技（智能穿戴）助力体育运动。（1 分）

23. (10 分)

(1) (2 分)

使手工业技术和北方农作物品种传播到南方；补充了南方地区的人口和劳动力；

促进南方经济持续和快速发展。（答出以上任意两点即可得分。每点 1 分，共 2 分）

(2) (4 分)

A: ④ B: ①③ C: ②（每点 1 分，共 4 分）

(3) (2 分)

趋势：城市人口在总人口中所占比例不断增加，乡村人口比例下降。（1 分）

背景：英国发生工业革命。（1 分）

(4) (2 分)

普查方式更加先进、多样；普查数据的信息处理方式更加先进；普查项目更加

丰富；普查范围扩大；通过立法规范普查工作。（答出以上任意两点即可得分。每点 1 分，共 2 分）

24. (10 分)

(1) (3 分)

①: B ②: C ③: A（每点 1 分）

(2) (3 分)

事件：北伐战争或国民大革命（1 分）；一五计划（1 分）

共同点：都以国家民族利益为重。（1 分）

(3) (3 分)（序号正确，每组各 1 分，主题正确 1 分。）



④	
⑥	

序号	主要贡献 2
②	领导敌后抗战
⑤	

(4) (1分)

这首歌唱出了广大人民群众对

中国共产党的衷心拥护和跟党走的坚定信念，唱出

了只有中国共产党才能领导中国人民争取国家独立、民族解放、人民幸福的历史必然。（言之成理即可得分。1分）



北京中考在线
微信号：BJ_zkao



北京中考在线
微信号：BJ_zkao

