



11. 黄河下游不能大规模发展水运的主要原因  
 A. 冰期长达半年之久, 航时过短      B. 形成地上河不利港口建设和航行  
 C. 流量小, 常年断流      D. 地势落差大, 多峡谷
12. 黄河沿线省会城市兰州、西安、郑州、济南, 其对应省区简称正确的是  
 A. 甘、鲁、陕、豫      B. 甘、陕、豫、鲁  
 C. 豫、鲁、甘、陕      D. 陕、甘、鲁、豫

图6为“我国耕地、水资源配置”。读图, 完成13、14题。

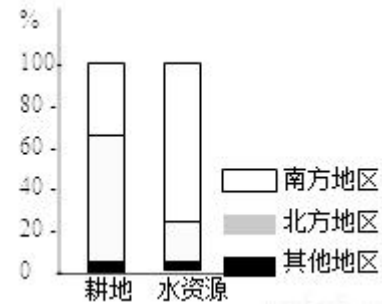


图6

13. 我国耕地和水资源的分布特点是  
 A. 北方耕地多、水资源少      B. 南方耕地多、水资源少  
 C. 北方耕地少、水资源多      D. 南方耕地少、水资源少
14. 为解决水、土资源配置存在的问题, 下列措施正确的是  
 A. 南方水资源丰富, 应扩大耕地面积  
 B. 北方地区相对缺水, 应大力缩小耕地面积  
 C. 均属于可再生资源不必做任何调整  
 D. 节水与区外引水相结合是北方地区解决缺水问题的长远之策

今年是“5·12汶川地震”10周年。自2009年起, 每年5月12日为全国防灾减灾日。据此, 读图7完成15、16题。

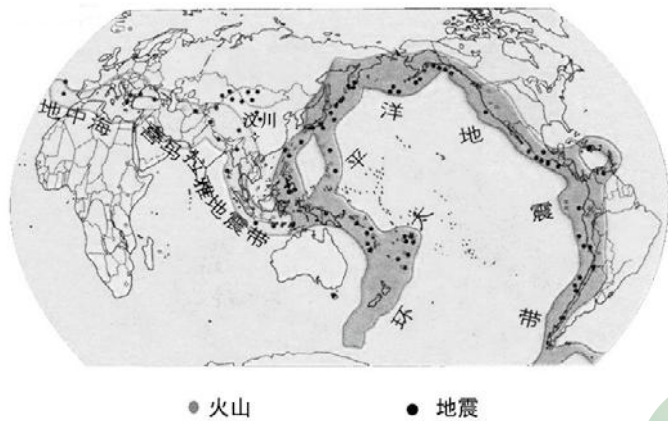


图7

15. 关于汶川地震说法正确的是  
 A. 汶川位于板块内部, 地壳稳定  
 B. 汶川位于地中海—喜马拉雅火山地震带附近  
 C. 汶川地震是人类活动造成的灾害  
 D. 汶川地震引发台风灾害
16. 当灾害来临时, 下列行为正确的是



图8为“南方地区图”。读图, 完成17~19题。

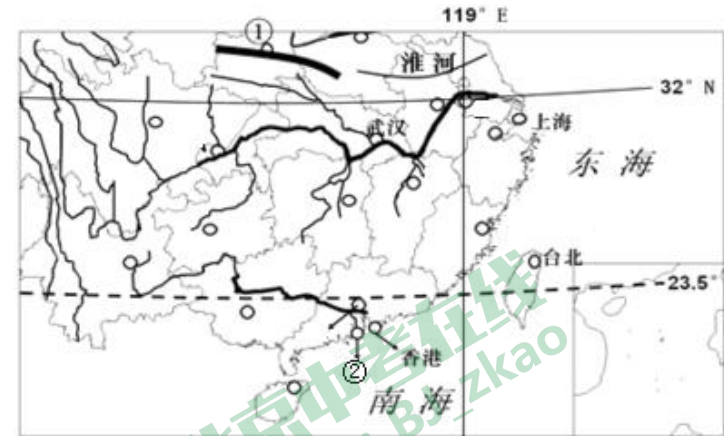


图8

17. 关于南方地区说法正确的是  
 A. 四面临海, 利于对外沟通  
 B. 区域内有我国最大岛屿, 海南岛  
 C. 海岸线长、曲折, 利于海上运输  
 D. 北回归线穿过该区域, 大部分属于热带地区
18. 图中①山脉名称及对应地理意义正确的是  
 A. 南岭 我国南北方分界线      B. 南岭 我国水田、旱地分界线  
 C. 秦岭 我国800mm年等降水量线      D. 秦岭 我国二、三阶梯分界线
19. 关于图中②城市说法正确的是  
 A. 是国际贸易中心      B. 1997年回到祖国的怀抱  
 C. 博彩旅游业是其重要的支柱产业      D. 产业部门完全依赖祖国内地



图9为“长江三角洲产业分工及发展梯”。读图，完成20、21题。

20. 该区域产业结构和布局 A. 产业发展阶段产业结构变化不明显 B. 苏州、无锡、常州在21世纪接棒上海的汽车制造业 C. 该区域产业，集中分布于上海 D. 70—80年代长江三角洲地区，工业还没形成和发展

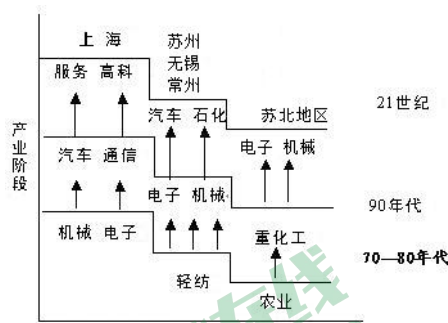


图9

21. 上海发展高新技术产业的优势  
 A. 人口密集，劳动力丰富 B. 矿产资源丰富，利于开发  
 C. 高校集中，劳动力技术水平高 D. 沿河、沿海水资源丰富

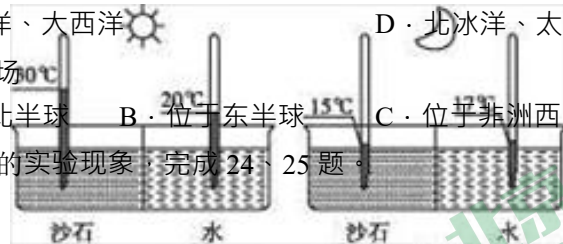
目前，中国远洋渔业作业海域已扩展到40个国家和地区的专属经济区。图10为“中国远洋捕捞主要活动区域示意图”。据此，完成22、23题。



图10

22. 中国远洋渔业，作业海域主要集中在  
 A. 印度洋、北冰洋 B. 大西洋、印度洋  
 C. 太平洋、大西洋 D. 北冰洋、太平洋

23. 阿根廷渔场  
 A. 位于北半球 B. 位于东半球 C. 位于非洲西岸 D. 位于南美洲东岸



24. 此实验，验证了下列哪种因素对气温的影响  
 A. 地形因素 B. 纬度因素 C. 海陆因素 D. 季风因素
25. 通过实验，得出的正确结论是  
 A. 纬度越高，气温越低 B. 海拔越高，气温越低 C. 受季风影响越大，降水越多 D. 陆地日较差大，海洋日较差小
- 小华在阅读中看到这样的描述：此人肤色白、鼻子高大、头发是金黄色卷曲，蓝绿色的眼睛散发着无限光芒。据此，读图12完成26、27题。

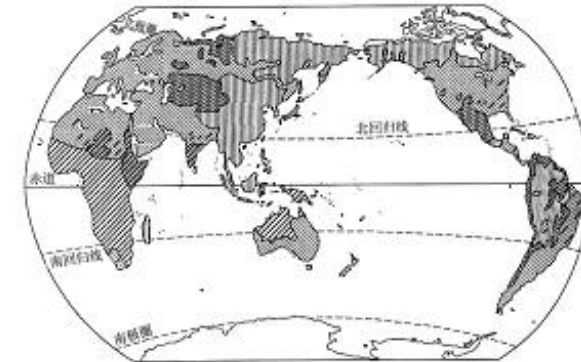


图12

26. 通过描述，可以判断该人种为  
 A. 黑色人种 B. 红色人种 C. 黄色人种 D. 白色人种
27. 该人种集中分布于  
 A. 欧洲、北非、西亚、中亚、南亚、北美洲、南美洲和大洋洲  
 B. 撒哈拉以南非洲、亚洲东部、北美洲 C. 亚洲东部、北美洲、大洋洲、  
 D. 南半球

图13为4处“聚落景观图”。读图，完成28、29题。



甲 乙 丙 丁

图11

28· 图 13 中· 以渔业生产方式为主及工业生产为主的聚落是

- A· 甲、乙      B· 乙、丙      C· 丙、甲      D·  
丁、乙

29· 城市与乡村根本区别是

- A· 生活方式的不同      B· 生产方式的不同  
C· 消费观念的不同      D· 住宅密度的不同



北京中考在线  
微信号：BJ\_zkao



北京中考在线  
微信号：BJ\_zkao



北京中考在线  
微信号：BJ\_zkao



北京中考在线  
微信号：BJ\_zkao

30. 图14为“亚洲气候类型分布图”，关于亚洲气候复杂多样的原因，分析错误的是
- A. 南北纬度跨度大，热量条件相差大  
 B. 东西经度跨度大，降水条件差异大  
 C. 亚洲河流众多，湿度差异大  
 D. 地形复杂，地形类型多样



图14

图15为亮亮在学习世界某区域后绘制的思维导图。据此，完成31~34题。

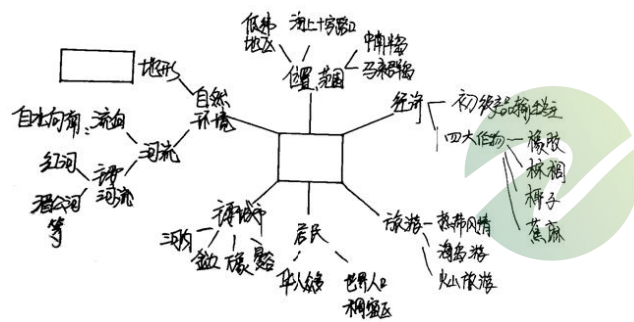


图15

31. 根据思维导图判断，该区域是  
 A. 西亚 B. 撒哈拉以南非洲 C. 北美洲 D. 东南亚
32. 关于“海上十字路口”理解正确的是  
 A. 海上交通不便利 B. 该“十字路口”说的是巴拿马运河  
 C. 该“十字路口”连通了太平洋和印度洋  
 D. 该“十字路口”连接了亚洲和非洲
33. 对应地形的□应填  
 A. 地形以平原为主、地势南高北地  
 B. 山河相间、南北纵列分布  
 C. 山脉东西向分布  
 D. 地势西高东低、呈三级阶梯分布
34. 该地区也是世界主要水稻种植区，下列不适合种植水稻的地区是  
 A. 该地区河谷地带 B. 该地区河口三角洲  
 C. 该地区山区 D. 该地区平原地带

2018年4月27日，在板门店韩方一侧“和平之家”，朝韩首脑举行会谈。据此，完成35、36题。

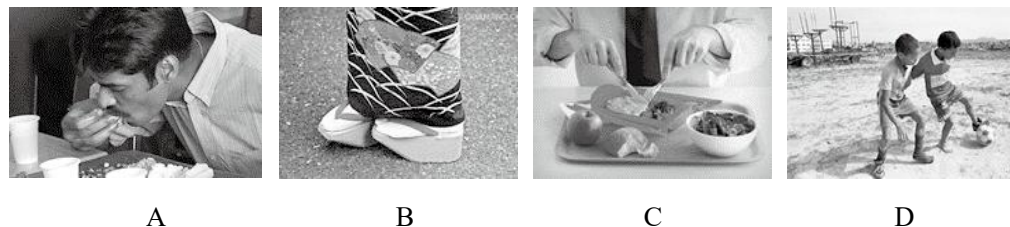
35. 朝鲜将从5月5日起启用修改后的平壤时间，以东9区标准时间为准。我国是以东8区标准时间为主，将与我国相差一个小时。产生时差的原因是  
 A. 地球公转 B. 地球自转 C. 月食 D. 日食
36. 会谈晚宴菜单中有黄姑鱼海参水饺、凉拌章鱼，说明  
 A. 韩国是内陆国家 B. 韩国是热带国家  
 C. 韩国是沿海国家 D. 韩国文化受西方影响显著

所谓软件外包就是一些发达国家的软件公司将他们的一些非核心的软件项目通过外包的形式交给人力资源成本相对较低的国家的公司开发，以达到降低软件开发成本的目的。众所周知，软件开发的成本中70%是人力资源成本。图16为“印度软件外包产业中心的形成年代与分布图”。据此，读图16完成37~40题。



图16

37. 在印度最初形成的软件外包产业中心有  
 A. 浦那 B. 斋浦尔  
 C. 特里凡得琅 D. 班加罗尔
38. 印度发展信息技术服务外包产业的优势是  
 ①矿产资源丰富 ②英语普及 ③信息技术发展较早 ④人力资源丰富  
 A. ①②③ B. ②③④ C. ①②④ D. ①③④
39. 印度软件外包产业发展迅速，这形象地称为  
 A. “世界加油站” B. “世界加工厂”  
 C. “原材料仓库” D. “世界办公室”
40. 下列图片中，属于印度文化习俗的是



A

B

C

D

密封线内不能答题



第二部分 非选择题 (共 50 分)

41. 电影《红海行动》真实还原了也门撤侨事件，这次事件中我国在世界面前展现的大国精神和人道主义，让世界都伸出大拇指。据此完成下列问题。(14分)

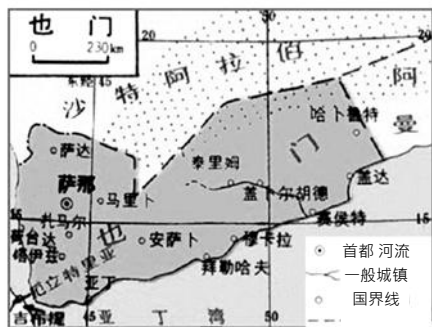


图 17

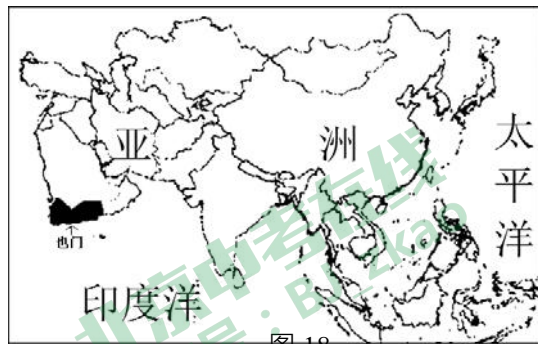


图 18

- (1) 也门位于亚洲\_\_\_\_\_部的阿拉伯半岛南部地区，南邻\_\_\_\_\_洋，首都是\_\_\_\_\_，图中大多数城市\_\_\_\_\_ (双选)
- A. 沿河分布    B. 沿海分布    C. 沿国界分布    D. 沿纬线分布

(2) 电影中，在对恐怖组织定位的时候，村民画了一副手绘地图，这里缺少了\_\_\_\_\_地图必备要素 (多选)



图 19

- A. 方向    B. 比例尺  
C. 图例和注记    D. 颜色

(3) 电影中，因沙尘暴的出现缓解了“蛟龙突击队”队员的危机，沙尘暴的天气符号是



(4) 电影中除中文外，还大量出现了该地区居民使用的是\_\_\_\_\_语，“蛟龙突击队”队员能顺利潜入恐怖组织内部是因其服饰特点明显，下列四幅图中符合该地区服饰特点的是\_\_\_\_\_，描述服饰特征并说明形成该着装特点的原因\_\_\_\_\_。当地服饰也受信宗教仰影响，其居民主要信奉\_\_\_\_\_教。



A    B    C    D

42. 2018 年 5 月 2 日在与澳大利亚总理特恩布尔结束会晤后，马克龙表示，在全球与地区经济增长方面，“中国的崛起对每个人来说都是一个非常好的消息”。他还呼吁印度、澳大利亚与法国三国建立一个新的联盟。据此，读图完成下列问题。(9分)

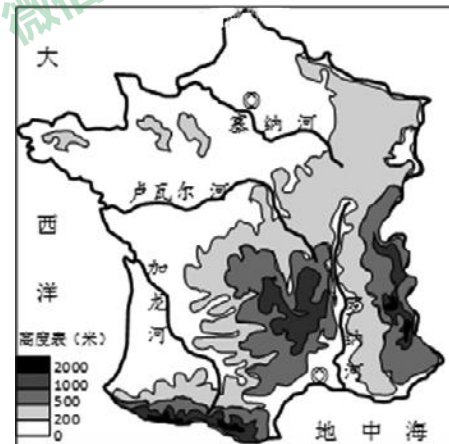



图 20




图 21

(1) 法国地势特征\_\_\_\_\_，塞纳河的流向\_\_\_\_\_。沿 AB 线绘制澳大利亚地势大致是\_\_\_\_\_




A



B



C



D

- (2) 西餐一般以面包为主食，两国主要的粮食作物为\_\_\_\_\_。
- (3) 关于两国经济发展叙述正确的是\_\_\_\_\_ (双选)
- A. 均为农业大国    B. 旅游业发达  
C. 均为人口大国    D. 工业发展水平高
- (4) 法国呼吁与印度的合作属于\_\_\_\_\_。(南北对话、南南合作)
- (5) 请任选一国典型旅游资源，并说明其属于哪种旅游资源类型。(一个即可)

43. 读图·完成下列问题。(17分)

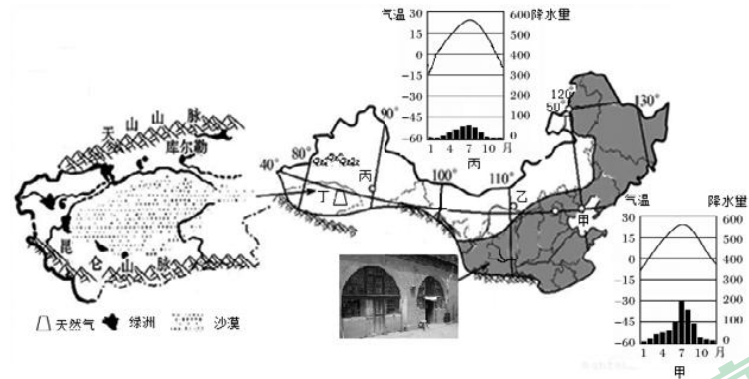


图 22

- (1) 图示地区出现的我国两大地理分区各是\_\_\_\_\_。两区域大致以\_\_\_\_\_为分界。秦皇岛(120°E、40°N)位于图中甲、乙、丙三地点中的\_\_\_\_\_地。
- (2) 读图可知,丁区域主要地形区是\_\_\_\_\_,该地形区内分布有我国最大的沙漠塔克拉玛干沙漠。该区域河流多发源于高山,河流多以\_\_\_\_\_为补给,故升温快的春季可能出现\_\_\_\_\_ (水文特征)。在山麓地带出现\_\_\_\_\_ (农业类型)。丁区域有丰富的矿产资源是\_\_\_\_\_,这里是跨区域资源调配工程\_\_\_\_\_的起点,利用\_\_\_\_\_ (交通运输方式)将资源源源不断的输送到东部地区。同时为丁区域带来的益处是\_\_\_\_\_。
- (3) 大致位于同纬地区的甲地与丙地气候差异显著。甲地气候类型为\_\_\_\_\_,丙地气特征\_\_\_\_\_,导致这种差异的主要原因是\_\_\_\_\_。
- (4) 图中传统民居主要位于\_\_\_\_\_高原。该地区\_\_\_\_\_ (环境问题)严重。

44. 阅读资料和图完成下列问题。(10分)

资料1:大蒜是生活中不可缺少的调料,既可增味,又可杀菌。好冷凉环境,最适温度-5℃~26℃。以肥沃,疏松透气,保水排水性能好的土壤为佳。耗水量大,生长中要保持足量水分。种植大蒜白露嫌早寒露嫌迟,秋分种蒜正当时。在北纬35°以南地区,冬季平均最低温度在-6℃以上,幼苗能在露地越冬,可以秋播,翌年初夏收头,在北纬38°以北地区,冬季平均气温在-10℃以下,大蒜在露地不能越冬,宜早春播种,夏季收获。

资料2:中牟大白蒜是1980年河南省科学院生物研究所与中牟县外贸公司联合培育的。大蒜不易储存,冷链物流业的发展壮大解决了大蒜储存和运输的难题。再就是通过深加工,延长贮藏期,做到常年均衡供应;二可变初级原料出口为精加工产品出口,既降低出口运输成本,又提高产品的附加值,变资源优势为产品优势和经济优势。

资料3:早熟蒜上市,“大蒜之乡”中牟县,卖一块钱来收蒜的人也不多。为破解难卖问题,中牟县政府联合电商平台拼多多,启动“一起拼农货”扶持计划,包销2000亩大蒜,贫困户增收100余万元。

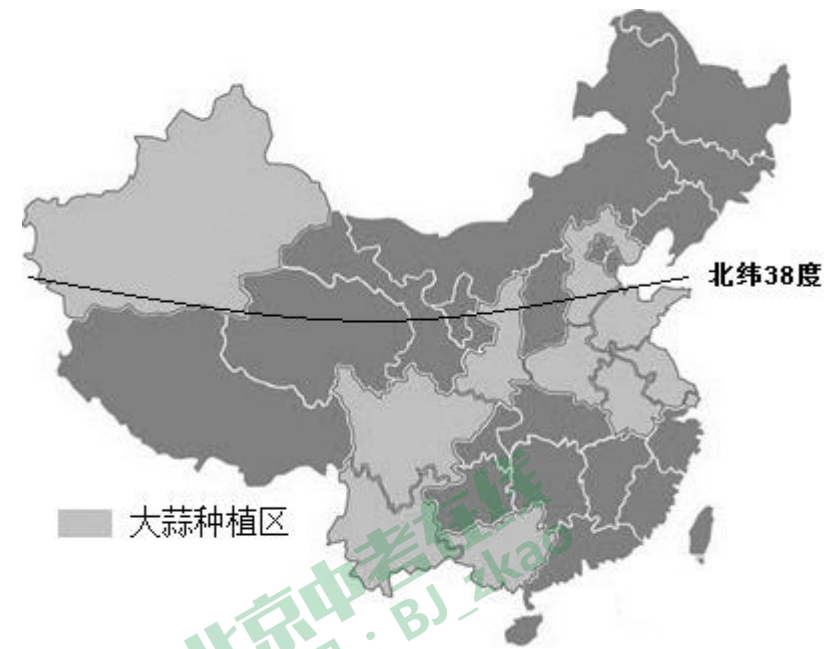


图 23

- (1) 影响大蒜生长的自然环境条件有\_\_\_\_\_。
- (2) 图中\_\_\_\_\_ (省区)大部分地区大蒜适合早春播种。
- (3) 大蒜在我国南方大部分省区宜秋播主要是因为\_\_\_\_\_。
- (4) 资料2,体现了\_\_\_\_\_ (社会经济条件)对农业发展的影响。通过深加工,延长大蒜贮藏期,满足了\_\_\_\_\_ (社会经济条件)的需求。大蒜精加工后的优势\_\_\_\_\_。
- (5) 资料3,体现了\_\_\_\_\_ (社会经济条件)对农业发展的影响。