



北京市西城区 2020—2021 学年度第一学期期末试卷

七年级历史

2021.1

考生须知

1. 本试卷共 8 页，共 2 道大题，29 道小题。满分 100 分。考试时间 60 分钟。
2. 在试卷和答题卡上准确填写学校、班级、姓名和学号。
3. 试题答案一律填写在答题卡上，在试卷上作答无效。
4. 在答题卡上，选择题须用 2B 铅笔将选中项涂黑涂满，其他试题用黑色字迹签字笔作答。
5. 考试结束时，将本试卷、答题卡一并交回。

第一部分 选择题（共50分）

本部分共25小题，每小题2分，共50分。在每小题列出的四个选项中，选出最符合题目要求的一项。

1. 北京人是世界上最重要的原始人类之一。学者研究北京人的直接证据是
 - A. 神话传说
 - B. 遗址发掘出的化石
 - C. 合理想像
 - D. 史书中的文字记载
2. 下列各项能够反映河姆渡人生产生活的有



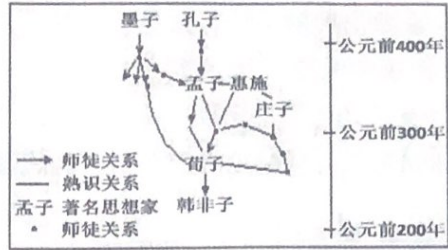
- ①人面鱼纹彩陶盆 ②遗址出土的骨耜 ③遗址出土的稻谷 ④干栏式建筑复原图
- A. ①②③
 - B. ①②④
 - C. ①③④
 - D. ②③④

3. 被后人尊崇为中华民族人文初祖的是
 - A. 炎帝 尧
 - B. 黄帝 尧
 - C. 炎帝 黄帝
 - D. 舜 禹
4. 关于启的继位，古书中有不同记载。《史记》写道：“益（禹晚年培养的接班人）让帝禹之子启。”《战国策》记载：“启与支党攻益，而夺之天下。”据此可以得出的结论是
 - A. 禹最初就想传位于启
 - B. 启夺取了禹的王位
 - C. 启通过禅让取得王位
 - D. 禹把王位禅让给益
5. 公元前 651 年齐桓公召集诸侯会盟，提出了“尊周室，攘夷狄”的口号。其目的是
 - A. 为齐国争霸提供借口
 - B. 建立统一的多民族国家
 - C. 维护以周天子的利益
 - D. 促进各诸侯国友好交往
6. 战国时期各诸侯国纷纷进行变法改革，其中变法成效最大的商鞅变法发生在
 - A. 齐国
 - B. 秦国
 - C. 楚国
 - D. 鲁国
7. 下列战役发生在战国时期的有
 - ①桂陵之战
 - ②长平之战
 - ③马陵之战
 - ④官渡之战
 - A. ①②③
 - B. ①②④
 - C. ①③④
 - D. ②③④



8. 下图是春秋战国时期各思想学派关系图，从中可以看出

- A. 各学派以血缘为联系纽带
- B. 各思想学派之间等级森严
- C. 各学派之间相互学习借鉴
- D. 诸子百家均师出同一师门



9. 《论语·为政》中说道，“为政以德，譬如北辰，居其所而众星共之”。这种主张出自

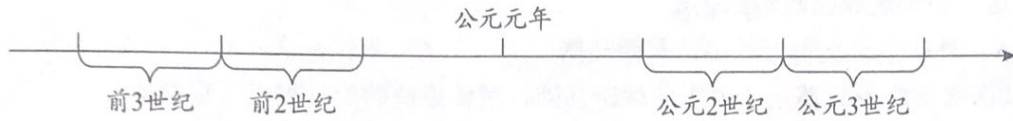
- A. 法家
- B. 道家
- C. 儒家
- D. 墨家

10. 一位同学在单元复习后整理了下面的笔记。他复习的内容所属历史时期是

- A. 史前时期
- B. 夏商周时期
- C. 春秋战国时期
- D. 三国两晋南北朝时期

政治方面	王室衰微，诸侯争霸
经济方面	铁农具和牛耕的使用
文化方面	学术思想活跃

11. 年代尺有助于历史记忆。公元前 221 年，秦国完成统一大业。这一年是



- A. 公元前 3 世纪
- B. 公元前 2 世纪
- C. 公元 2 世纪
- D. 公元 3 世纪

12. 某同学阅读的历史资料中有“楚汉之争”“约法三章”“垓下之战”等关键词，与这些词相关的历史人物是

- A. 秦始皇 李斯
- B. 赵高 秦二世
- C. 陈胜 吴广
- D. 项羽 刘邦

13. 观察以下两幅图，促使“西汉初期”“西汉后期”封国范围发生变化的措施是



- A. 分封诸侯
- B. 设置郡县
- C. 实行郡国并行
- D. 颁布推恩令



14. 据史料记载，汉武帝继位之初，“太仓之粟，陈陈相因，充溢露积于外，至腐败不可食”。这一现象出现的历史背景是

- A. 西汉的赋税十分沉重
B. 汉初奢靡之风盛行
C. “文景之治”的出现
D. 罢黜百家独尊儒术

15. 为加强朝廷对社会经济的控制，汉武帝把铸币权收归中央，统一铸造



- A. 刀币
B. 铲币
C. 半两钱
D. 五铢钱

16. 在陕西省兴平市，有一座西汉的“马踏匈奴”的石刻，它纪念的历史人物是

- A. 蒙恬
B. 张骞
C. 霍去病
D. 司马迁

17. 东汉初年，社会出现了比较安定的局面，经济得到恢复和发展，历史上把这一时期称为

- A. 休养生息
B. 光武中兴
C. 无为而治
D. 永嘉南渡

18. 东汉年间有童谣讽刺当时的政治黑暗，说到“直如弦，死道边；曲如钩，反封侯”，造成这一历史现象的政治原因是

- A. 外戚宦官交替专权
B. 军阀割据
C. 农民起义不断
D. 自然灾害严重

19. 《伤寒杂病论》奠定了中医学理论基础，对传染病的治疗提出了科学的见解，此书作者是

- A. 扁鹊
B. 张仲景
C. 华佗
D. 孙思邈

20. 《三字经》是中国的传统启蒙教材，其中有“_____，争汉鼎。号三国，迄两晋。宋齐继，梁陈承。”空白处的内容是

- A. 高祖兴
B. 为南朝
C. 魏蜀吴
D. 北元魏

21. 赤壁之战为三国鼎立局面的形成奠定了基础，其作战双方分别是

- A. 袁绍和曹操
B. 刘备和孙权
C. 曹操与孙刘联军
D. 曹操和孙权

22. 有同学在学习历史时搜集到“定都洛阳”“司马炎”“八王之乱”等信息，据此判断他学习的朝代是

- A. 西晋
B. 东晋
C. 前秦
D. 北魏

23. 成语是中华优秀传统文化的组成部分之一。与成语“风声鹤唳”相关的历史事件是

- A. 大泽乡起义
B. 班超经营西域
C. 卫温到达夷洲
D. 淝水之战

24. 南京被称为“六朝古都”。下列政权曾建都于此的有

- ①西周
②东汉
③吴
④东晋

- A. ①②
B. ①③
C. ①④
D. ③④

25. 东晋南朝时期，江南“地广野丰，民勤本业，一岁或稔，则数郡忘饥”，这一时期江南经济得到发展的有利因素有

- ①南方自然条件的优越
②江南地区是全国的经济重心
③南方相对安定少战乱
④北方人口南迁带去先进的生产技术

- A. ①②③
B. ①②④
C. ①③④
D. ②③④

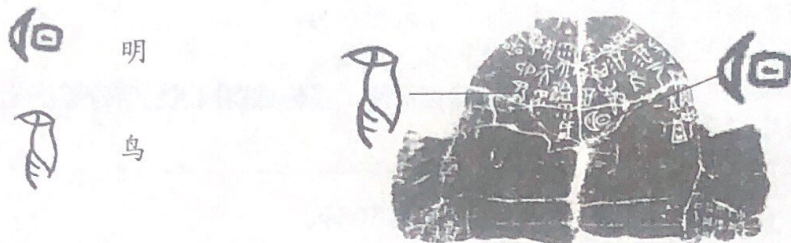


第二部分 材料分析题 (共 50 分)

26. (14 分) 文物中的历史。

甲骨文与商朝历史

材料一 下图所示是出土的商朝刻有文字的甲骨



刻有文字的甲骨


(1) 依据材料说说甲骨文的造字特点。(1 分) 结合所学知识, 说说甲骨文的历史价值。(2 分)

青铜器与西周历史

材料二 克罍 (lei) 是 1986 年在北京房山出土的青铜器。据《史记》记载, 最初周王是将燕国封给召公的, 但召公还要在镐京辅佐周王室。于是, 他的儿子克就代替他成为第一代燕侯。这件青铜器的铭文中记载了这件事, 克罍也由此得名。



克罍 (lei)



克罍 (lei) 铭文拓片

周王说: 太保 (指召公), 你用盟誓和清酒来供你的君王。我非常满意你的供享, 命克 (召公的儿子) 做燕地的君侯, 管理和使用羌等六族。克到达燕地, 接收了土地和管理机构, 为了纪念此事做了这件宝贵的器物。

克罍铭文拓片译文

(2) 根据青铜器“克罍”铭文我们可以了解西周实行了怎样的政治制度? (1 分) 根据这段铭文概括这一制度的主要内容。(2 分)




简牍与秦的历史

材料三 1975年，湖北云梦睡虎地发现了大量的秦简，其中出土了两封秦士兵家信。据考证，这两封家信约写于秦王嬴政二十四（公元前223年）年左右，是我国发现的最早的两封家信。

二月辛巳，黑夫（写信人）、惊（写信人）敢再拜问衷（写信人的哥哥），毋毋恙也？黑夫、惊毋恙也。前日黑夫与惊别，今复会矣……黑夫等直佐淮阳，攻反城久，伤未可知也。

译文：二月辛巳，黑夫和惊再次向哥哥问好，妈妈应该还好吧？我们两个都好。我与惊分别了几日，今天又在一起了……我即将投入到淮阳之战，可能要去一段时间，也不知道会不会受伤呀。



信件内容（节选）

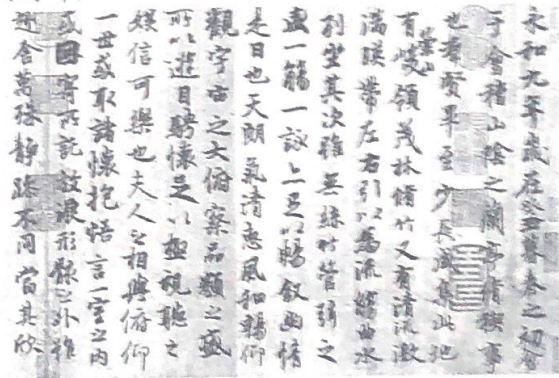
云梦秦简家书

(3) 依据材料并结合所学知识，你认为这两件秦简（木牍）可用于研究什么历史问题？（2分）

书法与东晋历史

材料四 下图是王羲之所书《兰亭集序》摹本（局部）

(4) 请用简洁的语言概括王羲之书法的特点。（1分）分析东晋南朝时期书法艺术发展的原因。（2分）



《兰亭集序》（摹本·局部）

(5) 综合以上材料说说中国古代书写材料的演变过程。（2分）分析书写材料的变化产生的影响。（1分）

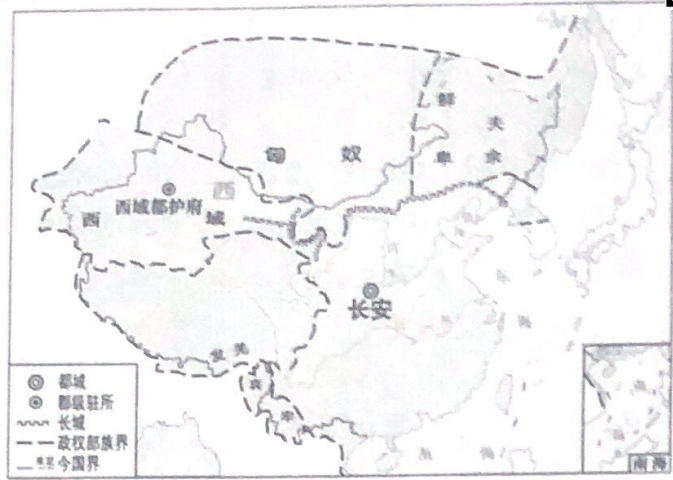


27. (12分) 地图上的历史。

材料一 下面分别是两个朝代的疆域形势图



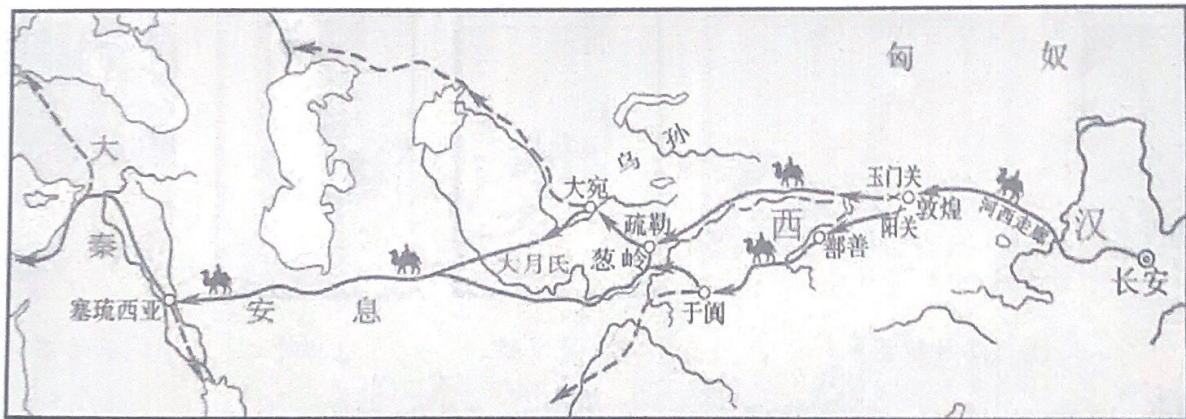
图一



图二

- (1) 分别说出图一图二两个朝代的名称。(2分) 任选其中一个, 简要说明判断理由。(2分)
- (2) 对比图二与图一, 概括这一时期中国疆域发生的变化。(2分)

材料二 下图是汉代丝绸之路示意图



- (3) 观察上图, 说出汉代丝绸之路的主要交通工具。(2分) 将图中丝绸之路的路线用文字表达出来。(2分)
- (4) 结合所学内容谈谈丝绸之路的历史作用。(2分)

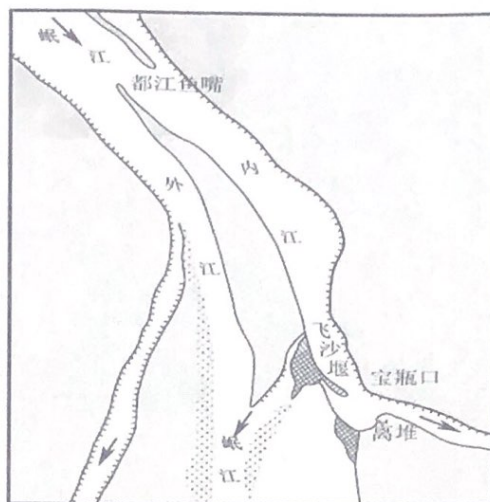


28. (11分) 创新与发展

技术创新

战国后期，李冰主持在成都附近的岷江上修建了都江堰。据《华阳国志·蜀志》记载，都江堰建成后，“水旱从人，不知饥馑。时无荒年，天下谓之‘天府’也”。

- (1) 根据图片和所学知识说出都江堰工程的创新之处。(2分) 结合材料分析这一工程对周边地区的影响。(2分)



都江堰示意图

制度创新

(李斯说)周文、武所封子弟同姓甚众，然后属疏远，相攻击如仇讎(仇人)；诸侯更相诛伐，周天子弗能禁……置诸侯不便。

——《史记·秦始皇本纪》

- (2) 依据材料概括秦实行郡县制的原因。(2分) 结合所学分析秦推行郡县制的影响。(2分)

文化创新



① 《洛神赋图》



② 贾思勰



③ 祖冲之





④ 云冈石窟

- (3) 中国邮政发行了大量历史纪念邮票，弘扬中国优秀的传统文化。请你自选一张邮票，仿照对《云冈石窟》纪念票的解说范例，进行解说。(3分)

示例：④云冈石窟 纪念云冈石窟。云冈石窟主要修建于北魏，石窟里雕刻着数以万计的佛像，继承了秦汉以来雕塑艺术的优良传统，也吸收了外来佛教造型艺术的特点，堪称宏伟精巧的雕刻艺术品。

29. (13分) 中华民族多元一体。

材料一 从春秋到战国，中原各国和相邻的周边各族有了频繁往来和密切的联系，华夏族吸收了周边民族大量新鲜血液，成为更加稳定和分布更广泛的族群。

	<p>左图是历史故事连环画《胡服骑射》，讲的是战国时期赵国赵武灵王的故事。赵武灵王为了改变赵国日渐衰落的状况，改穿胡服，学习骑马射箭，增强了军队的战斗力，使赵国强盛起来。</p>
	<p>中山国是唯一由戎狄(古时对周边民族的称呼)建立的国家。近年在中山国都城，出土了数以万计的青铜器、玉石器、漆器等文物，这些文物游牧民族风格明显，突出了独具特色的游牧民族个性，同时也兼有中原文化的要素。</p>

(1) 根据材料一并结合所学知识，说出春秋战国时期各地区、各族人们加强联系的表现。

(2分) 这些联系产生了怎样的影响？(2分)

材料二 东汉、魏、晋时期，我国北方的游牧民族不断内迁。据西晋的史料记载，内迁的少数民族主动认同中原地区的历史和文化，如鲜卑说自己是黄帝之子的后裔，匈奴的铁弗部自称是大禹的后代。

(2) 结合所学并依据材料，说说东汉、魏、晋时期内迁的主要北方少数民族有哪些？(3分)

这些少数民族认为自己与汉族同祖同宗说明了什么？(2分)

材料三 北方草原的游牧民族是以“食肉饮酪”著称的。乳酪制品是北方草原民族的发明创造。中原上古时代也有“酪”，但是和乳酪不是一回事……随着农耕、游牧两大经济文化区的形成和相互交流的展开，草原牧民的饮食习惯也逐渐传入中原。到了北朝，羊肉乳酪竟然被称之为“中国之味”。

——摘编自李根蟠从《〈齐民要术〉看少数民族对中国科技文化发展的贡献》

(3) 材料三反映了怎样的历史现象？(2分) 从时代背景、中华民族的发展等角度谈谈你对“中国之味”的理解。(2分)

