



考生须知

1. 本试卷共 10 页，分为两部分。第一部分选择题，34 个小题，51 分；第二部分非选择题，4 道题，49 分。
2. 请将条形码粘贴在答题卡相应位置处。
3. 试卷所有答案必须填涂或书写在答题卡上，在试卷上作答无效。请使用 2B 铅笔填涂，用黑色字迹签字笔或钢笔作答。
4. 考试时间 90 分钟，试卷满分 100 分。

第一部分 选择题 (共 51 分)

本大题 34 个小题，每小题 1.5 分，共 51 分。在每小题列出的四个选项中，只有一项最符合题目要求，请将该选项前的字母代号填涂在答题卡上。

1. 迄今已知世界上第一部较为完整的成文法典——《汉谟拉比法典》出自

- A. 古埃及 B. 古印度 C. 古巴比伦 D. 古代中国

2. 右图为古代印度一项制度规定的四个等级，各个等级之间高低贵贱有别，下一等级的人没有资格从事高等级的职业，不同等级的人不得通婚。这一制度是

- A. 分封制度 B. 种姓制度
C. 领主制度 D. 专制制度



3. 他曾经说“我们的‘政府形式’之所以称为民主制，是因为权力不掌握在少数人手里，而是由全体人民掌握。”这位把雅典的奴隶制民主政治发展到高峰的人物是

- A. 伯里克利 B. 亚历山大 C. 屋大维 D. 克洛维

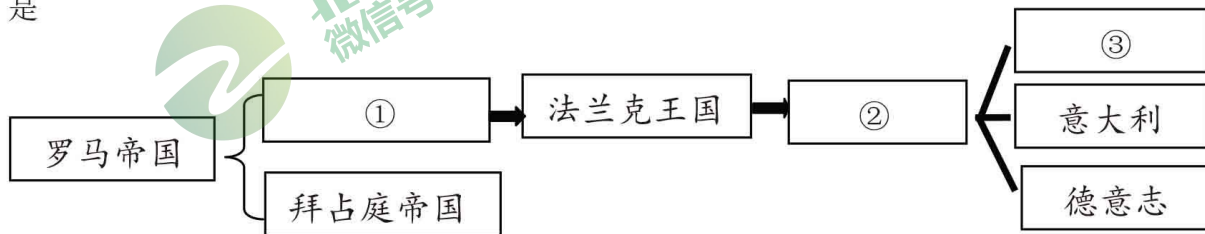
4. 地跨欧、亚、非三洲，在公元 2 世纪，使地中海成为它的内湖的帝国是

- A. 波斯帝国 B. 罗马帝国 C. 阿拉伯帝国 D. 亚历山大帝国

5. “我的附庸的附庸，不是我的附庸。”这条谚语流行于

- A. 古代希腊 B. 中世纪的欧洲 C. 古代日本 D. 近代俄国

6. 下面是某同学制作的有关欧洲国家演变的思维导图，下列选项序号与国家或王朝对应正确的是

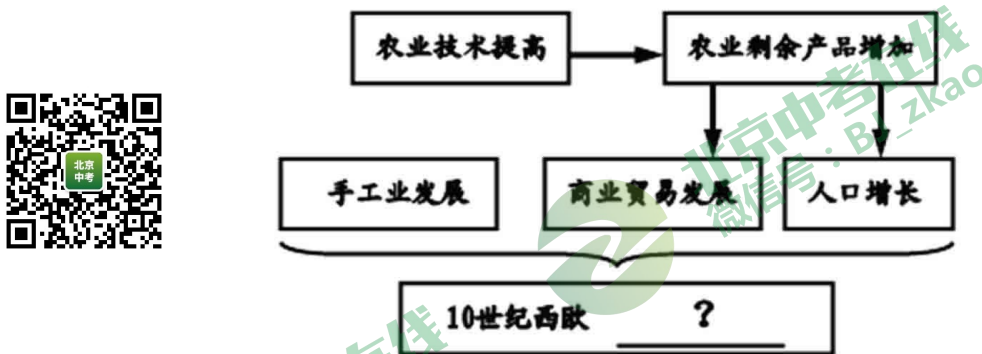


- A. ①西罗马帝国②波斯帝国③英格兰 B. ①亚历山大帝国②阿拉伯帝国③荷兰
C. ①西罗马帝国②查理曼帝国③法兰西 D. ①阿拉伯帝国②德意志帝国③波斯帝国

7. 随着中西文化碰撞的不断加强，许多西方节日传入中国，如“圣诞节”、“母亲节”、“感恩节”等，其中“圣诞节”与下列哪一宗教有关？

- A. 道教 B. 佛教 C. 基督教 D. 伊斯兰教

8. 在西欧，庄园为领主提供日常消费的面粉、奶酪、火腿、蔬菜等食物，也为领主提供衣物、鞋帽等。庄园有铁匠、金银匠、皮鞋匠、面包师等各色工匠制造不同的物品。这说明西欧庄园
- A. 是地方经济的中心
B. 具有地方管理功能
C. 是独立的政治单位
D. 具有自给自足特征
9. 制作知识结构图是学习历史的一种方法。下图“？”处应该填写



- A. 农业的发展
B. 庄园的发展
C. 城市的兴起
D. 教育的普及
10. 随着城市的发展和工商业的繁荣，逐渐形成了
- A. 农民阶层
B. 地主阶层
C. 无产阶级
D. 市民阶层
11. 被誉为欧洲中世纪教育“最美好的花朵”的是
- A. 教会
B. 大学
C. 庄园
D. 行会
12. 公元6世纪前期，东罗马帝国组建了一个法典编纂委员会，收集自2世纪初以来历任罗马皇帝颁布的法令，剔除其中相互矛盾的条例，编成了一部法律文献。其名称为
- A. 《新法典》
B. 《拿破仑法典》
C. 《汉谟拉比法典》
D. 《查士丁尼法典》
13. 7世纪中叶，日本发生了一场以学习和模仿中国隋唐经济和政治制度为主要内容的改革，它使日本从奴隶社会走向封建社会。这场改革是
- A. 大化改新
B. 彼得一世改革
C. 明治维新
D. 亚历山大二世改革
14. 中世纪时，“重大的宗教改革是一种新宗教的产生，该宗教产生后不久，便冲出阿拉伯半岛，影响遍及欧亚大陆和非洲的广大地区”。这一“新宗教”是指
- A. 佛教
B. 犹太教
C. 基督教
D. 伊斯兰教
15. 据统计，16世纪，英国一些富裕农民从贵族手中承租大片土地，再雇工经营，其收入达到土地租金的10倍。大约同时期的中国，地主雇工经营所得收入不足以超过地租收入，甚至不如地租收益。较之于中国，当时的英国更易于
- A. 稳定农村社会的阶级结构
B. 迅速平衡城乡人口的分布
C. 推广租地农场的经营方式
D. 抑制农村社会的贫富分化
16. 目录是一本书的索引，是全书内容的提纲挈领。从目录中我们可以提取许多历史信息。读下图，你认为第五单元的目录应该是

第五单元

第13课 西欧经济和社会的发展

第14课 文艺复兴运动

第15课 探寻新航路

第16课 早期殖民掠夺


A. 走向近代

B. 资本主义制度的扩展

C. 封建时代的欧洲

D. 资本主义制度的初步确立

17. 下列艺术作品共同反映的核心思想是



但丁的《神曲》

莎士比亚的《哈姆雷特》

A. 禁欲主义

B. 人文主义

C. 理性主义

D. 浪漫主义

18. 在历史活动课上，同学们针对文艺复兴运动的实质展开讨论，最后认定其实质就体现在“兴”上。“兴”的含义是指

A. 封建文化的兴起

B. 基督教文化的复兴

C. 资产阶级文化的兴起

D. 古代希腊、罗马文化的复兴

19. 在探寻新航路的过程中，发现美洲的航海家是

A. 迪亚士

B. 麦哲伦

C. 哥伦布

D. 达·伽马

20. 《大国崛起》解说词中说到：“公元 1500 年前后的地理大发现，拉开了不同国家相互对话和相互竞争的历史大幕。”“地理大发现”的影响是

A. 加强了各大洲之间的联系

B. 促进了欧洲工商业的发展

C. 贸易中心转移到了美洲

D. 促进了欧洲文化思想的繁荣

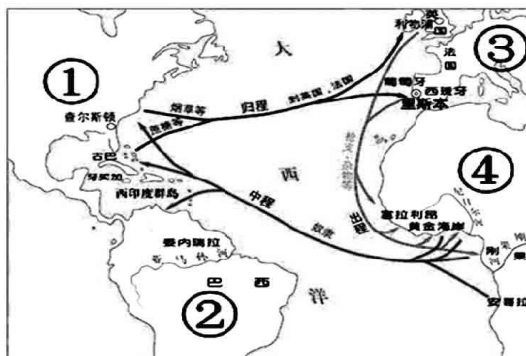
21. 右图为“三角贸易”示意图。图中数字代表“三角贸易”经过的四个洲。在三角贸易中，获得惊人财富的和丧失大量人口的洲分别是

A. ①②

B. ③④

C. ③②

D. ①④



22. 1640 年，在英国议会上，议员们对国王的独断专权进行了猛烈的抨击，要求限制国王的权力。这一斗争

A. 确立了君主立宪制

B. 体现了三权分立的原则

C. 承认了美国的独立

D. 掀开资产阶级革命序幕

23. 英国资产阶级革命中被送上断头台的是
A. 查理一世 B. 詹姆士一世 C. 克伦威尔 D. 查理二世
24. “战争中的第一人，和平中的第一人，他的同胞心中的第一人”，这是美国独立战争时期一位老兵对华盛顿的评价，下列哪一项不属于华盛顿的功绩
A. 推翻了英国殖民统治 B. 领导美国走上资本主义道路
C. 废除了黑人奴隶制度 D. 开创了美国民主政治的先河
25. “每年的 7 月 14 日，法国政府不惜巨资，置办国庆典礼，举行阅兵仪式，发表纪念讲话。白天人们载歌载舞，夜晚欢呼狂欢。可以说，有关法兰西共和国的一切源头，都可以追溯到这里。”法国“置办国庆典礼”是为了纪念
A. 巴黎民众攻占巴士底狱 B. 拿破仑击退欧洲反法联盟
C. 巴黎民众处死路易十六 D. 拿破仑建立法兰西第一帝国
26. 陈衡哲在《西洋史》中肯定“拿破仑对内的建设，有些是有永久的价值的，而其中尤以拿破仑法典的影响最为远大”。作者认为法典影响远大的主要原因是
A. 奠定法国在欧洲大陆主导地位 B. 以法律形式明确约束国王权力
C. 确认资产阶级民法的基本原则 D. 强化监督职能以维护共和政体
27. 历史事实指的是历史的真实情况，历史观点是分析历史事实的看法和状态。下列选项中属于历史观点的是

- A. 华盛顿参与制定美国 1787 年宪法
B. 1799 年 11 月 9 日，拿破仑发动“雾月政变”
C. 来克星顿的枪声打响美国独立战争的第一枪
D. 马克思认为，英国革命是一场“欧洲范围的革命”

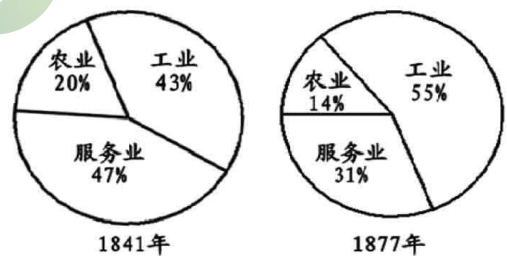


28. 以下事件按时间先后顺序排序，正确的是

- ①拿破仑帝国的建立 ②“光荣革命”
③《独立宣言》的发表 ④波士顿倾茶事件
A. ②①③④ B. ③①②④
C. ②④③① D. ①②③④

29. 导致右图中各行业比重变化的主要原因是


- A. 殖民扩张
B. 工业革命
C. 新航路的开辟
D. 资产阶级革命



30. 下列各项中，哪一项与瓦特无关




A. 珍妮纺纱机



B. 火车机车



C. 改良蒸汽机



D. 蒸汽轮船

31. 据国家统计局 2019 年底发布的资料显示：2019 年我国高铁总里程将突破 3.5 万公里，其中新增高铁运营里程达 5000 多公里。目前，我国成为全球高速铁路系统技术最全、集成能力

最强、运营里程最长、运行速度最高、在建规模最大的国家。铁路最早诞生于

- A. “电气时代”
- B. “蒸汽时代”
- C. 新航路开辟期间
- D. 第三次科技革命

32. 下图为国际社会主义运动整体发展趋势示意图，其中①处对应的历史事件是



- A. 法国巴黎公社
- B. 欧洲工人队伍的壮大
- C. 英国宪章运动
- D. 《共产党宣言》发表

33. 某历史研究小组的同学收集了“文艺复兴与新航路的开辟”、“法国大革命”、“美国的独立”、“英国的新生”等相关资料，你认为他要研究的课题最有可能的是

- A. “蒸汽时代”
- B. 欧美国家的巨变
- C. 城市化进程
- D. 社会生活的变迁

34. 下列对应关系错误的一项是

- A. 麦哲伦及其船队——第一次完成环球航行
- B. 古希腊——《荷马史诗》
- C. 萨拉托加大捷——美国独立战争的转折点
- D. 达·芬奇——《罗密欧与朱丽叶》



第二部分 非选择题 (共 49 分)

35. (13 分) 人类文明是多样的，人类社会的发展与进步，离不开文明的融合与交流。

材料一



古代亚非文明示意图

(1) 识读《古代亚非文明示意图》，依次写出 A、B、C、D 所代表的亚非文明古国的名称，(4 分) 并写出位于非洲的一项文明成果。(1 分)

材料二

<p>公元前 4 世纪，……建立了一个空前庞大的帝国，其版图西起希腊，东到印度河流域，北抵中亚，南达埃及，地跨欧、亚、非三洲。 ——义务教育教科书《世界历史·九年级上册》</p>	<p>丝绸之路开通后，中国的丝绸和养蚕技术、铁器、造纸术等都陆续西传，中亚的特产如胡桃、石榴、芝麻、胡豆等也先后传到中国。大宛的“汗血马”、非洲的鸵鸟以及西方的宝石、香料等也由西域等国贡献而来。 ——赵毅、赵轶峰《中国古代史》</p>
---	---

(2) 材料二中“公元前 4 世纪”建立“帝国”的人是谁？（1 分）为丝绸之路的开通奠定基础的人是谁？（1 分）分析这两个事件在历史上发挥的共同作用是什么？（1 分）

材料三 鉴真东渡的主要目的是弘化佛法、传授戒律。鉴真在双目失明的情况下，以他惊人的记忆力纠正日本佛经中的错漏，……鉴真的东渡弟子及随行人员中有不少是精通建筑技术的，在鉴真的设计及领导下，建造了著名的唐招提寺。……鉴真及其弟子在雕塑艺术上也留下了宝贵的遗产。……鉴真随船带到日本的，还有绣像、画像、书帖等，其中，有王羲之父子的真迹，后来成为日本书法的准绳，鉴真对医药学很有研究，在日本医学界是位备受尊敬的先师。十七十八世纪时，日本药店的药袋上还印着鉴真的图像，可见，其影响之深。

——白寿彝总主编《中国通史》第六卷

(3) 依据材料三，概括鉴真在中日文化交流中的重要贡献。（2 分）

材料四 “……这是预兆资产阶级社会到来的三大发明。……①把骑士阶层炸得粉碎……②打开了世界市场并建立了殖民地……③却变为新教的工具，并且一般地说变为科学复兴的手段，变成创新精神发展的必要前提的最重要的推动力。”

——卡尔·马克思

(4) 依据材料四，将三大发明图片相对应的文字部分的序号填写在表格中（3 分）

三大发明			 
------	---	---	--

36. (12 分) 思想文化是人类历史的重要组成部分，在人类历史发展进程中发挥巨大的作用。

材料一 从孔、墨开始，中国的学术思想空前活跃，思想文化异彩纷呈，群星璀璨，人才济济，史称百家争鸣的时代。这一时代和印度的佛陀时代，希腊的苏格拉底时代正好相当，有人把世界史上的这一时代称之为“轴心时期”，是人类精神的大觉醒时期。也就是说，人类经过长期的进化，这时的思想意识发生了质的飞跃，其具体内容为：一、人类对自身与外界

关系，也就是与自然的关系上有了全新的认识；二、从而人在对自己的认识上，也有了全新的认识。但是，由于历史环境的不同，这三大文明对有关问题的回答却并不相同，因而也形成了不同文明的不同文化传统。

——摘自马克垚主编的《世界文明史》

(1) 材料一中的“孔”指的是谁？(1分) 他所创立学派的思想核心是什么？(1分) 指出苏格拉底的研究内容属于材料中的哪一点？(1分)

材料二 唐代社会风尚受到“胡风”的强烈影响，当时的艺术作品也表现出对于外来事物的浓烈兴趣。唐诗和唐画都因此体现出宏大辉煌的盛唐气象。唐代传入的印度、阿拉伯和拜占庭包括天文学、数学、建筑学等方面的科学知识，丰富了唐文化的内涵。事实上可以说，中国古代盛世的成功，往往都有吸收外来文明因素的作用。也正是由于宽宏开放的对待外来文化的态度，成就了中国文化的繁荣。

——张岂之《中国历史十五讲》

(2) 依据材料二，概括唐朝吸收了哪些外来文化？(2分) 结合所学，分析出现盛唐气象的原因(2分)

材料三 我们革命的目的，是为众生谋幸福，因不愿少数满洲人专制，故要民族革命；不愿君主一人专制，故要政治革命；不愿少数富人专制，故要社会革命。这三样有一样做不到，也不是我们的本意，达到这三样目的之后，我们中国当成为至完美的国家。

——孙中山

(3) 依据材料三，结合所学，说出孙中山领导辛亥革命的指导思想是什么？(1分)

材料四

	相关事件	意义(影响)
	文艺复兴	①
	②	动摇了封建道德礼教的统治地位，使中国人民接受了一次民主与科学的洗礼，为随后爆发的五四运动起了思想宣传和铺垫的作用，促进了中国人民特别是青年知识分子的觉醒，为马克思主义在中国的传播创造了条件。

(4) 请将上面表格空白处补充完整。(2分)

材料五 在马克思主义的工农联盟思想中，工人阶级既是领导者，又是主力军，而农民只能作为工人阶级的同盟军和后备军，配合无产阶级开展斗争。毛泽东运用马克思主义阶级分析

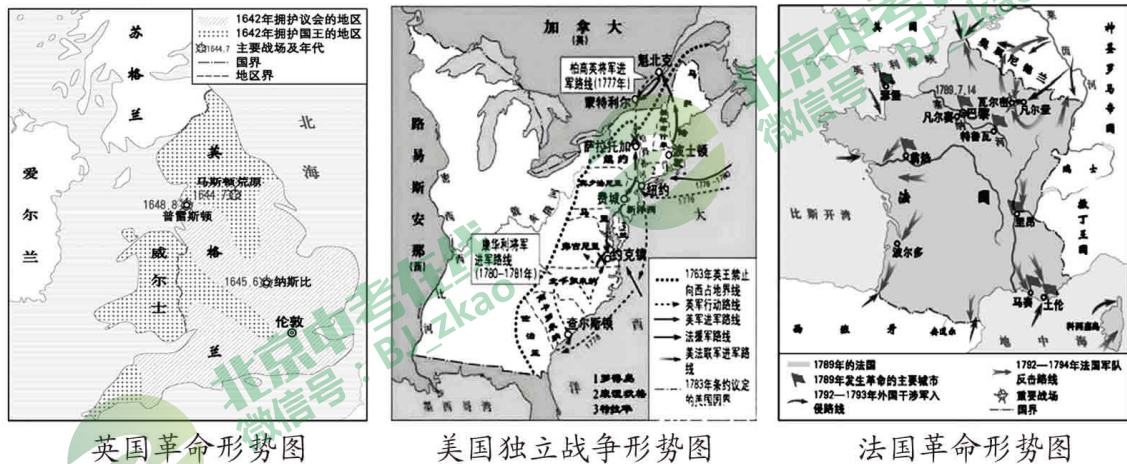
的方法，从中国实际出发，对农民作了深入、具体的分析，得出结论认为，中国农民是革命的动力和无产阶级同盟军，贫农“是中国革命的最广大的动力，是中国革命队伍的主力军。”

——摘编自毛军吉、杨戩《论农民的主力军作用与无产阶级领导权的关系》

(5) 依据材料五，指出毛泽东对马克思主义的创新和发展之处。(1分)并结合所学知识，说明毛泽东在新民主主义革命中是如何实践这一“创新和发展”的。(1分)

37. (12分) 17、18世纪，资产阶级革命的时代来临。

材料一



(1) 结合所学知识，指出材料一中的资产阶级革命战争爆发的共同原因是什么？(1分)分析三国的革命对象有何不同？(2分)

材料二 英国资产阶级革命建立了一个合适的政治制度，这个制度保障社会有宽松平和的环境，让人们追求个人的目标。……英国人在政治制度方面的重大创新，使后来西方各国在步入民主政治的行列之时，都自觉或不自觉地以英国为榜样。

——唐晋主编《大国崛起》

(2) 依据材料二，结合所学，指出英国创设的“政治制度”是什么？(1分)它是通过哪一文献确立的？(1分)

材料三



美国政权结构示意图

(3) 材料三图中所反映的政治制度开始于美国哪一部文献的制定？(1分)该文献的制定遵循的原则是什么？(1分)

材料四 下面是《人权宣言》的部分引文

国民议会在主面前并在他的庇护之下确认并宣布下述的人与公民的权利：

第一条 在权利方面，人们生来是而且始终是自由平等的，只有在公共利用上面才显出社会上的差别。

第二条 任何政治结合的目的都在于保存人的自然的和不可动摇的权利，这些权利就是自由、财产、安全和反抗压迫。

第三条 整个主权的本原主要是寄托于国民。……

第六条 法律是公共意志的表现……在法律面前所有的公民都是平等的……除德行和才能上的差别外不得有其他差别……

(4) 依据材料四，并结合所学，说出《人权宣言》是哪个国家的法律文件？（1分）概括《人权宣言》的所体现的主要思想？（2分）

(5) 西方的民主制度对中国近代的制度探索提供了借鉴，请举例说明。（2分）

38. (12分) 社会进步离不开经济的发展，而经济发展往往要依赖诸多因素的推动。

材料一



图一 铁犁铧



图二 穿有鼻环的牛尊

(1) 依据材料一，并结合所学，指出铁农具和牛耕在我国哪个时期已经开始出现？（1分）铁农具和牛耕的出现对社会产生了什么影响？（2分）

材料二 从公元5世纪到12世纪，基督教会西欧确立了统治地位，封建制度下的西欧分裂割据严重，与这段时间相对应的是中国的隋唐宋时期，中国科学技术达到了前所未有的高度，在世界上处于领先地位。

——摘编自史钟文《世界中世纪科技史》

(2) 依据材料二，列举一项这一时期中国的农业科技发明。（1分）

材料三 在近代，手工工场的工匠对英国工业革命也起了很大的作用。英国工业革命兴起于棉纺织业，其中许多发明都出自一些不具备科学理论知识的工匠之手。织工兼机械工凯伊发明了了织布用的飞梭，使织布速度提高一倍；织布工哈格里夫斯发明了能提高数倍效率的珍妮纺纱机。手工工场内细致的劳动分工，每个人专门从事一种简单的机械工作，使工匠的劳动获得技术上和操作上的日益完善和熟练，这为他们发明和使用机器奠定了基础。

——据孙守春、关连芳、张淑芳《科技史概论》等

(3) 依据材料三，分析手工工场的工匠对英国工业革命起到了怎样的作用？（2分）



材料四 英国是最早发生工业革命的国家，到 19 世纪中叶，它已经发展成为“世界工厂”，它的工业产品在世界大多数国家畅销；英国在西欧列强中拥有的殖民地最多……有“日不落帝国”之称。可以说，这时期已经形成了以英国为中心的世界市场。

——吴于廑 齐世荣《世界史·近代史编上卷》

(4) 依据材料四，指出 19 世纪中期“形成了以英国为核心的世界市场”的原因。(2 分)

材料五

(一)	 <p>1790—1850 年英国煤产量增长图</p>
(二)	<p>随着工业革命的展开和工厂制度的建立，大量人口涌入新的工业中心……世界各地的城市以极快的速度发展……城市人口已达 4.15 亿，占人类总人口的五分之一。</p> <p>——(美)斯塔夫里阿诺斯著，吴象婴等译《全球通史》</p>
(三)	<p>新生的工业把中等阶级中的劳动分子变成工人无产者，把从前的大商人变成了厂主；它排挤了小资产阶级，并把民间的一切差别化为工人和资本家之间的对立。</p> <p>——(德)恩格斯著，中共中央马恩列斯著作编译局编译《英国工人阶级状况》</p>
(四)	<div style="display: flex; justify-content: space-around;"> <div data-bbox="555 1303 1002 1639">  <p>工业繁盛的英国曼彻斯特</p> </div> <div data-bbox="1034 1303 1481 1639">  <p>蒸汽时代的英国矿山</p> </div> </div>

(5) 依据材料五，并结合所学，分析工业革命产生的影响？(3 分) 针对(四)图中带来的问题，为实现当前提倡的低碳节能减排目标，请你提出一条可行性建议。(1 分)