



# 通州区 2022—2023 学年第二学期七年级期末质量检测

## 历史试卷

2023 年 6 月

学校 \_\_\_\_\_ 班级 \_\_\_\_\_ 姓名 \_\_\_\_\_

考  
生  
须  
知

1. 本试卷共 8 页，共两部分，24 道小题。满分为 70 分。考试时长为 70 分钟。
2. 请在试卷和答题卡（纸）上准确填写学校、班级、姓名。
3. 试题答案一律书写在答题卡（纸）上，在试卷上作答无效。
4. 在答题卡上，选择题用 2B 铅笔作答，其他试题用黑色字迹签字笔作答。
5. 考试结束后，请将答题卡交回。

### 第一部分 选择题（共 30 分）

本部分共 20 小题，每小题 1.5 分，共 30 分。在每小题列出的四个选项中，选出最符合题目要求的一项。

1. 隋朝在中国历史上的地位举足轻重，不仅终前世之乱，而且开万世之先河，以下史实能说明这一观点的是

- ①结束分裂，完成统一 ②开创科举取士制度 ③开通大运河 ④施行暴政短暂而亡

A. ①②③                      B. ②③④                      C. ①②④                      D. ①③④

2. 下列经典语句共同反映的治国理念是

“善任者赏，不善者责，此用人之大端也。”

“用人唯才，胜任即用，勿设偏私。”

A. 知人善任                      B. 善于纳谏                      C. 重视农业                      D. 勤俭治国

3. 唐朝盛世，人们的精神生活非常丰富，以下图片能体现这一观点的是



- ①唐代会盟碑拓片（局部） ②弈棋仕女图 ③吹排箫乐伎壁画 ④雨中耕作图

A. ①②                                      B. ②③                                      C. ②④                                      D. ③④



4. 右侧历史地图反映的历史事件是

- A. 鉴真东渡
- B. 玄奘西行
- C. 遣唐使来华
- D. 郑和下西洋



5. 杜甫在《垂老别》中写道：“万国尽征戍，烽火被冈峦。积尸草木腥，流血川原丹。”这反映了唐朝

- A. 兴盛的原因
- B. 繁荣的景象
- C. 衰败的表现
- D. 灭亡的影响

6. 在北宋最高军事机构枢密院存在的 167 年间，文官独自任正职 91 年，与武将并任正职 16 年，这说明北宋

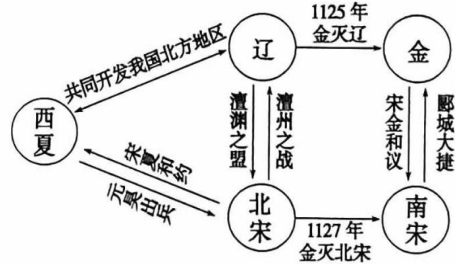
- A. 与辽保持长期的和平
- B. 提高了军队的战斗力
- C. 实行重文轻武的政策
- D. 改革和发展教育制度

7. 某本书的目录中有以下几个章节：贡举程序、科目与考试内容的演变、防弊措施不断加严等，这几章内容反映的主题是

- A. 南方经济的发展
- B. 科举制度的发展
- C. 政治制度的变革
- D. 科学技术的发达

8. 右侧思维导图反映的主题是

- A. 宋与西夏边界贸易兴旺
- B. 各民族政权并立与交流
- C. 城市市民生活丰富多彩
- D. 人口迁徙促进社会发展



9. 下表内容为中国古代一位历史人物的生平事迹（部分），对此人物补充说明正确的是

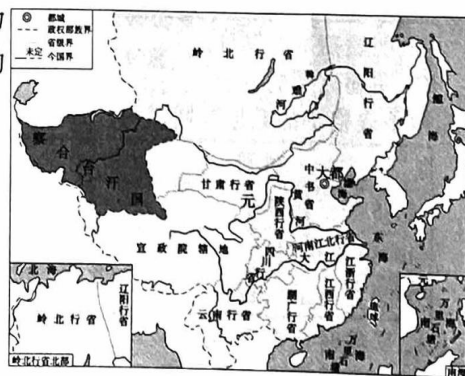
1260 年	1271 年	1272 年	1276 年
继承汗位	改国号为元	定都于大都（今北京）	攻入南宋都城临安

- A. 创制西夏文字
- B. 率军灭亡西夏
- C. 完成全国统一
- D. 建立蒙古政权

10. 右侧反映的是我国古代某一历史时期的地图。为了加强对边疆地区的有效管辖，这一时期采取的措施有

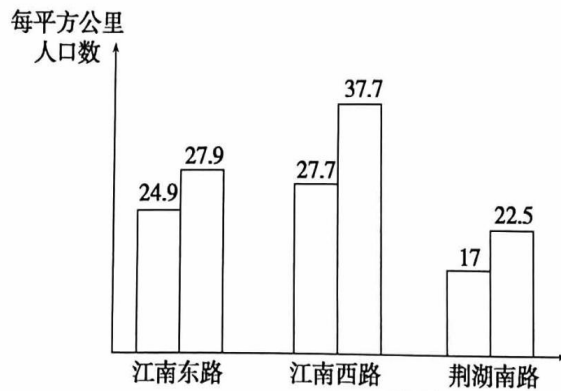
- ① 北方边境地区修筑长城
- ② 由宣政院管理西藏地区
- ③ 设置西域都护府管理西域
- ④ 设立澎湖巡检司管理琉球

- A. ①②
- B. ②③
- C. ②④
- D. ③④





11. 以下《两宋时期（1102—1223年）南方人口密度变化图》直接反映出



- A. 江南地区开发  
B. 经济重心南移  
C. 海外贸易发展  
D. 农业技术发展
12. 《东京梦华录》记载开封城汴河“近桥两岸皆石壁，雕镂海马、水兽、飞云之状”。2022年中国十大考古发现之一的河南开封州桥及附近汴河遗址，发现河道两岸刻有海马、瑞兽、祥云等宋代石刻壁画。这表明
- ①考古发现可以证实文献记载  
②《东京梦华录》的记载都真实可信  
③北宋时期开封文化艺术兴盛  
④北宋与辽、西夏保持了友好的关系
- A. ①②  
B. ①③  
C. ②④  
D. ③④
13. 历史解释是对史实进行理性分析和客观评判，下列关于宋元时期的表述中属于历史解释的是
- A. 960年赵匡胤发动兵变以后夺取了后周政权  
B. 南宋初年，岳飞等将领抗金收复了许多失地  
C. 1206年铁木真完成蒙古草原统一并建立政权  
D. 辛弃疾的词作提高了宋词在文学史上的地位
14. 阅读史书是研究历史问题的重要途径。以下两部著作可以共同研究

<p>马欢《瀛涯胜览》</p> <p>马欢，曾跟随郑和出使，将下西洋时亲身经历国家的情况记录下来。</p>	<p>戚继光《纪效新书》</p> <p>全书涵盖了兵员选拔、训练、武器、阵法、律令、行营、兵法等多个方面。</p>

- A. 明朝前期的制度  
B. 明朝的对外关系  
C. 明朝后期的科技  
D. 明朝的文学艺术
15. 以下表格中的数据共同说明

时间	成就
1685年—1799年	全国共有耕地由约6亿亩增长到约为10.5亿亩
1684—1760年	全国瓷器景德镇平均年产量为25万担，比前代增加了39%
1700年前后—1794年	人口从约1.5亿增加到约3.13亿，占全世界9亿人口的1/3

- A. 明朝时期农业的发展  
B. 明朝时期制度的改革  
C. 清朝前期经济的兴盛  
D. 清朝前期商业的发展



16. 康熙时期，设立了南书房，直接为皇帝草拟谕旨和处理奏章；雍正年间，设立军机处由皇帝选派亲信大臣组成，军机大臣照皇帝的旨意拟写成文，经皇帝同意后传达给中央各部和地方机构去执行。这说明了清朝
- A. 君主专制进一步强化  
B. 文化专制政策的推行  
C. 社会矛盾不断加剧  
D. 官场之风日益腐败
17. 在中国古代历史上，清朝是我国统一多民族国家进一步巩固和发展的关键时期，以下图片与清朝加强对西藏地区的管辖相关的是



①班禅金印

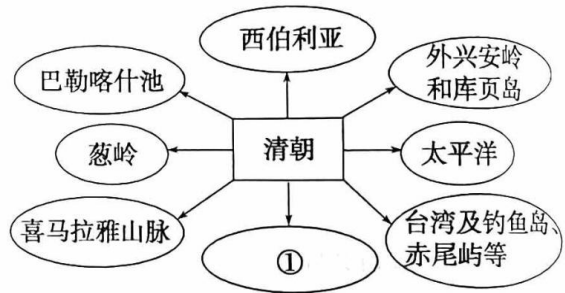


②清军平定大、小和卓叛乱图



③金奔巴瓶

18. 右示意图中①处应填
- A. 乌里雅苏台  
B. 黑龙江  
C. 南海诸岛  
D. 伊犁



19. 以下史实的共同点是




1662年，郑成功打败荷兰殖民者，被占据了38年的台湾，重新回到祖国的怀抱。	1684年，清朝设置台湾府，隶属福建省，1885年，台湾正式建省，成为中国的一个行省。
--	---

- A. 都维护了祖国的统一  
B. 都打败了外国殖民者  
C. 都加强了民族的团结  
D. 都促进了文化的繁荣
20. 1757年，清政府下令关闭了其他港口，只开放广州一处作为对外通商口岸，并规定由朝廷特许的“广州十三行”统一经营对外贸易，负责承销外商进口货物。这反映了清朝的
- A. 对外开放  
B. 固步自封  
C. 文化专制  
D. 军事腐败



## 第二部分 材料分析题 (共 40 分)

21. (10 分) 中国古代传统节日  
材料一

①		<p>唐代敦煌壁画《舞乐图》</p> <p>描绘了盛唐宫廷夜宴歌舞升平的热闹景象，其中乐队演奏来自中原和从西域、外国传入的各种打击、吹奏和弹拨乐器。据推测，这种燃灯万盏的场景可能发生在元宵节。</p>
②		<p>唐玄宗时官修《大唐六典》</p> <p>唐令规定元旦、冬至休假七日，清明休假四日，八月十五日休假三日，五月五日休假一日。此外，规定了诸王节日食料，五月五日为粽。</p>
③		<p>唐代李昭道绘《龙舟竞渡图》</p> <p>此画中的人小如豆却清晰可辨，生动有趣。所绘龙舟亦生动可掬，灵动飘逸。通过画中所描绘的建筑判断，画中情景当为宫廷中欢度端午的场面。</p>

(1) 材料一中能反映“唐朝民族交融与中外交往”的是\_\_\_\_\_。(1分，写序号) 概括唐代传统节日的特点。(2分)

材料二 宋代是我国节日发展史上的重要时期，新年、清明等传统节日继续保持活力，新兴的节日不断涌现。除了皇亲国戚、王公贵族，社会每个阶层包括妇女都积极投入到节日活动中。他们特别注重节日生活的享受和娱乐，最突出的表现是节日期间的游戏、出游、宴饮、观看表演等。与前代相比，这些节日活动一部分是在家庭中进行，而街巷、园囿、河湖、寺庙、大户府邸等也成为民众的重要活动空间，使得节日规模更加盛大。

——摘编自毛晓帅《宋代城市节日风俗的文献考察》

(2) 依据材料二写出宋代节日活动的变化，并结合所学分析产生变化的原因。(4分)

材料三 明清江南节日消费情况表 (节选)

春节	餐饮	年夜饭、年糕、春饼
	杂项	压岁钱、年画、门神、对联、鞭炮烟火
	休闲娱乐	买花灯、听戏曲
清明节	祭祀	烧纸
端午节	购物	服装、五色丝线等装饰物
	休闲娱乐	划龙舟
	餐饮	粽子、石首鱼
中秋节	餐饮	月饼

——摘编自宋立中《论明清江南节日消费及其经济文化意义》

(3) 依据材料三，概括明清江南节日消费的表现。并结合所学分析其影响。(3分)





22. (11分) 中国古代邮驿事业的发展

材料一 唐朝时以首都长安为中心，有七条重要的放射状的驿道，通往全国各地。唐朝的国际交往线有七条，通过这些水陆通道，可通往朝鲜、日本、中亚、印度和东南亚各国。隋唐时期从中央发至各地和由各地送达中央的官方文书中，仅各州送到中央的统计材料，每年即达 50 万张。唐朝政府规定，六部中的兵部下设的驾部郎中，专管国家的驾輿和驿传之事，同时全国各地的邮驿机构，各有不等的驿产，以保证邮驿活动的正常开支。

——摘编自臧嵘《中国古代驿站与邮传》

(1) 依据材料一概括唐朝邮驿事业发展的表现，并结合所学分析其发展的原因。(4分)

材料二

 <p>① 《梦溪笔谈》</p>	 <p>② 鸡鸣驿遗址</p>
<p>记载(译文): 北宋神宗熙宁年间, 朝廷设立了一种金字牌急递铺, 专门服务于军事, 主要用来递转皇帝所下达的紧急军务。据说其传递速度可以达到一天五百里, 北宋与西夏的战争, 也曾利用过急递铺传送紧急的军事文书。</p>	<p>鸡鸣驿城, 位于河北省张家口市鸡鸣驿村, 始建于元代, 在明代进行扩建, 是中国邮传、军驿的宝贵遗存, 是全国现存最大、功能最齐全的古驿站。</p>

(2) 以上属于实物史料的是 \_\_\_\_\_, 属于文献史料的是 \_\_\_\_\_。(2分, 填序号) 依据材料二写出宋代急递铺的功能, 并结合所学分析其产生的背景。(2分)

材料三 元代对驿道、驿站非常重视, 驿站通过驿传来传递消息与文书, 以方便政府部门在政治、军事等方面的调度。同时, 驿站需要具有车辆、马匹等“一应俱全的器具”来保证货物的安全、快捷运输, 在元代商业活动中也发挥着极大的作用, 成为商贾进行交易集散之处。元代驿站对商旅、驿卒和普通人等都提供了交通和住宿方面的帮助。例如, 江南的隆安驿、帐安驿等地, 是驿站客站设置的典范之一, 那里提供各种交通和生活服务。元代驿站一般都设在交通畅通或集市繁荣的地方, 在目标地域设有巡哨或哨警, 防止不法之徒的侵袭, 并维护驿路安装的设备。

——摘编自姜贵民等《元代驿道研究》

(3) 依据材料三分析元代驿站的作用。(3分)



23. (9分) 中国古代部分领域成就汇总

时期	成就
唐朝	发明并推广了曲辕犁和筒车
	政府在全国各地修建了很多水利工程
	诗坛气象万千，名家辈出
宋元时期	毕昇发明了活字印刷术，后传入亚洲、欧洲
	指南针广泛应用于航海，经阿拉伯人传入欧洲
	宋代使用一种拔秧工具——秧马
	宋词风格多样，内容广泛，词人层出不穷
	火药武器广泛运用于战争。后来火药和火器传入欧洲
	关汉卿创作了元代杂剧
明清	明朝先后 18 次修筑长城
	李时珍编写出 ①
	宋应星编写了 ②
	徐光启编写了 ③
	四大名著诞生
	清代大面积推广了玉米、甘薯等高产作物
	清代，在承德仿建了班禅在西藏的住所
	清代中期，京剧成为最主要的剧种

(1) 将以下内容填入表中恰当位置。(3分)

- A. 《天工开物》      B. 《农政全书》      C. 《本草纲目》

① \_\_\_\_\_ ② \_\_\_\_\_ ③ \_\_\_\_\_

(2) 选择材料中两个或两个以上相互关联的史实，结合所学提炼一个观点或主题，加以说明。(要求：观点或主题正确，史论结合，条理清楚，6分。)

24. (10分) 北京的地铁站名蕴含了丰富的历史信息，某校初一年级的同学在本学期继续以“地铁里的北京城”为题，进行主题探究性学习。

考察笔记一：

①	八通线	高碑店	元代是漕运码头，皇粮商品集散地，曾盛极一时。
②	10号线	火器营	火器营是清代专门操演火器的军队，清乾隆年间设立外火器营，其建立百余年间，“平准噶尔、定回部、屏卫关陇，巩固边疆。”
③	1号线	天安门	始建于明永乐十五年，天安门取“受命于天、安邦治国”之意。
④	15号线	顺义	“顺义”即“归顺正义，服从一统”，唐朝统治者曾在此安置归附的契丹少数民族。

(1) 依据考察笔记一并结合所学，完成以下任务：

将材料中地铁站名反映的史实按朝代顺序排序：\_\_\_\_\_ (2分，写序号)。

概括②和④中反映的历史史实的共同作用。(2分)



考察笔记二：

地铁站名	历史渊源	相关文献史料	考古发现
10号线 西土城	土城是元代大都城墙遗址的一部分，是北京地区原样保存下来的唯一一段元代大都城墙遗迹。	①据《元史·地理志》记载：“城方六十里，门十一座。”	A：勘查后得知元大都的积水潭稍大于今太平湖、什刹前后海的范围。
2号线 积水潭	元朝时，郭守敬开凿通惠河后，积水潭成为漕运终点，并建有码头。来自江南的漕粮，频繁地在这里运送，川流不息。	②《元史·河渠志》载：“海子一名积水潭，聚西北诸泉之水，流行入都城而汇于此，汪洋如海，都人因名焉。”	B：经实际勘察，元大都平面略作长方形，周长 28600 米。四周辟门十一座。

(2) 依据考察笔记二，指出与材料中①②文献史料相互印证的考古发现分别是①\_\_\_\_\_；  
②\_\_\_\_\_。(2分，写字母)。并结合所学写出这两处遗址蕴含的历史信息。(2分)

考察笔记三：

地铁 14 号线的某位负责人表示，此次的站名方案充分体现了历史文化特色，突出了地名的文化承载作用。“比如，在研究地铁车站名称过程中，根据相关历史文化资料，我们查验到当年金中都景风门所在位置，与此次命名车站的站位相吻合，所以在公示的命名预案中出现了‘景风门站’，位于东城区安乐林路与琉璃井东街交汇处的一座车站，因景泰蓝制作技艺已被列为国家级非物质文化遗产，且邻近景泰蓝艺术博物馆，因此拟命名为“景泰站”。

——摘编自《地铁 14 号线中段 13 座车站站名公示》

(3) 依据考察笔记三，指出地铁 14 号线站名命名的依据并分析这样命名的历史意义。(2分)