



考生须知

1. 本试卷共 10 页，分为两部分，第一部分选择题，40 个小题，共 40 分；第二部分非选择题，4 道题，共 60 分。
2. 请将条形码粘贴在答题卡相应位置处。
3. 试卷所有答案必须填涂或书写在答题卡上，在试卷上作答无效。请使用 2B 铅笔填涂，用黑色字迹签字笔或钢笔作答
4. 考试时间 90 分钟，试卷满分 100 分。

## 第一部分 选择题 （共 40 分）

下列各小题均有四个选项，其中只有一项是符合题意要求的。请将所选答案前的字母，按规定要求填涂在答题卡的相应位置上。（每小题 1 分，选对一项得 1 分，错选、多选则该小题不得分。）

图 1 为宇航员在太空拍摄的地球照片。读图 1，完成 1、2 题。

1. 地球的形状是

- A. 椭圆                      B. 圆弧  
C. 球体                      D. 方形

2. 能描述地球大小的是

- ①地表海洋深度          ②地球平均半径  
③地球表面积            ④陆地平均海拔

- A. ①②                      B. ②③  
C. ③④                      D. ①④



图 1

图 2 为竖版世界地图的一部分。读图，完成 3-5 题。

3. 图中甲地的经纬度是

- A.  $90^{\circ}$  N,  $150^{\circ}$  W      B.  $60^{\circ}$  S,  $120^{\circ}$  W  
C.  $0^{\circ}$  ,  $120^{\circ}$  W        D.  $0^{\circ}$  ,  $60^{\circ}$  E

4. 乙地所在的大洲是

- A. 亚洲                      B. 非洲  
C. 大洋洲                    D. 南极洲

5. 丙地所在的大洋是

- A. 北冰洋                    B. 大西洋  
C. 印度洋                    D. 太平洋

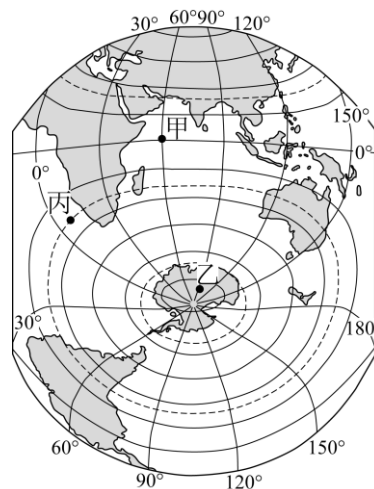


图 2


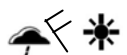
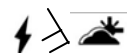

6. 我们演示地球公转运动时，正确的程序是

- ①运用右手调整地轴方向，使地球仪地轴指北    ②左手托起地球仪，使其保持平稳    ③围绕假想太阳做逆时针匀速运动（确保地轴总指向北方）

- A. ③②①                                  B. ②③①  
C. ②①③                                  D. ①③②

学校准备在周六组织一次地理野外考察，图3是该地区等高线地形图。通过查询天气预报得知，该地区周五夜间阴有小雨并伴有4-5级偏北风，周六白天转晴。据此，完成7-12题。

7. 能表示周五夜间到周六白天天气变化的天气符号是

- A.     B.     C.     D. 

8. 图3所示地区的地形类型为

- A. 山地                                  B. 丘陵  
C. 高原                                  D. 盆地

9. 出发地点①地与海拔最高山峰的相对高度是

- A. 475米                                  B. 405米  
C. 275米                                  D. 205米

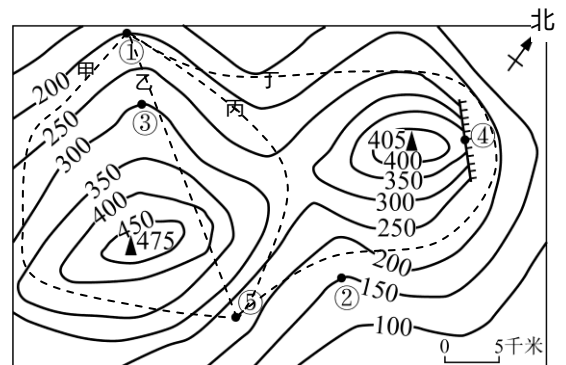


图3

10. 从出发地点①到目的地⑤最省力的路线是

- A. 甲线                                  B. 乙线  
C. 丙线                                  D. 丁线

11. 若从出发地点①沿甲路线行进，学生们在接近目的地⑤时大致行进的方向是

- A. 正南                                  B. 东南                                  C. 西北                                  D. 东北

12. 图中最有可能找到河流的地点是

- A. ②    B. ④    C. ③    D. ⑤

13. 我国的陆地面积约

- A. 900平方千米    B. 960平方千米    C. 960万平方千米    D. 9600平方千米

读“我国主要地形类型面积比重图”（图4），完成14题。

14. 读图4可知，我国地形特征是

- ①地形多种多样                          ②山区面积广大  
③平原比例较低                          ④地势西高东低

- A. ①②                                  B. ③④                                  C. ②③                                  D. ①④

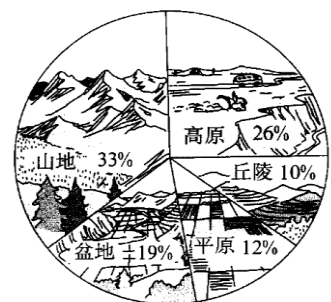


图4



读中国在地球上的位置（图5），完成15-17题。



15. 从半球位置看，我国位于

- A. 南半球、西半球
- B. 北半球、东半球
- C. 南半球、东半球
- D. 北半球、西半球

16. 从海陆位置看，我国位于

- A. 亚洲的西部、东临太平洋
- B. 亚洲的东部、西临太平洋
- C. 亚洲的东部、东临太平洋
- D. 亚洲的西部、西临太平洋

17. 关于我国位置特点的叙述，不正确的是

- A. 大部分国土位于北温带
- B. 小部分国土位于热带
- C. 海陆兼备，地理位置优越
- D. 各地自然环境差异较小

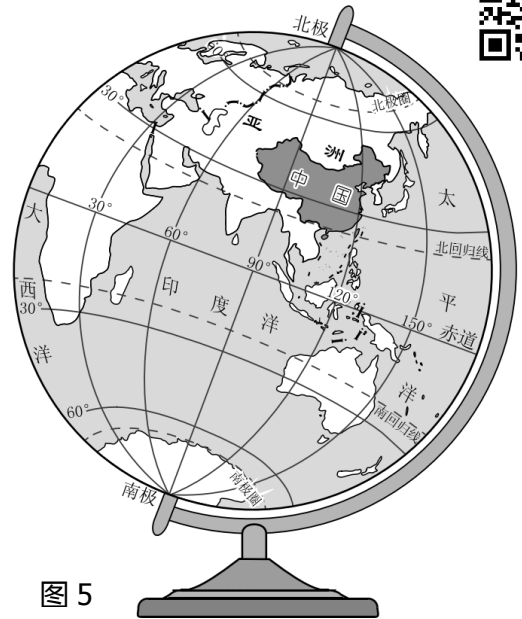


图5

图6为中国人口增长折线图。2015年10月，中国实施全面“二孩”政策。读图6，完成18、19题。

18. 我国人口

- A. 数量不断增加
- B. 数量保持不变
- C. 增长速度保持不变
- D. 1949至1969年增长速度变慢

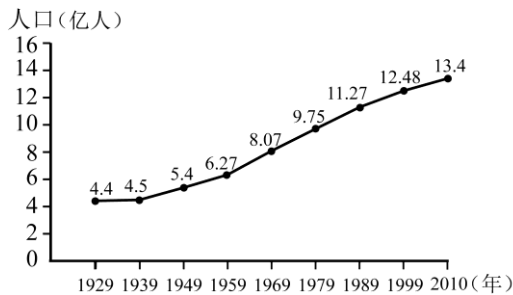


图6

19. “二孩”政策能够

- A. 迅速增加劳动力数量
- B. 短期增加劳动力增长率
- C. 缓解未来劳动力不足的问题
- D. 降低五年内社会养老负担

读“北方地区示意图”（图7），完成20-22题。

20. 地形区甲与乙在农业方面的发展状况是


- A. 地形区甲以林业为主，地形区乙以种植业为主
- B. 种植的主要粮食作物是小麦
- C. 种植的经济作物有花生、甜菜和甘蔗
- D. 农作物都是两年三熟



图7



21. 能够在丙地欣赏到的景观是



A

B

C

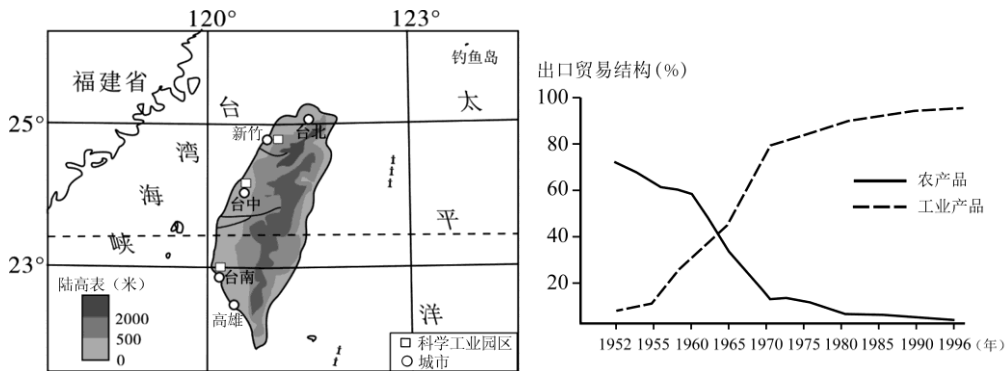
D

22. 具有“北京地方文化特色”的是

- ① 烤鸭 ② 白羊肚手巾 ③ 豫剧 ④ 太平鼓 ⑤ 竹楼 ⑥ 四合院

- A. ①③⑤ B. ①④⑥ C. ①②④ D. ②④⑥

图 8 为台湾省及其出口贸易结构图。读图，完成 23、24 题。



23. 台湾岛

- A. 被北回归线穿过，全部为热带  
 B. 河流短小，大部分河流自西向东流  
 C. 东部沿海平原面积广大  
 D. 西隔台湾海峡与大陆相望

24. 关于台湾城市和经济的叙述，正确的是

- A. 科学工业园区主要分布在东部沿海  
 B. 70 年代后工业产品出口增长放缓  
 C. 农产品出口额及比重不断增加  
 D. 城市数量东部多，西部少

25. 图 9 中能反映世界海陆分布比例的是

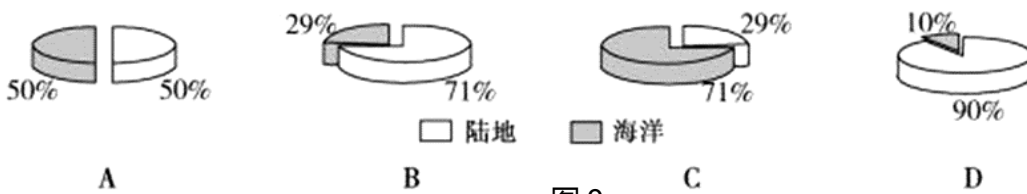


图 10、图 11 分别为巴西、澳大利亚人口分布图。读图，完成 26~28 题。

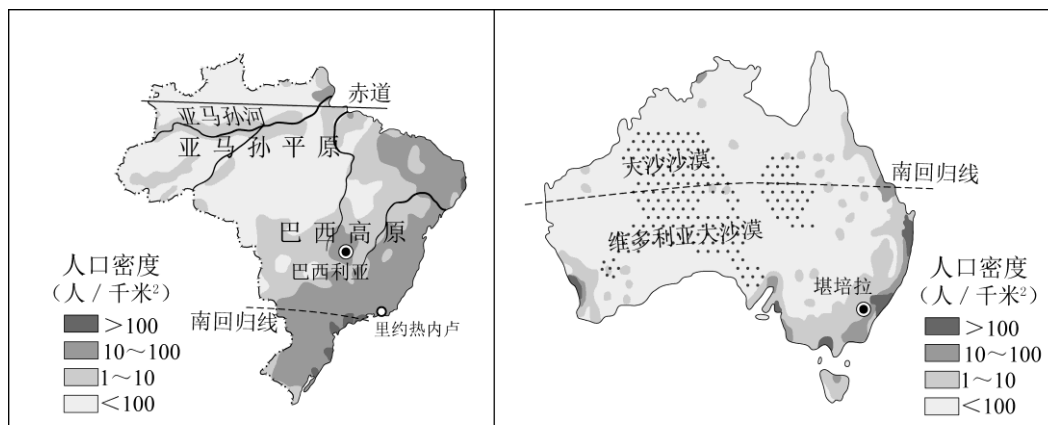


图 10

图 11

26. 两国人口密度大于 100 人/千米<sup>2</sup>地区，均分布在两国的
- A. 热带地区      B. 内陆地区      C. 西北地区      D. 东南沿海
27. 澳大利亚中部地区人口稀疏的自然原因主要是
- A. 海拔高      B. 气候干燥      C. 潮湿闷热      D. 河流众多
28. 1960 年巴西将首都从里约热内卢迁往人口稀少的巴西利亚，主要目的是
- ①迁往内陆地区，获取更多水源条件  
②迁往低纬地区，获得更加温暖的气候条件  
③迁往海拔高的地区，获得凉爽适宜的气候条件  
④向西北方向迁往人口稀疏区，带动区域发展
- A. ①②      B. ②③      C. ③④      D. ①④

读图 12，完成 29、30 题。



甲

乙

图

丙

丁

29. 属于城市景观的有
- A. 甲丁      B. 乙丙      C. 丙丁      D. 甲乙
30. 城市与乡村的根本差别在
- A. 生产方式与生活方式的不同      B. 现代运输方式的不同  
C. 旅游业发展水平的不同      D. 环境卫生优劣的不同

读“西亚某资源输出”（图 13），完成 31-35 题。

31. 西亚对世界经济发展

影响最大的资源是

- A. 铁矿
- B. 石油
- C. 煤炭
- D. 稀土

32. 该资源主要分布在

- A. 红海及其沿岸
- B. 地中海及其沿岸
- C. 黑海及其沿岸
- D. 波斯湾及其沿岸

33. 该资源在输往世界各地过程中，经过、但输入量最少的大洲是

- A. 北美洲
- B. 大洋洲
- C. 非洲
- D. 欧洲

34. 该资源主要输出方式为

- A. 海运
- B. 铁路
- C. 公路
- D. 管道

35. 该资源之所以能大量输往世界各地，主要原因是

- A. 除西亚外，其他地区产量极少
- B. 其他地区产地在内陆，输出困难
- C. 其他地区储量低，不适合开采
- D. 在西亚该资源产量高、消费量低

读“世界年降水量”（图 14），完成 36 题。

36. 有关世界年降水量分布的一般规律，表述不正确的是

- A. 赤道附近地区降水量多
- B. 南、北回归线附近的大陆东岸降水量少、西岸降水量多
- C. 中纬度沿海地区的降水量一般多于内陆地区
- D. 两极地区降水量少

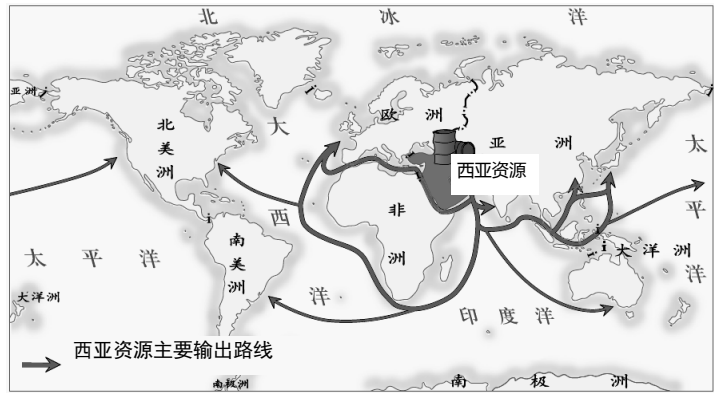


图 13

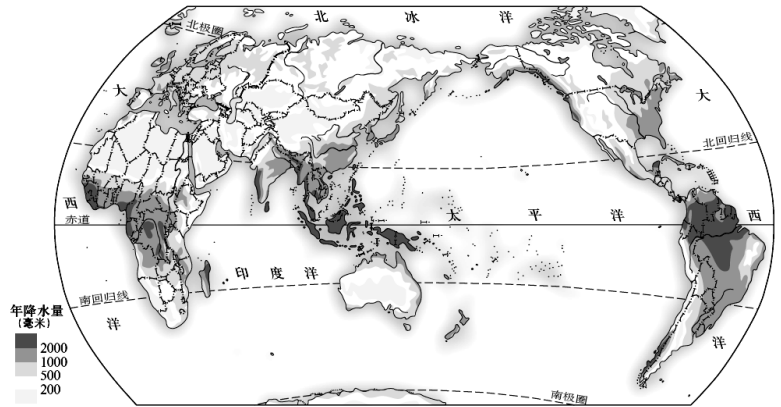


图 14

随着中国经济的发展，家庭轿车日益走进人们的生活。下图（图 15）为美国某品牌汽车说明书，读图完成 37-40 题。

零部件：巴西、意大利

组装：中国

外观设计：德国

销售地：世界各地



图





37. 该说明书表明
- A. 国际竞争日益激烈
  - B. 国家间经济独成一体
  - C. 国际矛盾和冲突剧烈
  - D. 经济联系促进国际合作
38. 有关国际间进行经济合作的前提条件的表述, 不正确的是
- A. 世界各国政治制度存在差异
  - B. 世界各国生产水平存在差异
  - C. 世界各国自然条件存在差异
  - D. 世界各国自然资源存在差异
39. 加强国际经济合作非常重要。关于国际间进行经济合作重要性的表述, 不正确的是
- A. 可以实现合作方的互利共赢
  - B. 有助于各国民族问题的解决
  - C. 使合作方之间的联系更加紧密
  - D. 推动合作各方与世界经济的发展
40. 有关南极地区自然环境特征的表述, 不正确的是
- A. 南极地区气候条件虽然恶劣, 但常有斑马、长颈鹿出没
  - B. 南极地区金属矿产和非金属矿均很丰富
  - C. 南极地区冬季严寒, 夏季寒冷, 风力大
  - D. 南极大陆蕴藏着丰富的淡水资源

第二部分 非选择题 (共 60 分)

41. 读“我国某区域图”及相关图片(图 16), 完成下列要求。(14 分)

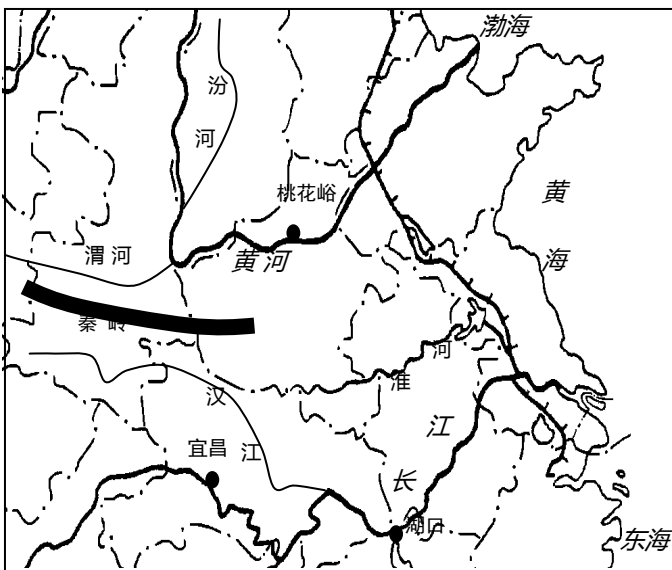
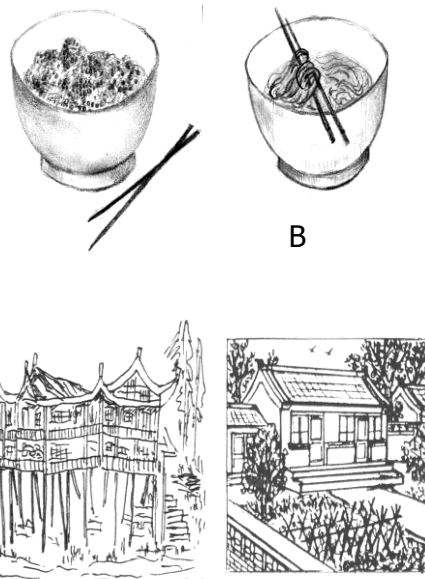


图 ● 河流上、中游或中下游分界城市



甲 乙

(1) 本区域的河流特征为\_\_\_\_\_ (外流河/内流河)。黄河中游突出的水文特征为\_\_\_\_\_, 易对下游河段造成泥沙淤积, 形成\_\_\_\_\_, 威胁下游地区人们的生命与财产安全; 解决此问题的措施除加固下游河段大堤外, 在中游地区\_\_\_\_\_。长江中、下游地区突出的水文特征为\_\_\_\_\_, 有利于\_\_\_\_\_、\_\_\_\_\_等事业的发展。

(2) 渭河与汉江相比, 流量较大的是\_\_\_\_\_。长江与黄河在下游河段的流向大致都为自低纬流向高纬, 但黄河有凌汛现象而长江没有的原因是\_\_\_\_\_ (单项选择)。

- A. 长江比黄河水量大      B. 长江比黄河流域长      C. 长江比黄河纬度低

(3) 兼有黄河中游河段与下游河段的省是\_\_\_\_\_, 该省的简称\_\_\_\_\_; 黄河在该省流经地区水能资源丰富的原因是\_\_\_\_\_。

(4) 观察“秦岭-淮河”一线所在的地理位置。秦岭-淮河以北地区人们乐见的主食为\_\_\_\_\_ (A/B), 属于秦岭-淮河一线以南所在的区域的传统民居是\_\_\_\_\_ (甲/乙)。

42. 2018年12月5日-9日, 地理教师一行从北京出发到海南省海南岛部分地区进行实践考察活动, 收集到的资料如下。请依据资料完成下列要求。(17分)

材料一: “海南岛位置”(图17)、“海南岛降水分布”(图18)、“海南岛一月气温分布”(图19)以及当时北京与海南居民的着装(图甲、图乙)。

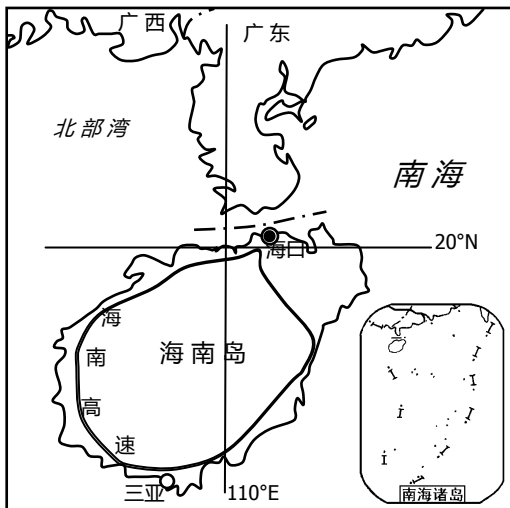


图 17

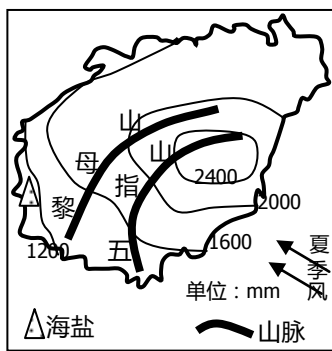


图 18

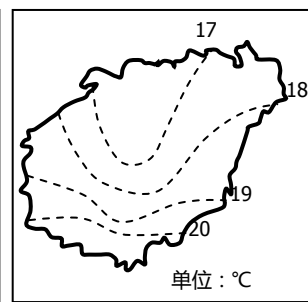


图 19



材料二: 海南岛盛产甘蔗, 西部地区石灰岩分布广泛。石灰岩岩石一种, 可使作物生长的土壤偏碱性, 进而对人们的生理产生一定影响。

材料三: 调查发现, 海南岛东部地区与西部地区人们在饮食上既有相同又有一些不同之处。相同的是海南岛东部与西部地区人们都喜欢吃甜食。不同之处是, 东部地区人们还喜欢喝姜茶、汤中加胡椒粉, 用于祛风除湿; 西部地区人们则喜欢腌制酸瓜。

(1) 海南省简称\_\_\_\_\_, 是我国领土位置最靠\_\_\_\_\_ (方位) 的省级行政区, 濒临\_\_\_\_\_海, 省级行政中心是\_\_\_\_\_。

(2) 此次行程, 老师们需必备甲、乙两种衣物, 主要是因为海南岛地处\_\_\_\_\_带 (热量带), 大部地区最冷月平均气温在\_\_\_\_\_°C以上, 造成这种气候上差异的影响因素是\_\_\_\_\_。

(3) 地理老师一行到达海南岛后, 发现沿\_\_\_\_\_公路行进可以绕海南岛一周, 具有



\_\_\_\_\_分布的特点。

(4) 海南岛年降水量的分布特点是\_\_\_\_\_。主要影响因素为\_\_\_\_\_ (单项选择)。

①海陆位置 ②地形 ③夏季风 ④冬季风

A. ①② B. ②③ C. ③④ D. ①④

(5) 海南岛盛产\_\_\_\_\_ (矿产)，主要分布在海南岛的\_\_\_\_\_，分布在这里的原因是\_\_\_\_\_。

(6) 通过分析可知，居住在海南岛的人们普遍喜食甜食的原因是\_\_\_\_\_，而东部地区的人们又喜喝姜茶、汤中添加胡椒粉的原因是\_\_\_\_\_，西部地区人们更喜食酸菜物质的原因是\_\_\_\_\_。

43. 阅读“英国位置图”(图 20)、英国的“气温曲线与降水量图”(图 21)及相关材料，完成下列要求。(11 分)

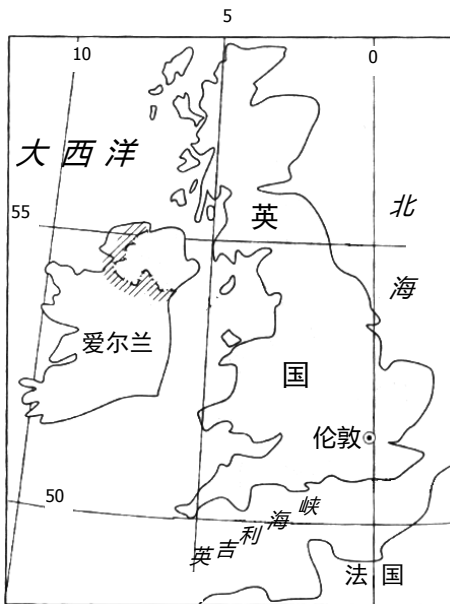


图 20

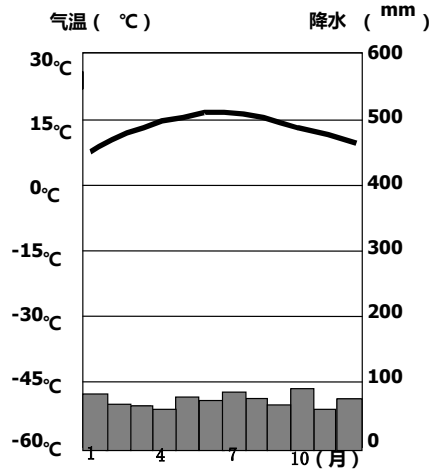


图 21

材料一：英国农业占内生产总值中所占比重不到 1%，农用地占国土面积的 77%，其中多数为草场和牧场，仅 1/4 用于耕种。英是欧盟国家中最大捕鱼国之一，能够满足国内 2/3 的需求量。

材料二：英国主要的矿产资源有煤、铁、石油和天然气。英国工业发达，特别是生物制药、航空和国防是英国工业中最具创新力和竞争力的行业。英国以世界 1%的人口，从事世界 5%的科研工作，截至 2014 年，所发表学术论文占世界 9%，引用量达 12%，仅次于美国。

(1) 英国位于\_\_\_\_\_ (东半球/西半球)，海陆位置上属于\_\_\_\_\_ (单项选择)。

A. 海陆兼备国家 B. 群岛国家 C. 内陆国家

(2) 英国是世界上发达的资本主义\_\_\_\_\_ (工业国/农业国)，其发展工业的有利条件主要有\_\_\_\_\_、\_\_\_\_\_，主要出口产品为\_\_\_\_\_。

(3) 英国的农业类型主要有\_\_\_\_\_、\_\_\_\_\_。从英国的气候条件看，其发展种植业的不利条件为\_\_\_\_\_、\_\_\_\_\_。

(4) 英国居民比较喜食的佳肴是\_\_\_\_\_ (单项选择)。

①烤牛排 ②米线 ③炸鱼 ④面饼

A. ①②

B. ②③

C. ③④

D. ①③

44. 阅读中亚地区相关材料“中亚地区图”（图 22）、“中亚气候分布”（图 23）、“中亚农业分布”（图 24）及“注入咸海水量减少”资料，完成下列要求。（18分）

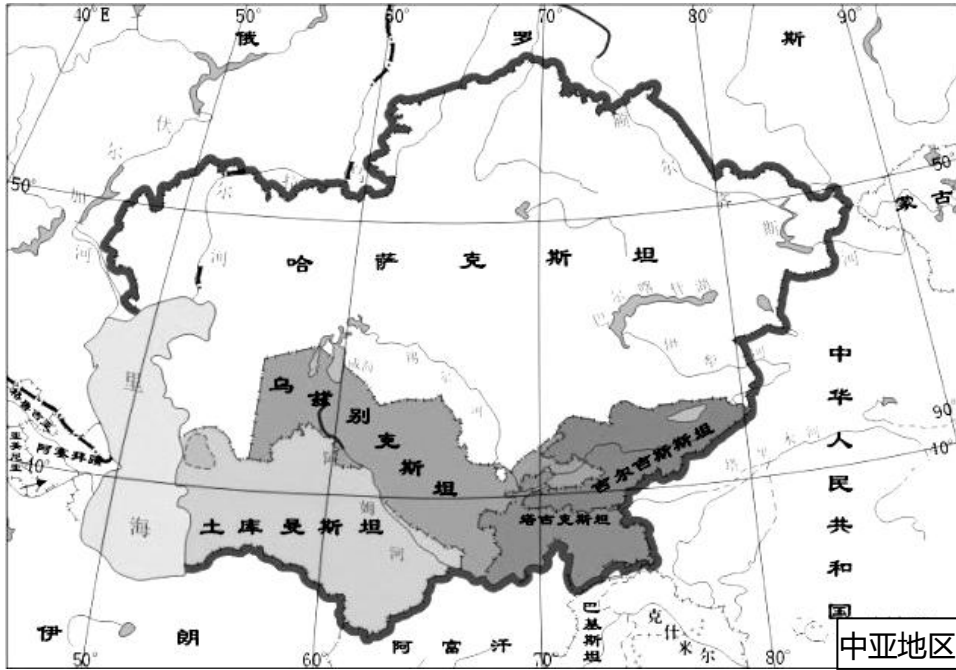


图 22

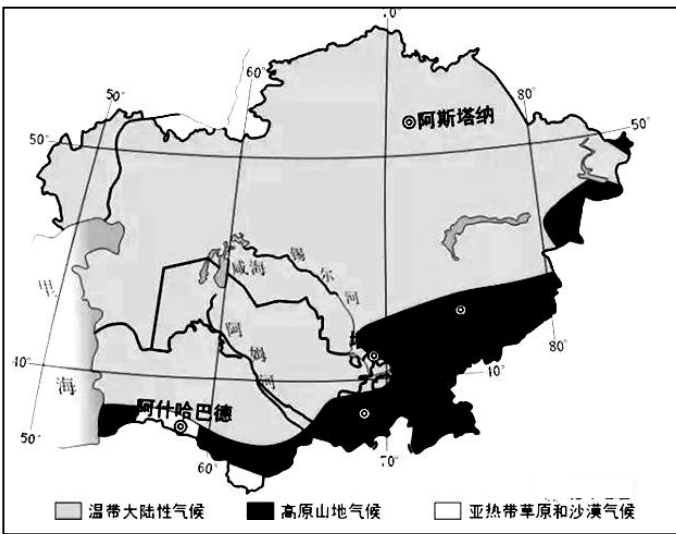


图 23

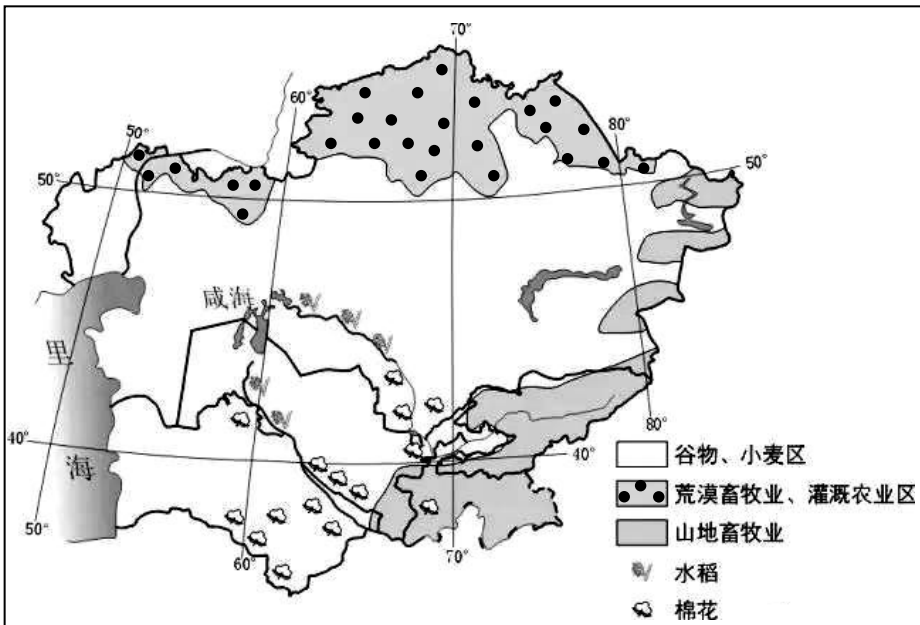


图 24



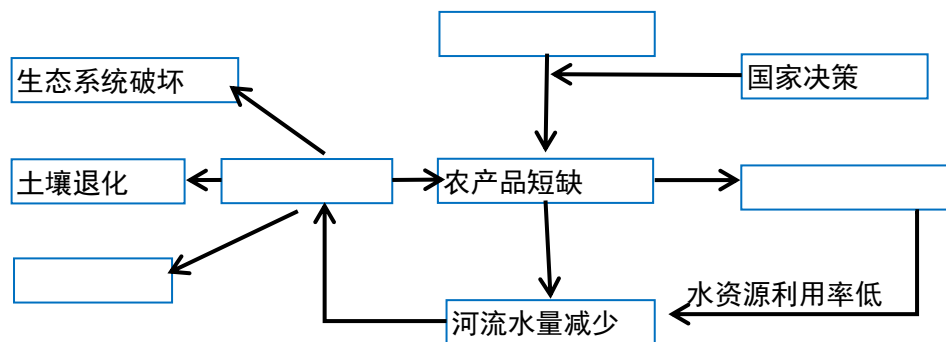
(1) 读图可知，中亚地区地处欧亚大陆\_\_\_\_\_（中心地带/边缘地带），西部濒临\_\_\_\_\_海，北部与俄罗斯、东部与\_\_\_\_\_（国家）接壤，南与伊朗、阿富汗等国为邻。中亚地区面积最大的国家是\_\_\_\_\_，其首都是\_\_\_\_\_。

(2) 中亚地区的气候类型以\_\_\_\_\_为主，这主要是由于\_\_\_\_\_（影响因素）的影响。阿姆河与锡尔河属于\_\_\_\_\_（内流河/外流河）。

中亚地区的地势特征为\_\_\_\_\_。

(3) 中亚地区的农业具有显著的地区特色，山区主要发展\_\_\_\_\_、平原地区主要发展\_\_\_\_\_，受多种因素的影响，咸海的面积逐渐\_\_\_\_\_。

(4) 请将符合题意要求的字母选项填写在图框 1 中。



图框 1

A 人口增长过快

B 扩大耕地面积

C 咸海面积缩减

D 气候恶劣

(5) 请就中亚地区实现地区可持续发展提出合理建议。（最少答出两条）



# 地理试题答案



## 一、单项选择题（每空1分，共40分）

题号	1	2	3	4	5	6	7	8	9	10
答案	C	B	D	D	B	C	B	B	C	C
题号	11	12	13	14	15	16	17	18	19	20
答案	D	A	C	A	B	C	D	A	C	B
题号	21	22	23	24	25	26	27	28	29	30
答案	C	B	D	B	C	D	B	C	A	A
题号	31	32	33	34	35	36	37	38	39	40
答案	B	D	C	A	D	B	D	A	B	A

## 二、综合题（共4道小题，合计60分）

41. 每空1分，共14分。

(1) 7分。外流河，含沙量大，地上河，进行水土保持工作（种草种树、植树造林），水量大，航运，灌溉（生活、生产用水等）。(2) 2分。汉江，C。(3) 3分。河南，豫，落差大（一、二级阶梯的过度地区，水流急）。(4) 2分。B，甲。

42. 每空1分，共17分。

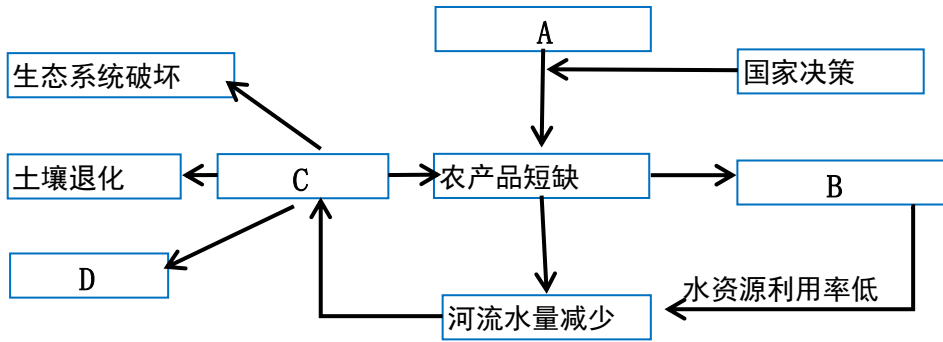
(1) 4分。琼，南，南，海口。(2) 3分。热，17℃，纬度。(3) 2分。海南高速，环状。(4) 2分。东部多西部少，B。(5) 3分。海盐，西部沿海，降水少、气温高。(6) 3分。盛产甘蔗，降水多、潮湿，食物偏碱性。

43. 每空1分，共11分。

(1) 2分。东半球，B。(2) 4分。工业国，矿产资源丰富，科技水平高，医药、航空、军工等产品。(3) 4分。畜牧业、渔业，温差小，光照不足。(4) 1分。D。

44. 每空1分，共18分。

(1) 5分。中心地带，里，中国，哈萨克斯坦，阿斯塔纳。(2) 4分。温带大陆性气候，海陆位置，内流河，东南高、西北低。(3) 3分。畜牧业，种植业，缩小。(4) 4分。



(5) 2分。发展旱作农业，合理控制人口（提高水资源的利用率，发展节水农业等，合理酌情给分）。

