

北京市西城区 2017—2018 学年度第一学期期末试卷

七年级地理

2018.1



微信扫一扫，快速关注

试卷满分：100 分，考试时间：60 分钟

你能选对吗？（50 分）

下列各小题均有四个选项，其中只有一项符合题意要求；每小题 2 分；请你将答案填写在下面的答题框中（使用机读卡的学校请填写在机读卡上）。

题号	1	2	3	4	5	6	7	8	9	10
答案										
题号	11	12	13	14	15	16	17	18	19	20
答案										
题号	21	22	23	24	25					
答案										

“蓝色弹珠”是 1972 年 12 月 7 日由阿波罗 17 号太空船船员拍摄的地球照片。当时太空船正背向太阳，所以成功拍到了清晰的地球全景（图 1）。读图，完成第 1~3 题。



图 1

- “蓝色弹珠”照片说明地球的形状是
 - 椭圆
 - 圆形
 - 球体
 - 方形
- 在遨游宇宙之前，人类已经证实了地球的形状。其方法是
 - 实地测量
 - 观测月全食
 - 凭直觉猜想
 - 环球航行
- 照片中可以清晰看见南极大陆被冰雪覆盖。拍摄时南极
 - 有极昼现象
 - 有极夜现象
 - 昼夜等长
 - 昼短夜长

地球仪是地球的模型。读图 2，完成 4~6 题。

- 图 2 中可以观察到的地球范围主要位于
 - 北半球
 - 南半球
 - 东半球
 - 西半球
- 图中 A 点大致位于
 - 40°N, 120°E 附近
 - 40°S, 120°E 附近
 - 40°S, 120°W 附近
 - 40°N, 120°W 附近



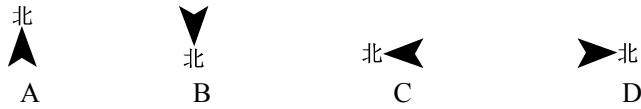
图 2

6. 有位乘客在日出时分从 A 点登上飞机，几个小时后到达（43°N，87°E），发现当地太阳刚刚升起。产生这种地理现象的原因是

- A. 纬度差异 B. 地球自转 C. 地球公转 D. 四季交替

图 3 是某校学生绘制的“北京天坛公园平面图”。读图，完成 7、8 题。

7. 根据图中信息，应补充在图上的指向标是



8. 祈年殿到回音壁实际距离约 560 米，这张图的比例尺是

- A. 1: 20 B. 1: 200
C. 1: 2000 D. 1: 20000

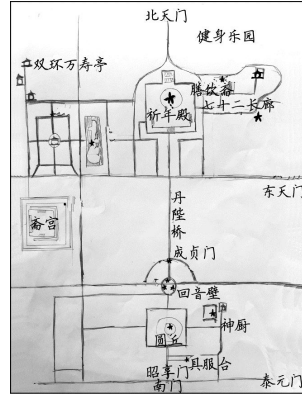


图 3

毛泽东主席曾写道：“我们中国是世界上最伟大的国家之一，……在这个广大的领土之上，有广大的肥田沃土，给我们以衣食之源；……有很多的江河湖泽，给我们以舟楫和灌溉之利；有很长的海岸线，给我们以交通海外各民族的方便。”读资料，完成 9、10 题。

9. 我国广大的领土

- A. 位于亚欧大陆西岸，西临太平洋
B. 领海宽度是自基线向外 200 海里
C. 自北向南濒临南海、东海、黄海、渤海
D. 陆地面积约 960 万平方千米，世界第三

10. 下列对我国地理条件优越性的解释，正确的是

- A. 领土南北跨度大，以热带为主，衣食无忧
B. 海陆兼备，有便利的陆上和海上交通条件
C. 全国各地降水都比较丰富，多大江、大河
D. 地形以平原为主，肥田沃土分布广泛

据调查，北京市少数民族人口占总人口 4.1%，千人以上少数民族有 21 个，每一个区都至少有 30 个以上的民族，也形成了一些民族聚居区。据此，完成 11、12 题。

11. 北京市少数民族的特点是

- A. 少数民族人口超过汉族 B. 56 个少数民族都有分布
C. 各民族集中居住，形成聚居区 D. 大散居、小聚居

12. 我国在少数民族聚居的地方建立了相应的自治机关，设立的自治区共有

- A. 3 个 B. 4 个 C. 5 个 D. 6 个

读图4“中国沿北纬32°线地形剖面图”，完成13~16题。

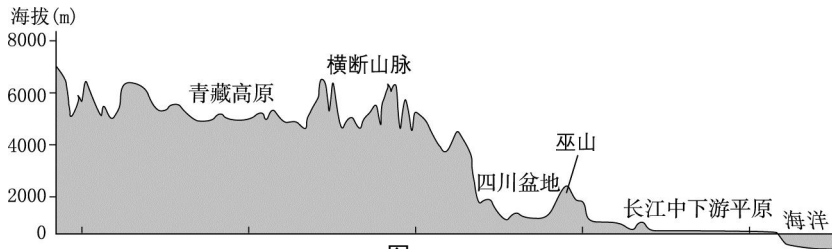


图4

13. 该图反映出我国的
- A. 地形类型特征 B. 地势特征 C. 大陆轮廓特征 D. 地理位置特征
14. 该剖面线经过的区域
- A. 河流发源于西部，东流入海 B. 水汽易深入西部高原
- C. 山脉能够阻挡冷空气的南下 D. 东部平原丰富水能
15. 图中地形区与其特征对应正确的是
- A. 青藏高原——平均海拔6000米 B. 横断山脉——呈东西走向
- C. 四川盆地——沙漠广布 D. 长江中下游平原——地势低平
16. 图中人口稠密区所处的地形区有
- ①长江中下游平原 ②青藏高原 ③四川盆地 ④横断山脉
- A. ①② B. ①③ C. ②④ D. ③④

图5是中国气象局为某节气绘制的图画。读图，回答17~20题。



图5

17. “……菊残犹有傲霜枝……正是橙黄橘绿时”指的是图中的
- A. 东北地区 B. 黄淮地区 C. 长江中下游地区 D. 所有地区
18. 图5显示的节气是
- A. 春分 B. 小暑 C. 秋分 D. 小雪
19. 此时，已经开始封冻的是
- A. 黑龙江 B. 长江下游段 C. 珠江下游段 D. 鄱阳湖
20. 该时段，北京市重点防范的自然灾害是
- A. 寒潮 B. 火灾 C. 地震 D. 泥石流

二、你能答对吗？（50分）

26. 暑假期间，小玉全家想去图7所示景区避暑。小玉利用自己所学地图知识，为旅行进行了设计。读图，回答下列问题。（14分）

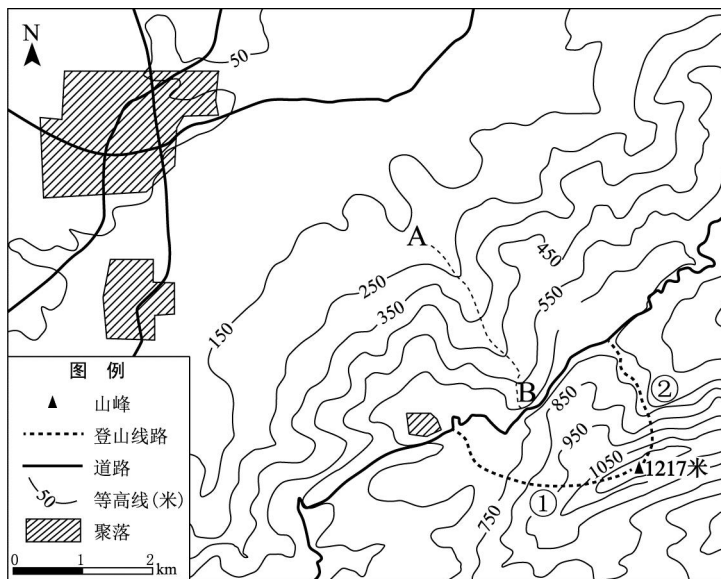



图7

- (1) 小玉发现，这个景区地势_____高_____低，地形类型西北以_____为主，东南以_____为主。
- (2) 为了更好的避暑，小玉建议家长选择山区道路沿线的聚落作为住宿地点，因为随海拔升高，气温将会_____，邻近道路，_____便利，请在图中用“甲”标出小玉说的住宿地点。
- (3) 图中山峰海拔_____米，小玉为爷爷、奶奶设计了线路①“休闲步道”，而为自己选择了线路②“挑战步道”。请你替小玉说明理由_____。

将景观图与对应线路进行连线。

线路①



线路②



- (4) 小玉还特别提示家长，平时游玩时要注意远离 A—B 线，这里是_____（地形部位），夏季降水集中时容易出现_____（自然灾害）。

27. 为了更好地理解我国人口现状和人口国策，老师要求全班同学绘制自己的“家谱”，图8是小明同学的作业。读图9“中国人口增长图”，回答下列问题。（10分）

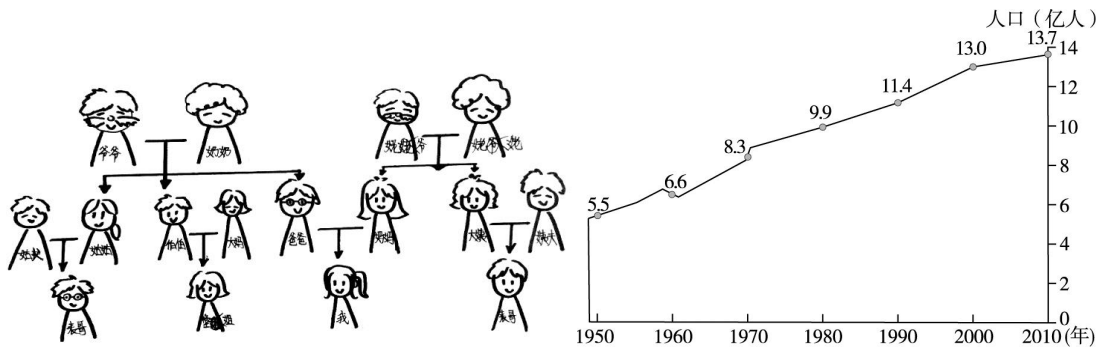


图 8

图 9

- 从图 8 中家庭子女数量的变化可以看出，建国后我国先经历了人口的_____（快速、缓慢）增长阶段，结合图 9 可知，到 1970 年人口总数达到_____亿，后期增速逐步变_____（快、慢）。
- 人口众多为我国经济发展提供了丰富的_____资源，但同时也会对_____造成巨大压力，1982 年我国正式把_____确定为基本国策，所以班里大部分同学和小明一样是_____。
- 结合家庭变化，小明发现，随着出生率持续下降、平均寿命不断延长，家庭、社会的养老负担将逐步加大，中国正面临日益严重的_____问题。
- 2016 年 1 月 1 日起我国全面实施“一对夫妇可生育两个孩子”政策，结合前面分析，你认为原因是：（至少两条）_____。

28. 2017 年某购物网站“双 11”活动后统计了部分省区最受欢迎商品，如表 1 所示。结合图 10“中国主要气候类型图”，回答下列问题。（18 分）

表 1

省区	黑龙江省	内蒙古自治区	西藏自治区	广东省
商品	皮草	棉衣	棉衣	T 恤、连衣裙

注：皮草是指利用动物皮毛制成的服装。

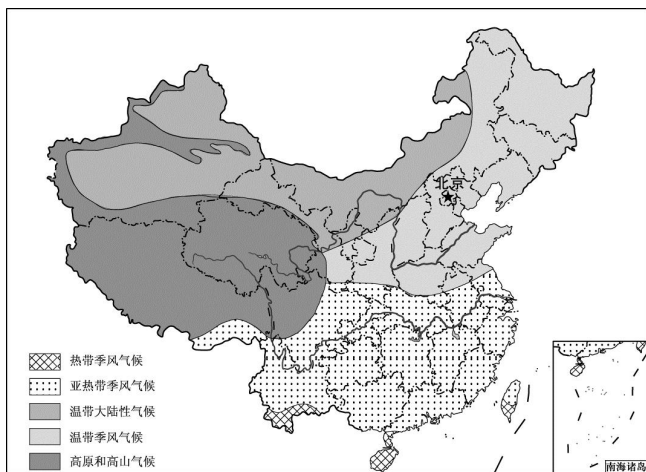
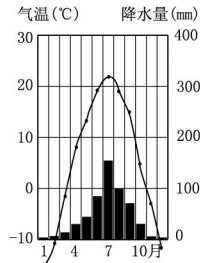
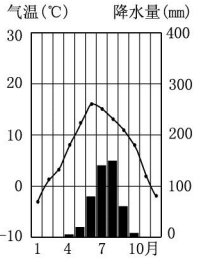
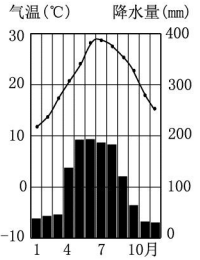
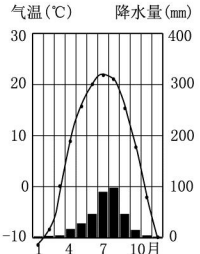


图 10

- (1) 请将表 1 中 4 个省区的名称填在图 10 中相应的位置。
- (2) 将 4 个省区行政中心与相应的气候类型以及气温曲线和降水量柱状图进行连线。

城市	气候类型	气温曲线和降水量柱状图
哈尔滨	温带大陆性气候	
广州	亚热带季风气候	
呼和浩特	温带季风气候	
拉萨	高原、高山气候	

四个省区最受欢迎商品与当地气候有一定关联性。

- (3) 根据你所学知识，造成各省区网购商品差异显著的是_____（季节）的气温，该季节受纬度、地形等因素影响，我国南北温差_____（大、小）。西藏自治区虽然纬度相对较低，但由于_____因素影响，气温也较低。
- (4) 据气候资料，黑龙江省和内蒙古自治区冬季月均温都会降到_____℃以下，可以描述为_____，但网购最受欢迎商品有所不同，其原因可能是_____。

29. 黄河被称为中华民族的“母亲河”。自古以来，不断被文人墨客吟颂和赞美。读图 11 “黄河流域图”，回答下列问题。（8 分）

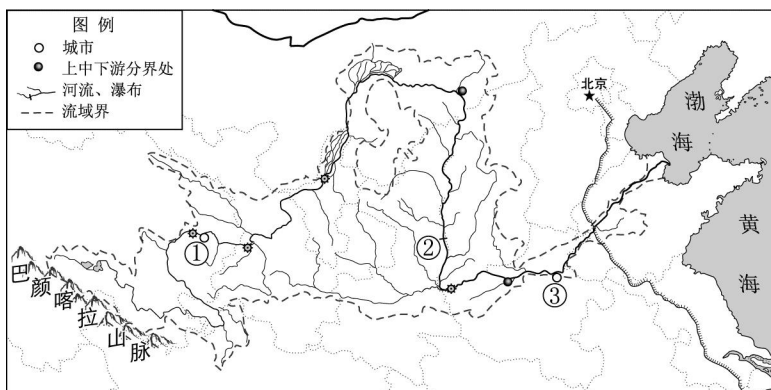


图 11

- (1) 李白的诗句“黄河之水天上来，奔流到海不复回……”，从地理视角可以解读为，黄河发源于_____高原上的_____山脉，向东注入_____海。
- (2) 刘禹锡的诗句“九曲黄河万里沙，浪淘风簸自天涯……”道出了黄河的突出特点。黄河泥沙 90%来自_____高原，但随着该地区_____措施的实施和水库的建设，2016 年黄河入海泥沙量只有 0.1 亿吨。
- (3) 阅读下列对黄河不同河段特点的描述，将其与图中序号标示地点一一对应。
这里的黄河河床高出两侧地面 7~8 米，在两岸大堤防护下形似“悬河”。_____位置
这里的黄河清澈，缓缓地流淌，既有江南的婉约，又不失西北的粗犷。_____位置
这里高含沙量的黄河水奔涌而下，如万马奔腾，称为“天下黄河一壶收”。_____位置

北京市西城区 2017—2018 学年度第一学期期末试卷

七年级地理试卷参考答案及评分标准

2018.1

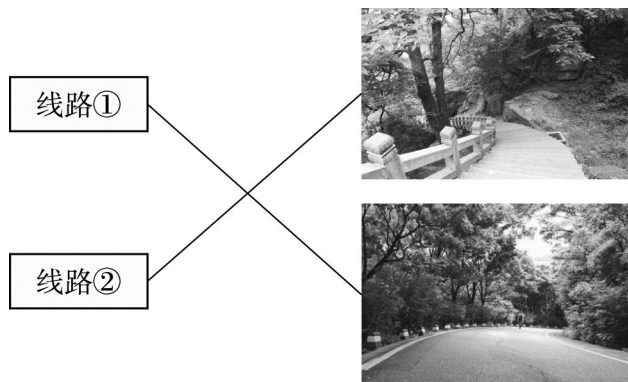
一、你能选对吗？（每小题 2 分，共 50 分）

题号	1	2	3	4	5	6	7	8	9	10
答案	C	D	A	C	A	B	A	D	D	B
题号	11	12	13	14	15	16	17	18	19	20
答案	D	C	B	A	D	B	C	D	A	A
题号	21	22	23	24	25					
答案	C	B	D	B	A					

二、你能答对吗？（共 50 分）

26. 本题共 14 分。

- (1) (4 分) 东南 西北 平原 山地
- (2) (4 分) 升高 降低 交通 填图略
- (3) (4 分) 1217 线路①沿线坡度小，适宜老年人，线路②沿线坡度大，更适宜年青人
(任选一条说明即可)



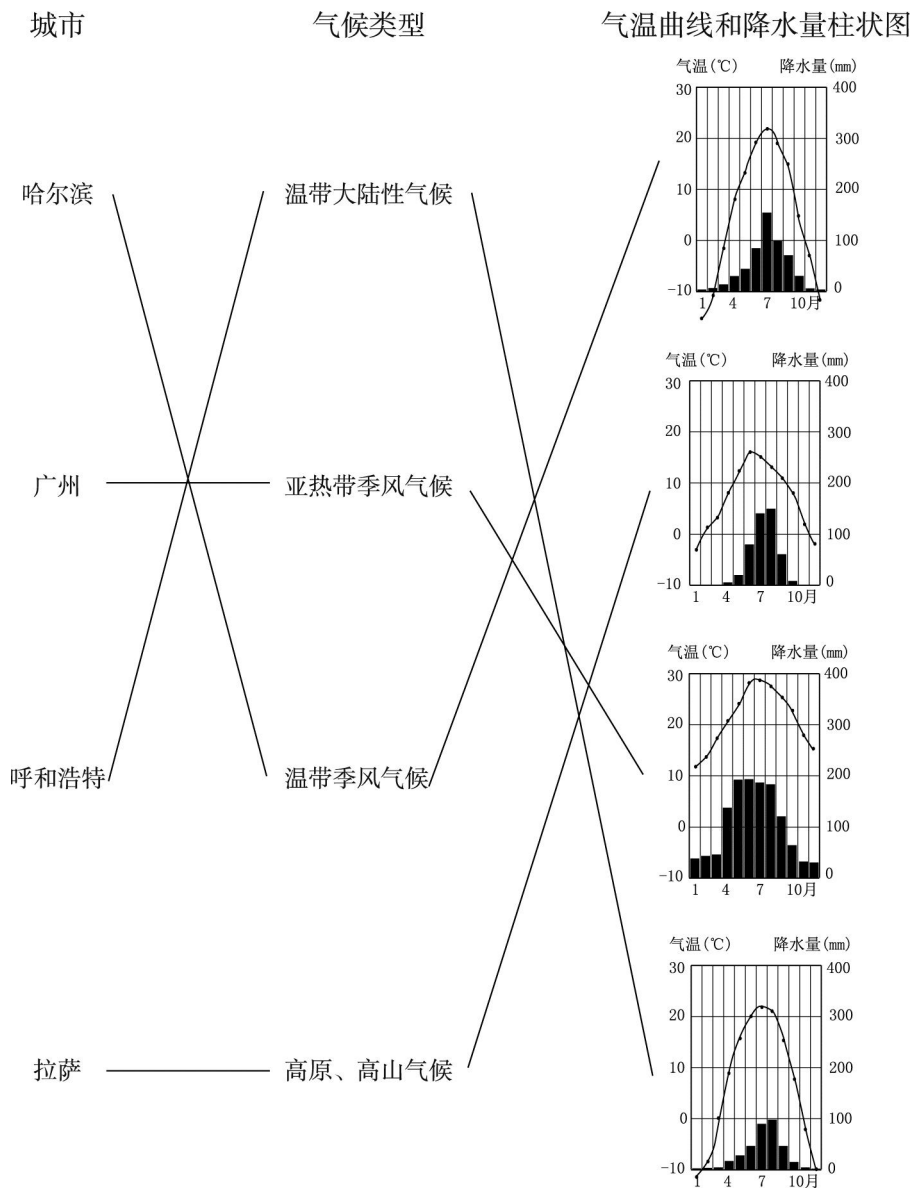
- (4) (2 分) 山谷 洪水（或泥石流）

27. 本题共 10 分。

- (1) (3 分) 快速 8.3 慢
- (2) (4 分) 劳动力 资源（或环境、就业） 计划生育 独生子女
- (3) (1 分) 人口老龄化
- (4) (2 分) 合理即可（可以从增加劳动力、减轻社会负担等角度回答）

28. 本题共 18 分。

- (1) (4 分) 填图略
(2) (8 分)



- (3) (3 分) 冬季 大 地形
(4) (3 分) -10 寒冷 合理即可 (可从消费习惯、产业结构、物产等方面分析)

29. 本题共 8 分。

- (1) (3 分) 青藏 巴颜喀拉 渤
(2) (2 分) 黄土 保持水土 (合理即可)
(3) (3 分) ③ ① ②