

燕山 2018 届初中历史一模试题

考生须知	1. 本试卷共 10 页, 33 道小题, 满分 90 分。考试时间 90 分钟。 2. 在试卷和答题卡(纸)上准确填写学校名称、姓名和教育 ID。 3. 试题答案一律书写在答题卡(纸)上, 在试卷上作答无效。 4. 在答题卡(纸)上, 选择题用 2B 铅笔作答, 其他试题用黑色字迹签字笔作答。 5. 考试结束, 将本试卷、答题卡(纸)和草稿纸一并交回。
------	--

第一部分 (选择题 45 分)

本部分共 30 小题, 每小题 1.5 分, 共 45 分。在每小题列出的四个选项中最符合题目要求的一项。

1. 2000 年 11 月 9 日夏商周断代工程正式公布了《夏商周年表》。《夏商周年表》定夏朝开始于约公元前 2070 年。约公元前 2070 年是

- A. 公元前 21 世纪初 B. 公元前 20 世纪初
C. 公元前 21 世纪末 D. 公元前 20 世纪末

2. 以下是某同学制作的中国古代中央机构演变的思维导图, 请按先后顺序排列正确的是:



- A. ①②③ B. ③①② C. ③②① D. ②①③

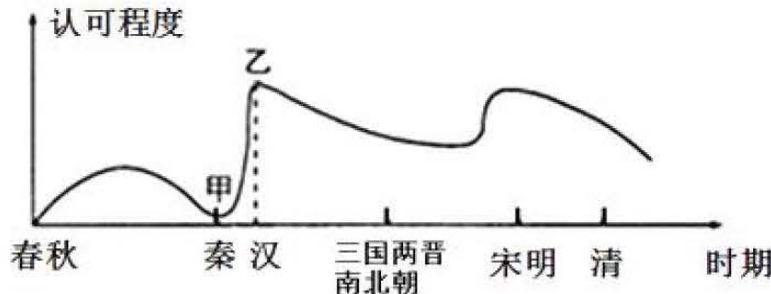
3. 在九年级的一节外语课上, 外语教师展示一张图片(见右图)。

据此你认为该图片的核心内容是

- A. 丝绸之路 B. 十字军东征
C. 哥伦布发现美洲 D. 郑和下西洋



4. 下图是不同时期的人们对孔子和儒家认可程度的变化曲线图。图中出现甲、乙所示状况分别与什么现象有关的是



- A. 百家争鸣, 焚书坑儒 B. 焚书坑儒, 八股取士
C. 百家争鸣, 独尊儒术 D. 焚书坑儒, 独尊儒术

5. 小明复习完中国古代史后, 对中国古代的各朝代进行了梳理, 其中下列朝代符合既是大一



统又是少数民族建立的朝代是①秦朝②唐朝③元朝④清朝

- A. ①② B. ②③ C. ③④ D. ①③


6. 两宋时期，经济重心已从黄河流域转移到长江流域。下列史实和此表述不相符的是

- A. 制瓷业发达，景德镇成为著名的瓷都。
B. 北宋中期，四川地区出现的“交子”是世界上最早的纸币。
C. 南宋时流传着“苏湖熟，天下足”的谚语。
D. 宋初，南方人口仅 100 多万户，而北方人口有 230 多万户，是南方的两倍多。

7. 下列是某同学复习中国古代对外交往专题时归纳的“古代对外友好交往”专题内容，下列选项与这一主题不符的是

- A. 张骞——出使西域，开辟丝绸之路 B. 鉴真——东渡日本，传播大唐文化
C. 郑和——七下西洋，促进亚非交流 D. 郑成功——收复台湾，抗击外来侵略

8. 中国中医研究院终身研究员兼首席研究员屠呦呦。2015 年 10 月，因发现青蒿素治疗疟疾的新疗法获诺贝尔生理学或医学奖。这是中国科学家首次在中国本土进行的科学研究获诺贝尔科学奖，是中国医学界迄今为止获得的最高奖项。屠呦呦的获奖推动了中国中医的发展，介绍中医知识的图书纷纷摆在书店的显要位置，下列图书属于中医方面的是



- A. ①② B. ②③ C. ①④ D. ③④

9. 历史探究小组搜集了四幅我国新疆地区不同历史时期的地图，内容当中符合元朝的是



10. “祝您家庭顺治，生活康熙，人品雍正，事业乾隆，万事嘉庆，前途道光，财富咸丰，内外同治，千秋光绪，万众宣统！”这条贺年短信所引用的皇帝均属于

- A. 唐朝 B. 元朝 C. 明朝 D. 清朝

11. 1941 年北京人头盖骨被移交美国海军陆战队。同年 12 月，该部队所乘火车驶往秦皇岛，但由于太平洋战争爆发，日军俘获了北京、天津的美国兵，五个北京人头盖骨连同一批化石从此下落不明。据不完全统计，目前在 47 个国家 2000 多个博物馆中收藏的中国文物 167 万件，多数是战争时期的掠夺品。下列的侵华战争导致北京文物大量流失的是



①鸦片战争 ②第二次鸦片战争 ③甲午中日战争 ④八国联军侵华 ⑤抗日战争

A. ①②③ B. ②③④ C. ②④⑤ D. ①④⑤

12. 鸦片战争后先进的中国人不断探索救国方案，右图是网友归纳的救国方案截图，虽不是很准确，但有些道理。其中的“康有为说：我变”，是指康有为等人效仿日、俄而开展



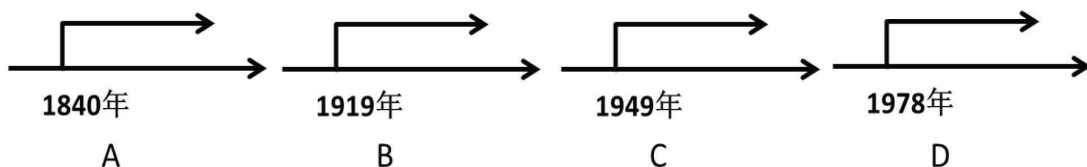
A. 洋务运动 B. 虎门销烟
C. 辛亥革命 D. 戊戌变法

13. 孙中山是民主革命的先行者，下面的史实论证这一观点的是

①1894 年上书李鸿章支持改良。②1894 年 11 月在檀香山建立第一个革命组织兴中会，提出“驱除鞑虏，恢复中华，建立立合众政府”。③1905 年在日本东京成立第一个资产阶级革命政党——同盟会。④1912 年元旦就任中华民国临时大总统。

A. ①②③④ B. ①②④ C. ①③④ D. ②③④

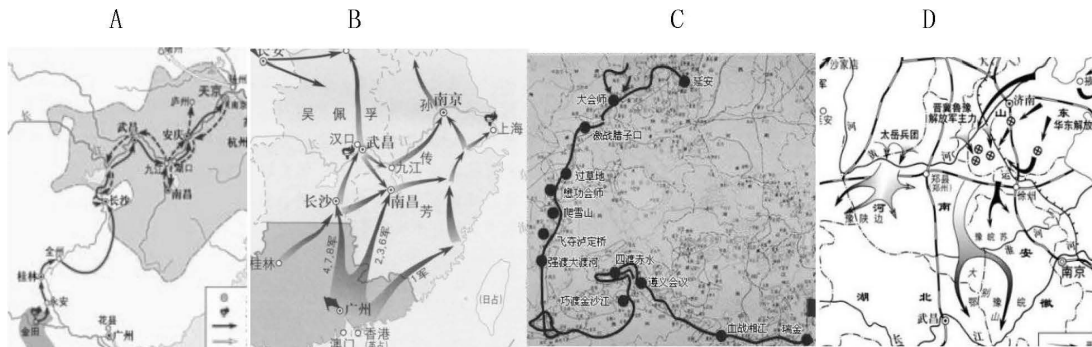
14. 有些历史学家称赞“五四运动”为中国近代史上第一次真正的群众运动。是一次彻底地不妥协地反帝反封建的革命运动。五四运动成为中国新民主主义革命的开端。下面的历史时间轴，标志着新主义开端的是



15. 海默著《中国城市批判》是中国第一部城市文化反思与命运拯救读本，书中对一座城市的文化符号描述为：石头城 大屠杀 太平天国 六朝古都 金陵 夫子庙……这座城市是

A. 南京 B. 洛阳 C. 西安 D. 北京

16. 小明同学在学习中国近代史时，搜集了几张革命形势图，发现近代的几次革命都是从南往北发展这一特点，他搜集的革命形势图中反映北伐战争的是



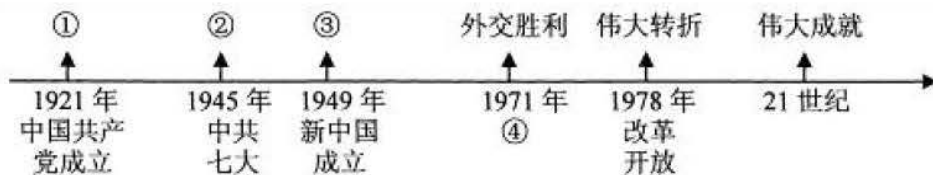
17. 右图是 1945 年 8 月的某次欢迎宴会上的照片，照片中的历史人物是毛泽东和蒋介石，该照片做作为历史资料，可以印证的历史事件是

A. 国民党一大召开 B. 西安事变
C. 重庆谈判 D. 北京和谈



18. 某同学在学习中国共产党 90 多年的奋斗历程时，自制了历史年代尺，其中④处应该填写的是





- A. 开天辟地 B. 当家作主 C. 胜利曙光 D. 重返联合国

19. 2018年3月3—20日,两会召开(中华人民共和国全国人民代表大会;中国人民政治协商会议),“两会”代表是代表着广大选民的一种利益,代表着选民在召开两会期间,向政府有关部门提出选民们自己的意见和要求。3月11日全体会议代表高票表决通过《中华人民共和国宪法修正案》。此次修改宪法是继1954年宪法正式颁布后国家最高立法机关对国家根本法的第5次修改。其中“五四宪法”是新中国历史上第一部社会主义性质宪法。颁布“五四宪法”是

- A. 1949年新政协 B. 1954年一届人大 C. 中共十一届三中全会 D. 中共十二大

20. 阅读下列表格,造成1978年以后我国主要农产品产量大幅度增长的主要原因是
主要农产品产量(单位:百万吨)

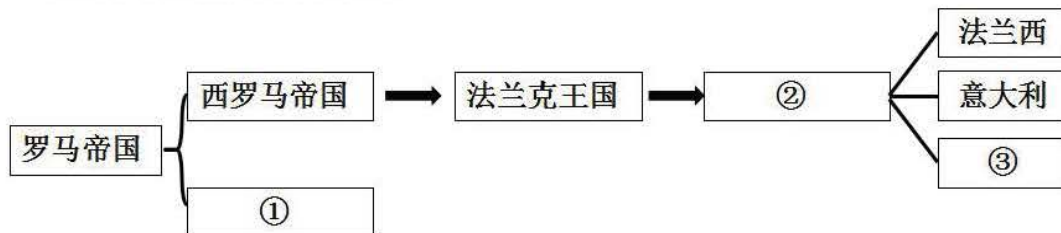
	1952年	1957年	1965年	1978年	1980年	1984年	1987年
粮食	163.42	195.05	194.53	304.77	320.56	407.31	402.41
棉花	1.30	1.64	2.09	2.16	2.07	3.25	4.19
油料作物	4.19	4.19	3.62	5.21	7.69	11.91	15.25
甘蔗	7.11	10.39	13.39	21.11	22.80	39.51	46.85

- A. 土地改革 B. 对农业的社会主义改造 C. 农村经济体制改革 D. 对外开放

21. 下列表格中,历史现象与原因的对应关系正确的是

	历史现象	原因
A	公元前5世纪后半期,雅典一度达到全盛	查理·马特改革
B	632年,阿拉伯半岛基本统一,统一的阿拉伯国家建立	穆罕默德创立伊斯兰教
C	阿拉伯数字传遍了全世界	《马可·波罗行纪》
D	1453年,君士坦丁堡陷落,拜占庭帝国灭亡	亚历山大大帝东征

22. 下面是某同学学完世界古代史之后制作的有关欧洲国家演变的思维导图,下列选项将序号对应的国家或王朝正确的是



- A. ①拜占庭帝国②查理曼帝国③德意志 B. ①拜占庭帝国②波斯帝国③英格兰
C. ①亚历山大帝国②阿拉伯帝国③荷兰 D. ①阿拉伯帝国②德意志帝国③俄罗斯帝国

23. 历史兴趣小组学习完文艺复兴之后,设计了文艺复兴时期的美术展板,下列图片适合此展板内容的是





①《格尔尼卡》 ②《草地上的圣母》 ③《蒙娜丽莎》 ④《清明上河图》

- A. ①② B. ②③ C. ③④ D. ①④


24. 某校历史兴趣学习小组的以民主与法制为主题进行探究，搜集了一下历史文献，它们按时间先后顺序排列正确的是



①《独立宣言》 ②《权利法案》 ③《人权宣言》 ④《拿破仑法典》

- A. ①②③④ B. ③②①④ C. ②①③④ D. ④②①③

25. 1848年《共产党宣言》发表，标志着马克思主义诞生。《共产党宣言》的作者是



①

②

③

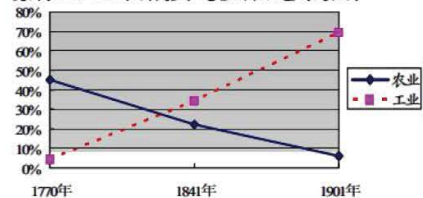
④

- A. ①② B. ③④ C. ②③ D. ①④

26. 右图所示现象的出现，主要是由于

- A. 文艺复兴的推动
B. 英国的殖民扩张
C. 英国确立君主立宪制
D. 英国开展了工业革命


英国农业、工业在国民生产总值所占比重的变化图



27. 右图这组群雕完成于 1941 年，代表了美国此前的建国 150

年历史中最伟大的四位总统：从左至右分别是美国国父华盛顿、《独立宣言》起草人杰弗逊、和平使者西奥多·罗斯福、黑人之父林肯。林肯被称为“黑人之父”是由于

- A. 他领导北美人民摆脱英国殖民统治赢得独立。
B. 在他的组织下颁布了 1787 年宪法。



- C. 他领导了南北战争，在战争中废除了黑人奴隶制度。
 D. 面对大危机他实施“新政”，使美国渡过了危机。
28. 十九世纪英国首相帕麦斯顿曾说：国与国之间没有永远的朋友，只有永恒的利益。下列国家在两次大战中始终处于敌对状态的是：①英国②法国③德国④日本⑤意大利
 A. ①②③ B. ②③④ C. ①④⑤ D. ①③⑤
29. 某同学在研究性学习活动中找到了以下三幅图片，他研究的主题是



古巴导弹危机



北约标志



修建柏林墙

- A. 美苏两极对峙 B. 殖民体系瓦解
 C. 欧洲国家联合 D. 世界格局多极化
30. 能源是经济发展的重要保障。伴随着科技的发明创造，能源逐渐被人类开发和利用。下列能源利用时间顺序，排列正确的一组是
 A. 煤炭 - - 电力 - - 石油 - - 原子能 B. 煤炭 - - 石油 - - 电力 - - 原子能
 C. 煤炭 - - 电力 - - 原子能 - - 石油 D. 煤炭 - - 石油 - - 原子能 - - 电力

第二部分（非选择题 45 分）

31. （19 分）2015 年，北京市教委启动实施初中综合社会实践活动，为此市教委制定下发《关于开展初中综合社会实践活动的通知》和《初中综合社会实践活动考核实施意见》，要求初中生每学年应完成不少于 10 次的综合社会实践活动，……下面是某中学历史组开展的综合实践活动。

活动一：参观周口店遗址博物馆

周口店遗址博物馆坐落在北京城西南房山区周口店龙骨山脚下，是一座古人类遗址博物馆，始建于 1953 年。1929 年，中国古人类学家裴文中先主在龙骨山发掘出第一颗完整的“北京猿人”头盖骨化石，震撼了全世界。世界文化遗产、全国重点文物保护单位、全国百家爱国主义教育示范基地。距北京市区约 48 公里。是世界著名的古人类和古脊椎动物考古遗址，是“北京人”的发祥地。



材料一：下面是北京人生活情景图片。



使用火

制作工具

采集

狩猎

(1) 上面图片中促使北京人的体质和生存条件得到改善，促进人类进化成为人类进化史上的里程碑的是_____。(1分)

活动二：参观西周燕都遗址博物馆

西周燕都遗址，因其发现地被称为琉璃河遗址。琉璃河遗址是迄今西周考古中发现的唯一一处城址、宫殿区和诸侯墓地同时并存的遗址，出土的大量带“匱侯”铭文的器物，证明了这里就是三千多年前燕国的都城所在地。遗址于1979年列为北京市文物保护单位，1988年被国务院颁布为第三批国家重点文物保护单位，并被列入“二十世纪中国100项考古大发现”，具有很高的历史和科学价值。



材料二：董鼎，1975年出土于北京琉璃河遗址贵族墓地，为西周早期青铜器。是北京地区出土青铜礼器中体形最大、最重的一件，代表着北京地区青铜文化发展的最高水平。董鼎高62厘米，重41.5公斤，内壁铸有铭文4行26字，记述了董奉燕侯之命去宗周（西周首都现西安附近），向太保——召公进贡当地一些特色产品，得到召公的赏赐，为纪念此荣誉特做此器。证实了文献中关于召公奭以其长子就封于燕，而自己留在宗周辅弼王室的记载，填补了文献史料对西周燕国记载的不足，进一步证实了北京琉璃河地区即当时古燕国的始封地。



(2) 依据材料二董鼎铭文的内容印证了西周治理地方什么制度？(1分) 董鼎的发现有什么意义？(2分)

活动三：游学活动

古都指古代王朝的政治中心，也往往是其经济和文化中心，因此，它的设置应该比较稳定。但随着国家政治、经济的发展以及向外拓张形势的需要，京都常常从旧都迁往更为合适的新地。在中国历史上，不仅许多政权在自身发展中经历了京都位置的逐步转移，而且从整体看，历代京都还呈现出先以东西向迁移为主，后以南北向交替的位置变换。京都的迁移还必须考虑各种地理因素。中国历史上统一王朝或者在全局范围看呈鼎立之势的大的政权的首都，又称都、都城、国都、京城。

某中学决定在暑期开展游学活动，确定的主题古都探寻。并且确定西安、南京、洛阳三座城市作为游学目的地。

(3) 小明为准备游学活动搜集了三座城市的一些资料，其中搜集了三张图片，结合所学下面三张图片分别对应上述三座城市是①_____②_____③_____。(3分)



①兵马俑



②白马寺



③秦淮河

(4) 结合古都的概念，效仿下面古都西安的介绍，简述北京成为四大古都之一的依据。(3分)

西安，古称长安、京兆，是中华文明的发祥地之一，中华文化的杰出代表，是丝绸之路的东方起点之一，历史上最为强盛的周、汉、隋、唐等朝代均崛起于关中并正式建都于西安，是十三朝古都，西安是中国古代大王朝文治武功的顶峰。西安也是中国古代表产生盛世最多的古都：“成康之治、文景之治、汉武盛世、昭宣盛世、开皇盛世、贞观之治、永徽之治、开元盛世”等等。

活动四：参观中国人民抗日战争纪念馆

中国人民抗日战争纪念馆位于北京市丰台区宛平城内。是全国唯一一座全面反映中国人民伟大抗日战争历史的大型综合性专题纪念馆，国家一级博物馆、全国优秀爱国主义教育示范基地、全国百家红色旅游经典景区，全国首批国家级抗战纪念设施、遗址，是国际二战博物馆协会。



材料三：一寸河山一寸血。历史永远铭记 1937 年 7 月 7 日的那个晚上，日本开始发动全面侵华战争，枪声唤醒了中华民族百年的沉睡。1937 年，日军炮轰宛平城和卢沟桥，发动了对中国的全面侵华战争。7 月 7 日的枪声宣告了全民族抗战的开始。这一天投下长达八年的暗夜，遮覆了 3500 多万同胞的尸首；这一天刻印着一个民族心灵上难以愈合的伤痛；这一天记录着中国人的难以忘却的仇恨和耻辱。卢沟桥的枪声揭开了中国人民全民抗战的序幕，中华民族自此欲火抗争直至赢得抗日战争的全面胜利；中华民族的百年衰败沉沦自此开始扭转，古老中国从此走向民族独立与自强。

(5) 抗日战争发生的时间和标志，(2分) 依据材料三说明中国抗日战争纪念馆馆址为什么选在宛平城内？(1分) 抗日战争胜利的伟大意义。(2分)

活动五：天安门广场观看升旗

天安门原名承天门，建于明永乐十五年，即 1417 年，至 1420 年建成。天安门城楼的设计师是苏州人蒯祥。从建成之始，天安门就被赋予“承天启运”、“受命于天”的政治意义。后来，明亡清兴，顺治皇帝重建城楼，取“受命于天，安邦治国”之意，改名为“天安门”。到了清亡之后，民国建立，天安门经历并见证了一次次政治巨变。

材料四：下面两张照片记录了曾经在天安门前发生的历史事件。



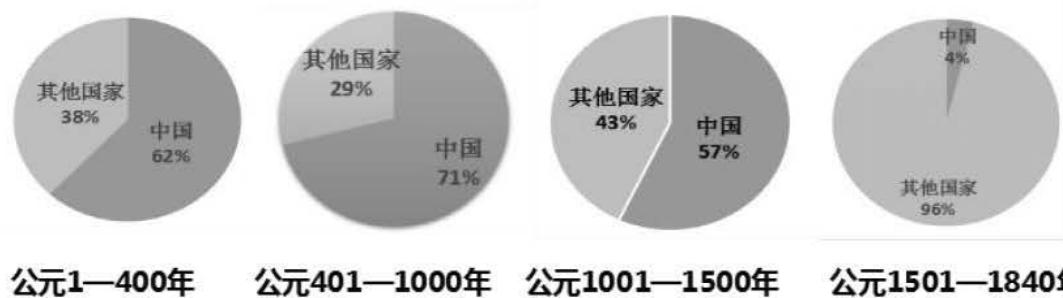
1919年5月4日，北平各界人士聚集在天安门前，举行抗议示威活动。

1949年10月1日，各界人民群众在天安门广场举行隆重的庆典活动。

(6) 写出上面两张照片所反映的历史事件。(2分) 从社会转型角度分别写出它们的历史意义。(2分)

32. (13分) 科技发展是大国崛起的重要因素，崛起后的大国影响着世界格局的发展演变。阅读下列材料，回答问题。

材料一 公元1~1840年中国古代科技发明在世界科技发明中的比例



——依据人教版《普通高中历史必修③》绘制

(1) 根据材料一并结合所学知识，指出中国古代科技在世界科技史上的地位变化情况。(2分)

材料二：美国学者罗伯特·坦普尔在著名的《中国，文明的国度》一书中曾写道：“如果诺贝尔奖在中国的古代已经设立，各项奖金的得主，就会毫无争议地全都属于中国人。”当然，这是不可能的。

(2) 如果你是诺贝尔奖评委，你认为中国古代史上谁最有资格获得诺贝尔奖？(1分) 阐述你的理由？(2分)

材料三：“如果人们把整个人类社会的演进用12个小时来表示，那么现代工业时代只代表最后5分钟，而不是更多。”英国是最先发生这个5分钟事件的地方，工业革命可能是最初的关键几秒钟。正是这个革命使现代文明降临人间，人类开始从农业文明向工业文明过渡。实际上，欧洲领先于世界的并不是它的基督教信仰，也不是它的政治制度，而是它那辉煌灿烂的工业文明。

——马克垚主编《世界文明史》

(3) 材料三中的“最初的关键几秒钟”指什么？(1分) 列举“5分钟事件”中三例重大的发明。(3分)

材料四：美国专利制度起源于宪法第1条第8款规定国会拥有的第8项权利；即国会拥有：“为促进科学和实用技艺的进步，对作家和发明家的著作和发明，在一定期限内给予专利权

的保障。”这个思想在 1790 年和 1793 年法律中得到落实和完善，促进了专利申请的快速增长。1790-1811 年平均每年有发明专利 77 件，1820 年前后 200 件，1850 年 1000 件，1860 年超过 4000 件，，1841-1850 年共批准 6460 件，1851-1860 年为 25250 件。

……学术界认为，1840—1860 年是美国经济的加速发展时期，到这个世纪末，美国已经成为世界上仅次于英国的第二大工业国，经过内战后另一个 20 年的发展，美国成为了世界上第二大工业强国，在经过 20 年的世纪之交，美国已经成为世界第一工业强国。20 世纪“美国世纪”的基础是在 19 世纪奠定的。

——马克垚主编《世界文明史》

- (4) 依据材料四说明 20 世纪“美国世纪”的基础是在 19 世纪奠定的原因。(2 分)
(5) 从以上材料中你得到什么启示。(2 分)

33. (13 分) 人类只有一个地球，各国共处一个世界，要倡导“人类命运共同体”意识。阅读下列材料，回答问题。

材料一：1500 年以前，大西洋一直是一道栅栏，一个终点。但在 1500 年左右，它一变而成为一座桥梁，一个启程之地，其巨大的影响波及各方。一般看来，这一变化对欧洲人是有利的，但对他地方人则意味着灾难，如美洲由于欧洲传来的天花等疾病而人口大量减少，非洲出现跨大西洋的奴隶贸易，远至澳大利亚则是长期存在的文化和语言的毁灭。因此，旧的庆祝欧洲“海外发现”的描述，受到一些土著美洲人或非洲裔美洲人历史学家的广泛挑战。依据上述观点，哥伦布于 1492 年的首次出航美洲，与其说是开启了欧洲人扩张和征服的英雄历史，不如说是启动了可怕损失的历史。

——帕尔默主编《世界近现代史》

(1) 阅读材料一指出使大西洋由一道栅栏，一个终点，1500 年左右变成一座桥梁，一个启程之地的历史事件。(1 分) 如何评价这一历史事件(2 分)

(6) 材料二：回首最近 100 多年的历史，人类经历了血腥的热战、冰冷的冷战，也取得了惊人的发展、巨大的进步。上世纪上半叶以前，人类遭受了两次世界大战的劫难，那一代人最迫切的愿望，就是免于战争、缔造和平。上世纪五六十年代，殖民地人民普遍觉醒，他们最强劲的呼声，就是摆脱枷锁、争取独立。冷战结束后，各方最殷切的诉求，就是扩大合作、共同发展。

《共同构建人类命运共同体》——习近平主席在联合国日内瓦总部的演讲

(2) 为免于战争、缔造和平，二战后成立的维护世界和平的国际组织是什么？(1 分) 简述它的宗旨与作用。(3 分)

材料三：人类正处在大发展大变革大调整时期。世界多极化、经济全球化深入发展，社会信息化、文化多样化持续推进，新一轮科技革命和产业革命正在孕育成长，各国相互联系、相互依存，全球命运与共、休戚相关，和平力量的上升远远超过战争因素的增长，和平、发展、合作、共赢的时代潮流更加强劲。

同时，人类也正处在一个挑战层出不穷、风险日益增多的时代。世界经济增长乏力，金融危机阴云不散，发展鸿沟日益突出，兵戎相见时有发生，冷战思维和强权政治阴魂不散，恐怖主义、难民危机、重大传染性疾病、气候变化等非传统安全威胁持续蔓延。

《共同构建人类命运共同体》——习近平主席在联合国日内瓦总部的演讲

(3) 根据材料三概括共同构建人类命运共同体的原因。(4 分)

材料四：中国决不会以牺牲别国利益为代价来发展自己，中国发展不对任何国家构成威

一模参考答案:

选择题:

1.C 2.B 3.A 4.D 5.C 6.D 7.D 8.C 9.B 10.D 11.C 12.C 13.D 14. B 15.A
16.B 17.C 18.D 19.B 20.C 21.B 22.A 23.B 24.C 25.A 26.D 27.C 28.A 29.A 30.A
31(1)使用火(1分)

(2)分封制(1分)

是北京地区出土青铜礼器中体型最大,最重的一件,代表着北京地区青铜文化发展的最高水平。(1分)
填补了文献史料对西周燕国记载的不足,进一步证实了北京琉璃河地区即当时古燕国的始封地。(1分)

(3)①西安②洛阳③南京(3分)

(4)北京:周口店北京人遗址是世界上最重要的原始人类之一。(1分)西周时成为周朝的诸侯国之一的燕国的都城。(1分)自中国金朝起成为古代中国首都——中都。(1分)自元朝起,开始成为全中国的首都。(1分)明清时期相继在前朝的基础上进行了一些修缮和扩建,成为全中国的首都(2分)北京有着3000余年的建城史和905余年的建都史。自秦汉以来北京地区一直是中国北方的军事和商业重镇。(1分)。答出任意3点即可得3分。

(5)时间:1931年9月18日(1分)标志:“九一八”事件(1分)

因为抗日战争全面爆发的标志七七事变(卢沟桥事变)发生在此(1分)

意义:抗日战争是一百多年来中国人民反对帝国主义侵略第一次取得完全胜利的民族解放战争。(1分)抗战的胜利洗雪了近代以来的民族耻辱,抗日战争成为中华民族由衰败到重新振兴的转折点。(1分)抗日战争是世界反法西斯战争的重要组成部分,中华民族在抗日战争期间付出了重大的民族牺牲,为世界反法西斯战争的胜利做出了重大贡献。(1分)

答出:提高国际地位;(1分)促成民族觉醒,提高民族自尊自信;(1分)为国家的独立、民族的解放奠定了基础,中国人民的革命事业由此走向胜利。(1分)(答出任意2点即可得满分)

(6)五四运动(1分)、开国大典(1分)

五四运动标志着旧民主主义时代的结束和新民主主义革命的开始。(1分)新中国成立标志着中国历史进入新民主主义向社会主义过渡的新时期。(1分)

32、(1)中国古代科技从领先世界到1500年以后停滞不前(2分)

(2)人名(中国古代科学家)(1分)答出科学家的主要发明或成就(1分)地位(1分)。

(3)工业革命(1分)

任意写出三项工业革命后的三项科技成就即可得3分。

(4)以法律的形式保护发明家的专利。(1分)这种思想在社会中得到落实和完善使发明家的大量发明专利快速增长,从而促进经济增长。(1分)

(5)言之成理就可的2分

(1)新航路开辟(1分)

评价:对欧洲:促进欧洲经济的发展和和社会转变。(1分)对美洲和非洲来:带来了灭顶之灾。(1分)(答出相关新航路的评价诸如世界紧密联系,欧洲贸易中心转移、商业革命、价格革命等的每点1分,不超过2分)

(2)联合国(1分)

维护世界和平与安全,发展国家之间的友好关系;帮助各国共同努力,改善贫困人民的生活,战胜饥饿、疾病和扫除文盲,并鼓励尊重彼此的权利和自由;成为协调各国行动,实现上述目标的中心。(1分)

(3)人类正处在大发展大调整时期,需要各国相互联系、相互依存,全球命运与共。(1分)人类处在一个挑战层出不穷,风险日益增多的时代。(1分)

(4)人类只有一个地球,各国共处一个世界,和平、发展、合作、共赢是人类可持续发展的道路。(2分)

胁，中国永远不称霸，永远不搞扩张。只有那些习惯与威胁他人的人，才会把所有人都看成是威胁……

中国将继续高举和平、发展、合作、共赢的旗帜，始终不渝走和平发展道路、奉行互利共赢的开放战略。……中国将继续积极参与全球治理体系变革和建设，为世界贡献更多的中国智慧、中国方案、中国力量，推动建设持久和平、普遍安全、共同繁荣、开放包容、清洁美丽的世界，让人类命运共同体建设的阳光普照世界！

——习近平在十三届人大一次会议闭幕会讲话

(4) 依据材料四谈谈你对人类命运共同体的理解。(2分)

