



北京市燕山地区 2020 年初中毕业年级质量监测 (二)

历史试卷

考生须知	1. 本试卷共 12 页, 34 道小题, 满分 90 分。考试时间 90 分钟。 2. 在试卷和答题卡(纸)上准确填写学校名称、姓名和教育 ID。 3. 试题答案一律书写在答题卡(纸)上, 在试卷上作答无效。 4. 在答题卡(纸)上, 选择题用 2B 铅笔作答, 其他试题用黑色字迹签字笔作答。 5. 考试结束, 将本试卷、答题卡(纸)和草稿纸一并交回。
------	--

第一部分 (选择题 45 分)

本部分共 30 小题, 每小题 1.5 分, 共 45 分。在每小题列出的四个选项中选出最符合题目要求的一项。

1. 位于拒马河畔的北京房山镇江营遗址, 是华北地区重要的新石器时代文化遗址。在遗址上发现了上万年前的房址、窑穴, 出土了大量陶器、(见右图) 石器、骨器, 角器。镇江营遗址年代之久远, 文化延续性之强, 在北京地区绝无仅有。下列遗址中属于同时代的是:



- A. 元谋遗址 B. 北京人遗址 C. 蓝田遗址 D. 半坡遗址
2. 下列中国古代王朝中被北方少数民族政权灭亡的有: ①西周 ②唐朝 ③北宋 ④明朝
- A. ①② B. ①③ C. ②③ D. ①④

3. 清人吴文锡描述中国古代一项水利工程: “龙是何年伏, 江流滚滚来。神功名永著, 山势斧分开。作堰敢辞瘁, 慰农愧少才。眷言秦太守, 一步一低回。”此诗的描述的是:



A. 万里长城

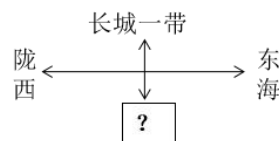
B. 京杭大运河

C. 都江堰

D. 灵渠

4. 右图是某学生学完“第 9 课 秦统一中国”制作的秦疆域的四至示意图, 结合所学“?”号处是:

- A. 南海 B. 海南 C. 万里石塘 D. 三沙市



5. 秦始皇、汉武帝、唐太宗是中国历史上具有雄才大略的代表性的封建帝王, 三位君主的主要政绩的共同点是:

- A. 都对统一的多民族国家作出了贡献 B. 都加强了对西藏地区的管辖
- C. 都推崇儒家思想 D. 都采取科举制选拔人才

6. 下列迁都促进少数民族封建化和民族交融的是:

- ①周平王迁都洛邑 ②孝文帝迁都洛阳 ③金朝迁都燕京 ④明成祖迁都北京
- A. ①② B. ②③ C. ③④ D. ①④

7. 下面表格是唐至清代南北方状元人数的统计。导致南北方状元数据变化的原因是:

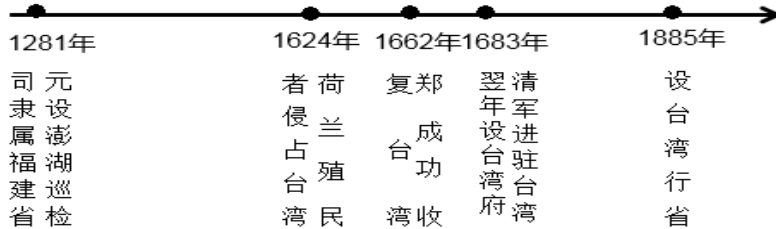
朝代	总数	北方	南方
唐朝	57	40	17
北宋	51	28	23



明朝	68	11	78
清朝	78	10	68

A. 经济重心的南移 B. 北方战乱南方稳定 C. 北方寒冷南方温暖 D. 政治中心的北移

8. 台湾自古是中国不可分割的领土，观察下面时间轴，计算台湾被荷兰强占，到归入清朝版图的时间是：



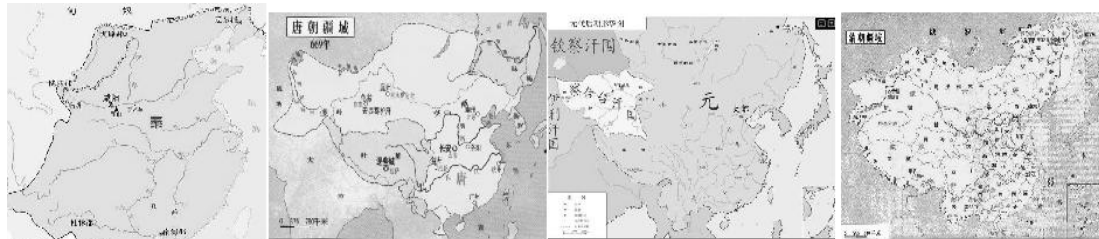
A. 38年 B. 60年 C. 59年 D. 261年

9. 中央机构不断调整贯穿中国古代史始终，下列中国古代中央机构对应错误的是：



A. ①——秦确立 B. ②——唐完善 C. ③——元强化 D. ④——清顶峰

10. 下面疆域图中奠定今天祖国疆域基础的是：



A. 秦朝 B. 唐朝 C. 元朝 D. 清朝

11. 右图是近代英国侵占香港示意图，结合所学按时间先后顺排列英国侵占香港地区的过程，正确的是：

- A. ②③①
- B. ①②③
- C. ①③②
- D. ③①②

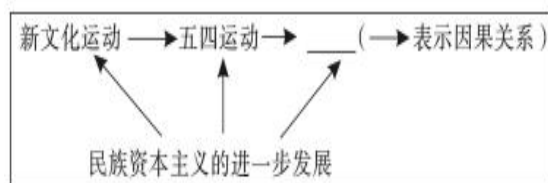


12. 美国汉学家芮玛丽这样评价某一阶段的“自强”运动：“不但一个王朝，而且一个文明看来已经崩溃了，但由于十九世纪六十年代的一些杰出人物的非凡努力，它们终于死里求生，再延续了六十年。”这场“自强”运动是：

A. 太平天国运动 B. 洋务运动 C. 戊戌变法运动 D. 辛亥革命

13. 依据逻辑进行推理，划线部分应该是：

- A. 辛亥革命
- B. 工农红军长征





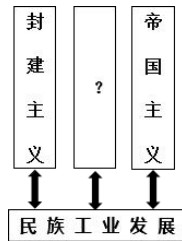
- C. 中国共产党的诞生
- D. 抗日战争

14. 干支纪年法是中国历法上自古以来就一直使用的纪年方法。下列是庚子年发生的历史事件，错误的是：



15. 右图是某同学学完民族资本主义的发展制作的示意图，结合所学，? 号处是：

- A. 法西斯主义
- B. 自由资本主义
- C. 官僚资本主义
- D. 恐怖主义



16. 右图是《申报》中华民国三十四年×月×日刊登的《非常措置收拾时局 日皇颁布和平诏书明政府接受中美苏共同宣言》。根据标题结合所学，《申报》发行的时间是：

- A. 1945年8月15日
- B. 1946年9月9日
- C. 1945年9月2日
- D. 1944年8月15日



17. 1949年3月23日，中共中央和毛泽东同志离开西柏坡前往北平，25日进驻香山双清别墅，这里成为党中央所在地。直到9月21日移居中海菊香书屋，毛泽东同志在香山共居住了181天，留下了数不尽的红色印记。毛泽东和党中央在香山双清别墅决策的历史事件是：

- ①平津战役 ②渡江战役 ③召开政治协商会议 ④开国大典
- A. ①②③ B. ②③④ C. ①②④ D. ①③④

18. 为社会主义民主政治奠定基础的是：

- A. 人民代表大会制度 B. 政治协商制度 C. 民族区域自治制度 D. 一国两制

19. 十一届三中全会后，中国迈出了对外开放的步伐，下列是我国对外开放格局形成（右图）的过程正确的是：

- A. 经济特区—沿海经济开放区—沿海开放城市—内地
- B. 内地—沿海经济开放区—沿海开放城市—经济特区
- C. 经济特区—沿海开放城市—沿海经济开放区—内地
- D. 经济特区—沿海经济开放区—内地—沿海开放城市



20. 2020年初，一场新型冠状病毒疫情从武汉波及全国，在疫情的防控战役中，钟南山、李兰娟等一批医学科学家发挥了重大作用。下列科学家与钟南山、李兰娟同属一个领域的是：

- A. 袁隆平 B. 邓稼先 C. 焦裕禄 D. 屠呦呦

21. “13世纪的欧洲，教权已经远胜于王权，然而经历了黑死病以后，教皇的权力受到了明显的削弱，教会无休止的贪婪索取和骄奢淫逸引起了社会各阶层的不满，各国君主利用社会的不满情绪加强对教会的遏制。”该材料是下列哪个历史事件的背景之一：

- A. 新航路开辟 B. 文艺复兴 C. 启蒙运动 D. 马克思主义诞生

22. 美国学者罗伯特·帕尔默把美国独立战争和同一时期发生在北大西洋东岸的政治事变结合起来，将18世纪最后40年命名为“民主革命的时代”。这一时期在北大西洋东岸产生的民主革命成果是：

- A. 《权利法案》 B. 《独立宣言》 C. 《人权宣言》 D. 《1787年宪法》



23. 科技创新改变世界面貌。下列对应关系正确的是:

- A. 改良蒸汽机的出现——“电气时代”的到来
- B. 发电机、电动机问世——工业社会的开始
- C. 内燃机的发明和使用——“铁路时代”的开启
- D. 计算机网络技术诞生——信息社会的到来

24. 下列是 1789 年法国大革命和俄国 1917 年十月革命相比共同点叙述错误的是:

- A. 都是资产阶级民主革命
- B. 都引起了外国的武装干涉
- C. 都具有同样的革命政治模式
- D. 都取得了胜利

25. 针对席卷全球新型冠状病毒肺炎疫情, 中国采取有效的防控措施取得了阶段性的胜利, 为全世界抗击疫情树立了榜样, 探索出了成功经验。一些西方国家采取了“群体免疫”策略, 以牺牲年老体弱者的生命为代价, 换来人群整体免疫水平的上升。这种体现优胜略汰, 适者生存, 自然选择的进化论的最早提出者是:

- A. 牛顿
- B. 达尔文
- C. 爱因斯坦
- D. 甘地

26. 1929 年爆发的经济危机“使美国的资本输出停止了, 美国人不但不再向欧洲投资, 而且出售他们所持有的外国证券。这就使德国战后的复兴失去了基础。因而也间接地使大部分欧洲的战后复兴失去了基础。美国人在收入下降的情况下, 不在购买外国货物; 各地的人们看到他们的美国市场消失了, 价格也随之下跌了。”对这一史料理解正确的是:

- A. 美国控制了资本主义世界经济命脉
- B. 美国的措施加剧了资本主义世界经济危机恶化
- C. 美国成为资本主义的霸主
- D. 资本主义世界市场破产

27. 学习历史需要正确地区分史实与观点并认识二者之间的关系。下列属于历史观点的是:

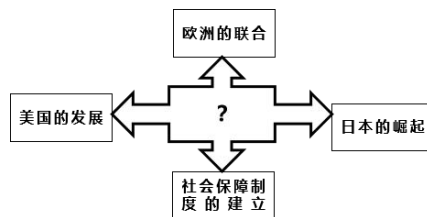
- A. 1933 年 6 月罗斯福颁布《国家工业复兴法》。
- B. 1933 年希特勒出任德国总理, 开始掌握国家大权。
- C. 1932 年 3 月 9 日, 在日本扶植下溥仪在长春成立伪满洲国。
- D. 1939 年 9 月 1 日德军偷袭波兰, 英、法被迫宣战, 二战全面爆发。

28. 右图是 1943 年有关二战形势的漫画, 以下是对该漫画的解读错误的是:



- A. 世界反法西斯联盟已经形成
- B. 德国进入战略防御阶段
- C. 德国陷入东西夹击之中
- D. 苏联进入战略反攻阶段

29. 右图是某同学学完一节课后制作的思维导图, 结合所学, “?”号处是:



- A. 冷战
- B. 二战后资本主义的新变化
- C. 亚非拉国家的新发展
- D. 不断发展的现代社会

30. 新冠肺炎疫情全球蔓延, 给人民生命安全和身体健康带来巨大威胁, 在应对这场全球公共卫生危机的过程中, 构建人类命运共同体的迫切性和重要性更加凸显。下列防控措施践行人类命运共共同体理念的是:

- ① 为重灾区捐款捐物
- ② 召回海外公民
- ③ 驱逐非国籍人口
- ④ 派遣援助医疗队
- ⑤ 加强国际合作, 应对共同挑战

- A. ①②③
- B. ①③⑤
- C. ①②④
- D. ①④⑤



第二部分材料分析题（共 45 分）

31、（11 分）根据古人的解释，所谓“疫”就是指“民皆疾也”。意即凡能传染的病都通称为“疫”。至于“瘟”则是指烈性传染病。可以在禽畜动物与人之间相互感染，基于此，古代中国把传染病、流行病通称为“瘟疫”。阅读材料，结合所学回答下列问题：

材料 1、东汉末年，战乱频繁，不断的战争导致瘟疫流行。东汉王朝的各级地方官不断接到大量的病例报告。有的村庄甚至几乎全部死亡，地方官不敢怠慢，赶紧将这些情况上报朝廷，但是令他们失望的是，这时期的朝廷却陷入腐败和混乱之中，对老百姓的生死根本无暇顾及，结果由于缺乏有效的防治。瘟疫的范围进一步扩大。

（1）根据材料 1 概括东汉末年瘟疫范围进一步扩大的原因。（2 分）

材料 2、张仲景出生在没落的官僚家庭，由于家庭的特殊条件，使他从小有机会接触到许多典籍。他也笃实好学，博览群书，并且酷爱医学。他从史书上看到扁鹊望诊齐桓侯的故事，对扁鹊高超的医术非常钦佩。从此他对医学发生了浓厚的兴趣，这也为他后来成为一代医学大师奠定了基础。……面对瘟疫的肆虐，张仲景痛下决心，潜心研究伤寒病的诊治，一定要制服伤寒症这个瘟神。他除了“勤求古训”，还“博采众方”，广泛搜集古今治病的有效方药，甚至民间验方也尽力搜集。终于写成了 16 卷医学巨著《伤寒杂病论》。

（2）根据材料 2 概括张仲景成为“医圣”条件。（2 分）

材料 3、1918 年 9 月，流感已经传入费城。在医疗专家强烈的反对下，费城政府依然组织了发行战争公债的宣传大游行，数十万人的队伍绵延 3 公里。游行结束 72 小时后，费城全部医院都爆满，等着住院的病人排起长长的队伍。仅 1918 年 10 月 10 日，费城就有 759 人死于流感。整个 10 月，20 万美国人因流感死去。

（3）根据材料 3 概括 1918 年流感在美国大规模爆发的原因。（1 分）

材料 4、1918 年 4 月，英军就有 3.1 万人染病。到 5 月，英国皇家海军有 10% 的部队感染了流感，整整 3 周时间无法作战。法国因流感死亡人数是 16.6 万人。6 月上旬，在德军发动猛攻的当口，近 2000 名法军因感染流感不得不撤出战场。德国因流感死亡人数是 22.5 万人。……流感死亡率最高的是年轻人，而这些人正是支撑战争的主力。各国政府都急于摆脱战争，集中全国力量用于对抗这个更恐怖的敌人。

1918 年 11 月，德国基尔港水兵起义，此后起义遍及全国，德国的战争机器首先熄火了。德皇威廉外逃，德国政府向协约国求和，而协约国也已经没有力气再打下去了。

（4）根据材料 4 概括 1918 年流感对第一次世界大战进程的影响。（2 分）

材料 5、“沧海横流，方显英雄本色。”在这场严峻斗争中，各级党组织和广大党员、干部冲锋在前、顽强拼搏，充分发挥了战斗堡垒作用和先锋模范作用。广大医务工作者义无反顾、日夜奋战，展现了救死扶伤、医者仁心的崇高精神。人民解放军指战员闻令而动、敢打硬仗，展现了人民子弟兵忠于党、忠于人民的政治品格。广大人民群众众志成城、守望相助，特别是武汉人民和湖北人民识大体顾大局、自觉配合疫情防控工作，展现了坚忍不拔的顽强斗志。广大公安民警、疾控工作人员、社区工作人员等坚守岗位、日夜值守，广大新闻工作者不畏艰险、深入一线，广大志愿者等真诚奉献、不辞辛劳，为疫情防控作出了重大贡献。

习近平《在统筹推进新冠肺炎疫情防控和经济社会发展工作部署会议上的讲话》

（5）根据材料 5 概括中国人民在战胜新冠肺炎疫情过程中体现的民族精神。（2 分）

（6）根据上述材料结合当今中国防控取得的阶段性成果以及世界各国防控的现状谈谈你的看法（2 分）”

32、（11分）在历史学习的过程中，我们可以通过多种途径获得历史知识、归纳学习方法、反思历史教训。参照下列历史学习途径，阅读材料，回答问题。（12分）

途径一：目录是一本书的索引，起到提纲挈领作用。从目录中我们可以提取许多历史信息。

第一节 欧美的民族民主运动 改革运动 一、英国1824-1867年的改革 二、俾斯麦与德国统一 三、意大利统一 四、俄国1861年改革 五、美国内战 第二节 自由主义思潮 第三节 日本明治维新 一、明治维新的背景 二、1867-1868年的革命 三、明治政府的建国三大政策 四、近代中日两国的社会变革一成一败的原因 第四节 资本主义入侵下的亚非拉诸国 摘自吴于廑 齐世荣主编《世界史》
--

（1）参考上图中目录，概括此时期世界资本主义发展的主要特征是什么？（1分）

（2）仿照下面的示例，为这一单元设计两道思考题。（2分）

（要求：围绕单元主题或国家进行多角度、多层次设问，但题型不能雷同。）

示例：1、比较德、意统一的异同。

2、结合所学概括建立资本主义制度的方式有几种方式？各举例说明，并说明采取这种方式的原因。

途径二：历史图片包含了丰富的历史信息，也是我们获取历史信息的重要途径之一。请阅读下列三幅不同历史时期的图片回答问题。



图1.新航路开辟路线图



图2.三角贸易示意图




图3. 18世纪的英国纺织厂

（3）结合所学选择二幅图片反映的历史事实说明二者之间的内在关系？（2分）

途径三：研读史料是学习历史的一项基本技能。

1、凡未经议会同意，以国王权威停止法律或停止法律实施之僭越权力，为非法权力。

.....

4、凡未经议会准许，借口国王特权，为国王而征收，或供国王使用而征收金钱，超出议会准许之时限或方式者，皆为非法。

.....

6、除经议会同意外，平时在本王国内征募或维持常备军，皆属违法。

.....

——1689年英国《权利法案》

（4）根据上述《权利法案》的条款，在下面的表格中填写正确答案。（2分）它颁布的意义是什么？（1分）

第1条	①
第4条	财政权



(5) 请依据以上问题的探究, 结合所学知识归纳英国确立世界霸主的条件有哪些? (3分)

33、(11分) 读原著、学原文、悟原理。

材料1、资产阶级的这种发展的每一个阶段, 都伴随着相应的政治上进展。它在封建主统治下是被压迫的等级, 在公社里是武装的和自治的团体, 在一些地方组成独立的城市共和国, 在另一些地方组成君主国中的纳税的第三等级; 后来, 在工场手工业时期, 它是等级制君主国或专制君主国中同贵族抗衡的势力, 而且是大君主国的主要基础; 最后, 从大工业和世界市场建立的时候起, 它在现代的代议制国家里夺得了独占的政治统治。现代的国家政权不过是管理整个资产阶级的共同事务的委员会罢了。

马克思 恩格斯 1848年发表《共产党宣言》

(1) 根据材料1概括资产阶级在不同历史发展阶段的政治地位。(3分)

材料2、帝国主义的趋势之一, 即形成“食利国”、高利贷国的趋势愈来愈显著, 这种国家的资产阶级愈来愈依靠输出资本和“剪息票”为生。如果以为这一腐朽趋势排除了资本主义的迅速发展, 那就错了, 不, 在帝国主义时代。某些工业部门, 某些资产阶级阶层, 某些国家, 不同程度的时而表现出这种趋势, 时而又表现出那种趋势。整个来说, 资本主义发展比从前要快得多, 但是这种发展不仅一般的更不平衡了, 而且这种不平衡还特别表现在某些资本最雄厚的国家(英国)的腐朽上面。

列宁 1916年发表《帝国主义是资本主义的最高阶段》

(2) 根据材料2概括列宁关于帝国主义时期的经济发展特点。2分

材料3、人民是什么? 在中国, 在现阶段, 是工人阶级, 农民阶级, 城市小资产阶级和民族资产阶级。这些阶级在工人阶级和共产党的领导之下, 团结起来, 组成自己的国家, 选举自己的政府, 向着帝国主义的走狗即地主阶级和官僚资产阶级以及代表这些阶级的国民党反动派及其帮凶们实行专政, 实行独裁, ……对于人们内部, 则实行民主制度, 人民有言论集会结社等项的自由权。选举权, 只给人民, 不给反动派。这两方面, 对人民内部的民主方面和对反动派的专政方面, 互相结合起来, 就是人民民主专政。

毛泽东 1949年6月发表《论人民民主专政》

(3) 根据材料3结合所学说一说毛泽东发表该文的历史背景。(2分)

材料4、改革开放迈不开步子, 不敢闯, 说来说去就是怕资本主义的东西多了, 走了资本主义道路。要害是姓“资”还是姓“社”的问题。判断的标准, 应该主要看是否有利于发展社会主义社会的生产力, 是否有利于增强社会主义国家的综合国力, 是否有利于提高人民的生活水平。……计划多一点还是市场多一点, 不是社会主义与资本主义的本质区别。计划经济不等于社会主义, 资本主义也有计划; 市场经济不等于资本主义, 社会主义也有市场计划和市场都是经济手段。社会主义的本质, 是解放生产力, 发展生产力, 消灭剥削, 消除两极分化, 最终达到共同富裕。

1992年《邓小平视察南方谈话》

(4) 根据材料4结合所学概括邓小平视察南方谈话的内容。(2分)

材料5、我国稳定解决了十几亿人的温饱问题, 总体上实现小康, 不久将全面建成小康社会, 人民美好生活需要日益广泛, 不仅对物质文化生活提出了更高要求, 而且在民主、法治、公平、正义、安全、环境等方面的要求日益增长。同时, 我国社会生产力水平总体上显著提高, 社会生产能力在很多方面进入世界前列, 更加突出的问题是发展不平衡不充分, 这已经成为



满足人民日益增长的美好生活需要的主要制约因素。

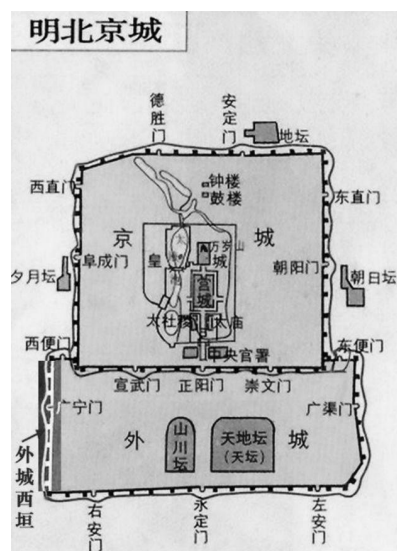
2017年10月习近平《中国共产党第十九次全国代表大会报告》

(5) 根据材料5概括中国特色社会主义新时代的主要矛盾。(2分)

34、(12分) 北京的“门”

材料1、明、清北京城从内至外共有宫城、皇城、内城和外城四重城。内城设九门、外城设七门、皇城设四门，故有“内九、外七、皇城四”之说。(见右图)



(1) 根据材料1中明北京城图，概括明北京内城(京城)门分布的特点。(1分)



材料2、明清北京内城门的名称。

序号	城门名称	功能	图片
①	安定门	为出兵征战得胜而归收兵之门。	
②	朝阳门	为走粮车，南方出产的粮食往北京调运，进城走的就是朝阳门。	
③	崇文门 (哈德门)	为走酒车之门，车到崇文门上税。	
④	德胜门	为出兵征战之门，走兵车。	
⑤	东直门	为九门中最贫之门，以郊外盆窑小贩，日用杂品占据瓮城为主走砖瓦、木材车。	
⑥	阜成门	为走煤车。门头沟一带是产煤之地，煤要进北京，走的就是阜成门。	
⑦	西直门	是明、清两代自玉泉山向皇宫送水的水车必经之门，因此又有“水门”之称。	



⑧	宣武门	宣武门外为菜市口刑场，犯人经刑部审核确定，从宣武门出去，在菜市口问斩，人称“死门”。	
⑨	正阳门 (前门)	是皇帝专用的，皇上每年两次出正阳门，一次是冬季，到天坛祭天，另一次是惊蛰，到先农坛去耕地。	

(2) 根据材料 1 对内城九门进行归类。(填序号) (3 分)

政治	
军事	
经济	

材料 3、被称为国门第一门的正阳门(前门)(1900 年)被八国联军摧毁,《辛丑条约》签订后,八国联军陆续撤出北京,但美军以“为了使使馆区的安全,有必要控制这个制高点”。强占正阳门。清廷外务部认为《辛丑条约》中无此条款,因此多次行文和美国驻华公使进行交涉,但均无结果。美国兵不但在前门城楼上架设重机枪俯视全城,而且还在城墙上设置了炮位,把前门城楼变成了美军的“要塞”。后几经交涉,于 1919 年 10 月 31 日达成协议,美军于 11 月 1 日交还正阳门城楼上的门禁权。



被八国联军火炮击毁正阳门箭楼

(3) 根据材料 3 从美军强占正阳门的事件中你得到的认识? (2 分) 结合所学说一说 1919 年 10 月交还正阳门的历史背景。(2 分)

材料 4、国民党高级将领傅作义,基于爱祖国、爱民族的热忱,以保护北平 200 万人民的生命财产和古都文物为重,于 1949 年 1 月接受了中国共产党关于和平解放北平的条件。1 月 31 日中午 12 时,在莫文骅将军指挥下,人民解放军第 41 军第 121 师分别从西直门、德胜门、复兴门等处进入北平与傅作义部队进行了交接,北平宣告和平解放。千年古都回到了人民手中,新的北平诞生了。毛泽东高度评价傅作义,“和平解放北平,宜生功劳很大,人民永远不会忘掉你。”

(4) 根据材料 4 概括“和平解放北平,宜生(傅作义)功劳很大”的原因。(2 分)

材料 5: 相隔百年的天安门前的两次阅兵



图1 八国联军侵入北京后进行阅兵



图2 2019年国庆70周年阅兵

(5) 根据材料 5 相隔百年的两次阅兵,谈谈你的感受。(2 分)





二模参考答案

选择题:

1. D 2.B 3.C 4.A 5.A 6.B 7.A 8.C 9.C 10.D
11. A 12.B 13.C 14.B 15.C 16.A 17.B 18.A 19.C 20.D
21. B 22.C 23.D 24.A 25.B 26.B 27.D 28.C 29.B 30.D

非选择题:

- 31、(1) 战乱频繁; 朝廷腐败与混乱, 对疫情缺少有效地控制。(2分)
(2) 家庭能够提供文化典籍; 自身笃实好学, 博览群书, 并且酷爱医学; 对医学有浓厚的兴趣; 潜心研究, 借鉴古今、民间的经验。(任意两点得2分)
(3) 政府不听专家建议, 组织游行, 导致流感大规模流行。(1分)
(4) 流感导致交战双方的兵力大量死亡, 使交战双方不得不结束战争。(2分)
(5) 同舟共济的民族精神。(言之成理即可得分)(2分)
(6) 言之成理即可得分
- 32、(1) 资本主义制度的拓展
(2) 略
(3) 图1图2: 新航路开辟后, 欧洲人便开始了早期的殖民扩张; 英国由于优越的地理位置, 1588年英国战胜西班牙的“无敌舰队”成为海上霸主, 逐步控制了通往非洲、美洲的贸易, 形成了以贩卖黑奴为中心的“三角贸易”。
图1图3: 新航路开辟后, 欧洲人便开始了早期的殖民扩张; 英国通过殖民扩成为最大殖民国家。市场和原料产地的扩大, 为英国工业革命的产生提供了条件, 工业革命使生产效率大大提高, 又进一步推动了英国的殖民扩张运动。
图2图3: 1588年英国战胜西班牙的“无敌舰队”成为海上霸主, 逐步控制了通往非洲、美洲的贸易, 形成了以贩卖黑奴为中心的“三角贸易”。随着市场和原料产地的扩大, 促进了英国工业革命的产生, 生产效率大大提高, 又进一步推动了英国的殖民扩张运动。
(4) 立法权、军权。为议会限制王权提供法律保障; 使英国确立了议会在国家政治生活中的最高地位, 逐渐确立君主立宪制。
(5) 政治上, 资本主义制度的确立, 并随着社会的发展不断调整,
经济上: 工业革命促进了生产力的发展, 大大提高了英国的综合国力。
对外关系: 通过殖民扩张自诩为“如不落帝国”, 成为最大的殖民国家。
- 33、(1) 封建主统治下, 是被压迫阶级; 在工场手工业时期, 是同封建贵族相抗衡的力量, 是封建国家的基础; 在大工业时代, 是统治阶级。
(2) 以资本输出和高利贷为生, 经济发展加快, 但各国之间不平衡性加强。
(3) 通过三大战役和渡江战役, 国民党统治已被推翻。新中国即将诞生。
(4) 要加快改革开放的步伐, 不要纠缠于姓“资”还是姓“社”的问题讨论。改革开放的判断标准主要看是否有利于发展社会主义社会的生产力, 是否有利于增强社会主义国家的综合国力, 是否有利于提高人民的生活水平。计划和市场不是社会主义和资本主义的本质区别。社会主义的本质, 是解放和发展生产力实现共同富裕。
(5) 人民日益增长的美好生活需要和不平衡不充分的发展之间的矛盾。
- 34、(1) 以正阳门为中心, 左右对称。
(2) 政治: ⑧⑨ 经济: ②③⑤⑥⑦ 军事: ①④
(3) 弱国无外交。五四运动爆发。
(4) 保护北平200万人民的生命财产和古都文物。
(5) 要结合百年前后中国国际地位变化谈感受。即可得分。