



机密★本科目考试启用前

2024 年北京市第二次普通高中学业水平合格性考试

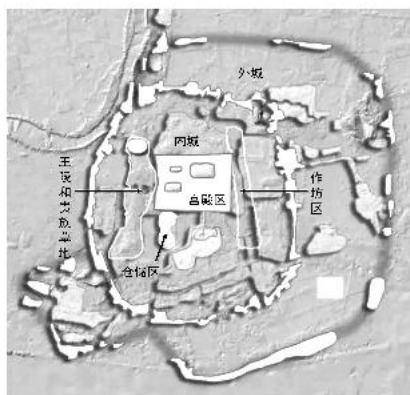
历史试卷

考生须知	1. 考生要认真填写考场号和座位序号。
	2. 本试卷共 10 页，分为两部分。第一部分为选择题，40 小题（共 60 分）；第二部分为非选择题，2 小题（共 40 分）。
	3. 试题所有答案必须填涂或书写在答题卡上，在试卷上作答无效。第一部分必须用 2B 铅笔作答；第二部分必须用黑色字迹的签字笔作答。
	4. 考试结束后，考生应将试卷和答题卡放在桌面上，待监考员收回。

第一部分（选择题 共 60 分）

本部分共 40 小题，每小题 1.5 分，共 60 分。在每小题列出的四个选项中，选出最符合题目要求的一项。

1. 右图为良渚古城遗址平面示意图。考古工作者发现良渚古城有宫殿区、内城和外城，内城中有仓储区和作坊区，贵族墓地出土了透雕冠状器、龙首镯等高等级玉器。上述考古发现可以证明良渚文化



- A. 具备了国家的初始形态
- B. 出现了高度成熟的文字
- C. 青铜铸造技术最为发达
- D. 中央集权国家已经建立

2. 战国时期，各国为了富国强兵，纷纷开展政治、经济、军事、社会制度改革，变法运动成为潮流。以下选项体现这一变法潮流的是

- ① “天子建国，诸侯立家”
- ② “食有劳而禄有功”
- ③ “集小都乡邑聚为县”
- ④ “废井田，开阡陌”

- A. ①②③
- B. ①②④
- C. ①③④
- D. ②③④

3. 秦朝推行的某项制度为以后历朝的地方行政制度开创了基本模式，这一制度是

- A. 内外服制
- B. 分封制
- C. 郡县制
- D. 郡国并行制

4. 下表内容为汉武帝推行的一系列措施，其主要作用是

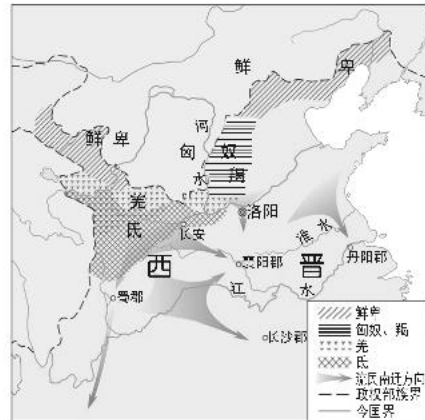
- A. 巩固和发展了大一统国家
- B. 结束了国家长期分裂局面
- C. 缓和了民族矛盾
- D. 减轻了人民负担

政治	颁布“推恩令”
经济	铸币权收归中央
思想	尊崇儒术
军事	北击匈奴



5. 右图所反映的历史现象的影响是

- A. 推动了陆上丝绸之路的兴盛
- B. 促进了民族交融和江南开发
- C. 结束了南北朝对峙局面
- D. 完成了经济重心的南移



6. 以下是史学家钱穆对隋唐制度的总结，横线处应填

论中央政府之组织：结束了上半段历史上的三公九卿制，而开创了下半段的尚书六部制

论选贤与能：结束了上半段的乡举里选制，而开创了下半段的_____

论租税制度：结束了上半段的田租、力役、土贡分项征收制，而开创了下半段的单一税收制

- A. 宗法制
 - B. 察举制
 - C. 九品中正制
 - D. 科举考试制
7. 有人描述某朝制度时指出：“有县令，有郡守，有转运使，以大系小，丝牵绳联，总合于上。”据此判断该朝代是
- A. 秦朝
 - B. 汉朝
 - C. 隋朝
 - D. 宋朝
8. 元朝在边疆地区设立岭北、辽阳、云南等行省，“皆赋役之，比于内地”。这反映了元朝
- A. 对不同民族设置不同职官
 - B. 沿用女真民族的管理系统
 - C. 加强了对边疆地区的管理
 - D. 对不同民族采取差别对待
9. 魏晋和隋唐时期择偶重视“阀阅”，宋朝则不再关心祖先名望，出现了“将娶妇，先问资装之厚薄；将嫁女，先问聘财之多少”的现象。这反映出
- A. 程朱理学受到官方尊崇
 - B. 崇文抑武的方针效果显著
 - C. 传统门第观念渐趋淡化
 - D. 国家放松了对社会的控制
10. 明太祖在《皇明祖训》中提到：“今我朝罢丞相，设五府、六部、都察院、通政司、大理寺等衙门，分理天下庶务，彼此颉颃，不敢相压。事皆朝廷总之，所以稳当。”据此分析，明太祖“罢丞相”意在
- A. 削弱中央集权
 - B. 制约内阁
 - C. 提高行政效率
 - D. 加强皇权
11. 下表所列清朝时期历史事件所反映的主题是

时间	事件
1684年	设台湾府
1689年	签订《尼布楚条约》
1727年	开始派遣驻藏大臣
1757年	彻底击败漠西蒙古准噶尔部
1762年	设伊犁将军



12. 黄宗羲在《明夷待访录》中指出“为天下之大害者，君而已矣”“缘夫天下之大，非一人之所能治，而分治之以群工”。由此可知黄宗羲

- A. 提倡格物致知 B. 倡导个性自由 C. 批判君主专制 D. 主张工商皆本

13. 中国古代科学技术成就斐然。下列科技成果，同属医学领域的是

- A. 《九章算术》和《齐民要术》 B. 《黄帝内经》和《本草纲目》
C. 《授时历》和《天工开物》 D. 《梦溪笔谈》和《农书》

14. 以下历史事件和影响对应正确的是

	事件	影响
A	太平天国运动	推动中国民族资本主义的发展和新思想的传播，在一定程度上冲击了旧式官僚体制
B	洋务运动	引进了资本主义国家的机器生产技术，是中国早期现代化的尝试
C	戊戌维新运动	具有强烈的反帝爱国倾向，使列强认识到“瓜分一事，实为下策”
D	义和团运动	结束了中国两千多年的君主专制制度，传播了民主共和理念

15. 20 世纪初，清政府被迫与列强签订了中国近代史上主权丧失最严重、赔款数目最庞大的不平等条约，使中国完全陷入半殖民地半封建社会的深渊。该不平等条约是

- A. 《南京条约》 B. 《北京条约》 C. 《马关条约》 D. 《辛丑条约》

16. 学者金冲及评价 1911 年湖北革命党人的行动时指出：“他们在当时无论从社会地位和声望看，都是一些小人物，却做出了惊天动地的大事情。”这里的“大事情”应是

- A. 中国同盟会成立 B. 黄花岗起义 C. 武昌起义 D. 护国战争

17. 为了纪念某史事，学生制作了板报，其中有以下关键词：《青年杂志》、“赛先生”、白话文。据此判断该史事是

- A. 二次革命 B. 护法运动 C. 新文化运动 D. 国民革命

18. 下表是某学生整理的一位历史人物的部分经历。这位历史人物是

1921 年	1927 年	1945 年	1949 年
出席中国共产党第一次全国代表大会	率领部队到达井冈山，创建第一个农村革命根据地	在中共七大上作《论联合政府》的政治报告	指出党的工作重心必须由乡村转移到城市

- A. 孙中山 B. 宋教仁 C. 李大钊 D. 毛泽东

19. 在全民族团结抗战中，中国共产党发挥了中流砥柱的作用，具体表现有

- ①推动抗日民族统一战线的建立和巩固 ②制定和执行全面抗战路线
③开辟的敌后战场逐渐成为抗战主战场 ④派遣中国远征军赴缅甸作战

- A. ①②③ B. ①②④ C. ①③④ D. ②③④



20. 《人民画报》创刊于解放战争时期，第8期（下图）集中报道了“刘邓大军挺进大别山”这一重大事件，该事件

- A. 粉碎了国民党的全面进攻
- B. 揭开了战略进攻的序幕
- C. 摧毁了国民党主要军事力量
- D. 推翻了国民党的反动统治



21. 1954年，我国初步建立了社会主义的政治制度体系。下列属于我国根本政治制度的是

- A. 中国共产党领导的多党合作和政治协商制度
- B. 人民代表大会制度
- C. 民族区域自治制度
- D. 基层群众自治制度

22. 新中国成立后，外交领域不断取得突破。其中，“中华人民共和国恢复在联合国的一切合法权利”“中美关系开始走向正常化”“中日正式建交”等成就的取得是在

- A. 20世纪50年代
- B. 20世纪60年代
- C. 20世纪70年代
- D. 20世纪80年代

23. 从1979年到1984年，我国农业总产值年均增长8.9%，人均占有粮食从1978年的318.74公斤增加到1984年的392.84公斤。这主要得益于

- A. 推广家庭联产承包责任制
- B. 设立经济特区
- C. 实施西部大开发战略
- D. 加入世界贸易组织

24. 2022年，中共二十大报告指出：“新时代十年的伟大变革，在党史、新中国史、改革开放史、社会主义发展史、中华民族发展史上具有里程碑意义。”下列成就属于“新时代十年”的是

- ①中国对香港、澳门恢复行使主权
 - ②推动构建人类命运共同体
 - ③形成习近平新时代中国特色社会主义思想
 - ④全面建成小康社会
- A. ①②③
 - B. ①②④
 - C. ①③④
 - D. ②③④

25. 右图的楔形文字泥版文书记录了苏美尔人神庙每天分发食物的情况，这一文物可以直接用于研究

- A. 古代西亚文明
- B. 古代埃及文明
- C. 古代印度文明
- D. 古代美洲文明



26. 2世纪的演说家阿利斯提德宣称：“所有的货物，所有现存的和曾经存在的东西，贸易、航海、农业、金属加工，任何曾经创造出来或者生长出来的东西，都在这里（指罗马）汇合。”这段材料反映了罗马帝国

- A. 商业空前繁荣
- B. 农耕技术发达
- C. 文化广泛传播
- D. 社会陷入危机

27. 帝国的出现促进了文明的交流。下列帝国中兴起于亚洲并最终扩展至亚非欧三大洲的是

- A. 亚历山大帝国
- B. 阿拉伯帝国
- C. 孔雀帝国
- D. 印加帝国



28. 1493 年，某航海家完成远洋航行回到西班牙，献给国王和王后的礼品中有一包金黄的玉米粒，这是玉米果实首次传入欧洲。这位航海家应是
- A. 迪亚士 B. 哥伦布 C. 达·伽马 D. 塔斯曼

29. 以下是美国 1787 年宪法的部分内容，其所践行的启蒙思想家的政治主张是

- ◇ 本宪法授予的全部立法权，属于由参议院和众议院组成的合众国国会
- ◇ 行政权属于美利坚合众国总统
- ◇ 合众国的司法权属于最高法院和国会随时规定和设立的下级法院

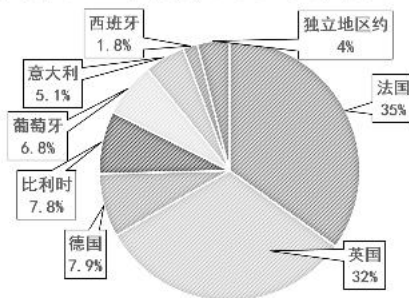
- A. 君主立宪 B. 保护私有财产 C. 三权分立 D. 法律面前人人平等

30. 下图是社会主义运动的理论及实践的示意图。空白处应为



- A. “空想社会主义”出现 B. 《共产党宣言》发表
- C. “第一国际”成立 D. 列宁主义形成

31. 1876 年，列强在非洲的殖民地占非洲总面积的 10.8%，到 1914 年占到 96%。以下是 1914 年各国在非洲所占殖民地面积的比例示意图。由此可知



- A. 列强对非洲殖民侵略始于 1876 年
- B. 英国在非洲所占殖民地的面积最大
- C. 20 世纪初非洲已全部沦为欧洲列强的殖民地
- D. 19 世纪末 20 世纪初列强掀起瓜分非洲的狂潮

32. 下图为 1930 年委内瑞拉为纪念解放者先驱玻利瓦尔逝世 100 周年而铸造的肖像徽章。玻利瓦尔的主要功绩是



- A. 开拓了横跨太平洋的贸易 B. 领导拉丁美洲独立运动
- C. 领导埃塞俄比亚抗意战争 D. 发起非暴力不合作运动

33. 第一次世界大战后成立的某一国际组织，是第一个由主权国家组成的世界性国际组织，其宗旨是促进国际合作和实现世界和平与安全。这一国际组织是

- A. 国际联盟 B. 世界反法西斯同盟 C. 联合国 D. 国际货币基金组织

34. 1921 年，苏俄政府通过粮食税等市场机制建立工农联盟，同时允许私营企业有一定程度的发展，并以租让制等形式在一些经济部门引入外国资本。上述举措属于

- A. 战时共产主义政策 B. 新经济政策
- C. “社会主义工业化” D. “农业集体化”



35. 下表列出了第二次世界大战时期的部分重大历史事件，这些事件整体上反映了

时间	事件
1931年	日本制造九一八事变，中国人民开始局部抗战
1939年	德国闪击波兰，英法被迫对德宣战
1941年	德国入侵苏联，苏联红军英勇抗击德军
1941年	日本挑起太平洋战争，美国对日宣战

- A. 第二次世界大战从局部战争发展到全球战争
- B. 欧洲各国在第二次世界大战中遭到致命打击
- C. 苏联战场成为抵抗德国法西斯军队的主战场
- D. 中国为世界反法西斯战争胜利作出重要贡献

36. 下图是 1948 年英国人吉尔伯特创作的时事漫画《西边吹来的风》，画中的西风神（指马歇尔计划）正鼓起双腮，向寓意欧洲的大风车吹来劲风，大风车转动起来，周围呈现出一片忙碌的景象。该漫画寓意马歇尔计划



- A. 彻底打败了德国法西斯
- B. 促进了西欧经济的恢复
- C. 推动民族解放运动高涨
- D. 激化了美欧之间的矛盾

37. 以下是某学生学习笔记的内容，①处应填写

- A. 20世纪下半叶世界的新变化
- B. “北约”与“华约”的对峙
- C. 科学技术的新发展
- D. 发展中国家的成就

标题：①

- ◇ 两极格局的形成与演变
- ◇ 资本主义的宏观调控和“福利国家”
- ◇ 社会主义国家的建设与改革
- ◇ 世界殖民体系的瓦解与新兴国家的发展

38. 二战后，苏联领导人赫鲁晓夫、勃列日涅夫试图对旧体制进行改革。其共同点在于

- A. 对计划经济体制进行了一定调整
- B. 建立了社会主义市场经济体制
- C. 改变了国民经济比例失调的局面
- D. 导致了局势失控和国家的解体

39. 现代社会很多人居家办公，学生在家用手机或电脑也能上网课、观看“空中课堂”，享受优质教育资源。办公和学习方式的变革反映出当今世界发展的趋势之一是

- A. 世界多极化
- B. 经济全球化
- C. 社会信息化
- D. 文化多样性

40. 对下表内容理解正确的是

成立时间	组织	作用
1999年	二十国集团	协调各国宏观经济政策，促进世界经济增长
2001年	上海合作组织	有利于维护欧亚地区的安全
2009年	金砖国家	维护新兴市场国家和发展中国家共同利益

- ① 南北差距和贫富分化得到了解决
 - ② 不同层次的国际治理组织不断出现
 - ③ 中国积极参与全球治理体系变革
 - ④ 合作共赢成为当今世界的发展潮流
- A. ①②③
 - B. ①②④
 - C. ①③④
 - D. ②③④



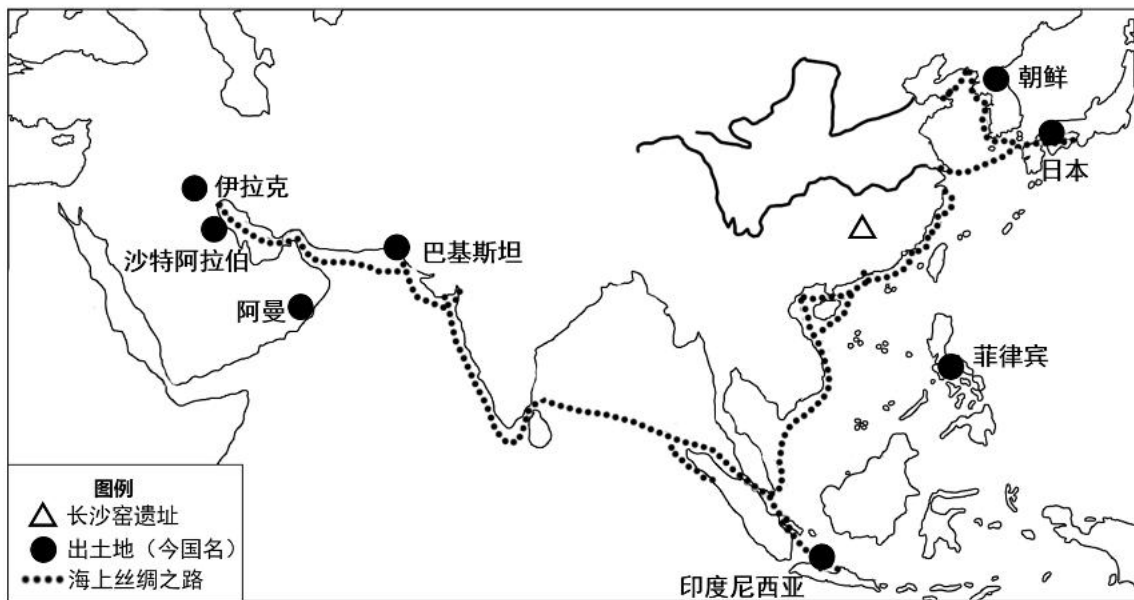
第二部分（非选择题 共 40 分）

本部分共 2 小题，共 40 分。

41. （20 分）文明的交流与互鉴

长沙窑是唐代著名外销瓷窑，工匠们将釉下多彩和诗词绘画等多种装饰艺术运用于瓷器制作，同时注重吸收域外的各种文化要素，如西亚人喜爱的葡萄、胡人乐舞等图案，阿拉伯人感兴趣的抽象几何图形和阿拉伯文字，以及南亚特产椰子树等植物题材，极具活力和异国风采。

——摘编自宾娟《唐代长沙窑瓷器上的外来纹饰》



出土唐代长沙窑瓷器的遗址（部分）分布示意图

（1）依据图文材料，概括唐代长沙窑外销瓷器制造及销售的特点，并分析其原因。（6分）

明朝后期，西方传教士来到中国，与徐光启等人大力协作，撰写、翻译了大量介绍西方科学技术的著作。清朝前期，为帮助清廷掌握确切的边疆地理信息、有效控制国家政区，传教士运用欧洲测绘技术绘制各省地图，在全国统一了丈量尺度，固定了里的长度单位，并沿用至后世。与此同时，传教士撰写、翻译了大量介绍中国历史文化的著作，如用拉丁文译的《孝经》等儒家经典，在欧洲广为流传。法国启蒙思想家将中华文明视为非宗教的高度理性文明的典范，成为他们推进反封建神学蒙昧主义的强大动力。

——摘编自张国刚《中西文化关系通史（下）》等

（2）依据材料，分析 17—18 世纪中西文化交流的影响。（4分）



1920年，李大钊等人在北京大学成立马克思学说研究会，依据英文“共产主义”的音译，将活动场所称为“亢慕义斋”。2021年中国国家广播电视总台拍摄的纪录片《百炼成钢：中国共产党的100年》第一集《亢慕义斋》中指出：“回首中国共产党的100年，要从亢慕义斋说起。”以下是有关“亢慕义斋”的史料：

①守常先生（李大钊）领导我们建立的“亢慕义斋”，既是图书室又是翻译室，还做学会办公室，党支部与青年团和其它一些革命团体常在这里集会活动……我们努力翻译和介绍马克思主义的书籍，宣传马克思主义。

——罗章龙《亢斋回忆录》

②



“亢慕义斋”旧址
北京市东城区沙滩后街55号院

③



19位马克思学说研究会发起人合影（部分），其中有16人后来成为早期中国共产党党员

(3) 分别指出①②③的史料类型，并依据史料说明为什么“回首中国共产党的100年，要从亢慕义斋说起”。（6分）

2023年是共建“一带一路”倡议提出十周年。10月10日，国务院新闻办发布《共建“一带一路”：构建人类命运共同体的重大实践》白皮书。以下为白皮书相关内容：

序号	成就（部分）
①	肯尼亚蒙内铁路采用中国标准、技术、装备和运营管理，2017年开通运营以来，对肯尼亚经济社会发展和民生改善产生了积极影响
②	2013—2022年，中国与共建国家进出口总额累计19.1万亿美元，年均增长6.4%
③	2016年以来，中国在亚非欧三大洲的20多个共建国家合作建设一批鲁班工坊，开设了工业机器人、新能源、物联网等70多个职业教育专业
④	中国与135个国家和地区签订了双边投资协定，与112个国家和地区签署了避免双重征税协定
⑤	“汉语桥”夏令营项目累计邀请100余个共建国家近5万青年来华访学，支持143个共建国家10万名中文爱好者线上学习中文、体验中国文化
⑥	截至2022年，中国在澜湄国家（柬埔寨、老挝和缅甸等国）共计建成农村供水安全保障技术示范点62处

(4) 从上表中任选两个成就，写出序号，提炼一个主题，并对主题进行说明。（4分）



42. (20分) 城市发展与社会变迁

希腊城邦的公民大多数躬耕垄亩，住在乡村。由于实行公民轮番执政，城邦中不存在城市与乡村的对立，“城市连同属于它的土地是一个经济整体”。城市既是民选的官员施政的中心，也是全体公民集会、参政和举行各种社会活动的场所。城邦国家一般只有一个本土中心城市，它是城邦国家之根本。城市在战争中具有很强的军事功能，一旦失守，就意味着城邦的灭亡。

——摘编自张南、周伊《春秋战国城市与古典希腊城市比较论》

(1) 依据材料，概括古代希腊城市的特点。(4分)

中古时期西欧的城市特许状是由国王或大封建主颁发给城市和市民的法律意义上的权利认可证书。

序号	特许状	内容(节选)
①	12世纪上半叶，法国国王路易六世颁发给洛里斯城镇的特许状	任何人只要在城里平安生活一年零一天，便可获得自由，以前的主人不得对他提出任何权利主张
②	1130年，英国国王亨利一世颁发给伦敦的特许状	伦敦市民享有充分的权力任命他们所愿的伦敦市民为市长，并任命任何一人或他们所愿的伦敦市民为法官
③	1175年，法国特尔瓦伯爵亨利颁发给塞纳河大桥附近市镇的特许状	手工艺匠和商人每年交纳一笔定额地租，即有权在市内居住和包租郊区农田，亦有权自由出售房屋、葡萄和租地
④	1200年，法国国王菲利普二世颁发给巴黎大学的特许状	官员不得以防卫为理由对学者动手，不能把他们关进监狱。除非学者犯了罪，应受到逮捕。拘捕学者时，决不能打他

(2) “城市的空气使人自由”是中古时期形容西欧城市的一句谚语。从表格中任选两个特许状作为证据，说明你对该谚语的理解。(4分)



19世纪,英国领导了世界城市化的浪潮。1800年,大约五分之一的英国人居住在城镇,城镇规模大约1万多人。而接下来的一个世纪中,庞大的乡村生活被城市化了,英国有三分之一的人口在城里工作和生活。欧洲大陆、美国、日本以及其他国家也是同样的模式。到1900年,工业化国家中至少有50%的人口生活在城镇中。1800年,欧洲人口达10万的大城市仅有20座,西半球一座也没有。到1900年,欧洲和北美的大城市超过150座。

——摘编自[美]杰里·本特利等《新全球史》

(3) 依据材料概括19世纪世界城市的发展变化,结合所学分析其原因。(6分)

二战后,法德两国试图实现和解。两国地方上自发的友好城市活动,恰好是对国家政治层面的补充。1948年,法德市长圆桌会议召开,提出要在和解的精神下发起积极的交流活动。同年,法德建立了第一组友好城市关系。20世纪50年代,法德友好城市已经达到130例。1963年,《法德友好合作条约》签订,进一步加强了双方的合作。1963—1969年,法德友好城市增加到400多例。

——摘编自卢睿《战后国际友好城市的发端与发展(1945—1969)》

(4) 依据材料并结合所学,指出法德友好城市建立的时代背景,并就法德友好城市的发展谈谈你的看法。(6分)



2024 年北京市第二次普通高中学业水平合格性考试

历史试卷参考答案

第一部分(选择题共 60 分)

本部分共 40 小题，每小题 1.5 分，共 60 分。

1. A

6. D

11. C

16. C

21. B

26. A

31. D

36. B

2. D

7. D

12. C

17. C

22. C

27. B

32. B

37. A

3. C

8. C

13. B

18. D

23. A

28. B

33. A

38. A

4. A

9. C



14.B

19.A

24.D

29.C

34.B

39.C

5.B

10.D

15.D

20.B

25.A

30.B

35.A

40.D

第二部分(非选择题共 40 分)

本部分共 2 小题, 共 40 分。

41.(20 分)

(1)特点: 长沙窑外销瓷器融合了中外文化, 既有中国文化元素, 又具有明显的异域风格。通过海上丝绸之路向外销售;销售范围广, 远销多个国家和地区。原因: 唐朝国力强盛, 奉行开放的对外政策;对外交通发达, 与域外的经济文化联系频繁; 制瓷技术发达; 域外国家仰慕唐朝文化。

(2)影响: 西方的科技著作被介绍到中国, 在一定范围内传播了西方科技知识。欧洲的绘图技术有助于清政府更加精准掌握国家地理信息, 有利于统一多民族国家的发展。传教士翻译的儒家经典著作, 促进了中国文化在欧洲的传播推动了欧洲启蒙运动的发展。

(3)类型: ①口述史料;②实物史料;③图像史料。

说明: 亢慕义斋是马克思学说研究会的活动场所, 马克思学说研究会促进了马克思主义的广泛传播, 培养了一批革命人才, 为中国共产党的成立做了思想上和组织上的准备。



(4)答案示例:

序号: ①⑥

主题: 基础设施建设的合作改善民生

说明: 肯尼亚蒙内铁路建设和运营采用中国技术和经验,改善了肯尼亚人民的生活,促进了经济发展。中国在澜湄国家建成的供水安全保障技术示范点,便利了这些国家居民的生活。

42.(20分)

(1)特点: 古代希腊城市是城邦国家的核心。在经济方面,城市与农村紧密相连;在政治方面,城市是全体公民的政治活动中心;在军事方面,城市具有重要的军事功能。

(2)答案示例:

特许状①规定了农奴在城市住满一定的时间,即可获得自由,保障了市民的人身自由权利。

特许状②规定了市民有权任命行政首脑和法官,保障了城市的自治权。(3)发展

变化: 城市化由英国开始,范围不断扩大;工业化国家城市人口比重增大

欧美大城市数量迅速增长。原因: 工业革命首先由英国开始,然后扩展到其他国家;工业生产需要大量自由劳动力,导致人口由乡村向城市迁移;现代工业提供了物美价廉的商品,居民的生活有所改善,为城市人口的增长提供了物质保障。(4)

时代背景: 第二次世界大战结束,人类呼唤世界和平;美苏冷战开始,两极格局不断形成;西欧在战争中遭受沉重的打击,国力受到严重消耗,战后力图通过合作促进发展。

看法: 法德友好城市的发展,体现了二战后和平与发展的时代特征;推动了法德国家关系的和解: 有利于欧洲的联合。