

阶段练习试题

初三年级道德与法治

2024. 10

班级：_____ 姓名：_____ 学号：_____ 考场号：_____ 座位号：_____

(满分 70 分，时间 40 分钟)

第一部分 (共 40 分)

一、判断题 (共 10 题，每小题 1 分，共 10 分。在答题卡相应位置，正确的将“√”涂黑，错误的将“×”涂黑)

1. 一般来说，民主价值上要求所有人当家作主。
2. 一个国家选择走什么样的民主道路，取决于它的具体国情
3. 青少年在创新方面做不了什么，只能好好学习，以后再提升创新能力
4. 党的领导是发展全过程人民民主的根本保证。
5. 协商民主是我国社会主义民主政治的特有形式和独特优势。
6. 人民代表大会制度是我国的根本政治制度，是人民掌握国家政权、行使权力的根本途径。
7. 公民参与是社会主义民主的要求，也是公民的一项权利。
8. 在现代社会，民主应该成为公民的一种生活方式和生活态度。
9. 中国共产党的初心使命是全心全意为人民服务。
10. 教育已成为综合国力竞争的决定性因素。



二、选择题 (共 15 题，每题 2 分，共 30 分。在每小题列出的四个选项中，选出最符合题目要求的一项。)

11. 小岗破冰，深圳兴涛，海南弄潮，浦东逐浪，雄安扬波……改革开放的浩荡浪潮，让华夏神州翻天覆地、沧海桑田。如今，我们将继续坚定不移地全面深化改革，这是因为
- ①进入新时代，我国的主要矛盾发生了变化 ②只要不断深化改革就能解决我国一切问题
③我国未来发展面临着新的变化和新的挑战 ④我国经济已由高质量发展转向高速度发展
- A. ①② B. ①③ C. ②④ D. ③④

12. 2023 年 4 月 21 日，习近平总书记在主持召开二十届中央全面深化改革委员会第一次会议时强调，新征程上继续推进全面深化改革，要坚持和加强党的领导，把准改革方向，明确目标任务，以科学的谋划、创新的魄力把各项工作抓好抓实。这表明

- A. 改革只有进行时，没有完成时 B. 改革是第一生产力
C. 改革是民族振兴、社会进步的基石 D. 改革是当前一切工作的中心

13. 江山就是人民，人民就是江山。中国共产党领导人民打江山、守江山，守的是人民的心。

下列古语蕴含的道理与这一思想相一致的是

- ①天地之大，黎元为先 ②功崇惟志，业广惟勤
③法令者，民之命也，为治之本也 ④治国有常，而利民为本

- A. ②④ B. ①③ C. ②③ D. ①④

14. 40 多年来，我国实现了从生产力相对落后的状况到经济总量跃居世界第二的历史性突破。中国的腾飞证明了决定当代中国命运的关键抉择是

- A. 教育改革 B. 改革创新 C. 万众创新 D. 改革开放

15. 右图启示我国企业要

- A. 加强管理，保证产品质量
B. 深化供应链国际合作，购买先进技术
C. 诚信经营，遵守法律法规
D. 加强产学研深度融合，掌握核心技术



16. 某中学生看到老师因使用触摸屏次数太多，导致手指皮肤破裂，他想：要是能发明一种既方便在触摸屏上写字，又能保护手的手套该多好啊！他经过不断研究和反复实践，最终成功设计出了保温耐用且能保护皮肤的多功能手套，并获得国家专利。这说明

- A. 创新要善于思考并付诸行动 B. 中学生是发明创新的主力
C. 科技创新才能推动社会进步 D. 创新是从无到有的创造发明

17. 从广泛吸收各方意见，到党的十九届五中全会审议通过，再到两会代表委员认真审查讨论，历经“千锤百炼”而诞生的《中华人民共和国国民经济和社会发展第十四个五年规划和 2035 年远景目标纲要》凝聚着全党全社会的智慧，承载着亿万人民的期盼，画出了最大同心圆。这一过程告诉我们

- ①在我国，人民当家作主不是一句空话、一句口号
②我国社会主义民主政治的本质特征是人民当家作主
③选举民主是我国社会主义民主的特有形式和独特优势
④基层群众自治制度是我国社会主义民主政治建设的基础

- A. ①② B. ①③ C. ②④ D. ③④


18. 民主选举是人民实现民主权利的一种重要形式。下列体现民主选举的是



- A. 政协委员深入基层开展调研工作 B. 小区居民投票选出业主委员会成员
C. 市民参加公共交通价格调整听证会 D. 群众拨打市长热线反映道路交通拥堵问题

19. 从漫画可知, 改革、创新、发展三者之间的关系是

- A. 改革驱动发展, 发展激活创新 B. 发展驱动改革, 改革激活创新
C. 发展激活创新, 创新驱动改革 D. 改革激活创新, 创新驱动发展



20. 每年全国两会期间, 全国人大代表、政协委员聚北京, 共商国是。2023 年两会, 代表委员们讨论的热点问题有着力扩大国内需求、

加快建设现代化产业体系、稳定粮食生产和推进乡村振兴、推动发展方式绿色转型、保障基本民生和发展社会事业等。人大代表和政协委员关注的都是群众关心的问题, 这充分彰显了

- A. 全国人民代表大会是我国的根本政治制度
B. 发展人民民主, 必须坚持全面依法治国的要求
C. 政治协商制度是社会主义民主政治建设的基础
D. 人民主体地位, 使人民意志得到更好体现



21. 老有所养、老有所依、老有所乐, 是民之根本、民生大计。S 区推进建设助老食堂, 以高品质的饭菜质量和优惠的价格助力解决老年人吃饭难题。同时, 建设医养结合养老机构, 积极探索推进“医养结合”养老模式, 满足老人养老和医疗护理双重需求。S 区助老食堂和医养结合养老机构的建设

- ①提升了该区老年人的幸福感、获得感 ②从根本上解决了该区人口老龄化问题
③保障老年人合法权益, 增进民生福祉 ④根除了该区老年人吃饭难和看病难问题
A. ①② B. ①③ C. ①④ D. ②④

22. 我国社会主义民主政治的本质特征是

- A. 选举民主 B. 协商民主 C. 有事好商量 D. 人民当家作主

23. 全过程民主就是指人民群众在社会主义民主政治中的全过程参与。我国人民依法参与民主选举、民主协商、民主决策、民主管理、民主监督, 这五个环节扩大了人民有序的政治参与, 集中反映了全过程民主的具体形式。这体现了

- A. 人民的所有意愿得到充分反映, 人民的所有需求都能得到充分的实现
B. 人民按照宪法和法律的规定, 通过各种途径和形式直接管理国家事务
C. 民主决策是我国社会主义民主政治的特有形式和独特优势
D. 我国社会主义民主是维护人民最根本利益的最广泛、最真实、最管用的民主

24. 现代社会，民主已经成为公民的一种生活方式和生活态度。下列活动体现公民积极参与民主生活的有

- ①大四学生小明利用寒暑假参加志愿者活动 ②王老师作为市民代表参加物价调整听证会
③李医生积极参加当地人大代表的换届选举 ④小梁通过“天宫课堂”观看水油分离实验
- A. ①② B. ①④ C. ②③ D. ③④

25. 多年来，国家相继启动“西电东送”、“西气东输”、“东数西算”等重要工程。不仅将西部的资源优势转化成发展优势，带动西部地区相关产业发展，也有力支援了我国东部地区日益增长的各领域需求。这有利于

- A. 坚持城乡融合发展，实现同步富裕 B. 西部发展赶超东部，区域发展不平衡得以解决
C. 缩小区域发展差距，消除社会所有矛盾 D. 推动区域协调发展，促进社会公平正义

第二部分 （共 30 分）

26. （10 分）2023 年 12 月，中央经济工作会议在北京举行。全面总结 2023 年经济工作，深刻分析当前经济形势，系统部署 2024 年经济工作。某校九年级学生围绕“国家经济发展”进行了一次实践探究，下面是他们搜集的部分资料。

【汇聚力量再出发】

全面建设社会主义现代化国家，实现经济运行持续整体好转，推动经济发展实现新突破，要紧紧围绕_____这个首要任务和构建新发展格局这个战略任务，全面深化改革开放，加快建设现代化产业体系。

（1）会议中强调的这个首要任务指的是_____。（2 分）



【保障民生促发展】

民生所向，施政所望。此次会议提出，要切实保障和改善民生，坚持尽力而为、量力而行，兜住、兜准、兜牢民生底线。更加突出就业优先导向，确保重点群体就业稳定，织密扎牢社会保障网，健全分层分类的社会救助体系，加快完善生育支持政策体系。打造友善适老消费环境，推动人口与经济社会发展良性互动。

（2）党和政府为什么要加大民生力度，兜住、兜准、兜牢民生底线？（8 分）

27. (12分)创新者强, 创新者胜。

材料一 国家创新指数是反映国家综合创新能力的重要指标。《国家创新指数报告 2022—2023》显示, 我国创新指数综合排名从 2000 年的世界第 38 位快速提升至 2011 年的第 20 位, 随后稳步上升至 2023 年的第 10 位, 是唯一进入前 15 位的发展中国家。从具体得分看, 中国国家创新指数得分为 72.7 分, 比上年提高 1.9 分, 与荷兰、瑞典、德国等排名 5 至 9 位的国家相差 0.2 至 5.3 分。



(1) 从以上信息中可以得出哪些结论。 (4分)

材料二 某班同学看到材料一的数据后, 想了解为什么中国能够成为唯一进入前 15 位的发展中国家。于是, 他们从国家统计局发布的《中国创新指数研究》中摘选了如下信息。

(以 2015 年为 100)

相关指数	摘选项目	2015 年	2020 年	2022 年	指标说明
创新环境	1. 每万人就业人员中大专及以上学历人数指数	100	118.1	128.2	就业人员平均具备一定学历的人员数量
	2. 科技拨款占财政拨款比重指数	100	103.2	107.2	政府对创新的直接投入力度以及对重点、关键和前沿领域的规划和引导作用
创新投入	1. 科学研究与试验发展经费占国内生产总值比重指数	100	117.0	123.7	国家或地区科技投入水平
	2. 企业科学研究与试验发展经费占营业收入比重指数	100	156.2	161.0	企业在科学研究与试验发展方面经费投入强度
创新产出	1. 每万人科技论文数指数	100	116.6	128.3	企事业单位立项的由科技项目产生的、在有正规刊号的刊物上发表的学术论文
	2. 拥有注册商标企业所占比重指数	100	190.1	219.3	企业拥有自主品牌情况


(2) 结合材料, 运用所学知识, 说明为什么中国能够成为唯一进入创新指数综合排名前 15 位的发展中国家。 (8分)



28. 初三某班在学习社会主义民主的相关内容时，搜集到了以下资料。


《世界上规模最大的基层选举》

2021年至2022年，在县乡两级人大换届选举中，全国10亿多选民一人一票直接选举产生200多万名县乡两级人大代表，组成地方国家权力机关，代表人民行使国家权力。在选区划分、选民登记等各选举环节，广泛动员人民群众参加。



《汇集民智的基层立法联系点》

基层立法联系点一头连着国家权力机关，一头连着基层群众，有效地推动了精细立法、科学立法。2015年设立第一批基层立法联系点以来，截至2021年10月，基层立法联系点涉及21个省（区、市），覆盖2/3省份，共对127部法律草案、立法工作计划等提出近7800条意见建议。



《人民利益要求得到回应》

12345政务服务便民热线，提供“7×24小时”全天候人工服务，通过人人起来负责、共同监督的方式，提高了政府为民服务水平，维护了人民的合法权益。

人民网“领导留言板”，自2006年设立以来，共促成近280万项民情民意得到各地各部门回应和落实。



结合材料，谈谈你对我国社会主义民主的认识。（8分）

2024 北京十二中初三 10 月月考道德与法治答案

- 1.× 2.√ 3.× 4.√ 5.√
6.√ 7.√ 8.√ 9.× 10.×
11.B 12.A 13.D 14.D 15.D
16.A 17.A 18.B 19.D 20.D
21.B 22.D 23.D 24.C 25.D



26.(1)高质量发展

(2)①民生是人民幸福之基、社会和谐之本。加大民生力度，兜住、兜准、兜牢民生底线，有利于保障人民的基本生活，提高人民的生活质量，让人民共享发展成果。

②是社会主义制度优越性的体现，体现了党和政府全心全意为人民服务的宗旨，彰显了以人民为中心的发展思想。

③有利于促进社会公平正义，维护社会稳定，激发人民的积极性和创造性，推动经济社会持续健康发展。

④我国社会主要矛盾已经转化为人民日益增长的美好生活需要和不平衡不充分的发展之间的矛盾，加大民生力度是解决这一矛盾的重要举措。

27.(1)①我国创新指数综合排名不断提升，创新能力不断增强。②我国与部分发达国家在创新指数上仍存在一定差距。

(2)①创新环境方面:我国就业人员中大专及以上学历人数指数不断提高，科技拨款占财政拨款比重指数也在增加，说明我国为创新提供了良好的人才和资金支持环境。

②创新投入方面:科学研究与试验发展经费占国内生产总值比重指数以及企业科学研究与试验发展经费占营业收入比重指数都呈上升趋势，表明我国政府和企业对创新的投入不断加大。

③创新产出方面:每万人科技论文数指数和拥有注册商标企业所占比重指数都在增长，体现了我国在创新成果和企业品牌建设方面取得了显著成效。综合来看，我国在创新环境、投入和产出等方面都不断优化和提升，所以能够成为唯一进入创新指数综合排名前 15 位的发展中国家。

28.①我国社会主义民主是一种新型的民主，是最广泛、最真实、最管用的民主。②我国县乡两级人大换届选举中，10 亿多选民一人一票直接选举产生人大代表，体现了民主选举的广泛性，人民当家作主是社会主义民主政治的本质特征。

③基层立法联系点广泛收集群众意见建议，对法律草案等提出大量意见，体现了民主协商、

民主决策的真实性，人民能够广泛参与民主生活，充分表达自己的意愿和诉求。

④12345 政务服务便民热线和人民网“领导留言板”能有效解决民生问题，体现了民主监督的管用性，人民的合法权益能够得到有效保障。

