

# 2024 北京房山高三（上）开学考

## 政 治

本试卷共 11 页，共 100 分。考试时长 90 分钟。考生务必将答案写在答题卡上，在试卷上作答无效。考试结束后，将答题卡交回，试卷自行保存。

### 第一部分（共 45 分）

本部分共 15 小题，每小题 3 分，共计 45 分。在每小题列出的四个选项中，选出最符合题目要求的一项。

1. 改革开放以来，中国共产党作出的很多战略决策都与三中全会息息相关。

会议	主要内容
十一届三中全会	拉开了改革开放的序幕
十四届三中全会	为社会主义市场经济体制搭建了基本框架
十六届三中全会	对完善社会主义市场经济体制作出了周密部署
二十届三中全会	强调构建高水平社会主义市场经济体制

由此可见（ ）

- ①1978 年以来，中国共产党坚定不移高举改革开放的旗帜
- ②改革开放推动社会主义市场经济体制向高水平推进
- ③改革开放是对新时代中国新情况、新问题的探索
- ④我国取得一切成绩和进步的根本原因是坚持改革开放

A. ①②      B. ①③      C. ②④      D. ③④

2. 《北京经济蓝皮书：北京平台经济发展报告（2023）——平台经济新阶段：创新引领与国际竞争》指出，加快数字政府建设，推进线上线下监管的无缝衔接，增强监管机构的威慑力和公信力，健全互联网平台监管问责机制，实现对平台企业的有效监管。推动数字政府建设有利于（ ）

- ①构建开放、便民的阳光司法体制
- ②更好满足人民群众直接行使监督权的诉求
- ③规范企业自律、合规、依法经营
- ④提高监管执法的可问责性

A. ①②      B. ①③      C. ②④      D. ③④

3. 2024 年北京市出台《关于全面建设美丽北京加快推进人与自然和谐共生的现代化的实施意见》，明确了美丽北京建设的路线图，即围绕美丽北京建设目标，“十四五”深入攻坚、“十五五”巩固拓展、“十六五”整体提升。全面把握推进美丽北京建设过程中绿色低碳的根本作用，污染防治的关键作用，坚持守正创新，彰显首都特色。这体现出建设美丽北京应（ ）

- ①坚持系统优化，用局部的发展推动整体发展
- ②抓住矛盾主要方面，明确事物发展的特殊本质
- ③立足客观实际，实现合规律性与合目的性统一



④坚持效率优先，正确处理矛盾普遍性和特殊性的关系

A. ①②      B. ①③      C. ②④      D. ③④

4. 北京市持续推进“疏解整治促提升”专项行动，围绕优化居民“吃穿住行”，建设“一刻钟便民生活圈”，提升城市发展品质。比如，上半年完成300个养老助餐点建设任务；结合老旧厂房和低效楼宇改造，挖掘新建停车设施潜力空间；上线“北京静态交通共享停车”微信小程序，居民可在线办理共享停车服务。“一刻钟便民生活圈”的建设，说明人们（ ）

- ①可以通过认识世界的活动把握城市发展的本质和规律
- ②根据固有联系，构建“吃穿住行”的人为事物联系
- ③受客观性制约，只能通过老旧厂房改造挖掘潜力空间
- ④通过实践，可以把观念的东西变为现实的东西

A. ①②      B. ①③      C. ②④      D. ③④

5. 每当深夜来临，城市褪去喧嚣，许多人的工作才刚刚开始：夜班公交司机、社区夜间巡逻队员、急诊室医护人员、工厂设备检修工人、12345市民热线接线员……他们身份不同，职业各有特点，但是他们都有一个共同的名字——“城市守夜人”，守护每个人的安全和幸福，扛起对城市的责任和担当。可见，“城市守夜人”（ ）

- ①服务百姓生活，展现城市的精神风貌
- ②弘扬传统美德，成为独特的民族精神标识
- ③引领文化风尚，带动城市文化产业发展
- ④践行社会主义核心价值观，守护城市的温度

A. ①③      B. ①④      C. ②③      D. ②④



6. 我们遭遇的风险挑战风高浪急，这些风险挑战既有国内的，也有国际的；既有传统的，也有非传统的。“非弘不能胜其重，非毅无以致其远。”面对风险挑战，唯有顽强拼搏，坚决斗争，才能赢得尊严、求得发展。根据材料，下列推断正确的是（ ）

- ①弘则能胜其重，毅则能致其远
- ②我们要赢得尊严、求得发展，就必须坚决斗争
- ③以“有些风险挑战是国内的”为前提，可以进行换质位推理
- ④“有些风险挑战是传统的”通过换质推理可得出“有些风险挑战不是非传统的”

A. ①③      B. ①④      C. ②③      D. ②④

7. 春天的微风中飘散的不仅仅有花粉，一些植物病毒也可以借着花粉在花与花之间传播。某大学研究团队发现，在农业区采集的花朵携带着100多种不同病毒的基因组片段，而来自人类活动较少的草原上的花朵仅携带12种病毒。该团队认为，如果一块农田的植物物种趋于同质化，就可能使更多的病毒寄居在这里。得出这一结论是运用了（ ）

A. 求同法      B. 类比推理      C. 求异法      D. 演绎推理

8. “高效办成一件事”是数字政府建设的突破口和优化政务服务、提升行政效能的重要抓手。某区推行

“合并办”，通过设立企业开办综合窗口，将7个部门的审批环节合并为“一窗受理、一次申报、并联办理、一次领取”，积极推行“网上办”，建设了“全程网办、全域通办”等企业服务“e窗通”平台。这利于（ ）

- ①利用逻辑思维，实现数据互联互通，提升执政水平
- ②树立创新思维，创新政务服务模式，提高服务效能
- ③坚持人民立场，体现政府权威，打造人民满意政府
- ④坚持辩证思维，推动政府转变职能，优化营商环境

A. ①③                  B. ①④                  C. ②③                  D. ②④



9. 近年来，房山区落实推进“基本无违法建设区”工作，更多发展空间得到腾挪释放，相关案件也随之增加。法院通过调研近三年相关案件，分析纠纷产生原因，及时向政府相关部门发送了司法建议。2023年下半年，这类案件收案量下降了约70%。这一做法（ ）

- ①利于延伸司法机关的司法职能，助力社会治理
- ②坚持司法为民，为此类工作提供有力司法服务
- ③旨在引导人民群众通过诉讼方式解决矛盾纠纷
- ④要求政府部门必须按照司法建议开展相关工作

A. ①②                  B. ①③                  C. ②④                  D. ③④

10. 陈女士坐出租车去医院，下车后发现身份证遗落在车上了。于是陈女士立即与司机联系，司机在车后座发现了陈女士的身份证。陈女士要求司机将身份证送回医院，司机表示其已经开出10公里远，如果把车开回医院，需要陈女士支付返回医院的车费，陈女士拒绝，双方僵持不下。据此，以下说法正确的是（ ）

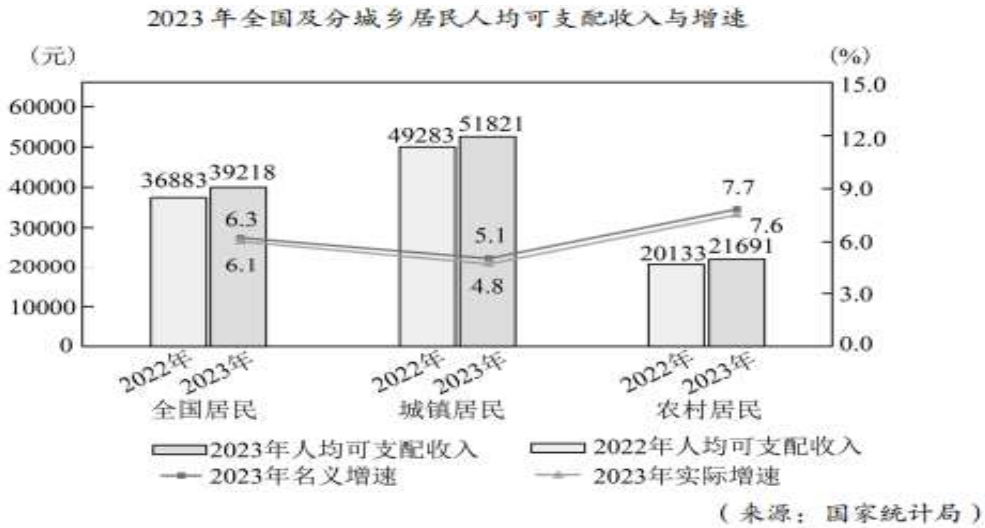
- A. 陈女士需要向出租车司机支付送还身份证的费用以及其他必要费用
- B. 司机在合同的履行中违反了守法和公序良俗原则，应承担违约责任
- C. 陈女士与司机之间的运输合同成立，司机有义务无偿将身份证送回
- D. 陈女士如果将司机告上法庭，属于民事诉讼，由司机承担举证责任

11. 殷某某是一名配音演员，意外发现自己的声音被AI化后在某智能科技公司运营的平台中对外出售。殷某某以该行为侵害其声音权益为由，将某智能科技公司起诉到法院。关于该案，以下说法正确的是（ ）

- A. 本案中民事法律关系的客体是侵权行为
- B. 该公司的行为侵犯了该演员的身份权
- C. 声音权是一个人最基础的权利，任何人不得侵犯
- D. 自然人的声音作为其人格标志，具有人格权属性

12.

### 2023年全国及分城乡居民人均可支配收入与增速



根据上图信息, 可以推断 ( )

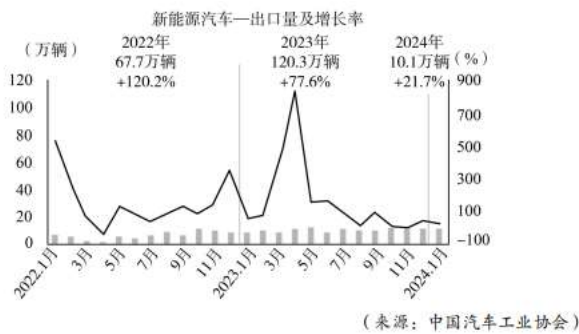
- A. 劳动报酬在初次分配中的比重不断提升
- B. 居民收入多元, 要素参与分配不断落实
- C. 与 2022 年相比, 2023 年城乡经济发展水平有所提高
- D. 2023 年农村居民收入增速高于城镇居民, 收入差距缩小

13. 2024 年北京市市级财政科技投入占市级一般公共预算支出的 14.1%, 投入占比位居全国前列。资金重点聚焦支持国家实验室、新型研发机构等国家战略科技力量建设, 推动新一代信息通信、前沿新材料等领域关键核心技术攻关, 继续推进“三城一区”建设等。这表明 ( )

- A. 财政支出结构优化, 科技投入资金最多
- B. 实施积极财政政策, 推动核心技术研发
- C. 建设“三城一区”, 共享发展成效显著
- D. 充分发挥市场在技术攻关的决定性作用



14. 2023 年我国新能源汽车产销连续 9 年全球第一, 新能源汽车出口达 120.3 万辆, 同比增长 77.6%。



从上述材料和图表信息, 可以推断出 ( )

- ①我国先进制造业实力强劲，出口竞争优势增强
- ②2023年新能源汽车出口持续增长，推动我国对外贸易结构优化
- ③世界各国的绿色消费需求正在释放，积极践行绿色消费观
- ④我国坚持创新发展、绿色发展，以高质量供给创造、引领需求



- A. ①③                      B. ①④                      C. ②③                      D. ②④

15. 目前，我国位于19个省（自治区、直辖市）的41个对外开放口岸，对54个国家人员实施72小时或144小时过境免签政策。在该系列便利外籍人士来华的政策推动下，外籍人士中国行持续升温。据统计，2024年上半年全国各口岸入境外国人1463.5万人次，同比增长152.7%。其中，通过免签入境854.2万人次，同比增长190.1%。过境免签政策（            ）

- ①能刺激相关开放口岸的居民扩大出境消费需求
- ②充分展现中国坚持对外开放的坚定、诚意和自信
- ③能拉动相关口岸入境游产业升级，带来巨大商机
- ④能推动国际关系民主化，增进相关国家人文交流

- A. ①③                      B. ①④                      C. ②③                      D. ②④

## 第二部分 共 55 分

本部分共6题，共55分。

16.（7分）2024年7月，“北京中轴线——中国理想都城秩序的杰作”列入《世界遗产名录》。这条全长7.8公里的中轴线从历史深处走来，诉说着中华文明的过去、现在与未来。

### 【城市之轴】

“北京中轴线”由古代皇家宫苑建筑、古代皇家祭祀建筑、古代城市管理设施、国家礼仪和公共建筑以及居中道路遗存等五大类遗存共同组成，其选址、格局、城市形态和设计体现了《周礼·考工记》所记载的理想都城范式，展现了中国古代城市规划传统，见证了北京城市的发展演变，是体现中华文明突出特性的重要标识。

### 【时代之轴】

置身于北京中轴线，一种“时代感”扑面而来。数字技术的高速发展，为文化遗产的保护与传承开辟了一条新路径。要高标准建立遗产监测系统，遗产档案信息系统，开展重点问题研究，推动区域功能优化、民生改善，提升城市环境，进而实现老城整体保护与复兴，让正阳门文物建筑与雨燕和谐共存，留住居民的乡愁记忆和老城情怀。

### 【文明之轴】

北京中轴线的规划理念源自中华文明传统中正和合的哲学理念，代表了世界城市历史中的一种特有类型，为探索我国乃至世界其他国家古代都城保护理念与做法，妥善处理好遗产保护与城市发展的关系，提供了中国案例和中国经验。“北京中轴线”在促进文明交流互鉴、增进中外民心相通等方面会发挥更大、



更积极的作用。

结合材料，运用《哲学与文化》知识，谈谈你对“北京中轴线是历史的，现在的，也是未来的”这句话的理解。

17. (8分) 政务热线遇到“奇葩”诉求



政务热线，是指受理与政务有关诉求的热线，作为连接民意和政府之间的平台，发挥着畅通民意诉求表达、便民服务的积极功能。

但是，有人向“12345 政务服务便民热线”提交各种不合理不合规的诉求，导致政务热线沦为“许愿池”和情绪“垃圾桶”。比如有一例：家中孩子无法管理（存在抽烟喝酒、弃学、离家出走等问题），让相关单位收养管教。

据了解，不少人把本不属于政务热线受理的诉求不加区分予以提交，部分源于大部分人对政务热线诉求受理范围的不知晓，或者误以为政务热线可以解决所有诉求。少数人明知自己的诉求不符合相关要求，仍执意提交，实际上是其在通过其他各种渠道都无法得到解决的情况下，不得已选择了向政务热线求助。

这些不合理不合规的诉求浪费了有限的政务资源，运用《政治与法治》知识，谈谈如何减少不合理不合规的诉求。

18. (9分) 在以习近平同志为核心的党中央坚强领导下，各地区各部门认真贯彻落实党中央、国务院决策部署，2024年上半年我国国民经济运行总体平稳、稳中有进。

材料一 国家统计局发布 2024 年上半年经济发展数据，主要经济数据如下。

国内生产总值增长率	5.0%
农业（种植业）增加值同比增长（夏粮生产再获丰收）	4.0%
全国规模以上工业增加值同比增长	6.0%
服务业增加值同比增长	4.6%
社会消费品零售总额同比增长	3.7%
固定资产投资同比增长	3.9%
货物进出口总额同比增长	6.1%
居民可支配收入同比增长	5.4%
全国城镇调查失业率均值	5.1%
消费品价格比上年同期上涨	0.1%

(1) 上表反映了什么信息？（3分）

**材料二** 金融机构对实体经济发放的人民币贷款余额为 247.93 万亿元，同比增长 8.3%。高技术制造业投资和高技术服务业投资分别同比增长 10.1%和 11.7%，高于全部固定资产投资增速 6.2 和 7.8 个百分点。

规模以上高技术服务业企业营业收入同比增长 9.9%，高于全部规模以上服务业企业 1.4 个百分点，其中规模以上信息传输、软件和信息技术服务业企业营业收入增长 11.2%，高于全部规模以上服务业企业 2.7 个百分点。

我国与第一大贸易伙伴东盟之间的贸易总值为 3.36 万亿元，增长 10.5%，占我国外贸总值的 15.9%。同期，我国对共建“一带一路”国家合计进出口 10.03 万亿元，增长 7.2%。

(2) 结合材料二，运用经济学知识，说明多种积极因素是怎样拉动经济高质量发展的。(6分)

19. (15分) 北京时间 2024 年 8 月 12 日凌晨，巴黎第 33 届奥运会闭幕。

**材料一** 16 天的狂欢，留下的不仅仅是奖牌与荣誉，更是那份深植于心的感动与共鸣。中国体育代表团取得我国参加夏季奥运会境外参赛历史最好成绩。在观看这场体育盛会的过程中，有哪些法律问题值得我们关注呢？

(1) 某校高三同学对下面问题进行了研究。(9分)

序号	内容	法律分析
情境一	我想把央视播放的奥运赛事剪成视频集锦，在网上分享给更多的人！	
情境二	中国奥运健儿捷报频传，王楚钦、孙颖莎“莎头”组合夺得首枚混双金牌，黄雅琼、郑思维“雅思”组合圆梦巴黎，梁伟铿、王昶“梁王”组合欢乐与实力并存……我想把这些组合注册成商标。	
情境三	电商平台上有不少商家销售“巴黎奥运会奖牌”，单个 120 元左右，300 元可买金银铜全套。交易记录显示，已成交多笔订单。	

**材料二** 中共中央 国务院致第 33 届奥运会中国体育代表团的贺电(摘)

你们始终牢记党和人民的嘱托，大力弘扬中华体育精神和奥林匹克精神，坚持拿道德的金牌、风格的金牌、干净的金牌，以昂扬的斗志、顽强的作风、高超的技能，书写了中国体育昂扬奋进的崭新篇章，展现了体育战线改革创新、奋勇向前的时代风貌。你们积极践行“更快、更高、更强——更团结”的奥林匹克格言，同世界各国各地区运动员公平竞争、友好交流，增长了技能、增进了友谊，向世界展示了中国力量和中国风貌、传播了中国声音和中国精神。你们的优异成绩和出色表现，进一步激发了海内外中华儿女的爱国热情、振奋了民族精神、凝聚了奋进力量。

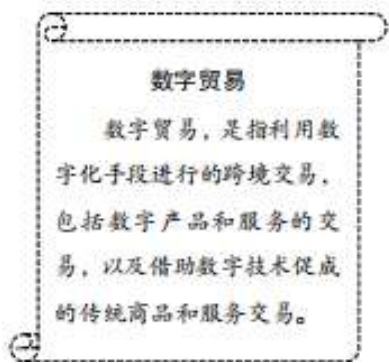
据此，某同学作出如下推理：



中国奥运会体育代表团具有昂扬的斗志、顽强的作风、高超的技能，具有昂扬的斗志、顽强的作风、高超的技能的奥运会体育代表团成绩优异和表现出色，所以中国奥运会体育代表团成绩优异和表现出色。

(2) 写出该推理的类型，判断其正确与否，并说明理由。(6分)

20. (7分) 贸易，有一种别样的美丽。



从前，车、马、邮都很慢，到航海时代，人们手握罗盘和黄金，在风暴中搏击海浪，进入工业革命，远方传来汽笛声，火车铁轨蜿蜒万里。如今，信息奔流，数据涌动，贸易换上新的容颜——数字贸易。

近年来，中国积极对接高标准国际经贸规则，建立健全数字贸易治理体系，促进数字贸易改革创新发  
展；致力于打造开放、包容、公平、公正、非歧视的数字经济发展环境，促进全球数字贸易高质量可持续发展。

2023年11月，第二届全球数字贸易博览会在浙江杭州举办。来自68个国家1018家企业线下参展，367家企业通过数贸会云平台线上参展。通过数贸会，搭上中国电商便车的柬埔寨龙眼，打开了销售新天地；埃塞俄比亚种植户的咖啡豆经由海外仓转运至中国，被加工包装成挂耳咖啡，再由直播平台售出，销量大幅提升。

我国已批准建设了165个跨境电子商务综合试验区，跨境电商主体超过10万家；同时在非洲、东南亚、拉美等地区对数字贸易基础设施和技术的投资快速增长，对于当地经济产生了变革性的影响，提高了当地在全球数字市场当中的参与度。

结合材料，运用《当代国际政治与经济》知识，分析中国数字贸易何以成为共同发展的新引擎。

21. (9分) 2024年7月15日至18日，党的二十届三中全会在北京举行，这次全会紧紧围绕推进中国式现代化这个主题擘画进一步全面深化改革战略举措。

全会高度评价新时代以来全面深化改革的成功实践和伟大成就，研究了进一步全面深化改革、推进中国式现代化问题，认为当前和今后一个时期是以中国式现代化全面推进强国建设、民族复兴伟业的关键时期。中国式现代化是在改革开放中不断推进的，也必将在改革开放中开辟广阔前景。面对纷繁复杂的国际国内形势，面对新一轮科技革命和产业变革，面对人民群众新期待，必须自觉把改革摆在更加突出位置，紧紧围绕推进中国式现代化进一步全面深化改革。

结合材料，综合运用所学，谈谈中国式现代化为什么是在改革开放中不断推进的。