

2024 北京一零一高二（上）开学考

政 治

友情提示：

本试卷分为 I 卷、II 卷两部分，共 35 个小题，共 13 页，满分 100 分；答题时间为 60 分钟；请将答案写在答题纸上。

I 卷：选择题（共 60 分）

1. 2024 年 1 月，《关于内地与香港特别行政区法院相互认可和执行民商事案件判决的安排》（简称“民商事判决互认安排”）在内地与香港同步生效。以下为其中部分条款：

商事判决互认安排第二十三条审查认可和执行判决申请期间，当事人就同一争议提起诉讼的，不予受理；已经受理的，驳回起诉。第二十六条被请求方法院就认可和执行的申请作出裁定或者命令后，当事人不服的，在内地可以于裁定送达之日起十日内向上一级人民法院申请复议，在香港特别行政区可以依据其法律规定提出上诉。

“民商事判决互认安排”的实施（ ）

- ①扩大内地与香港法院管辖权，深化两地司法协作
- ②消除内地与香港在法律制度、司法理念上的差异
- ③坚持主权统一原则，彰显“一国两制”制度优势
- ④有效避免或减少当事人重复诉讼，节约司法资源

A. ①②

B. ①③

C. ②④

D. ③④



2. 中美农业圆桌论坛在美国密苏里州圣路易斯市召开。参会代表围绕“全球粮食安全一应对挑战”论坛主题各抒己见。

美国腹地(中西部地区)中国协会主席：我们的农业社区正在寻求机会，与中国建立更牢固的农业合作关系，希望中美双方保持沟通。

●中国驻美国大使馆工作人员：据美方统计，2022 年美国向中国农产品出口达到创纪录的 381.6 亿美元，同比增长 16%。中国对美农产品出口也实现增长，但规模和品种比较有限，希望进一步加强双向贸易。

这表明（ ）

- ①经济全球化深入发展，任何国家都无法独自面对全球性的挑战
- ②中美农业生产各有优势，中美双方的共同利益是加强合作的基础
- ③促进沟通合作、扩大农业贸易规模，解决了全球发展的最突出问题
- ④多边主义深入发展，有利于稳定全球供应链，解决全球粮食安全挑战

A. ①②

B. ①④

C. ②③

D. ③④

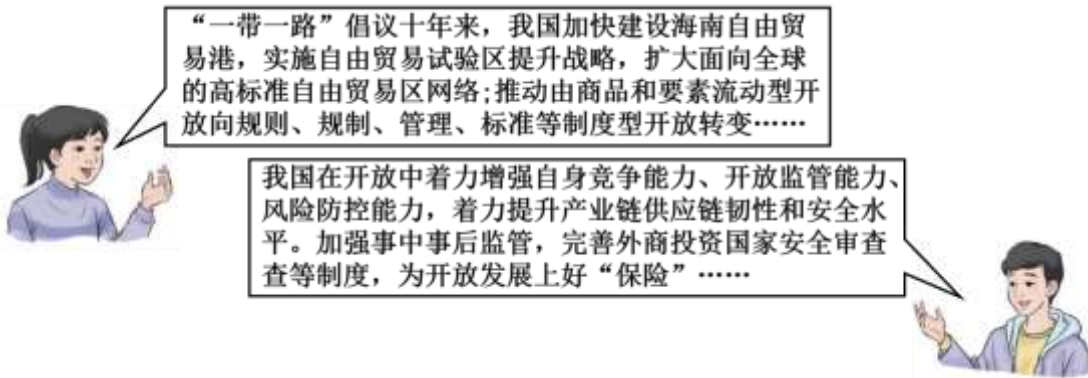
3. 2022 年服贸会为全球服务贸易发展注入新动力。信息通信技术、大数据、云计算、人工智能等数字技术的发展突飞猛进，服务贸易的新类别、新模式层出不穷；71 个国家和国际组织设展办会，7000 余家境内

外企线上线下参展，吸引超过 400 家世界 500 强及行业龙头企业线下参展……服贸会的成功举办（ ）

- ①有利于世界各国共享中国发展成果，共促世界经济发展
- ②凸显我国对外贸易发展新优势，优化对外投资结构
- ③促成我国全方位、多层次、宽领域的对外开放格局
- ④表明我国推进更高水平对外开放，加快构建新发展格局

A. ①③ B. ①④ C. ②③ D. ②④

4. 中国做出的下述努力（ ）



- ①表明我国坚定不移地推进高水平对外开放，推动投资贸易自由化便利化
- ②表明我国将“一带一路”下维护多边贸易体制作为对外活动的出发点和落脚点
- ③彰显了我国坚持独立自主、自力更生的原则，坚持与世界经济深度融合的决心
- ④说明中国作为负责任大国，在全球治理中有绝对的话语权与规则制定权

A. ①② B. ①③ C. ②④ D. ③④

5. 中国提出全球发展倡议和全球安全倡议，得到国际社会广泛响应，目前 100 多个国家和包括联合国在内多个国际组织支持全球发展倡议。上述中国倡议得到世界广泛认可说明（ ）

- ①中国倡议反映了全人类共同的价值追求，旨在保护中国人民的利益
- ②世界多极化是当今时代的主题，中国为世界和平与发展做贡献
- ③中国以实际行动践行人类命运共同体理念，构建新型国际关系
- ④世界各国的相互联系与依存程度日益加深，需要各国同心协力

A. ①② B. ①④ C. ②③ D. ③④

6. 某高中生在准备“各具特色的国家”的主题发言时，整理了以下资料。下列论述正确的是（ ）

- ①美国各州是享有相对主权的完整政治实体，其权力并非由联邦整体所授予
- ②若德国联邦议院对政府表示不信任，政府就只能集体辞职
- ③英国、日本保留了君主，但国家政权的实际运行与民主共和制国家大体相同
- ④法国总统作为政府首脑，向议会负责，拥有一定的行政权力

A. ①③ B. ①④ C. ②③ D. ②④

7. 文化遗产合作是中法两国文化关系中颇具活力的亮点。中国秦始皇帝陵博物院与法国文化遗产科学基金会签署协议书，双方联合开展秦始皇帝陵火烧木材和巴黎圣母院火烧木材遗迹保护修复以及价值认知研究。下列分析正确的是（ ）

- ①双方签署的协议书具有国际法效力
- ②木质遗存保护这一共性问题为双方合作的重要基础
- ③共同开展文化遗产研究，推动了国际关系民主化
- ④中法文化遗产保护合作是两国文明伙伴关系的生动写照



- A. ①③ B. ①④ C. ②③ D. ②④

8. “鞋子合不合脚，自己穿了才知道。”一个国家的发展道路合不合适，只有这个国家的人民才最有发言权。20年前，美国政府提出要对伊拉克进行“民主改造”，如今人们看到的是美国强推“民主”给伊拉克造成的无尽伤害。这充分证实（ ）

- ①各国发展道路不同，难以借鉴其他政治文明发展的成果
- ②世界上没有完全相同的、适用于一切国家的政治制度模式
- ③一国政体不是一成不变的，会随着国体变化而发生根本变化
- ④各国人民有权选择符合国情的发展道路，国家内政不应被干涉

- A. ①③ B. ①④ C. ②③ D. ②④

9. 某国 2022 年 11 月 1 日举行第 25 届议会选举，共有 40 个政党和党派联盟角逐议会 120 个席位，这是该国不到四年举行的第五次议会选举。获得议会半数以上议席的政党可单独组阁，历史上该国从未出现单一政党组阁的情况。对此理解正确的是（ ）

- A. 从政党制度看，该国政党制度属于多党制
- B. 从立法机关与行政机关的关系看，该国实行总统制
- C. 从政权组织形式判断，该国国家元首总揽行政权力
- D. 从国家的结构形式看，该国政府总揽行政权力并向议会负责

10. 20 世纪初法国和德国部分学者认为，当在一个固定的领土范围内居住着一个人民(经常是同一民族或有共同的认同感)，而在这个人民中又行使着一个合法的政治权力时，便存在着国家。这一观点（ ）

- ①揭示了国家的本质
- ②涉及国家的构成要素
- ③意识到国家具有政治统治和社会管理职能
- ④没有看到国家是阶级矛盾不可调和的产物和表现

- A. ①② B. ①③ C. ②④ D. ③④

11. 2009 年以来，中国连续 13 年保持东盟第一大贸易伙伴地位，2020 年东盟跃升为中国第一大贸易伙伴，首次形成中国同东盟互为第一大贸易伙伴的良好格局。2013 年中国与东盟贸易额为 4436.1 亿美元，2022 年双边贸易额翻了一倍，达到 9753.4 亿美元。截至 2021 年 6 月底，双向投资额累计超过 3100 亿美元。双方民众不断享受到优质商品和服务，获得越来越多的就业机会。下列选项中，最恰当概述上面信息内容的是（ ）

- A. 发展是中国与东盟国家合作的最大公约数
- B. 世界经济一体化进程随着科技进步加速发展
- C. 中国是解决发展失衡全球性问题的关键引领者

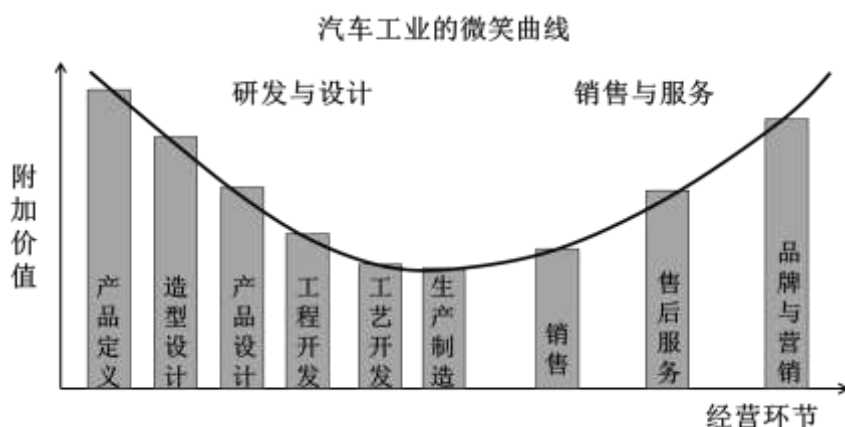
D. 维护中国与东盟的共同利益是联合国的宗旨和原则

12. 2024年, 沙特阿拉伯、埃及、阿联酋、伊朗、埃塞俄比亚成为金砖国家正式成员。此外, 有34个国家通过书面请求表达加入金砖合作机制的兴趣; 金砖国家外长正在制定“金砖国家伙伴模式”, 以接纳尚未成为正式成员国的17个国家。“金砖朋友圈”的不断扩大有助于 ()

- ①将金砖国家打造成新兴市场和发展中国家加强团结合作、维护共同利益的重要平台
- ②在全球更大范围内弘扬承认多样性, 强调灵活性、渐进性和开放性的“金砖精神”
- ③顺应历史大势、发挥金砖国家推动构建新型国际关系与人类命运共同体的积极作用
- ④坚持亲、诚、惠、容的外交理念, 传播中国声音、贡献中国智慧、彰显中国魅力

A. ①② B. ①③ C. ②④ D. ③④

13. 有人以“微笑曲线”形容跨国性的价值创造与分配链条。



根据汽车工业的微笑曲线, 下列关于汽车工业的说法正确的是 ()

- ①在汽车工业领域, 产品设计、品牌与营销处于价值链条高端
- ②一个国家如不能掌控汽车制造企业股权, 会脱离产业链高端
- ③中国新能源汽车企业优化产品设计, 有利于提升产品附加值
- ④不断降低汽车的制造成本, 就能够保持汽车产销的绝对优势

A. ①② B. ①③ C. ②④ D. ③④

第78届联合国大会协商一致通过中国提出的设立文明对话国际日决议, 决定将6月10日设立为文明对话国际日。回答下面小题。

14. 关于联合国, 下列说法中正确的是 ()

- ①联合国关于实质性问题的决定, 实行“大国一致”原则
- ②联合国在任何情况下都不得干涉属于任何国家国内管辖的事项
- ③联合国是实践多边主义的重要场所, 发展与和平、人权是联合国工作的三大支柱
- ④联合国大会是联合国的主要审议机构, 其关于重要问题的决定必须由三分之二多数通过

A. ①② B. ①③ C. ②④ D. ③④

15. 联合国大会关于设立文明对话国际日的决议, 明确所有文明成就都是人类社会的共同财富, 突出强调文明对话对于维护世界和平、促进共同发展、增进人类福祉、实现共同进步的重要作用。以“所有文明成就都是人类社会的共同财富”为前提, 可必然推出的结论是 ()



- A. 所有人类社会的共同财富都是文明成就
- B. 文明成就不都是人类社会的共同财富
- C. 有的人类社会的共同财富是文明成就
- D. 有的文明成就不是人类社会的共同财富

16. “国不以利为利，以义为利也”，在国际合作中，我们要注重利，更要注重义，要倡导合作发展理念，在国际关系中践行正确义利观。下列做法中，符合正确义利观的是（ ）

- A. 超越狭隘的国家利益观，做到义利相兼、先义后利
- B. 提供更多的国际公共产品，落实利益至上原则
- C. 秉持真实亲诚理念，加强同发达国家的团结合作
- D. 坚持零和思维，与各国人民共享机遇、共赢挑战、共同繁荣

17. 2024年2月，欧盟理事会通过《关键原材料法案》。法案的材料清单中包含稀土、锂、镍等对绿色转型、数字化转型、国防和航天工业至关重要的34种关键材料，其中包括17种战略原材料。该法案为战略原材料供应链上的本土产能设定明确的目标：10%来自本地开采 40%在欧盟加工，25%来自本土回收材料。据此可判断

- A. 欧盟理事会作为欧盟最高决策机构，对维护欧盟经济安全负有主要责任
- B. 实施该法案有利于欧洲本土原材料企业降低成本，提升企业国际竞争力
- C. 该法案将降低欧盟对外部供应的依赖，但妨碍资源要素在全球自由流动
- D. 该法案的实施能充分发挥欧盟在原材料产业的比较优势，扩大市场规模

18. 西安国际港站——全国中欧班列开行量最大的车站，向西，常态化开行西安至哈萨克斯坦阿拉木图、乌兹别克斯坦塔什干、德国汉堡及跨里海等18条国际干线，覆盖亚欧大陆全境，通达国际贸易热门地区；向东，开行西安至青岛、宁波、连云港等铁海联运图定班列；向南，开行至越南、老挝等互联互通班列。2023年，从这里发出的中欧班列超5000列。这表明（ ）

- ①我国以国内大循环吸引全球资源要素，提升贸易的质量和水平
- ②我国奉行多边贸易，更加主动地参与和推动经济全球化进程
- ③我国推动形成陆海内外联动、东西双向互济的开放新格局
- ④经济全球化背景下不同国家和地区结成了一荣俱荣的关系

- A. ①②
- B. ①④
- C. ②③
- D. ③④

19. “全球南方”作为新兴市场国家和发展中国家的集合体，在过去20年对世界经济增长的贡献率高达80%，过去40年中，这些国家国内生产总值的全球占比从24%增至40%以上，正在深刻改写世界经济的版图。“全球南方”在国际上强调发展议题，积极开展国际发展合作，共同抵制单边主义、保护主义对全球合作进程的阻挠。“全球南方”（ ）

- ①能推动国际力量对比朝着更加平衡的方向发展
- ②为推动世界经济全球化进程注入了新的动力
- ③已成为推动国际关系民主化进程的决定力量
- ④致力于加强双边协调配合、团结合作、联合自强

- A. ①② B. ①④ C. ②③ D. ③④

20. 种类繁多的国际组织在促进国际社会交流、协调、合作、促进世界和平与发展方面等发挥着重要的作用。下面有关国际组织说法正确的是()

- ①亚太经合组织是亚太地区层级最高, 领域最广, 最具影响力的经济合作机制
②亚洲基础设施投资银行是世界上幅员最广, 人口最多的综合性区域合作组织
③上海合作组织自成立之初, 就将打击“三股势力”, 维护世界安全稳定视为重要的合作领域
④二十国集团成员涵盖面广, 代表性强, 主要讨论全球重大经济金融热点问题

- A. ②④ B. ②③ C. ①③ D. ①④

21. 2023年11月, 国家主席习近平在亚太经合组织第三十次领导人非正式会议上发表重要讲话强调, 我们应该秉持亚太合作初心, 积极主动扩大开放, 建设开放、活力、强韧、和平的亚太共同体, 实现亚太人民和子孙后代的共同繁荣。国家主席习近平的这一论述是基于()

- ①建设亚太共同体符合各成员的共同利益
②中国是经济全球化的受益者和贡献者
③亚太经合组织是亚太地区层级最高的经济合作机制
④经济全球化为亚太经济发展提供强劲动力

- A. ①② B. ①④ C. ②③ D. ③④



22. 2024年4月23日, 第四届塑料污染政府间谈判委员会全体会议在渥太华举行。按照联合国环境大会决议, 建立一个政府间谈判委员会, 到2024年年底达成一项具有国际法律约束力的协议, 涉及塑料制品的整个生命周期。目前, 这项旨在制定一项关于塑料污染具有法律约束力的国际文书谈判已经成功举办了三届, 距离世界“塑料公约”只有一步之遥。材料表明()

- ①“塑料公约”一经做出, 就将为世界各国的发展合作确立路线图和时间表
②塑料污染问题已成为阻碍世界可持续发展的重大障碍, 关乎全人类的共同利益
③联合国环境大会作为联合国主要机构, 在人类生态环境保护方面肩负主要责任
④环境污染问题没有国界, 应凝聚国际共识开展全球治理携手建设美丽家园

- A. ①③ B. ①④ C. ②③ D. ②④

23. 2024年3月1日, 第六届联合国环境大会通过多项有关气候变化的环境决议。闭幕式上, 环境署执行主任表示: “谈判并不总是那么容易, 成员国很难达成共识。但这就是多边主义的本质, 重要的是我们如何持不同意见却尊重对方, 然后寻求克服我们的分歧。”上述材料表明()

- ①联合国通过多项决议破解传统安全困境
②多边主义是国际关系民主化的时代产物
③联合国是集体应对威胁的有效平台
④多边主义强调通过对话解决分歧, 反对歧视性

- A. ①② B. ①③ C. ②④ D. ③④

24. 2024年2月26日, 世界移动通信大会在巴塞罗那开幕。近300家来自中国的参展商成为本次大会最大的焦点之一, 不少中国企业的展台旁边都围满了来自世界各国的媒体和访客, 为的就是第一时间体验最

新的产品和前沿科技。来自中国的参展商成为本次大会最大的焦点之一（ ）

- ①是我国在科技领域处于遥遥领先地位的充分体现
- ②得益于我国贯彻落实创新发展理念重视技术创新
- ③能够为我国实现高质量发展奠定坚实的物质基础
- ④有助于我国的通讯产品占领世界市场的更大份额



- A. ①③ B. ①④ C. ②③ D. ②④

25. 2023年11月，以“链接世界共创未来”为主题的中国国际供应链促进博览会在北京开幕。本届链博会，是全球首个以供应链为主题的国家级展会，500余家中外企业和机构参展，一系列“链”上合作密集展开，“链”上签约纷纷落地。这表明我国（ ）

- A. 践行真正的多边主义，以行动推动国际关系民主化
- B. 奉行互利共赢的开放战略，推动建设开放型世界经济
- C. 深度参与全球产业分工和合作，主导经济全球化进程
- D. 积极推动贸易和投资自由化，促进世界经济的一体化

26. 2021年9月，习近平主席在第七十六届联合国大会一般性辩论中提出“全球发展倡议”，呼吁国际社会重视发展问题，持续深化国际发展合作。2022年4月，习近平主席在博鳌亚洲论坛上提出“全球安全倡议”，倡导坚持共同、综合、合作、可持续的安全观。2023年3月15日，习近平总书记出席中国共产党与世界政党高层对话会，提出“全球文明倡议”，提倡世界文明交流互鉴。中国提出三大倡议（ ）

- ①符合当今时代主题，有利于推动世界的持久和平与发展
- ②立足各国共同利益，体现各国人民对现代化的共同向往
- ③发挥领导核心作用，引领人类命运共同体的潮流和方向
- ④体现大国责任担当，为全球治理提供中国智慧中国方案

- A. ①② B. ①④ C. ②③ D. ③④

27. 阅读下面一则新闻：

新华社北京12月3日电北起昆明、终抵老挝万象的中老铁路3日迎来开通运营两周年。两年来，这条“钢铁丝路”承载中老两国人民梦想，让两国乘客、货物“双向奔赴”，促进沿线商业、人文交融共赢，成为一条与山川同美、不断造福沿线人民的国际黄金大通道。作为中老共建“一带一路”标杆项目，中老铁路开通运营两年来为区域经济社会发展注入新活力，成为中老人民的幸福路、发展路、友谊路，书写着共建“一带一路”的佳话。

如果给以上新闻拟一个标题，你认为最恰当的是（ ）

- A. 从对本国负责到对世界负责，钢铁丝路改善民生
- B. 中国智慧惠及世界，中国方案助力中老互利共赢
- C. 共担使命、共谋未来，中老加快推进世界多极化
- D. 中老携手，为全球范围的南北合作树立良好典范

28. 2024年1月1日，沙特、埃及、阿联酋、伊朗、埃塞俄比亚成为金砖国家正式成员。金砖增加新成员被视为将全球秩序重塑为多极世界的战略努力，来自“全球南方”的声音将在国际舞台上发挥更加突出的作

用，随着这些充满活力的经济体加入金砖国家，为全球范围内的合作和经济发展创造新的机遇，由此可见（ ）

- ①金砖国家坚持单边行动与集体行动相结合，加速推进区域经济一体化进程
- ②金砖国家扩员，推动国际格局向多极化发展，为世界经济企稳复苏提供强大动能
- ③金砖国家已成为新兴市场与发展中国家间加强团结合作、维护共同利益的重要平台
- ④金砖国家是当今世界区域合作的典范，得到其他国家和国际组织的一致认同和支持

A. ①③ B. ①④ C. ②③ D. ②④

29. 2023 年以来国际局势总体更趋紧张，百年未有之大变局加速演进。俄乌冲突在对峙中呈现长期化趋势，冲击效应更为深远持久；巴以冲突时隔多年再度激化；朝鲜半岛紧张局势；南海矛盾……当前国际格局和国际体系正在发生深刻调整，全球治理体系正在发生深刻变革，国际力量对比正在发生近代以来最具革命性的变化。大变局之下，中国应该（ ）

- ①坚持正确历史观、大局观，坚持推动构建人类命运共同体
- ②作为新兴大国，坚持贸易保护主义，应对西方大国的遏制
- ③摒弃零和思维，与伙伴国家结盟应对挑战，推进全球治理
- ④坚持反对霸权主义和强权政治，推动构建新型的国际关系

A. ①③ B. ①④ C. ②③ D. ②④



30. 2023 年 8 月，金砖国家领导人第十五次会晤在南非约翰内斯堡举行，中国积极主张为推动金砖扩容发挥了重要作用；10 月，第三届“一带一路”国际合作高峰论坛在北京举行，中国以此提振全球经济发展信心；12 月，中国与越南就进一步深化和提升全面战略合作伙伴关系达成一致。这些高光的外交时刻（ ）

- ①发展了地缘政治，打造了国际交流合作的新高度
- ②彰显了新时代中国外交的国际影响力和独特魅力
- ③为开创中国特色大国外交新局面明确了前进方向
- ④说明走和平发展道路可以跨越制度和阶级的界限

A. ①③ B. ①④ C. ②③ D. ②④

II 卷 非选择题（共 40 分）

31. 中国式现代化是走和平发展道路的现代化。

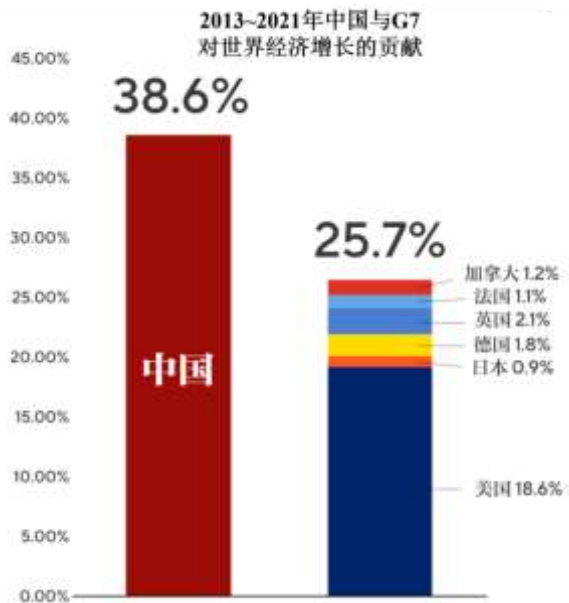
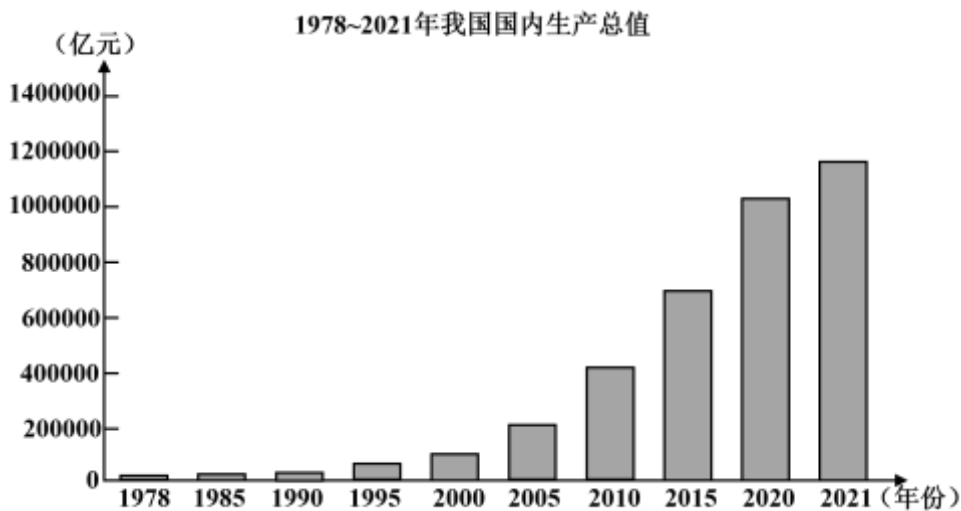
杂交水稻技术是中国开展国际农业合作的一张闪亮名片。中国杂交水稻已在亚洲、非洲、美洲数十个国家和地区推广种植，年种植面积达 800 万公顷。平均每公顷产量比当地优良品种高出 2 吨左右。中国为 80 多个发展中国家培训 1.4 万多名杂交水稻专业技术人员。

案例 1	案例 2	案例 3
在马达加斯加，中国专家研发出适合当地需求的“高产、优质、多抗”杂交水稻品种，帮助当地农民	在尼日利亚，中国通过派出专家、推广作物良种、提供技术支持等方式，帮助尼日利亚在水稻	在乌干达，依托南南合作项目建成的中乌农业合作产业园将水稻产业作为合作重点

提高粮食产量，水稻图案被印在马达加斯加新版纸币上。	种植领域取得长足进步，成为非洲主要水稻生产国之一。	之一，帮助乌干达提高粮食安全水平。
---------------------------	---------------------------	-------------------

结合材料，运用《当代国际政治与经济》知识，阐述中国积极推动杂交水稻技术在世界推广，开展国际农业合作的理由。（6分）

32. 某班同学以“中国经济发展成就”为主题，开展探究学习。老师给出两张图，让同学们以组为单位进行研究。



(1)读上图，运用《当代国际政治与经济》知识，完成下表。（4分）

上图反映的我国成就	论证的观点
①	②

当今世界正处于大发展、大变革、大调整时期，充满希望也充满挑战。中国的发展得益于国际社会，着眼于新时代中国发展的世界坐标，把握中国与世界新的交汇点，坚持互利共赢的开放和发展战略，

把合作共赢理念体现在对外合作的方方面面。

(2)运用《当代国际政治与经济》知识，以“合作共赢是最大公约数”为题，撰写一篇小论文。(6分)

33. 第十三届全国人大常委会第三十八次会议审议通过了《全国人民代表大会常务委员会关于〈中华人民共和国香港特别行政区维护国家安全法〉第十四条和第四十七条的解释》。本解释进一步明确了香港国安法第十四条规定、第四十七条规定的含义，明确了香港国安法实施中遇到的新情况新问题应当适用的法律依据。

法律解释权是全国人大常委会的一项重要职权，宪法第六十七条第四项和立法法第四十五条第一款都作出了明确规定。就香港特别行政区而言，全国人大常委会先后1次解释国籍法、5次解释香港基本法，形成了较为成熟的释法经验和做法，其效力得到普遍认同。全国人大常委会的释法是从国家层面解决特别行政区层面难以解决的法律问题，解疑释惑、息纷止争，可以起到“一锤定音”的作用，有关释法内容已成为我国特别行政区法律制度的重要组成部分。

结合材料，运用《当代国际政治与经济》知识，说明全国人大常委会解释《中华人民共和国香港特别行政区维护国家安全法》的理由。(6分)

34. 中国面对深刻变化的国际形势，攻坚克难，砥砺前行，开创性推动中国特色大国外交实践。

镜头一中国始终把握经济全球化发展大势，坚定不移同世界共享市场机遇。作为世界上第一个以进口为主题的国家级展会，进口博览会已成功举办四届。进博会成为中国践行多边主义，推动构建人类命运共同体的生动写照。

镜头二 2023年3月26日中国和洪都拉斯建立外交关系。洪都拉斯政府选择同世界上181个国家站在一起，承认并承诺恪守一个中国原则，同台湾断绝所谓的“外交关系”，同中华人民共和国建立外交关系，并承诺不再同台湾发生任何官方关系，不进行任何官方往来。

镜头三 2022年6月23日，国家主席习近平在京以视频方式主持金砖国家(已成为新兴市场和发展中国家加强团结合作、维护共同利益的重要平台)领导人第14次会晤。各方就构建新时代全球发展伙伴关系、加强和改革全球治理、团结抗击疫情、促进经济复苏等方面凝聚合作共识。

(1)任选一个镜头，说明该镜头是如何体现我国外交政策的基本内容的。(6分)

(2)结合材料和你知道的中国外交政策实践事例，谈谈你对中国“开创性推动中国特色大国外交实践”的认识。(6分)

35. 今天，世界各国的相互交融比过去任何时候都更广泛、更深入。同时，百年大变局加速演进，和平赤字、发展赤字、安全赤字、治理赤字有增无减。面对层出不穷的全球性挑战，最强大的力量是齐心协力，最有效的方法是同舟共济，最光明的前景是合作共赢，但“文明优越论”“文明冲突论”的杂音逆流不时泛起，阻碍着人类发展进步。

全球文明倡议的“四个共同倡导”共同倡导尊重世界文明多样性

共同倡导弘扬全人类共同价值

共同倡导加强国际人文交流合作

共同倡导重视文明传承和创新



全球文明倡议提出“以文明交流超越文明隔阂、文明互鉴超越文明冲突、文明包容超越文明优

越。”

结合材料，综合运用所学，围绕“全球文明倡议”写一篇 200-300 字的短评。

要求：主题鲜明；可以全面论述，也可以就某一点深入分析；知识运用准确、贴切；论述合乎逻辑，条理清晰。（6分）

