



# 延庆区 2023-2024 学年第二学期期末试卷

## 八年级历史

2024. 6

考生须知	1. 本试卷共 8 页，共两部分，24 道题。满分 70 分，考试时间 70 分钟。 2. 在试卷和答题卡上准确填写姓名、准考证号、考场号和座位号。 3. 试题答案一律填涂或书写在答题卡上，在试卷上作答无效。 4. 在答题卡上，选择题用 2B 铅笔作答，其他试题用黑色字迹签字笔作答。 5. 考试结束，将本试卷、答案卡和草稿纸一并交回。
------	--

### 第一部分

本部分共 20 题，每题 1.5 分，共 30 分。在每题列出的四个选项中，选出最符合题目要求的一项。

- 1839 年，一位在广东的外国人说“鸦片是在最彻底的手段下被销毁了……全部事务的处理，在人类历史上必将永远是一个最为卓越的事件。”他所说的事件是
  - 虎门销烟
  - 三元里抗英斗争
  - 太平天国运动
  - 义和团运动
- 下面示意图中的历史事件反映的主题是




- 北洋政府的统治与军阀割据
  - 国共合作与北伐战争
  - 开辟井冈山道路
  - 中国工农红军长征
- 1943 年，中国政府先后与美国、英国签署新条约，取消了近代以来美、英在华的许多特权，随后荷兰、比利时等国相继放弃在中国的不平等权益。这说明
    - 抗日战争提升了中国的国际地位
    - 美英等国建立了公正的国际秩序
    - 中国取得了反帝斗争的完全胜利
    - 抗美援朝战争捍卫了新中国的安全



4. 下表是 1932 年社会局统计的北平市各类车辆数量。这反映出近代交通工具

类别	自行车	人力车	马车	汽车	摩托车	骡马大车
数量 (辆)	64100	42900	300	2200	40	9400

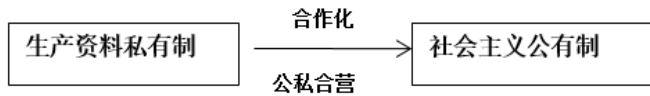
- A. 变化首先出现在沿海地区                      B. 受到新式教育发展的影响  
C. 体现出自由平等的风尚                      D. 呈现出新旧并存的特征
5. 1949 年《北平日报》消息：“太阳升起的时候，沉重的雾霭已经散了，是一九四九年二月一日，北平完全解放的第二天清晨。解放就是光明的到来，电灯亮起来了，街灯燃了一夜……”该新闻报道的胜利战役是
- A. 辽沈战役    B. 平津战役  
C. 淮海战役    D. 渡江战役
6. 1949 年中央人民广播电台在某一活动现场直播道：“国旗已经升到旗杆的顶尖，开始在人民首都的晴空迎风招展。她象征着中国的历史已经走入一个新的时代，我们的国旗——五星红旗将永远飘扬在人民祖国的天地上。”这一活动是
- A. 政治协商会议                                      B. 开国大典  
C. 抗美援朝战争                                      D. 西藏和平解放
7. 某同学的笔记中有如下信息：“抵御了帝国主义侵略扩张，捍卫了新中国安全，稳定了朝鲜半岛局势，提高了我国国际地位。”你判断他记录的历史事件是
- A. 抗日战争    B. 解放战争  
C. 开国大典    D. 抗美援朝
8. 20 世纪 50 年代初，农民们高兴地说：“过去头顶地主的天，脚踏地主的地，现在都成为我们的了。”与材料相关的历史事件是
- A. 开国大典    B. 抗美援朝  
C. 土地改革    D. 西部大开发
9. 下面图文材料反映了

 <p>人民代表步入第一届全国人民代表大会第一次会议会场</p>	<p>中华人民共和国的一切权力属于人民。人民行使权力的机关是全国人民代表大会和地方各级人民代表大会。……中华人民共和国全国人民代表大会是最高国家权力机关。</p> <p>——《中华人民共和国宪法》（1954 年）</p>
---	--

- A. 人民代表大会制度的确立                      B. 经济建设的顺利进行  
C. 封建土地制度被废除                              D. 民族区域自治制度的确立



10. 下列图示反映的历史事件是



- A. 农业合作化  
B. 三大改造  
C. 改革开放  
D. 家庭联产承包责任制
11. “小燕子，穿花衣……，今年这里更美丽，我们盖起了大工厂，装上了新机器。”这首歌曲在 20 世纪 50 年代广泛传唱。与歌词中“盖起了大工厂，装上了新机器”直接相关的历史事件是

- A. 土地改革的基本完成  
B. 抗美援朝战争的胜利  
C. “一五”计划的实施  
D. 和平共处五项原则的确立
12. 历史解释是对史实的分析或评判。下列选项中属于历史解释的是
- A. 1947 年内蒙古自治区成立  
B. 1984 年《中华人民共和国民族区域自治法》颁布实施  
C. 2006 年青藏铁路全线通车  
D. 实行民族区域自治为实现各民族共同发展、共同富裕奠定了基础

13. 下图反映了中国共产党百年发展的历程。开启第三阶段的标志性事件是



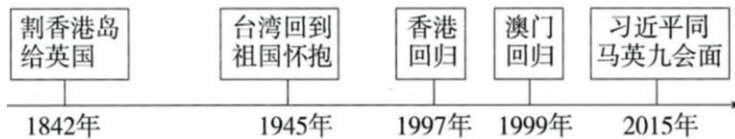
- A. 中华人民共和国的成立  
B. 社会主义改造的完成  
C. 十一届三中全会的召开  
D. 中共“九大”的召开
14. 下表是首钢 1978 年至 1991 年改革与发展的成就，出现如表情况的主要原因是

年份	1978 年	1991 年	倍数
销售收入	14. 51 亿元	91. 4 亿元	6. 3 倍
实现利税	4. 35 亿元	29. 26 亿元	6. 72 倍
实现利润	2. 99 亿元	23. 6 亿元	7. 9 倍

- A. 家庭联产承包责任制  
B. 城市经济体制改革  
C. 社会主义市场经济体制的建立  
D. 环渤海经济开发区设立的推动



15. 深圳一直是我国对外开放的重要“窗口”，现在正向中国特色社会主义先行示范区迈进，深圳成为“窗口”的起点是指
- A. 成为首批经济特区  
B. 实行家庭联产承包责任制  
C. 实行民族区域自治  
D. 开启了城市经济体制改革
16. 邓小平第一次明确提出“建设有中国特色的社会主义”这一崭新命题是在
- A. 中共“十二大”  
B. 中共十一届三中全会  
C. 中共十二届二中全会  
D. 中共“十三大”
17. 20世纪90年代，各种票证逐步淡出历史舞台，象征着一个“新时代”的来临。“新时代”是指
- A. 向社会主义过渡时期  
B. 人民公社化时期  
C. 社会主义计划经济时期  
D. 社会主义市场经济时期
18. 当今世界的经济发展趋势是经济全球化。2001年，我国为参与经济全球化开辟的新途径是
- A. 亚洲基础设施投资银行的成立  
B. 加入世界贸易组织  
C. 上海自贸区的成立  
D. “一带一路”的建设
19. 绘制主题时间轴是历史学习的有效方法。某同学将下列史实串连成线，据此可知他探讨的主题是



- A. 体制改革  
B. 钢铁长城  
C. 国家统一  
D. 民族团结
20. 2024年，中国最令人期待的武器有轰-20隐形轰炸机、单兵无人机、福建号航母和096核潜艇。轰-20将补齐空军短板，单兵无人机提高士兵作战能力，福建号航母增强海军实力，而096核潜艇拥有战略反击能力，是三位一体核打击力量的重要组成部分。这共同反映了
- A. 我国逐步走上了科技强军之路  
B. 火箭军成为我国五大军种之一  
C. 加强国防建设是我国中心任务  
D. 我国的海洋历史悠久、实力强




## 第二部分

本部分共 4 题，共 40 分

21. (10 分) 2024 年是中华人民共和国成立 75 周年。

材料一

《解放漫画选》中三幅漫画



- (1) 依据材料一，结合所学，说出中国人民政治协商会议第一届全体会议的内容。分析中华人民共和国成立的意义。(3 分)

材料二

建国以来《人民日报》部分年份元旦社论的标题

1950 年	《完成胜利，巩固胜利》
1956 年	《为全面地提早完成和超额完成五年计划而奋斗》
1979 年	《把主要精力集中到生产建设上来》
1992 年	《在改革开放中稳步发展》
2004 年	《奋进在全面建设小康社会的征程上》
2024 年	《满怀信心以中国式现代化全面推进强国建设、民族复兴伟业》

- (2) 依据材料二，结合所学，分别指出与 1956 年、1979 年元旦社论标题直接相关的史事。任选其一史事说明其影响。(3 分)

材料三

“学习楷模传承精神”部分卡片

<u>  </u> A <u>  </u> 精神	铁人精神	“两弹一星”精神
代表人物：黄继光 主要事迹：1952 年 10 月 19 日，在上甘岭战役的一次战斗中，他用胸膛堵住了敌人的机枪射口，英勇牺牲	代表人物： <u>  </u> B <u>  </u> 主要事迹：率领钻井队在极其艰苦的环境下开发大庆油田。面对险情时，用身体搅拌泥浆，制服了井喷	代表人物：邓稼先 主要事迹：隐姓埋名 28 年，与众多科学家在十分困难的条件下成功研制出中国第一颗： <u>  </u> C <u>  </u>

- (3) 依据材料三，结合所学，补全 ABC 处内容。从上述精神中任选一个，谈谈你的认识。(4 分)



22. (10分) 中华人民共和国的科技成就与国防建设。

材料一

①	1958年，中国第一台电子管计算机试制成功
②	1965年，中国首先完成了人工合成结晶牛胰岛素
③	1983年，中国第一台每秒钟运算一亿以上的“银河”巨型计算机研制成功
④	2000年，中国参与的人类基因组工作草图绘制完毕，并向全世界公布
⑤	2003年，神舟五号飞船升入太空并成功返回
⑥	2008年，神舟七号航天员翟志刚成功完成出舱任务，实现太空行走

(1) 将材料一中的史实与以下观点相对应。(填序号)(3分)

计算机技术迅速发展：A \_\_\_\_\_

生物技术的不断发展：B \_\_\_\_\_

航空航天技术的发展：C \_\_\_\_\_

材料二 开国大典阅兵由人民海军、陆军和空军组成。1984年阅兵，第二炮兵部队首次接受检阅。2019年，战略支援部队首次亮相国庆阅兵。

军种	开国大典阅兵	新中国成立10周年阅兵	新中国成立35周年阅兵	新中国成立70周年阅兵
空军	美制P-51战斗机、英国蚊式战斗机(缴获)等	国产喷气式轰炸机、歼-5歼击机(仿制)等	轰-6、歼-7型飞机(仿制)	歼-20战机(自主研发)、无侦-8无人侦察机等

(2) 依据材料二，结合所学，概括中国军队建设和国防武器装备的变化。分析其变化的原因。(4分)

材料三 中国式现代化道路创造了经济快速发展的奇迹和社会长期稳定的奇迹……开辟了一条崭新的不同于西方现代化的发展道路，丰富了人类探索现代化的多元图景和多元路径，为人类文明多样性发展提供了新的样态。

——摘编自薛金华《中国式现代化的历史进程及世界意义》

(3) 依据材料三，结合所学，概括中国式现代化道路的意义。(3分)



23. (10分) 外交是一个国家综合国力的体现。

材料一



图1 周恩来在万隆会议上发表演说



图2 在第26届联合国大会上，某提案通过后，各国代表欢呼庆祝



图3 毛泽东会见尼克松

(1) 依据材料一，结合所学，请从图1、图3中选择任意一幅图仿照示例进行说明。(3分)

示例：选择：图2

说明：1971年10月，第26届联合国大会通过决议，恢复中国合法席位。这是中国外交的重大胜利，中国积极参加国际事务，发挥了重要的作用。

材料二

1949-2017年与中国建交国家数量

年份	1949年	1959年	1969年	1979年	1989年	1999年	2017年
国家数量	10个	34个	45个	120个	136个	162个	175个

(2) 依据材料二，结合所学，指出中国建交国家数量的变化趋势。分析20世纪70年代变化的原因。(3分)

材料三 新时期，中国积极发展全球伙伴关系，秉持共商共建共享的全球治理观，顺应和平、发展、合作、共赢的时代潮流，积极参与全球治理体系改革和建设，推动构建人类命运共同体。随着中国特色大国外交全面推进，逐渐形成了全方位、多层次、立体化的外交布局。

——摘编自人教版教科书《中国历史》(八年级下册)




(3) 依据材料三，结合所学，分析中国特色大国外交的背景。概括新时期中国特色大国外交布局的特点。(4分)





24. (10分) 北京长城文化带。

材料一

	①八达岭长城。明朝修建，所用城砖和石料就地取材，墙体内填泥土石块，十分坚固。关城城门平时敞开，行人商旅自由出入，战时城门紧密防守。
	②居庸关云台。元代建筑，台中有石券门洞。券面石上雕刻了包括龙、象等各种精美图案，还雕刻了汉文、藏文、西夏文、八思巴文（蒙古文字）、维吾尔文等文字。
	③京张铁路青龙桥火车站。詹天佑创造了“人”字型轨道。1909年京张铁路通车，用事实还击了西方“中国造此路之工程师尚未出生”的嘲笑。

(1) 依据材料一，按历史时期的先后顺序考察以上活动地点。(写序号)任选一处考察地点，写出该考察地点反映的时代特征。(3分)

材料二 长城防御体系随着沿线商贸的发展，从军事功能上的封闭与防御逐渐转变为经济贸易功能上的开放与统一，形成了良好的贸易交往秩序体系。政治上的攻伐和竞争逐步被经济上的相互依存和互惠共赢所取代，这是我国历史朝着和谐稳定、各民族多元一体走向国家统一发展趋势的重要体现，也是我国民族团结与民族融合的实证。

——摘编自田林、王阳《民族融合：古代长城沿线的商贸往来》

(2) 依据材料二，指出长城功能的变化。简述长城的历史价值。(3分)

材料三 社团学生调查北京长城保护情况后整理出下表

2019年	《北京市长城文化带保护发展规划(2018-2035年)》公布，提出到2035年，通过抢险、日常维护等手段，北京市将实现长城本体和载体全线无险情
2020年	全国首个长城保护修复实践基地成立，长城修缮工作引入了考古环节，将修缮与考古、研究并重
2023年	利用无人机、数字化技术、智能传感器等检测长城本体及周边环境；推动建立长城数字化展示系统，让更多人了解长城文化

(3) 依据材料三，概括北京市保护长城文化带措施的特点。综合以上材料，说说保护长城文化带的必要性。(4分)





# 延庆区 2023-2024 学年第二学期期末答案

## 八年级历史

一、选择题（在每小题列出的四个选项中，只有一项符合题目要求，请把正确的选项填在答题卡内。每题 1.5 分，共 30 分）

题号	1	2	3	4	5	6	7	8	9	10
答案	A	C	A	D	B	B	D	C	A	B
题号	11	12	13	14	15	16	17	18	19	20
答案	C	D	C	B	A	A	D	B	C	A

二、材料分析题（共 40 分）

21.（10 分）

（1）内容：中国人民政治协商会议第一届全体会议通过了《共同纲领》，选举产生了中央人民政府委员会，确定了代国歌、国旗、首都、公元纪年等等。

意义：开辟了中国历史的新纪元，中国真正成为独立自主的国家，中国人民站起来了。壮大了世界和平民主和社会主义的力量。

（答出任意三点即可）（3 分）

（2）史实：“一五”计划（或三大改造）；十一届三中全会的召开。（2 分）

影响：“一五”计划：我国开始改变工业落后的面貌，向社会主义工业化迈进。

十一届三中全会：是新中国成立以来党的历史上具有深远意义的伟大转折，开启了改革开放和社会主义现代化建设新时期。（答出任意一点即可）（1 分）

（3）补充：A 抗美援朝精神；B 王进喜；C 原子弹。（3 分）

认识：从原因、内容及意义角度，合理即可给分。（1 分）

22.（10 分）

（1）计算机技术迅速发展：A ①③

生物技术的不断发展：B ②④

航空航天技术的发展：C ⑤⑥ （3分）

（2）变化：新的兵种不断增加；由初期的缴获到仿制到中国自主研制新式武器装备等。

原因：国家安定；经济发展；科技进步；国防强大等。

（答出任意四点即可）（2 分）

（3）意义：开辟了一条崭新的不同于西方现代化的发展道路，丰富了人类探索现代化的多元图景和多元路径，为人类文明多样性发展提供了新的样态。

（答出任意三点即可）（3 分）



23. (10分)

(1) 说明：图一，1955年在印度尼西亚召开的万隆会议，周恩来提出“求同存异”的方针，促进了会议的圆满成功，加强了同亚非各国的团结与合作。

(答出任意三点即可) (3分)

(2) 变化：建交的国家越来越多；范围越来越广等。

原因：国家统一；经济繁荣；思想开放等。

(答出任意三点即可) (3分)

(3) 背景：发展全球伙伴关系；秉持全球治理观；推动构建人类命运共同体等。

特点：全方位；多层次；立体化。

(答出任意四点即可) (4分)

24. (10分)

(1) 排序：②①③； (1分)

选择③，京张铁路青龙桥火车站，它是中国首条不使用外国资金及人员，由中国人自行设计，投入营运的铁路。反映出先进的中国人探索中国近代化的尝试。(答出任意两点即可) (2分)

(2) 变化：由军事防御发展为商贸往来；政治上的攻防转化为经济上的互惠共赢。

价值：我国历史朝着和谐稳定、各民族多元一体走向国家统一发展趋势的重要体现，也是我国民族团结与民族融合的实证。

(答出任意三点即可) (3分)

(3) 特点：制定规划；政府重视；持续不断保护；依托现代科技；加强宣传；手段多样等

必要性：长城是中华文明的象征之一；保护长城有利于宣扬中国传统文化；有利于扩大中华文明的影响力；有利于旅游开发等。

(答出任意四点即可) (4分)