



东城区 2023—2024 学年度第二学期期末统一检测

初二历史

2024.7



学校 _____ 班级 _____ 姓名 _____ 教育 ID 号 _____

考生须知	1. 本试卷共 8 页,共两部分,共 19 题,满分 70 分。考试时间 70 分钟。 2. 在试卷和答题卡上准确填写学校名称、班级、姓名和教育 ID 号。 3. 试题答案一律填涂或书写在答题卡上,在试卷上作答无效。 4. 在答题卡上,选择题用 2B 铅笔作答,其他试题用黑色字迹签字笔作答。 5. 考试结束后,请将答题卡交回。
------	--

第一部分 选择题(共 32 分)

本部分共 16 小题,每小题 2 分,共 32 分。在每小题列出的四个选项中,选出最符合题目要求的一项。

- 理解和认识历史事件的意义是历史学习的重要内容。以下各项中阐述抗美援朝战争胜利意义的是
 - 中国作为国际社会一个平等国家敢于在国际大会上说“不”并拒签和约,意味深长
 - 台湾光复是包括台湾同胞在内的全体中华儿女前赴后继、浴血奋战铸就的伟大胜利
 - 西方侵略者几百年来只要在东方一个海岸上架起几尊大炮就可霸占一个国家的时代是一去不复返了
 - 中华人民共和国五星红旗第一次在联合国升起,这是中国外交战线的一个重大胜利
- 以下图文资料反映了 1959 年西藏地区进行民主改革前后的变化,从中可以看出民主改革

资料	民主改革前	民主改革后
照片	 《桑登求乞》 (西藏百万农奴解放纪念馆馆藏)	 《桑登分到了土地》 (西藏百万农奴解放纪念馆馆藏)
歌谣	“即使雪山变成酥油,也是被领主占有;就是河水变成牛奶,我们也喝不上一口”	“头上照了太阳,口中舔了酥油”

- 确立农民土地所有制
 - 使农奴翻身当家做主
 - 建立了第一个自治区
 - 使西藏得到和平解放
- A. ①② B. ①③ C. ②④ D. ③④



3. 以下两幅图片共同反映的历史事件



农业实现合作化后，
农民代表向党中央和毛主席报喜



工商业实现全行业公私合营后，
工商界代表向党中央和毛主席报喜

- A. 拉开了中国完全意义上的近代民族民主革命的序幕
- B. 彻底摧毁了我国存在 2000 多年的封建土地制度
- C. 为社会主义民主政治建设奠定了基础
- D. 使社会主义基本制度在我国建立起来

4. 下表①和②处应填写

<p>1960 年，①率领钻井队到大庆参加石油大会战。当井喷险情发生时，他不顾腿伤跳进泥浆池，用身体搅拌泥浆，制服了井喷，被誉为“铁人”。</p>	<p>1962 年，②任河南兰考县委书记。为了改变当地的落后面貌，虽然身患癌症，仍顽强工作，与内涝、风沙、盐碱作斗争，被人民称颂为“党的好干部”。</p>
---	---

- A. ①王进喜 ②焦裕禄
 - B. ①焦裕禄 ②雷锋
 - C. ①王进喜 ②雷锋
 - D. ①焦裕禄 ②王进喜
5. 《人民日报》1978 年 12 月 25 日的社论中指出：“从今以后，只要不发生大规模的外敌入侵，现代化建设就是全党的中心工作。其他工作包括党的政治工作，都是围绕着这个中心工作，并为这个中心工作服务的”。以下工作在“从今以后”进行的是
- A. “大跃进”
 - B. “文化大革命”
 - C. 提出“两个凡是”
 - D. 平反冤假错案
6. 对以下信息理解正确的是



左图为上海飞乐音响公司股票。1984 年 11 月，上海飞乐音响股份有限公司成立，向社会公众及职工发行股票进行集资以扩大再生产，飞乐股票成为“中国改革开放第一股”。

- A. 农村人民公社实行政社合一，统一经营
- B. 农业生产转向专业化、商品化、社会化
- C. 城市经济体制改革使企业有了经营自主权
- D. 我国社会主义市场经济体制已经建立起来



7. 以下是一位同学绘制的《建设有中国特色社会主义》一课的知识结构示意图,其中①处应为



- A. 南方谈话
B. “三步走”战略部署
C. 构建社会主义和谐社会
D. 习近平新时代中国特色社会主义思想

8. 以下示意图的主题应为




- A. 以中国式现代化全面推进中华民族伟大复兴
B. 中国共产党百年奋斗的历史经验
C. 我国脱贫攻坚战取得全面胜利
D. 构建人类命运共同体

9. 第十二届全国少数民族传统体育运动会将于2024年11月在海南三亚举办。运动会的竞赛项目已发展为秋千、民族马术、攀椰竞速等18个项目,表演项目则以歌舞、技巧等为主共计160余项。这些项目都来源于各民族千百年来生产生活方式和节日庆祝活动,反映各民族的生活习俗、文化特点和道德风尚。少数民族传统体育运动会的举办有利于

- ① 保护和发展少数民族文化
② 各民族共同繁荣发展
③ 筑牢中华民族共同体意识
④ 海南岛成为经济特区
- A. ①②③ B. ①②④ C. ①③④ D. ②③④

10. 以下两幅人民在欢庆游行时打出的标语,它们共同反映出以_____为主要代表的中国共产党人团结带领全党全国各族人民作出的伟大贡献。“_____”处应填写



- A. 周恩来 B. 邓小平 C. 江泽民 D. 胡锦涛



11. 20 世纪 90 年代,海协会和海基会达成的重要共识是
 ①“爱国者治港” ②“海峡两岸同属一个中国,共同努力谋求国家统一”
 ③“爱国者治澳” ④“加强两岸经济交流,互补互利”
 A. ①② B. ①③ C. ②④ D. ③④
12. 第一个宣布承认中华人民共和国,并与我国正式建立外交关系的是
 A. 印度 B. 苏联 C. 法国 D. 瑞士
13. 同学中的一位“小军迷”关注到了一则新闻,这则新闻的标题应为

	<p>2024 年 4 月 19 日,中国人民解放军信息支援部队成立大会在北京八一大楼隆重举行。根据中央军委决定,新组建的信息支援部队由中央军委直接领导指挥,同时撤销战略支援部队番号,相应调整军事航天部队、网络空间部队领导管理关系。</p>
--	--

- A. 面朝大海,心向深蓝,中国水兵更自信
 B. 我爱祖国的蓝天——人民空军,生日快乐
 C. 钢铁洪流——回顾中国陆军装备风雨路
 D. 走向“陆海空火、天网信保”的新时代
14. 以下三个联合公报的内容表明

<p>美国认识到,在台湾海峡两边的所有中国人都认为只有一个中国,台湾是中国的一部分。美国政府对这一立场不提出异议。 ——1972 年中美《联合公报》</p>	<p>美利坚合众国承认中华人民共和国政府是中国的唯一合法政府。……美利坚合众国政府承认中国的立场,即只有一个中国,台湾是中国的一部分。 ——1978 年《中美建交公报》</p>	<p>美利坚合众国承认中华人民共和国政府是中国的唯一合法政府,并承认中国的立场,即只有一个中国,台湾是中国的一部分。 ——1982 年中美《八一七公报》</p>
---	---	---

- A. 美国承诺坚持一个中国原则 B. 美国对中国实行外交孤立政策
 C. 中美提出和平共处五项原则 D. 中国提出了“求同存异”方针
15. 2024 年 4 月 24 日,在第九个“中国航天日”到来之际,某班举办“探秘宇宙 共襄星汉——讲述中国航天故事”的主题班会,在这次班会上可以介绍到的英模人物有
 ①钱学森 ②袁隆平 ③杨利伟 ④翟志刚
 A. ①②③ B. ①③④ C. ①②④ D. ②③④
16. 2024 年,某学校举办建校 70 周年校庆活动,其中,校史馆陈列了反映 70 年来学校的教学楼、校服、教材等变迁的一系列图片和实物资料。该校历史教师利用这些资料引导学生开展跨学科主题学习,以下学习主题最恰当的应为
 A. 小钱币,大历史 B. 历史上水陆交通的发展
 C. 历史地图上的世界格局 D. 在身边发现历史



第二部分 材料分析题(共 38 分)

17. (13 分)中国女性美丽而伟大。

材料一 图像中的女性

 <p>①《我送亲人过大江》 (中国人民革命军事博物馆陈列)</p>	 <p>②一元纸币上的女拖拉机手 (1962 年发行的第三套人民币)</p>	 <p>③《核物理学家何泽慧》 (《共和国科学英才》丛书之一)</p>
<p>这张照片记录了 1949 年 4 月 22 日百舸竞发的长江江面上,一位奋力摇橹的大辫子姑娘运送解放军战士渡江。这位姑娘就是时年 19 岁的颜红英。她回忆道:“当我驾驶着船划到江心时,突然一颗炮弹就在我家船边不远处爆炸了,一块东西(弹片)擦破我的脸颊,顿时满脸是血,我也不管,还是拼命地划,一心想尽快把大军送过江到前方打胜仗。”</p>	<p>1959 年,为祖国耕耘拓荒的女拖拉机手梁军试驾了我国国产的第一批“东方红-54”拖拉机。梁军之前开的都是苏联的拖拉机,看到中国自己的拖拉机,她按捺不住兴奋,跳上拖拉机就试了一圈。这一幕刚好被拍到了。女拖拉机手的飒爽英姿与第三套人民币上的武汉长江大桥、车床工人等成了一个时代的印记。</p>	<p>何泽慧(1914—2011),中国核物理学家,著名核物理学家钱三强的夫人。何泽慧领导的研究小组在 20 世纪 50 年代成功研制出性能达到国际先进水平的原子乳胶,为中国原子弹、氢弹的成功研制作出了不可磨灭的重大贡献。氢弹研发时,何泽慧带领团队耗时数月修改了错误数据,保证了氢弹研发工作的顺利开展。</p>

(1)依据材料一并结合所学,任选一位女性的事迹(写序号),写出其事迹反映出的重大历史事件及其意义。(3分)再举出新中国一位杰出女性的事迹。(2分)

材料二 据统计,21 世纪以来,中华人民共和国自治区人民政府中共选举产生出 5 位女主席。其中,有 3 位担任了内蒙古自治区主席,均为蒙古族干部;有 2 位担任了宁夏回族自治区主席,均为回族干部。

(2)结合所学,写出材料二反映出的我国在各少数民族聚居的地方实行的政治制度的名称。(1分)依据材料二,说明自治区主席的人选是如何体现民族自治地方自治机关的民族特色的。(2分)



材料三 中华人民共和国国务院印发实施的《中国妇女发展纲要》

纲要	1995—2000 年纲要	2001—2010 年纲要	2011—2020 年纲要	2021—2030 年纲要
总体目标 (摘要)	在全面参与经济建设和社会发展,参与国家和社会事务管理的过程中,使法律赋予妇女在政治、经济、文化、社会及家庭生活中的平等权利进一步得到落实。	贯彻男女平等的基本国策,推动妇女充分参与经济和社会发展,使男女平等在政治、经济、文化、社会和家庭生活等领域进一步得到实现。	将社会性别意识纳入法律体系和公共政策,促进妇女全面发展,促进两性和谐发展,促进妇女与经济社会同步发展。	男女平等基本国策得到深入贯彻落实,促进男女平等和妇女全面发展的制度机制创新完善。展望 2035 年,男女平等和妇女全面发展取得更为明显的实质性进展。

(3)依据材料三,写出《中国妇女发展纲要》聚焦的主要目标,(2分)并概括出保障目标实现的途径。(3分)

18. (12分)中国城市面貌焕然一新。

材料一 全会讨论了党的工作重心由乡村转移到城市的问题,指出用乡村包围城市的时期已经完结,从现在起开始了由城市领导乡村的时期。……党中央和毛泽东进驻北平香山,标志着中国革命重心从农村转向城市。这里成为领导解放战争走向全国胜利、新民主主义革命取得伟大胜利的总指挥部。

——摘编自《中国共产党简史》

(1)依据材料一并结合所学,写出“全会”的名称,(1分)并分析“中国革命重心从农村转向城市”的背景。(2分)



材料二

			
①1949年9月,中国人民政治协商会议第一届全体会议召开	②深圳成为经济特区的代表和对外开放的“窗口”	③2013年,中国提出“一带一路”重大倡议	④我国政府编制的发展国民经济的第一个五年计划
			
⑤2013年,中国(上海)自由贸易试验区成立	⑥开国大典	⑦1953年,无缝钢管厂等鞍山钢铁公司三大工程竣工	⑧1978年,十一届三中全会召开

(2) 史事的发生都有其前因后果。从材料二中选择两张照片,参照示例,对其所反映史事的因果关系进行说明。(5分,示例组合除外)

示例:照片③⑤。

2013年,中国提出建设“新丝绸之路经济带”和“21世纪海上丝绸之路”,即“一带一路”的合作倡议。

2013年以来,中国(上海)自由贸易试验区等多个自贸区相继成立。

自贸区是“一带一路”建设在国内的重要支点。

材料三 2024年4月1日是雄安新区设立七周年。这是一座正在崛起的“未来之城”。

未来之城	①_____	样板之城	②_____	③_____	④_____
七年成就摘要	水质提升至III类,野生鸟类增73种,造林40万多亩,生物多样性、碳汇能力和水土保持能力大幅提升	雄安国贸中心集中体现了“雄安质量”,未来将是城市地标,在推动高质量发展方面成为全国的样板	为疏解北京非首都功能,推动京津冀协同发展,一大批央企总部已经实现主体结构封顶或已完成选址	为了让老百姓得到更多的实惠,雄安新区建设基本实现了老有所养、幼有所育、病有所医、住有所居	建立雄安新区中关村科技园,超前布局新技术、新产品先行先试应用场景,建立雄安创新研究院

——整理自邢灿 胡安华《雄安新区设立七周年:蓝图变实景,高水平现代化城市正崛起》

(3) 依据材料三,请用以下内容将文中信息补充完整。(填字母,4分)

A. 创新之城 B. 协同之城 C. 生态之城 D. 人民之城





19. (13分)祖国大地繁花似锦。

材料一 毛泽东于1956年4月28日召开的中央政治局扩大会议上,正式地完整地提出了“双百”方针。他说:“艺术问题上的①_____,学术问题上的②_____,我看应该成为我们的方针。”“采取现在的方针(“双百”方针),文学艺术、科学技术会繁荣发达,党会经常保持活力,人民事业会欣欣向荣,中国会变成一个大强国而又使人可亲。”

——摘编自《毛泽东文集》《建国以来毛泽东文稿》等

(1)依据材料一并结合所学,将①、②处内容补充完整,(2分)并概括“双百”方针的作用。(3分)

材料二

 <p style="text-align: center;">香港特别行政区区旗</p>	 <p style="text-align: center;">澳门特别行政区区旗</p>
<p>香港特别行政区的区旗是一面中间配有五颗星的动态紫荆花图案的红旗。</p>	<p>澳门特别行政区的区旗是绘有五颗星、莲花、大桥和海水的绿色旗帜。</p>

(2)依据材料二,比较香港特别行政区区旗与澳门特别行政区区旗的设计要素的相同之处。(2分)结合所学,说出这些相同之处的象征意义。(2分)

材料三 国庆期间,长安街建国门至复兴门之间布置不同主题的立体花坛共话“祝福祖国”。以下为近五年立体花坛的主题:

2019年	“壮丽70年” “不忘初心” “春天的故事” “奋进新时代” “美丽中国” “文明之路” “中国创造” “命运共同体” “民族团结” “美好明天” “繁荣发展” “美好生活”
2020年	“全面小康” “中华美德” “高质量发展” “生态文明” “安居乐业” “科技强国” “人民幸福” “命运共同体” “众志成城” “复兴伟业”
2021年	“开天辟地” “建军大业” “建国伟业” “改革开放” “走向世界” “人民至上” “全面小康” “创新发展” “美丽中国” “扬帆起航”
2022年	“喜迎(庆)盛会” “伟大征程” “绿色发展” “创新发展” “协调发展” “开放发展” “共享发展” “健康生活” “绿色生活” “文化生活” “富裕生活” “伟大复兴” “命运共同体” “喜迎(庆)二十大”
2023年	“万众一心” “文明华章” “共同富裕” “和谐共生” “和平发展” “全民健身” “幸福之路” “花好月圆” “美好家园” “筑梦未来”

(3)依据材料三,分析国庆立体花坛的主题命名的特点。(2分)2024年是中华人民共和国成立75周年,请你帮助设计一个国庆立体花坛的主题,并简要说明理由。(2分)