

# 2024 北京昌平初二（下）期末

## 历史

### 一、单项选择题（每小题 1.5 分，共 24 分）

1. 依据下列信息判断，此次会议是（ ）

信息 1：1949 年 9 月北平召开

信息 2：会议讨论成立新中国的问题

信息 3：会议的成功召开，标志中国共产党领导的多党合作和政治协商制度正式确立

- A. 中国人民政治协商会议第一届全体会议
  - B. 中国共产党第八次全国代表大会
  - C. 中共十四届三中全会
  - D. 亚太经合组织领导人非正式会议
2. 在新中国成立前，贫农陈友汉家里的土地很少，没有耕牛、农具，每年只收 350 千克谷，全家一年只吃 2 千克油。1953 年他家收谷 1600 千克，一年能吃 24 千克油。这一变化反映出（ ）
- A. 土地改革促进了农业生产的发展
  - B. 三大改造将生产资料私有制转变为公有制
  - C. 一五计划改变我国工业落后面貌
  - D. “七千人大会”推动了国民经济全面调整
3. 下列两枚纪念章共同反映的主题是（ ）



西藏和平解放纪念章



1951 年台州土地改革纪念章

- A. 发展农村经济
  - B. 巩固新生政权
  - C. 抗击外来侵略
  - D. 全面拨乱反正
4. 如图是新华社在 2004 年 9 月 15 日发出的漫画。据此推断中华人民共和国第一届全国人民代表大会召开时间是（ ）



- A. 1952 年
- B. 1953 年
- C. 1954 年
- D. 1955 年

5. 历史解释是对史实的分析和评判。下列选项中属于历史解释的一项是（ ）
- A. 1954年起，我国对资本主义工商业进行社会主义改造，逐步发展为企业的公私合营  
 B. 资本主义工商业改造过程中，国家按全行业公私合营时资本家的资本发给定息  
 C. 1956年1月底，全国所有大城市和50个中城市都实行了全行业公私合营  
 D. 资本主义工商业改造过程中实行的赎买政策是中国社会主义改造的创举
6. 1960年春，王进喜率领钻井队到大庆参加石油大会战。当井喷的险情发生时，他不顾腿伤跳进泥浆池，用身体搅拌泥浆，制服了井喷，被誉为“铁人”。王进喜身上反映出的时代精神是（ ）
- A. 勇于创新          B. 艰苦创业          C. 实事求是          D. 包容互鉴
7. 1978年5月，《光明日报》发表《实践是检验真理的唯一标准》的文章，开始了真理标准问题的讨论。这场讨论（ ）
- A. 提出了“两个凡是”的方针  
 B. 强调从严治党是全党的共同任务  
 C. 是一场深刻的思想解放运动  
 D. 确立了“两个一百年”奋斗目标
8. 十一届三中全会是新中国成立以来党的历史上具有深远意义的伟大转折，这次会议（ ）
- ①明确提出要建立社会主义市场经济体制  
 ②把党和国家的工作重心转移到经济建设上来  
 ③重新确立马克思主义的思想路线  
 ④形成以邓小平为核心的党中央第二代领导集体
- A. ①②③          B. ①②④          C. ①③④          D. ②③④
9. 如表格反映出家庭联产承包责任制的实行（ ）

年份	农业总产值（亿元）	农村居民人均可支配收入（元）
1978年	1397	133.6
1990年	7662.1	686.3
2000年	24915.8	2282.1

- A. 增强了企业的活力，提高了企业职工收入  
 B. 大大解放了农村生产力，增加了农民收入  
 C. 改变了工业落后的面貌，发展了国民经济  
 D. 健全了社会保障体系，缩小了贫富的差距
10. 如表是历史学习兴趣小组制作的读书卡片。卡片横线处应填写的内容是（ ）

经济体制改革 一、农村改革取得突破 二、 _____ 三、建立社会主义市场经济体制
--

- A. 一五计划超额完成          B. 三大改造基本完成

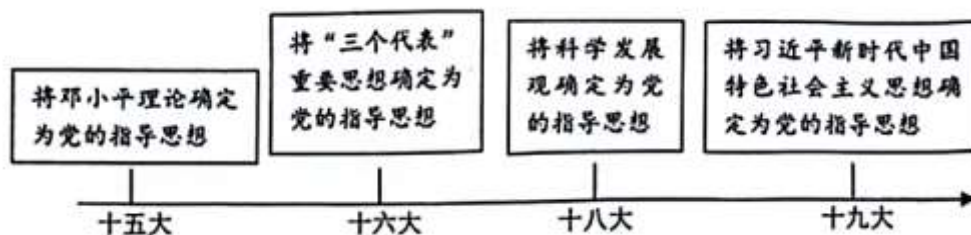
C. 城市改革全面展开

D. 全面建成小康社会

11. “从特区可以引进技术，获得知识，学到管理，管理也是知识。特区成为开放的基地，不仅在经济方面、培养人才方面使我们得到好处，而且会扩大我国的对外影响。”上述材料意在说明（ ）

- A. 建立经济特区的必要性
- B. 经济特区发展的历程
- C. 经济特区的地理分布特点
- D. 对外开放格局的形成

12. 如图示意图可用于说明（ ）

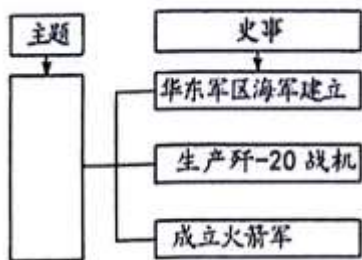


- A. 新民主主义革命道路的探索
- B. 新中国社会主义基本制度的建立过程
- C. 中国特色社会主义的发展历程
- D. 社会主义法制建设的不断发展与完善

13. 我国对少数民族古籍文献的整理工作取得了大批成果，如藏族史诗《格萨尔王传》、蒙古族史诗《江格尔》和柯尔克孜族史诗《玛纳斯》等。这批成果主要体现出国家（ ）

- A. 重视少数民族文化的保护与发展
- B. 注重少数民族地区的基础设施建设
- C. 保障各少数民族的合法权利和利益
- D. 推动少数民族地区的生态环境保护

14. 如图知识结构图的主题应是（ ）



- A. 文化事业繁荣
- B. 交通设施改善
- C. 体育事业发展
- D. 国防力量壮大

15. 下列照片可用于学习（ ）





为“和平之鸟”的瓷塑天鹅礼品。只是没想到运输途中，天鹅的第五根羽毛被弄断了。他只能设法将断裂的羽毛重新粘了回去，并向毛泽东主席表示歉意。而毛主席一语双关地表示：“这不是让你给接上了吗？”毛主席把中美关系和天鹅的羽毛都蕴含在这句话里

(2) 结合所学，将材料二①处填写完整。从新中国成立后，中美关系发展的角度，谈谈你对毛泽东“这不是让你给接上了吗？”这句话的理解。结合所学，写出 20 世纪 70 年代中国取得的其它外交成就。(6分)

材料三：新中国外交服饰，从站起来时期（新中国成立后）的突出中国特色，以“中山装”为标志；到富起来时期（改革开放以来）的与国际接轨，以“西装”为标志；再到强起来（当前阶段）进程中在遵循国际规范的基础上吸收世界服饰文化精华并强化中国传统文化特色，以“新中装”为标志。这是中国在经历了站起来、富起来之后文化自信的体现，是中国走向强起来的宣示。

——周加李《新中国外交服饰：从不断探索到彰显文化自信》

(3) 依据材料三，指出新中国外交服饰的变化。谈谈你对上述变化的认识。(4分)

18. (10分) 先锋人物奏响时代最强音。

材料一：

序号	作品	内容节选
①		要贯彻三中全会（十一届三中全会）的决定，我（吴南生时任广东省委书记）主张广东先走一步。先走一步的那个“子”怎么下呢？我想先划出一块地方，用各种比较优惠的政策来吸引外资，把他们先进的东西引到我们这个地方来
②		那时（志愿军入朝第二年）敌人疯狂地发动了所谓“秋季攻势”，我们一个战斗小组就在这里守了三天三夜。但是由于我们的重火器太少，在敌人占压倒优势的炮火轰击之下，伤亡很大，最后只剩下我一个人了。我（唐风喜二级英雄班长）在烈士们的遗体跟前下了决心：“我只要一口气，就坚决把阵地守住！”
③		1954年8月12日农业社召开了建社的报名大会……晚上我（侯永禄农业社会计）便参加了建社委员会的会议。从此，我便开始了建社方面的许多具体工作：先登记各入社户的土地亩数，再评定地的肥瘦等级

(1) 依据材料一并结合所学，将三部作品节选内容所反映的史事，按出现时间先后正确排序。(写序号)  
参照示例，对其中一段内容节选加以说明。(示例除外)(4分)

示例：③反映了农业合作化运动的情况。书中从侯永禄的视角，描述了农民加入农业合作社的步骤。

材料二：我们中国的航天事业，在党的领导下，经过几十年的不懈努力，从无到有，从一穷二白到现在的我们的北斗的组网（北斗系统是中国着眼于国家安全和经济社会发展需要，自主建设运行的全球卫星导航系统，在交通通信、农林渔业、气象测报、公共安全等领域广泛应用），我们的问天的探火（我国成为第二个在火星成功着陆的国家，从而提高了中国深空探测的话语权和大国地位），再到我们的嫦娥的取样（嫦娥五号探月取样并带回地球，通过分析样本可以建立起月球、甚至太阳系的演化历史），同时又到了我们的航天员，入驻我们的核心舱（太空中现有 2 个驻人空间站：国际空间站由 16 个国家联合建造，中国天宫空间站则是中国独立研发建造的）。这一刻是值得我们骄傲的！

——杨利伟北京大学的演讲

(2) 依据材料二，概括中国航天事业发展的特点。并结合所学，分析中国航天事业发展的意义。(4分)

材料三：不朽功勋，镌刻国家发展史册；光辉榜样，照亮民族复兴征程。或是①赤胆忠心献身国防事业，或是②全心全意服务民生福祉，或是③鞠躬尽瘁推动科技创新。

——摘编自人民日报《向功勋模范人物致敬》



(3) 任选材料三划线句中一个主题，结合两位模范人物的事迹加以说明。(示例除外)(2分)

示例：主题②

焦裕禄亲自带队到兰考县灾区调研，患病期间仍坚持工作，被称为“党的好干部”。

雷锋在每个岗位上都兢兢业业，甘做革命的螺丝钉，默默无闻地为人民做好事，被称为“人民的好战士”。

他们将自己的精力和青春无私地奉献给党和人民的事业，全心全意服务民生福祉。

19. (12分) 交通与时代发展。





材料一：

时期	铁路	介绍
A	宝成铁路	1952年动工，1956年铁路两端接轨，接轨时间比预计提前了十三个月。其所经过路段地形复杂，地势险要，曾动用了新中国新建铁路一半左右的劳动力和 4/5 的机械筑路力量进行修建。宝成铁路为我国西部、西南部地区的经济社会发展创造了重要条件
	鹰厦铁路	1955年动工，1957年举行交接仪式，仅用两年多时间竣工完成。其南段地势险要，北段坡陡弯急，工程难度巨大，当时动用 20 多万铁道兵和当地民工参与修建。鹰厦铁路的修建改变了福建交通闭塞的局面，促进了福建经济社会的发展

(1) 依据材料一并结合所学，将 A 处信息补充完整。(写序号) 比较两条铁路工程的相同点。举出此时期我国工业建设取得的一项成就。(铁路除外) (2 分)

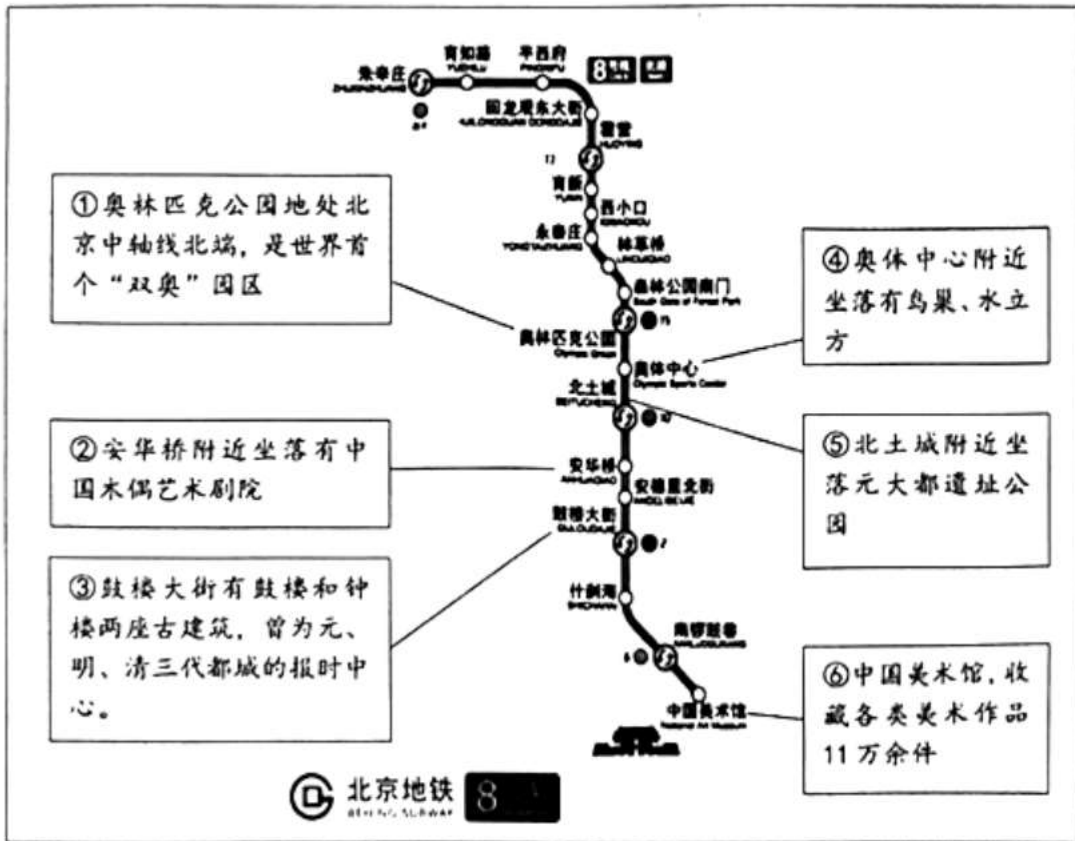
①一五计划期间 ②大跃进期间

材料二：小小火车票见证时代变迁

	新中国第一代火车票为硬板式火车票。它使用的时间最长，上世纪 50 年代至 90 年代使用。售票时需要售票员手动使用砸票机在车票上标注日期等信息，费时费力
	第二代是软纸票。上世纪 80 年代广深（广州、深圳）铁路公司研发并使用。1997 年计算机打印的红色软纸票正式全国投入使用。软纸票在售票时现场打印即可，使售票时间大大缩短，更加适应不断提高的社会生活节奏
	第三代的磁介质票。2008 年开始出现，乘客自助刷票进站。票卡生产成本低并可以循环使用，降低能源消耗。它改变了传统的人工检票的方式，提高了人们进出车站的速度，减少了车站服务人员的工作强度
	第四代就是当下的“无纸化”车票，纸质火车票退出历史舞台。人们乘车的检票平均速度由 3.8 秒/人缩短至 1.3 秒/人

(2) 依据材料二，概括我国火车票的发展趋势。从第二代火车票开始，我国火车票的更新换代速度明显加快。结合所学，分析车票更新速度加快的原因。(6 分)

材料三：2024 年 2 月开通的北京地铁 8 号线“中轴线专列”，与地上中轴线遥相呼应，从而形成一条流动的中轴文化带。



(3) 依据材料三，参照示例，设计两条地铁中轴线上的主题之旅。(④⑥组合除外)

示例 (4分)

序号	主题
④	文体之旅
⑥	



# 参考答案

## 一、单项选择题（每小题 1.5 分，共 24 分）

1. 【分析】本题主要考查中国人民政治协商会议第一届全体会议的相关史实，识读题干表格信息是解答本题的关键。

【解答】1949年9月，中国人民政治协商会议第一届全体会议在北平隆重召开。中国共产党、各民主党派、无党派人士、人民解放军、各人民团体、各地区、各民族以及海外华侨等各方面代表 600 余人出席会议，讨论成立新中国的问题。中国人民政治协商会议的成功召开，标志着中国共产党领导的多党合作和政治协商制度正式确立。据题干信息判断，此次会议是中国人民政治协商会议第一届全体会议，A 项正确；中国共产党第八次全国代表大会召开于 1956 年，排除 B 项；中共十四届三中全会召开于 1993 年，排除 C 项；亚太经合组织领导人非正式会议召开于 1992 年，排除 D 项。

故选：A。

【点评】本题主要考查学生对题干表格的理解能力和准确识记历史知识的能力。理解并识记中国人民政治协商会议第一届全体会议的相关史实。

2. 【分析】本题考查土地改革，难度不大，熟练记忆基础知识并准确解读材料信息即可得出答案。

【解答】A.据题干结合所学可知，1950 - 1952 年，我国在新解放区推行土地改革，农民获得了土地、房屋和农具，调动了生产积极性，促进了农业生产的发展，符合题意。

B.1953 - 1956 年，我国进行三大改造，将生产资料私有制转变为公有制，与题干时间不符，排除。

C.1953 - 1956 年，我国制定实施了第一个五年计划，改变了工业落后面貌，向社会主义工业化迈进，与题干时间不符，排除。

D.“七千人大会”是 1962 年召开的，与题干时间不符，排除。

故选：A。

【点评】记忆土地改革相关知识，做到融会贯通、灵活应答。

3. 【分析】本题主要考查西藏和平解放、土地改革的相关史实。重点掌握新生人民民主政权的巩固的相关史实。

【解答】据所学知识可知，1951 年，西藏地方政府与中央人民政府谈判，双方达成了《中央人民政府和西藏地方政府关于和平解放西藏办法的协议》，西藏获得和平解放。至此，祖国大陆获得了统一，各族人民实现了大团结。西藏和平解放巩固了新生政权；1950—1952 年土地改革的完成，彻底摧毁了我国存在两千多年的封建土地制度，地主阶级也被消灭；农民翻了身，得到了土地，成为土地的主人。这使人民政权更加巩固，也大大解放了农村生产力。由此可见，题干两枚纪念章共同反映的主题是巩固新生政权。西藏和平解放与“发展农村经济”无关，排除 A 项；西藏和平解放和土地改革与“抗击外来侵略”无关，排除 C 项；全面拨乱反正是在中共十一届三中全会后，排除 D 项。

故选：B。

【点评】本题主要考查学生对题干图文的解读能力和对历史知识的识记、理解能力。理解并识记西藏和平解放、土地改革的相关史实。

4. 【分析】本题考查第一届全国人民代表大会，掌握相关的基础知识。

**【解答】**据题干时间“2004年”和图片信息“庆祝全国人民代表大会成立50周年”可知， $2004 - 50 = 1954$ 。这说明中华人民共和国第一届全国人民代表大会召开时间是1954年。故C符合题意；排除ABD。  
故选：C。

**【点评】**本题考查第一届全国人民代表大会，考查学生的理解和分析能力，解题关键是知道中华人民共和国第一届全国人民代表大会召开时间是1954年。

5. **【分析】**本题主要考查什么是历史史实，什么是历史解释的相关史实。注意掌握区别历史史实和历史解释的方法。

**【解答】**历史史实是指对历史人物或事件的客观叙述，历史解释是对史实的分析和评判。选项ABC是对当时的历史事件的客观描述，反映的是历史的真实情况，属于历史史实，排除；选项D是对资本主义工商业改造的客观分析和评判，属于历史解释，选项D符合题意。

故选：D。

**【点评】**本题主要考查学生的识记能力以及分析问题的能力。理解并识记什么是历史史实，什么是历史解释的概念。

6. **【分析】**本题考查社会主义建设英雄模范人物，难度不大，熟练记忆基础知识并准确解读材料信息即可得出答案。

**【解答】**据题干“当井喷的险情发生时，他不顾腿伤跳进泥浆池，用身体搅拌泥浆，制服了井喷……”可知，王进喜身上体现了社会主义建设探索时期艰苦奋斗、自力更生、无私奉献的精神，故B项符合题意。题干未体现勇于创新、实事求是、包容互鉴精神，排除ACD项。

故选：B。

**【点评】**记忆社会主义建设英雄模范人物相关知识，做到融会贯通、灵活应答。

7. **【分析】**本题主要考查关于真理标准问题的讨论，掌握相关基础知识。

**【解答】**1978年真理标准问题的讨论使人们认识到，实践是检验真理的唯一标准。关于真理标准问题的大讨论是一场深刻的思想解放运动，C项正确；“文革”结束后中央的主要领导人提出“两个凡是”的错误方针，引起普遍不满，这是讨论出现的背景，排除A项；结合所学知识，以习近平同志为核心的党中央，从坚持和发展中国特色社会主义全局出发，提出并形成了全面建成小康社会、全面深化改革、全面依法治国、全面从严治党的“四个全面”战略布局，排除B项；结合所学知识，2013年，习近平深刻阐述了中国梦的宏伟蓝图，强调中国梦就是要实现国家富强、民族振兴、人民幸福；为了实现中国梦，中国共产党确立了“两个一百年”奋斗目标，排除D项。

故选：C。

**【点评】**本题主要考查关于真理标准问题的讨论，考查考生对基础知识的记忆、迁移与运用能力。

8. **【分析】**本题主要考查十一届三中全会的内容和意义，掌握相关基础知识。

**【解答】**1978年12月，中共十一届三中全会在北京召开，确定了解放思想、开动脑筋、实事求是、团结一致向前看的指导方针，果断停止使用“以阶级斗争为纲”的口号，作出了把党和国家的工作中心转移到经济建设上来，实行改革开放的历史性决策，②③说法正确；中共十一届三中全会是新中国成立以来党的历史上具有深远意义的伟大转折，开启了改革开放和社会主义现代化建设新时期。这次会议实际

上形成了以邓小平为核心的党的第二代中央领导集体，④说法正确，D项符合题意；1992年，中共十四大明确提出要建立社会主义市场经济体制，①说法错误，排除ABC项。

故选：D。

【点评】本题主要考查十一届三中全会的内容和意义，考查考生对基础知识的记忆、迁移与运用能力。

9. 【分析】本题主要考查农村改革和家庭联产承包责任制，掌握相关基础知识。

【解答】根据材料信息，1978年后，农业总产值和农村居民人均可支配收入迅速提高，这说明农村的改革大大解放了农村生产力，增加了农民收入，调动了农民生产积极性，B项正确；家庭联产承包责任制在农村实行，与国有企业改革不符，排除A项；一五计划的完成开始改变我国工业落后的面貌，发展了国民经济，排除C项；材料与社会保障体系无关，排除D项。

故选：B。

【点评】本题主要考查农村改革和家庭联产承包责任制，考查阅读材料的能力和对基本历史事件特征的再认再现能力。

10. 【分析】本题主要考查中国经济体制改革，掌握我国经济体制改革的内容。

【解答】我国经济体制改革包括农村改革、城市改革以及国家经济管理体制的改革三个方面。十一届三中全会后，经济体制改革首先从农村开始。从安徽凤阳小岗村农民的实践到1983年，家庭联产承包责任制基本在全国农村普遍实行，带来农村生产力的大解放，农业生产和农民收入均有很大提高；后来改革的浪潮从农村涌向城市，1984年10月，中共十二届三中全会通过了《中共中央关于经济体制改革的决定》，要求加快以城市为重点的经济体制改革的步伐，从1985年起，城市经济体制改革全面展开，C项正确；1957年，一五计划超额完成，时间不符，排除A项；1956年底，三大改造基本完成，时间不符，排除B项；全面建成小康社会是新时代中国共产党确立的“两个一百年”奋斗目标的内容，排除D项。

故选：C。

【点评】本题主要考查国有企业改革，考查调用所学知识分析历史问题的能力。

11. 【分析】本题主要考查经济特区的建立，解题的关键是识读题干材料。

【解答】根据材料“从特区可以引进技术，获得知识，学到管理，管理也是知识。特区成为开放的基地，不仅在经济方面、培养人才方面使我们得到好处，而且会扩大我国的对外影响”可知，经济特区有利于引进外国先进技术和管理经验；发展外向型经济；扩大中国对外影响，因此建立经济特区具有必要性，A项正确；材料未反映发展历程，排除B项；材料未涉及地理分布特点，排除C项；我国形成了“经济特区—沿海开放城市—沿海经济开放区—内地”的全方位、多层次、宽领域的对外开放格局，材料未涉及，排除D项。

故选：A。

【点评】本题主要考查经济特区的建立，考查调用所学知识分析历史问题的能力。

12. 【分析】本题主要考查中国特色社会主义理论体系，掌握相关基础知识。

【解答】根据所学知识可知，在改革开放的伟大实践和接力探索中，中国共产党领导开辟了中国特色社会主义道路，逐渐形成了邓小平理论、“三个代表”重要思想、科学发展观、习近平新时代中国特色社会主义思想。

会主义思想，它们都是中国特色社会主义理论体系的组成部分，是马克思主义与中国建设的实际相结合的理论创新成果，C项正确；1919到1949年是新民主主义革命时期，排除A项；1956年底三大改造的完成，标志着新中国社会主义基本制度建立起来，排除B项；1954年《中华人民共和国宪法》颁布，改革开放后，我国形成了包括宪法、刑法、行政诉讼法等法律体系，排除D项。

故选：C。

【点评】本题主要考查中国特色社会主义理论体系，考查考生对基础知识的记忆、迁移与运用能力。

13. 【分析】本题主要考查民族区域自治制度，要求运用所学分析解读题干信息。

【解答】根据材料“我国对少数民族古籍文献的整理工作取得了大批成果”及所学知识，国家重视少数民族文化的保护与发展，有组织、有计划地开展了少数民族古籍文献的搜集、整理和出版工作，取得了很大成绩，A项正确；材料未体现基础设施建设，排除B项；民族区域自治制度有利于保障少数民族的合法权利和利益，材料未体现，排除C项；材料未涉及生态环境保护问题，排除D项。

故选：A。

【点评】本题主要考查民族区域自治制度，考查学生准确解读材料及运用所学知识解决问题的能力。

14. 【分析】本题考查我国国防建设的相关内容，准确解读材料信息。

【解答】根据材料“华东军区海军建立、生产歼—20战机、成立火箭军”可知，题干描述了我国国防现代化建设的相关信息，体现了国防力量的增强，D项正确；材料未涉及文化素养繁荣的相关信息，排除A项；材料无法得出交通设施改善的结论，排除B项；材料未涉及体育事业发展的相关信息，排除C项。

故选：D。

【点评】本题考查学生准确识记我国国防建设的相关内容，有助于培养学生的历史解释素养。

15. 【分析】本题主要考查祖国统一大业的推进，需掌握具体内容，加强对基础知识的掌握。

【解答】据材料“1979年元旦，全国人大常委会发表《告台湾同胞书》”“1997年中国人民解放军驻香港部队进入香港驻香港部队进入香港”“1999年中葡澳门政权交接仪式”可知，涉及大陆与台湾、香港、澳门的相关内容，可用于学习祖国统一大业的推进，B正确；台湾、香港、澳门属于中国内政问题，不涉及外交，排除A；材料未涉及文化事业的相关内容，排除C；材料未涉及人民生活的变化，排除D。

故选：B。

【点评】理解并识记祖国统一大业推进的相关史实。

16. 【分析】本题主要考查改革开放后社会生活的变化等相关内容，需加强知识的理解。

【解答】据材料“八年级同学以‘改革开放以来，我们所处生活环境的变化’为主题，开展社会调查活动”可知，在活动的采访、考察过程中提问要紧扣调查主题，有目的的开展活动，③正确；在采访过程中要尊重受访者，④正确；D正确；采访对象只能是家人，采访人员太少，不足以验证改革开放以来，我们所处生活环境的变化，①排除，采访前需要让受访者有所准备，使其较为准确反映自身生活的变化，②排除，排除ABC。

故选：D。

【点评】理解并识记改革开放后社会生活的变化等相关内容。

## 二、非选择题（共36分）

17. 【分析】本题主要考查新中国的外交成就、尼克松访华、中国外交服饰的变化等相关史实。解题关键在于能从材料中提取有效信息。

【解答】(1) 据材料一“在新中国成立前夕，周恩来主持起草《中国人民政治协商会议共同纲领》。其中第五十四条：中华人民共和国外交政策的原则，为保障本国独立、自由和领土主权的完整，拥护国际的持久和平和各国人民间的友好合作，反对帝国主义的侵略政策和战争政策”可知，属于 A：①领导制定和平的外交政策；据材料“印度尼西亚总统苏加诺是著名的艺术收藏家。1950年我国与印度尼西亚建交后，多次邀请苏加诺总统访华。期间，周恩来赠送给苏加诺一幅徐悲鸿的奔马轴”可知，属于 B：④参观访问；据材料“在 1955 年的万隆会议上，周恩来提出“求同存异”的方针”可知，属于 C：②出席国际会议；据材料“从 1956 年底到 1964 年初，周恩来出访亚、非 28 国，坚决支持它们争取和维护政治、经济独立的斗争”可知，属于 D：③开展政要交往。结合材料和所学知识可知，新中国奉行独立自主的和平外交政策，新中国积极参与国际事务，在国际上被越来越多的国家所接受，发挥重要的作用。

(2) 结合所学知识可知，1972 年，美国总统尼克松访华。据材料“‘这不是让你给接上了吗？’毛主席把中美关系和天鹅的羽毛都蕴含在这句话里”结合所学知识可知，新中国成立后，以美国为首的西方国家对我国实行孤立、封锁和禁运政策，中美关系一直处于比较僵硬的状态，1972 年尼克松访华，打破了中美相互隔绝的状态，中美关系开始走向正常化。结合所学，20 世纪 70 年代中国取得的其它外交成就还有：1971 年，在第 26 届联合国大会中，中华人民共和国恢复了在联合国的合法席位。1972 年，中日正式建交。

(3) 据材料三“新中国外交服饰，从站起来时期（新中国成立后）的突出中国特色，以“中山装”为标志；到富起来时期（改革开放以来）的与国际接轨，以“西装”为标志；再到强起来（当前阶段）进程中在遵循国际规范的基础上吸收世界服饰文化精华并强化中国传统文化特色，以“新中装”为标志”可知，新中国外交服饰由新中国成立后以“中山装”为标志到改革开放以来以“西装”为标志再到当前阶段以“新中装”为标志”的变化。据材料三“这是中国在经历了站起来、富起来之后文化自信的体现，是中国走向强起来的宣示”可知，新中国外交服饰的变化体现了中国在不同时期的时代特色，中国服饰在尊重本国特色的基础上吸收了世界服饰文化的精华，是中国文化自信的体现，是中国走向富强的体现。故答案为：

(1) A：①。B：④。C：②；D：③。

影响：新中国奉行独立自主的和平外交政策，新中国积极参与国际事务，在国际上被越来越多的国家所接受，发挥重要的作用。

(2) ①：尼克松。

理解：新中国成立后，以美国为首的西方国家对我国实行孤立、封锁和禁运政策，中美关系一直处于比较僵硬的状态，1972 年尼克松访华，打破了中美相互隔绝的状态，中美关系开始走向正常化。

成就：1971 年，在第 26 届联合国大会中，中华人民共和国恢复了在联合国的合法席位。1972 年，中日正式建交。

(3) 变化：新中国外交服饰由新中国成立后以“中山装”为标志到改革开放以来以“西装”为标志再到当前阶段以“新中装”为标志。

认识：新中国外交服饰的变化体现了中国在不同时期的时代特色，中国服饰在尊重本国特色的基础上吸收了世界服饰文化的精华，是中国文化自信的体现，是中国走向富强的体现。

【点评】加强对材料的理解能力。理解并识记新中国的外交成就、尼克松访华、中国外交服饰的变化等相关史实。

18. 【分析】本题考查抗美援朝、社会主义建设英模人物、十一届三中全会、袁隆平、屠呦呦等相关史实，掌握相关的基础知识。

【解答】（1）依据材料一“要贯彻三中全会（十一届三中全会）的决定，我（吴南生时任广东省委书记）主张广东先走一步”“那时（志愿军入朝第二年）敌人疯狂地发动了所谓‘秋季攻势’，我们一个战斗小组就在这里守了三天三夜……”“1954年8月12日农业社召开了建社的报名大会……晚上我（侯永禄农业社会会计）便参加了建社委员会的会议”并结合所学可知，三部作品节选内容所反映的史事分别是设立经济特区、抗美援朝、农业合作化运动，按出现时间先后排序是②③①。选择②：②反映了抗美援朝的情况。书中从唐风喜的视角，描述了抗美援朝的残酷和志愿军战士英勇无畏的革命英雄主义精神。

（2）依据材料二“我们中国的航天事业，在党的领导下，经过几十年的不懈努力，从无到有，从一穷二白到现在的我们的北斗的组网（北斗系统是中国着眼于国家安全和经济社会发展需要，自主建设运行的全球卫星导航系统，在交通通信、农林渔业、气象测报、公共安全等领域广泛应用），我们的问天的探火（我国成为第二个在火星成功着陆的国家，从而提高了中国深空探测的话语权和大国地位），再到我们的嫦娥的取样（嫦娥五号探月取样并带回地球，通过分析样本可以建立起月球、甚至太阳系的演化历史），同时又到了我们的航天员，入驻我们的核心舱（太空中现有2个驻人空间站：国际空间站由16个国家联合建造，中国天宫空间站则是中国独立研发建造的）。这一刻是值得我们骄傲的”可知，中国航天事业发展的特点有从无到有，自主研发；跻身世界先进行列等。结合所学可知，中国航天事业发展的意义有航天技术引领和带动了一系列高新技术交叉、融合和发展；对维护粮食安全、能源安全、海洋安全等方面发挥了重要作用；大大提高了我国的国家威望；形成了中华民族宝贵的精神财富。

（3）选择主题①：钱学森是世界著名科学家，空气动力学家，中国载人航天奠基人，“中国科制之父”和“火箭之王”，由于钱学森回国效力，中国导弹、原子弹的发射向前推进了至少20年；邓稼先被誉为“两弹元勋”，是中国核武器研制工作的开拓者和奠基者，为中国核武器、原子武器的研发做出了重要贡献。他们将自己的精力和青春无私地奉献给国防事业，以他们为代表，造就了“两弹一星”精神。

故答案为：

（1）②③①。选择②：②反映了抗美援朝的情况。书中从唐风喜的视角，描述了抗美援朝的残酷和志愿军战士英勇无畏的革命英雄主义精神。

（2）从无到有，自主研发；跻身世界先进行列等。航天技术引领和带动了一系列高新技术交叉、融合和发展；对维护粮食安全、能源安全、海洋安全等方面发挥了重要作用；大大提高了我国的国家威望；形成了中华民族宝贵的精神财富。

（3）选择主题①：钱学森是世界著名科学家，空气动力学家，中国载人航天奠基人，“中国科制之父”和“火箭之王”，由于钱学森回国效力，中国导弹、原子弹的发射向前推进了至少20年；邓稼先被誉为“两弹元勋”，是中国核武器研制工作的开拓者和奠基者，为中国核武器、原子武器的研发做出了重要

贡献。他们将自己的精力和青春无私地奉献给国防事业，以他们为代表，造就了“两弹一星”精神。

【点评】本题考查学生的识记能力以及分析问题的能力，理解并识记抗美援朝、社会主义建设英模人物、十一届三中全会、袁隆平、屠呦呦等相关史实。

19. 【分析】本题以三则材料为背景依托，考查一五计划、改革开放后社会生活的变化。

【解答】（1）补充：材料“1952年动工，1956年铁路两端接轨”“1955年动工，1957年举行交接仪式，”结合所学可知，A处应为一五计划。相同点：根据材料“宝成铁路为我国西部、西南部地区的经济社会发展创造了重要条件”“鹰厦铁路的修建改变了福建交通闭塞的局面，促进了福建经济社会的发展”可知，两条铁路工程的相同点为促进了当地经济的发展。成就：根据所学可知，此时期我国工业建设取得的一系列成就有鞍山钢铁公司无缝钢管厂建成投产；沈阳机床厂建成投产等。

（2）趋势：依据材料“上世纪50年代至90年代使用。售票时需要售票员手动使用砸票机在车票上标注日期等信息，费时费力”“1997年计算机打印的红色软纸票正式全国投入使用。软纸票在售票时现场打印即可，使售票时间大大缩短，更加适应不断提高的社会生活节奏”，“磁介质票。2008年开始出现，乘客自助刷票进站。票卡生产成本低并可以循环使用，降低能源消耗。它改变了传统的人工检票的方式，提高了人们进出车站的速度，减少了车站服务人员的工作强度”“当下的“无纸化”车票，纸质火车票退出历史舞台。人们乘车的检票平均速度由3.8秒/人缩短至1.3秒/人”可知，我国火车票的发展趋势是车票更新速度加快。原因：结合所学可知，车票更新速度加快的原因有科学技术的提高；火车速度的提高。

（3）主题：根据材料③⑤可拟定主题为历史古迹之旅。

故答案为：

（1）补充：一五计划。相同点：促进了当地经济的发展。成就：鞍山钢铁公司无缝钢管厂建成投产；沈阳机床厂建成投产等。

（2）趋势车票更新速度加快。原因：科学技术的提高；火车速度的提高。

（3）主题：历史古迹之旅。

【点评】本题考查准确解读材料信息的能力，熟记一五计划、改革开放后社会生活的变化相关知识