



顺义区 2023—2024 学年度第二学期八年级教学质量检测

历史试卷

考生须知

1. 本试卷共 8 页,共两部分,共 19 题,满分 60 分。考试时间 70 分钟。
2. 在答题卡上准确填写学校、班级、姓名和准考证号。
3. 试题答案一律填涂或书写在答题卡上,在试卷上作答无效。
4. 在答题卡上,选择题用 2B 铅笔作答,其他试题用黑色字迹签字笔作答。
5. 考试结束,将答题卡交回。

第一部分

本部分共 16 题,每题 1.5 分,共 24 分。在每题列出的四个选项中,选出最符合题目要求的一项。

1. 文物承载着历史信息。以下新石器时代文物可用于研究



河姆渡遗址骨耜



河姆渡遗址猪纹陶钵



半坡遗址彩陶盆

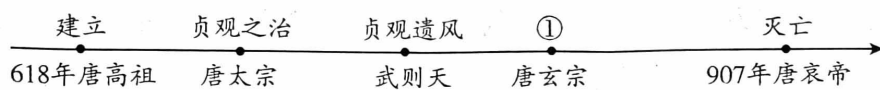


河姆渡遗址稻谷

- A. 早期人类起源 B. 原始农耕生活 C. 远古炎黄联盟 D. 早期国家产生
2. 在中华优秀传统文化宣讲活动中,初二(2)班同学选择的宣讲人物是春秋后期儒家学派创始人孔子。结合所学推断其宣讲的主要内容应该有
- A. 无为而治 B. 为政以德 C. 兼爱非攻 D. 以法治国
3. “秦皇汉武”是对中国历史做出突出贡献的皇帝。其中秦始皇废除分封制,实行郡县制和汉武帝实施“推恩令”的共同作用是
- A. 加强了对地方的控制 B. 促进了各地文化交流
C. 便利了各地交通往来 D. 加强了对思想的控制
4. 八年级历史兴趣小组同学在专题探究中,搜集了以下史料。据此推断探究的内容应是
- A. 西晋的短暂统一
B. 北方各族的内迁
C. 江南地区的开发
D. 宋元时期的经济
- 楚越之地,地广人希(稀)……无积聚而多贫。——《史记》
江南之为国盛矣……一岁或稔,则数郡忘饥。——《宋书》
5. 学者认为,隋朝对中国古代选官制度进行了变革,变革后的制度为平民提供了可以参政的机会,此后这一制度成为历朝选拔官员的主要制度。该制度是
- A. 禅让制 B. 察举制度 C. 刺史制度 D. 科举制度



6. 唐朝是中国古代历史上的鼎盛时期,在其前期出现了著名的盛世局面。结合所学判断以下示意图中①处盛世局面应为



- A. 文景之治 B. 光武中兴 C. 开元盛世 D. 康乾盛世

7. 在某校策划的古代科技成就微展览“宋元时期的科学技术”板块中,已经列入的成就有“中国海船开始使用指南针”“火药武器广泛用于战争”。以下成就还可以入选的是

- A. 张仲景著《伤寒杂病论》 B. 贾思勰著《齐民要术》
C. 毕昇发明活字印刷术 D. 司马光编《资治通鉴》

8. 归纳整理是一种有效的学习方法。结合所学判断右侧内容整理的是中国古代

- A. 加强中央集权的措施
B. 实行休养生息的结果
C. 实施重文轻武的表现
D. 推行文化专制的政策

唐朝: 进一步完善三省六部制
北宋: 分化事权, 削弱相权
明朝: 废除丞相制度和中书省
清朝: 设立军机处

9. 20世纪初,一部分先进知识分子认识到:仅有政治制度的革新不足以救中国,必须启发国民新的伦理道德意识,培养国民的独立人格,彻底荡涤封建旧文化的毒害。基于这一认识

- A. 洪秀全发动了金田起义 B. 张謇创办了大生纱厂
C. 陈独秀创办了《青年杂志》 D. 徐悲鸿创作了《愚公移山》

10. 初二(5)班同学在公众号推送了以下一组图片。结合所学判断该公众号推送的内容是



孙中山等走出国民党一大会场



黄埔军校旧址大门



国民革命军北伐誓师大会

- A. 中国同盟会成立 B. 第一次国共合作
C. 正面战场抗战 D. 全面内战爆发

11. 中国共产党的诞生是中国历史上开天辟地的大事变,自从有了中国共产党中国革命的面貌就焕然一新了。以下属于中国共产党成立条件的有

- ① 马克思主义广泛传播 ② 各地共产党早期组织建立
③ 工人阶级队伍的壮大 ④ 农民革命运动的蓬勃发展
A. ①②③ B. ①②④ C. ①③④ D. ②③④



12. 1940年8月至次年1月,八路军总部在彭德怀指挥下,组织105个团在华北地区以破袭日军交通线,摧毁敌人交通线两侧及抗日根据地内的日伪据点为目标,对日军发动了一场大规模进攻,有力打击了日军侵略气焰,提高了共产党和八路军的威望。这次战役是
A. 淞沪会战 B. 平型关大捷 C. 台儿庄战役 D. 百团大战
13. 在粉碎国民党军的全面进攻和重点进攻后,1947年夏,党中央当机立断,立刻转入全国性反攻,将战争引向国民党统治区域。揭开战略反攻序幕的军事行动是
A. 转战陕北 B. 千里跃进大别山 C. 辽沈战役 D. 渡江战役
14. 查阅档案馆资料《共和国脚步——1949年档案》,可用来学习
A. 西安事变 B. 重庆谈判
C. 开国大典 D. 万隆会议
15. 中国共产党历来重视农民、农业和农村问题。下列图片所示事件的历史作用是



1947年宣传《中国土地法大纲》



1950年宣传《中华人民共和国土地改革法》

- A. 保障了解放战争胜利 B. 解放了农村生产力
C. 捍卫了新中国的安全 D. 促进乡镇企业发展
16. 照片是了解历史的重要材料。以下一组照片拍摄于我国20世纪50年代中期,其所示历史事件的意义是



农民申请加入农业生产合作社



手工业者组织的木器生产合作社



天津盛锡福帽厂挂上公私合营后的新厂牌

- A. 为社会主义民主政治建设奠定基础
B. 实现了生产资料的社会主义公有制
C. 开始改变我国工业落后的面貌
D. 初步建立比较完整的国民经济体系



第二部分

本部分共 3 题,共 36 分。

17. (12 分) 民族交融与民族精神是中华民族多元一体的基石

材料一 【民族交往交流】

① 春秋战国:中原的“诸华”“诸夏”同周边的戎、狄、蛮、夷等民族长期交往和斗争。

② 魏晋南北朝:内迁各族主动认同中原地区的历史和文化,如鲜卑说自己是黄帝之子的后裔,北魏孝文帝更是在改革中推行汉化措施。

③ 唐朝:汉族和一些北方少数民族杂居、通婚,在朝廷中很多重要官职也由少数民族人士担任;唐太宗时还将文成公主嫁给吐蕃赞普松赞干布。

④ 两宋:两宋在与辽、西夏、金的边界开设贸易场所,供官府和商人进行商品交换。

(1) 依据材料一,说出中国古代民族交往、交流的主要方式和结果。(4 分)

材料二 【边疆有效治理】

新疆	西汉设置西域都护;唐朝设置安西都护府和北庭都护府;元朝设置北庭都元帅府;清朝平定大小和卓叛乱后设置伊犁将军
西藏	元朝设立宣慰使司都元帅府,由宣政院直接统辖;清朝册封达赖、班禅并设置驻藏大臣、设立噶厦,颁布《钦定藏内善后章程》
台湾	三国时吴国派卫温率船队到达夷洲;隋朝先后三次派人前往流求;元朝设置澎湖巡检司;郑成功收复台湾,清朝设置台湾府、后建立台湾省

(2) 依据材料二,列举历代中央政权对边疆地区进行有效治理的形式。(2 分) 运用材料中的史实说明元朝的历史贡献。(2 分)

材料三 【民族意识觉醒】

从 1840 年鸦片战争到 1949 年中华人民共和国成立的百余年间,国力衰弱导致的军事失败、割地赔款、主权沦丧等一系列惨痛历程,刺激了中华民族近现代民族意识的觉醒。各族同胞愈来愈认识到,中华民族是一个不可分割的整体,民族的独立和解放只能依靠中国最广大的民众。五四运动打破了对封建传统和帝国主义的精神依赖,改变了以往只有觉悟的革命者而缺少觉醒的人民大众的斗争状况,实现了中国人民和中华民族自鸦片战争以来第一次全面觉醒。

——摘编自卢梅《中华民族凝聚力的形成与发展》等

(3) 依据材料三,概括近代中华民族意识觉醒的背景。(2 分) 结合史实说明五四运动是中华民族的第一次全面觉醒。(2 分)









18. (12分) 对外交往折射国力兴衰

材料一

中国古代对外交往简表	
时期	史实(部分)
汉朝	张骞通西域后,商人们将丝绸等货物,经西域运往中亚、西亚,再转运到欧洲,又把西域的物产和奇珍异宝运到中原。此外,中国的丝绸等物品还经过“海上丝绸之路”转运到欧洲地区
唐朝	唐朝是当时世界上具有影响力的强大国家,有70多个国家或地区与中国往来。其中,日本、新罗派使节来唐朝学习中国文化,鉴真东渡日本,传授佛经,传播医药、文学、建筑等。玄奘前往天竺取经,携带大量佛经回到长安
宋元	与前代相比,宋元时期的中外交通有了很大发展。与中国有贸易关系的国家和地区达到140多个,中外经济、文化和科技交流进一步发展起来
明朝	明太祖时,积极与周边国家和地区发展友好关系。明成祖派郑和出使西洋,最远到达非洲东海岸和红海沿岸,增进了中国与亚非国家和地区的友好往来

(1) 依据材料一并结合所学,概括中国古代对外交往的特点。(2分)分析推动中国古代对外交往发展的条件。(2分)

材料二

		
① 1858年,第二次鸦片战争期间清政府被迫签订《天津条约》	② 19世纪60年代,清政府发起洋务运动	③ 1895年,甲午战败,清政府被迫与日本签订《马关条约》
		
④ 1898年6月11日,清政府颁布“明定国是”诏书,宣布实行变法	⑤ 1901年,清政府被迫与11国列强签订《辛丑条约》	⑥ 1912年1月1日,孙中山在南京宣誓就任中华民国临时政府大总统



(2) 史事的发生都有其前因后果。参照示例,从材料二中选择两个有因果关系的事件,对其进行说明。(4分,示例组合除外)

示例:⑤⑥

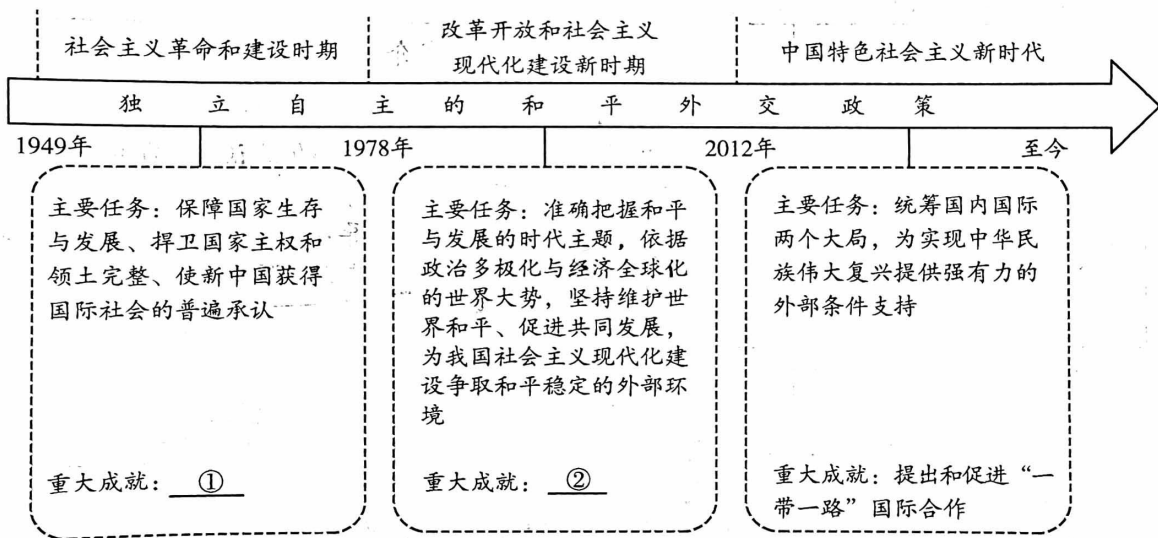
1901年清政府被迫与11国列强签订《辛丑条约》,中国完全沦为半殖民地半封建社会。

1912年1月1日,孙中山就任中华民国临时政府大总统,标志着中华民国诞生,这是孙中山领导的资产阶级民主革命的重要成果。

《辛丑条约》签订后中国完全沦为半殖民地半封建社会,国内革命情绪日趋高涨,资产阶级民主革命成为不可阻挡的时代潮流,武昌起义胜利后,各省纷纷独立,革命形势的发展要求有一个统一的中央政府,中华民国随之诞生。

材料三

中华人民共和国外交发展历程示意图



(3) 将下列成就分别填入相应位置。(2分,写字母)依据材料三总结新中国成立以来我国外交工作的经验。(2分)

A. 恢复在联合国的合法席位

B. 加入世界贸易组织



19. (12分) 探寻国家独立与复兴之路, 领悟马克思主义中国化历程

材料一 【民族独立解放之路】

新民主主义革命时期, 以毛泽东为主要代表的中国共产党人, 将马克思主义基本原理与中国革命实际相结合, 创立了毛泽东思想, 成功回答了中国革命向何处去、如何去的问题。

① 1927年, 大革命失败, 八七会议上, 毛泽东提出“政权是由枪杆子中取得的”著名论断。

② 秋收起义受挫后, 毛泽东改向敌人统治力量薄弱的山区进军, 1927年10月, 开始创建井冈山革命根据地。

③ 面对长征初期红军的惨重损失, 毛泽东建议改向敌人力量薄弱的贵州进军, 1935年1月, 遵义会议肯定了毛泽东的正确军事主张。

④ 1937年7月7日, 七七事变日本全面侵华, 中国共产党提交《中共中央为公布国共合作宣言》。




⑤ 为驳斥国民党内流行的“亡国论”“速胜论”观点, 1938年毛泽东发表《论持久战》。

⑥ 1945年4月中共七大上, 毛泽东作《论联合政府》的报告。会议确立毛泽东思想为党的指导思想。

⑦ 为准备新中国的建立, 1949年3月, 中共中央召开七届二中全会, 确定党的工作重心由乡村转向城市。

(1) 结合所学, 选择材料一中任意两个事件, 分别说明其在毛泽东思想形成过程中发挥的作用。(4分)

材料二 【改革开放富强之路】

展览馆展品	内容介绍及意义	
 <p>邓小平亲拟的讲话提纲</p>	<p>1978年12月, 邓小平作了题为《解放思想, 实事求是, 团结一致向前看》的讲话, 指出: “只有思想解放了, 我们才能正确地以马列主义、毛泽东思想为指导……根据我国的实际情况, 确定实现四个现代化的具体道路、方针、方法和措施。”</p>	<p>为中共十一届三中全会提出了基本的指导思想</p>
 <p>雕塑《十八颗红手印》</p>	<p>1978年, 安徽凤阳小岗村18户村民, 冒着风险在大包干合同书上按下手印, 创造了包干到户的农业生产责任制形式。1980年5月, 邓小平在《关于农村政策问题》一文中, 对大包干责任制作了肯定</p>	<p>到1983年家庭联产承包责任制已基本在农村普遍实行</p>
 <p>邓小平南方谈话</p>	<p>1992年, 邓小平先后发表一系列重要谈话。指出判断姓“资”姓“社”的标准应该主要看是否有利于发展社会主义社会的生产力, 是否有利于增强社会主义国家的综合国力, 是否有利于提高人民的生活水平</p>	<p>从理论上深刻回答了长期困扰和束缚人们思想的许多重大问题</p>

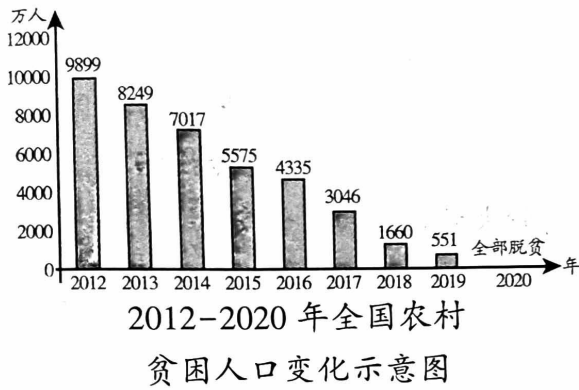
(2) 依据材料二并结合所学, 写出中国共产党在改革开放伟大实践中形成的理论创新。(2分) 说说邓小平在改革开放中的贡献。(2分)



材料三 【新时代民族复兴之路】

党的十八大以来,以习近平同志为核心的党中央从理论和实践结合上系统回答了新时代坚持和发展中国特色社会主义的总目标、总任务、总体布局、战略布局和发展方向、发展方式等基本问题,并且根据新的实践对经济、政治、法治、科技、文化、民生、生态文明、国家安全等各方面作出理论分析和政策指导,创立了习近平新时代中国特色社会主义思想。

——摘自《中国共产党简史》



2012-2022 年,我国森林面积增长了 7.1%,
重污染天数减少了 87%



2012 年至今中国载人航天已完成从
神舟九号到神舟十八号的成功发射



2012 年以来,我国社会舆论主旋律更强劲、
正能量更充沛

2012-2022 年社会主义民主政治建设(部分)

❖ 全国人大

共有 217 件次法律草案向社会公布征求意见,收到 120 多万人次提出的 380 多万条意见建议;全国人大常委会共听取审议有关监督工作情况的报告 150 多件,检查 50 多部法律的实施情况,开展专题询问 25 次,专题调研 45 项

❖ 全国政协

召开 16 次网络议政远程协商会,18 次专题议政性常委会会议,20 次专题协商会,51 次专家协商会,140 次双周协商座谈会,共收到提案 58000 多件,经审查立案 47000 多件

(3) 依据材料三结合自身体验,任选两个角度,谈谈你对习近平新时代中国特色社会主义思想的认识。(4 分)