

2024 北京西城初一（下）期末

历史

2024.6

| | |
|------------------|--|
| 注 意 事 项 | 1.本试卷共 10 页，共两部分，共 29 题，满分 100 分。考试时间 60 分钟。 2.在试卷和答题卡上准确填写学校、班级、姓名和学号。 3.试题答案一律填涂或书写在答题卡上，在试卷上作答无效。 4.在答题卡上，选择题用 2B 铅笔作答，其他试题用黑色字迹签字笔作答。 5.考试结束，请将考试材料一并交回。 |
|------------------|--|

第一部分

本部分共 25 题，每题 2 分，共 50 分。在每题列出的四个选项中，选出最符合题目要求的一项。

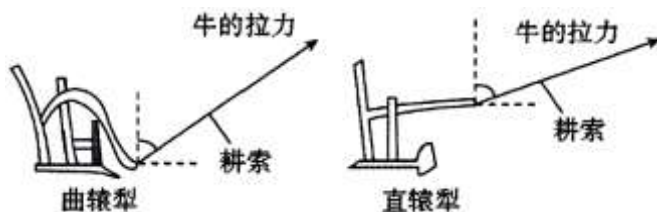
1.“自扬、益、湘南至交、广、闽中等州，公家运漕，私行商旅，舳舻(泛指前后首尾相接的船)相继。隋氏作之虽劳，后代实受其利焉。”这句话评价的是隋朝

- A.大一统局面的再现 B.科举制的开创
C.大运河的长远影响 D.暴政致其灭亡

2.唐初编撰《群书治要》，系统总结了中国古代治国理政理论，在此理论的指导下，唐太宗时期出现的治世局面是

- A.文景之治 B.光武中兴 C.贞观之治 D.开元盛世

3.唐朝《耒耜经》记载，曲辕犁相对直辕犁的优势之一是起土省力(如下图)，据此判断曲辕犁



- A.是取代表耜的新型农业生产工具 B.节约人力物力，提高农业耕作效率
C.推动中国古代经济重心南移完成 D.引发黄巢起义，导致了唐朝的灭亡

4.示意图可以表示事物之间的逻辑关系，观察下图，空白处应填入

- A.盛唐气象
B.安史之乱
C.商业繁荣
D.交通发达

5.右侧路线图描绘的历史事件是

- A.西汉时张骞出使西域
B.日本遣唐使来到中国
C.玄奘西行



D.鉴真东渡

6.“五代之乱，朝廷威令不行，藩帅劫财之风，甚于盗贼，强夺枉杀，无复人理。”这一问题得以解决是在

A.唐朝 B.北宋 C.南宋 D.明朝

7.北宋时期，枢密院(主要掌管军政)正职官员中，文职出身官员占 73.9%；枢密院副职官员中，文职出身官员占 83.7%；在枢密院存在的 166 年中，文官在枢密院任正职 91 年；在副职任职时间当中，文官独自任职 121 年。这反映出宋代

A.国家统一，息兵止戈 B.社会稳定，安居乐业
C.抑制武将，文臣统兵 D.不断改革，富国强兵

8.有同学用“北伐抗金”“郾城大捷”“莫须有”等词概括某历史人物，这个人物应该是

A.魏征 B.辛弃疾 C.岳飞 D.宋应星

9.从下列诗句中，可以得出的结论是

| 南宋诗人 | 诗句 | 描述的场景 |
|------|-----------------|---------------|
| 陆游 | 明珠百舸载芡实，火齐千担装杨梅 | 家乡草市上特产运输销售情况 |
| 范成大 | 十里山行杂市声；汹汹前村草市声 | 草市的繁荣 |

A.北宋中央集权得到空前加强 B.两宋时期民族交融不断发展
C.宋朝商业贸易呈现繁荣景象 D.宋代的海外贸易超过了前代

10.南宋算书中有关于小麦等粮食物价的记录，如《日用算法》中小麦价格为“每石一贯一百六十文”。《乘除通变算宝》中小麦价格则变为“每石二贯七百三十”，从中可以推断出宋代粮价曾发生的巨大波动。产生这一现象的原因是

A.与契丹的战事非常频繁 B.宋与金的战争与对峙
C.北方是宋朝粮食主产区 D.王安石变法推行不力

11.宋朝时重视传统节日，节日的习俗流传至今。下列属于描写中秋节的是

A.寒食前一日谓之‘炊熟’，用面造枣锢飞燕，柳条串之，插于门楣
B.百索、艾花、银样鼓儿……并皆茸切，以香药相和，用梅红匣子盛裹
C.至如铺席之家，亦登小小月台，安排家宴，团圆子女，以酬佳节
D.九月，都下赏菊有数种，酒家皆以菊花缚成洞户，都人多出郊外登高

12.右侧是对我国古代一项重大发明的最早记录，横线处应填入的是

A.造纸术
B.印刷术
C.火药
D.指南针



13.现代舞蹈诗剧《只此青绿》，以宋朝的《千里江山图》为创作蓝本，通过“展卷、问篆、唱丝、寻石、习笔、淬墨、入画”七个篇章，展示了一幅具有深厚中国文化底蕴的“青绿山水”。这说明

①中华优秀传统文化是创作的源泉 ②宋朝文学艺术全面超过了唐朝
③宋朝时科学技术取得突出的成就 ④文化传承与创新促进文化繁荣

- A.①② B.①④ C.②③ D.③④

14.元朝地方区划将自然环境差异极大的地区拼成一个省级行政区，极力削弱地方经济文化的认同感，使其失去扼险而守、割据称雄的地理条件，如：秦岭以南的汉中地区被划归陕西，使四川盆地的北向门户洞开，无险可守。这一制度是

- A.分封制 B.科举制度 C.三省六部制 D.行省制度

15.下列大一统的封建王朝，按时间先后顺序，排列正确的是

- ①清朝 ②元朝 ③唐朝 ④隋朝

- A.①②③④ B.①④③② C.③①②④ D.④③②①

16.下图是元朝政府印刷发行的“至元通行宝钞贰贯现钞”。采用当时最先进与复杂的套色印制工艺，“双面双色”印刷的套色印制水平和印制数量规模远超前代。从中可以得出的结论有

- ①贰贯现钞纸币由政府发行 ②纸币体现当时印刷技术高超
③元朝时我国商品贸易繁荣 ④元朝出现世界上最早的纸币

- A.①②③ B.①②④

- C.①③④ D.②③④

17.史学家王国维说，关汉卿的某部作品是“最有悲剧之性质者”“即列之于世界大悲剧中，亦无愧色也”。这部作品是

- A.《窦娥冤》 B.《水浒传》 C.《牡丹亭》 D.《红楼梦》

18.下列史料可用于研究元朝历史的有

- ①《史记》 ②妙应寺白塔 ③《资治通鉴》 ④郭守敬《授时历》

- A.①② B.①③ C.②③ D.②④

19.下列关于中国古代科举制的叙述，正确的有

- ①隋朝初步建立起通过考试选拔人才的制度，设立进士科
②唐朝时创立殿试制度，不拘一格选拔人才
③元朝时大幅度增加科举取士名额，提高进士地位
④明朝时，考试题目必须来自“四书”“五经”，要求答卷由八个部分组成

- A.①②③ B.①②④ C.①③④ D.②③④

20.明太祖曾说，“自秦始置丞相，不旋踵而亡。汉、唐、宋因之，虽有贤相，然其间所用者多有小人，专权乱政。”为此，明太祖采取的措施是

- A.在地方上设置通判 B.“杯酒释兵权”
C.由中书省掌管行政 D.废除丞相制度

21.明中后期，商人在服饰颜色的选择上不再局限于单调的白色，而是选择各种鲜艳明亮的颜色，在服饰面料上也更加注重质感，同时商人还引领了服饰潮流，带动其他人士追求时尚和奢华的服饰。这反映出明中后期

- A.政治制度黑暗腐败 B.商品经济发展引起观念变化
C.实行闭关锁国政策 D.追求奢华成为社会大众风尚



22.有同学在阅读历史教材时记下了“李时珍编写《本草纲目》”“17世纪的工艺百科全书《天工开物》”“徐光启编写《农政全书》”等内容，从中可推断他学习的内容是明朝

- A.科技的特点 B.文学的繁荣
C.商帮的出现 D.皇权的加强

23.依据右侧简表，我们可以了解

- ①明朝时军队人员结构的特点
②戚继光战胜倭寇的依靠力量
③戚家军能征善战的自身因素
④葡萄牙攫取在澳门的居住权

- A.①②③ B.①②④
C.①③④ D.②③④



24.“杀牛羊，备酒浆，开了城门迎闯王，闯王来时不纳粮。”“朝求升，暮求合，近来贫汉难存活。早早开门拜闯王，管叫大小都欢悦。”这些歌谣得以流传的背景是

- A.李自成起义军提出“均田免赋” B.明朝高产作物的引进
C.明朝是当时世界上最强大的国家 D.明末郑成功收复台湾

25.如果以“铸牢中华民族共同体意识”为主题办一个展览。下列各项可以入选的是




- ①设置安西都护府 ②阔端与萨迦班智达凉州会晤
③马可·波罗来华 ④土尔扈特部回归祖国
A.①②③ B.①②④ C.①③④ D.②③④

第二部分

本部分共4题，共50分。

26.(13分)多种途径学习历史

材料一 图像史料

| ① | ② | ③ |
|---|---|--|
|  |  |  |
| <p>《步辇图》(局部)描绘了唐太宗接见松赞干布派来的求婚使者的场景</p> | <p>《祭侄文稿》(局部)是颜真卿因自己侄子被史思明叛军杀害悲痛而作</p> | <p>郑和远航绘制的航海图(局部)</p> |

(1)结合所学知识，任选一幅图像(示例除外)，仿照示例，写出与之相关的历史事件及影响。(3分)

示例：图像②《祭侄文稿》(局部)：安史之乱，唐朝国势从此由盛转衰。

材料二 文学艺术作品

| | |
|--|---|
| ① | ② |
| 大江东去，浪淘尽，千古风流人物。 故垒西边，人道是，三国周郎赤壁。 ——苏轼《念奴娇·赤壁怀古》 | 问人间谁是英雄？ 有酹酒临江，横槊曹公。 ——阿鲁威《蟾宫曲·问人间谁是英雄》 |
| ③ | ④ |
| 三顾频频天下计，两朝开济老臣心。 出师未捷身先死，长使英雄泪满襟。 ——杜甫《蜀相》 | 西城的街道打扫净，预备着司马好屯兵。 诸葛亮无有别的敬，早预备羊羔美酒犒赏你的三 军。 ——三庆班《空城计》选段 |

(2)依据材料二，结合所学，将以上文学艺术作品序号填入相应空格中。(4分)

感慨诸葛亮鞠躬尽瘁：_____

感怀赤壁之战：_____

称赞曹操：_____

戏曲演绎著名历史故事：_____



材料三 文献资料

明朝中期，城市居民对于出版物提出了越来越多的要求，……明代书坊刻书进一步发展，分布地区较前更为广泛，数量更为增多。大众日常所需的各种医书、科技书、经史书等纷纷由书坊出版发行，文学作品和通俗读物也是书坊的重要产品……明代印刷装帧技术比以前有明显的进步。

——摘编自南炳文、汤纲《明史》

(3)依据材料三，概括明朝中期出版行业发展的表现。(3分)

材料四 历史遗迹

坐落于西城区虎坊桥的湖广会馆被称为北京“四大戏楼”之一。下面是其部分大事记

| 时间 | 事件 |
|---------------|--|
| 清嘉庆十二年(1807年) | 湖广会馆创建 |
| 清道光十年(1830年) | 集资重修，升其殿宇，加修大戏台 ……此后诸多戏曲名伶在此登台演出 |
| 1997年 | 北京湖广会馆作为北京市第一百座博物馆——北京戏曲博物馆宣布成立，承担普及戏曲知识，展示戏曲精品的任务 |

(4)依据材料四，结合所学知识，为湖广会馆大戏楼写一段宣传词(时间、地点、历史背景、历史影响、现实意义等)。(3分)

27.(11分)以农为本

材料一 《封氏闻见记·饮茶》谈到茶叶最初“南人好饮之，北人初不多饮”，但自(唐朝)开元以后，到处煮饮，从此转相仿效，遂成风俗。……北方的茶叶有很多是来自江淮一带，舟车相继，所在山积，色额(种类、数量)甚多。江南茶叶销售的地区涉及河南道、关内道，甚至还销售到了西北少数民族地区。

(1)概括材料一中叙述的历史现象。(3分)

材料二 《耕获图》描绘了一座江南田庄从耕田到收获的全过程，具有极高的史料价值。

①图的上部描绘的是平整土地的情景，四块田里各有一人驱一牛整地。

②图的右部有四位农人在踏翻车灌溉稻田。

③图的左下部，有挑禾的农人，还有人打稻脱粒。

④画中的青山绿水，片片肥田的景象。

⑤图的中部描绘的是田里农人插秧的情景。



(2)将材料二描绘的场景与以下结论进行对应。(填写序号，可多选)(4分)

北人南迁，带去了先进的灌溉工具：_____

宋朝时，水稻是重要的粮食：_____

反映了犁耕技术水平：_____

江南地区气候温暖湿润，有发展农业的优越自然条件：_____

材料三 从明朝的“苏常熟，天下足”，到清代的“湖广熟，天下足”，反映了当时湖广地区成为新的商品粮基地，农业和产粮中心都在向全国发展。外来作物的改良和推广、新经济作物的扩散，都反映了农业技术的进步。清代油菜种植及油菜花的广泛出现，不但改变了蔬菜作物的结构，还在人文与环境景观方面形成新的景观文化，与传统中国人文景象中李树的白花、桃树的红花鼎立而形成油菜黄花。

——摘编自鱼宏亮《康乾时代与早期全球化：17-18世纪中西信息、知识流动与政治变迁》

(3)依据材料三，概括明清时期农业发展的特点，(2分)并说说农业发展的影响。(2分)

28.(13分)生息繁衍在中华大地的众多民族共同缔造了统一多民族国家。

材料一 隋末和唐初战争严重阻碍和破坏了各族人民生产活动和贸易往来。唐初平定了东、西突厥后，采取措施恢复各族生产，逐步恢复区域间的贸易通道。唐太宗时期大一统政权的建立和民族政策的贯彻，创造了经济生产和交换所需的良好社会环境。唐初实行的经济政策，使得民族地区经济尤其是边境地区的经济得以恢复，陆上贸易回归正常。

(1)依据材料一，概括唐初民族地区的经济发展情况。(2分)结合材料和所学知识，分析这一时期民族地区经济得以恢复发展的原因。(2分)

材料二 元朝是中国少数民族建立的第一个全国性的政权，推动了统一多民族国家的巩固和发展，促进了中华整体观念的加强。1271年忽必烈改国号为大元，诏告天下说：“……可建国号曰大元，盖取《易经》‘乾元’之义。”忽必烈据汉文化经典而改建国号，表明他所统治的国家是“大一统”思想支配下的中原封建王朝的继续。

(2)依据材料二并结合所学，说明元朝为统一多民族国家发展所做的贡献。(3分)

材料三 宋朝，在辽、宋、西夏的边境地区建立了许多榷场，以供各地区贸易往来。到了明朝，南北各地各民族互惠互利、各取所需，一派“南来烟酒糖布茶，北来牛羊骆驼马”的繁荣景象。正是因为有了这种经济联系，中原与周边民族地区自古就成为了相互依存、互相促进的经济共同体。

——摘编自陈彦龙等《中国古代统一的各民族国家形成发展的内在机理浅析》

(3)依据材料三，谈谈中华民族共同体不断发展的基础。(2分)

材料四 满族统治者凭借很少的人口要长期统治幅员辽阔、民族众多、人口规模庞大且历史文化悠久发达的大国，维持国家统一和长治久安，势必要在政权结构、政治权力分享、对外体制、内部民族关系协调、区域治理及国内政治、经济、文化各类资源整合上进行合理完善的制度设计，同时依据国情的变化调整和纠错。

——摘编自邢广程、李大龙主编《清代国家统一史》

(4)结合所学，任选两项清朝制度措施，说明与统一多民族国家巩固的关系。(4分)

(建议选择：设置台湾府，颁布《钦定藏内善后章程》、平定大小和卓叛乱、《尼布楚条约》，其它也可)

29.(13分)古老的北京城，处处体现历史的发展延续。

材料一 宋辽往来的近120年中，北宋先后向辽国遣使130次。辽南京(今北京)是出使的重要一站，北宋使者将所见所闻记录在了出使报告中。

| | 出使报告 | 出处 |
|---|-------------------------------|------------------|
| ① | 古北之险，虽可守，而南有潮里平磧百余，可以方车连骑…… | 沈括《熙宁使虏图抄》 |
| ② | 胡人送客不忍去，久安和好依中原。 | 苏辙《奉使契丹二十八首·渡桑干》 |
| ③ | 昔使契丹，戎主觞(宴请)客，悉以玉杯，其精妙，殆未尝见也。 | 王钦臣《契丹风物》 |



(1)依据材料一，将以上材料的序号分别填写在相应空格内。(3分)

宋辽维持和平局面：_____

辽国贵族奢华生活：_____

对北方的军事分析：_____

材料二 在北京右安门外有一座金中都水关遗址。水关是古代城市城墙下供河流进出的水道建筑。金中都水关遗址全长43.4米，是现存中国古代都城水关遗址中体量最大的。考古学家们研究发现，其建筑形制与宋代《营造法式》中的“卷水窗”的规制完全一致，是研究我国古代建筑和水利设施的重要实例。

——摘编自黄加佳《金中都：北京都城的起点》

(2)依据材料二，说出金中都水关遗址的特点。(2分)指出金中都水关遗址的历史价值。(2分)

材料三 明朝北京城有宫城、皇城、内城和外城。宫城占地面积72万平方米，是北京城的核心。皇城周长9000多米，设有6个门。内城周长约23千米，设有9个城门。外城在内城南面，设有7个城门。整个北京城平面呈“凸”字形，由一条中轴线纵贯南北，从宫城到外城都以这条中轴线对称展开，均衡布局，形成了完整而和谐的巨大建筑群。

(3)依据材料三，概括明朝北京城的布局特点。(3分)

材料四 某班同学进行“明清北京城”主题研究，在图书馆检索到以下信息：

①明成祖将都城从南京迁往北京，有效统摄农耕与游牧两大区域，并通过漕运将南北紧密连接起来。

②明朝在京师广设学校，国子监是最高学府，此外还设立了武学、四夷馆、太医院、钦天监等特殊的教育机构，用以培养专门人才。

③顺治十年，五世达赖喇嘛来到京师，顺治皇帝对他进行册封，并授予金册和金印。此后历世达赖喇嘛转世，必经中央政府册封，成为定制。

④乾隆时期，由纪昀等编撰的《四库全书》，基本上囊括了中国古代所有图书，故称“全书”。丛书分经、史、子、集四部，故名“四库”。

(4)明清时期北京城是全国的政治中心和文化中心。依据材料四，将下列表格填写完整。(3分)

| 地位 | 材料序号 | 材料说明 |
|------|------|--------------------------|
| 政治中心 | | 明迁都北京，清册封达赖喇嘛，都加强了对全国的统治 |
| 文化中心 | | |



参考答案



一、选择题（每题2分，共50分。）

| | | | | | | | | | | | | | | |
|----|----|----|----|----|----|----|----|----|----|----|----|----|----|----|
| 1 | 2 | 3 | 4 | 5 | 6 | 7 | 8 | 9 | 10 | 11 | 12 | 13 | 14 | 15 |
| C | C | B | A | C | B | C | C | C | B | C | D | B | D | D |
| 16 | 17 | 18 | 19 | 20 | 21 | 22 | 23 | 24 | 25 | | | | | |
| A | A | D | B | D | B | A | A | A | B | | | | | |

二、综合题（26题13分，27题11分，28题13分，29题13分，共50分。）

26. (1) 图像①：文成公主入藏，促进吐蕃的经济和社会发展。（共3分）

图像③：郑和下西洋，增进了中国与亚非国家和地区的相互了解和友好往来，为人类的航海事业作出了伟大贡献。（共3分）

(2) ③①②④（4分）

(3) 表现：分布地区广；数量多；品类多；装帧进步等。（任写3点给3分）

(4) 宣传词：每一个角度1分，任写3个角度给3分。

27. (1) 现象：饮茶在唐朝成为风俗；北方的茶叶大多来自南方；茶叶产量大；茶叶种类多；茶叶的销售区域广等。（任写3点给3分）

(2) ②；②③⑤；①；④；（每空填写一个正确的即可得1分，共4分）

(3) 特点：新的农业中心出现并发展；农业技术进步；农业种植品种增加等。（任写2点给2分）

影响：农业和产粮中心向全国发展；农业种植结构变化；形成丰富的人文景观。（其它合理也可，任写2点给2分）

28. (1) 情况：各民族生产恢复；贸易恢复。（2分）

原因：唐朝开明的民族政策；国家统一，社会稳定；政府重视经济的恢复和发展，减轻人民负担，鼓励发展农业生产等。（任写2点给2分）

(2) 贡献：建立了全国性的统一政权；据汉文化经典，建国号，巩固大一统思想；采取了巩固统一的制度措施（行省制度、边疆设置的机构等也可）。（3分）

(3) 基础：经济上互通有无、相互依存、共同发展。（从两个角度谈，即可得2分）

(4) 示例：设置台湾府加强了中央政府对台湾的管辖，巩固了祖国的东南海防。（任选两项，措施和说明各1分，共4分。）

29. (1) ②③①（3分）

(2) 特点：体量大；学习中原建筑方式；体现民族交融。（任写2点给2分）

价值：研究我国古代建筑、研究古代水利设施、研究民族交融、研究金中都的建筑设计、研究北京建都史等。（任写2点给2分）

(3) 特点：以宫城为中心，层层环绕；规模大；呈“凸”字形；中轴对称；布局均衡；完整和谐等。（任写3点给3分）

(4)

| 地位 | 序号 | 说明 |
|------|------------------------|-----------------------------------|
| 政治中心 | ①③ (选择材料与地位相匹配, 得 1 分) | |
| 文化中心 | ②④ (选择材料与地位相匹配, 得 1 分) | 明清时期教育、文化发达, 是全国的文化中心 (说明 1 分) |

