



历史试卷

2024.6

本试卷共 8 页，共两部分，19 个小题，满分 60 分。考试时间 60 分钟。考生务必将答案填涂或书写在答题卡上，在试卷上作答无效。考试结束后，请交回答题卡。

一、单项选择题（每小题 1.5 分，共 24 分）

1. 依据下列信息判断，此次会议是

信息 1：1949 年 9 月北平召开

信息 2：会议讨论成立新中国的问题

信息 3：会议的成功召开，标志中国共产党领导的多党合作和政治协商制度正式确立

- A. 中国人民政治协商会议第一届全体会议
 - B. 中国共产党第八次全国代表大会
 - C. 中共十四届三中全会
 - D. 亚太经合组织领导人非正式会议
2. 在新中国成立前，贫农陈友汉家里的土地很少，没有耕牛、农具，每年只收 350 千克谷，全家一年只吃 2 千克油。1953 年他家收谷 1600 千克，一年能吃 24 千克油。这一变化反映出
- A. 土地改革促进了农业生产的发展
 - B. 三大改造将生产资料私有制转变为公有制
 - C. 一五计划改变我国工业落后面貌
 - D. “七千人大会”推动了国民经济全面调整
3. 下列两枚纪念章共同反映的主题是




西藏和平解放纪念章



1951 年台州土地改革纪念章

- A. 发展农村经济
 - B. 巩固新生政权
 - C. 抗击外来侵略
 - D. 全面拨乱反正
4. 右图是新华社在 2004 年 9 月 15 日发出的漫画。据此推断中华人民共和国第一届全国人民代表大会召开时间是
- A. 1952 年
 - B. 1953 年
 - C. 1954 年
 - D. 1955 年





5. 历史解释是对史实的分析和评判。下列选项中属于历史解释的一项是
- A. 1954年起，我国对资本主义工商业进行社会主义改造，逐步发展为企业的公私合营
- B. 资本主义工商业改造过程中，国家按全行业公私合营时资本家的资本发给定息
- C. 1956年1月底，全国所有大城市和50个中城市都实行了全行业公私合营
- D. 资本主义工商业改造过程中实行的赎买政策是中国社会主义改造的创举
6. 1960年春，王进喜率领钻井队到大庆参加石油大会战。当井喷的险情发生时，他不顾腿伤跳进泥浆池，用身体搅拌泥浆，制服了井喷，被誉为“铁人”。王进喜身上反映出的时代精神是
- A. 勇于创新 B. 艰苦创业 C. 实事求是 D. 包容互鉴
7. 1978年5月，《光明日报》发表《实践是检验真理的唯一标准》的文章，开始了真理标准问题的讨论。这场讨论
- A. 提出了“两个凡是”的方针
- B. 强调从严治党是全党的共同任务
- C. 是一场深刻的思想解放运动
- D. 确立了“两个一百年”奋斗目标
8. 十一届三中全会是新中国成立以来党的历史上具有深远意义的伟大转折，这次会议
- ①明确提出要建立社会主义市场经济体制
- ②把党和国家的工作重心转移到经济建设上来
- ③重新确立马克思主义的思想路线
- ④形成以邓小平为核心的党中央第二代领导集体
- A. ①②③ B. ①②④ C. ①③④ D. ②③④
9. 下列表格反映出家庭联产承包责任制的实行

年份	农业总产值（亿元）	农村居民人均可支配收入（元）
1978年	1397	133.6
1990年	7662.1	686.3
2000年	24915.8	2282.1

- A. 增强了企业的活力，提高了企业职工收入
- B. 大大解放了农村生产力，增加了农民收入
- C. 改变了工业落后的面貌，发展了国民经济
- D. 健全了社会保障体系，缩小了贫富的差距
10. 右图是历史学习兴趣小组制作的读书卡片。卡片横线处应填写的内容是
- A. 一五计划超额完成
- B. 三大改造基本完成
- C. 城市改革全面展开
- D. 全面建成小康社会

经济体制改革

一、农村改革取得突破

二、_____

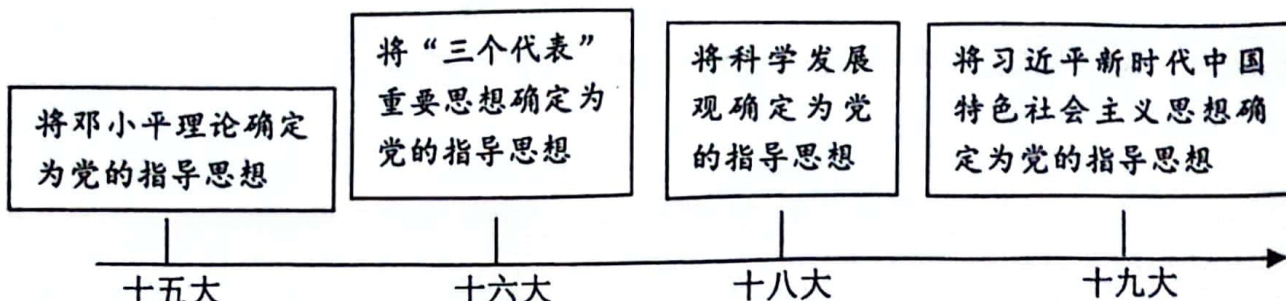
三、建立社会主义市场经济体制



11. “从特区可以引进技术，获得知识，学到管理，管理也是知识。特区成为开放的基地，不仅在经济方面、培养人才方面使我们得到好处，而且会扩大我国的对外影响。”上述材料意在说明

- A. 建立经济特区的必要性
B. 经济特区发展的历程
C. 经济特区的地理分布特点
D. 对外开放格局的形成

12. 以下示意图可用于说明



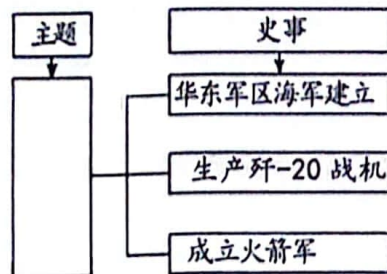
- A. 新民主主义革命道路的探索
B. 新中国社会主义基本制度的建立过程
C. 中国特色社会主义的发展历程
D. 社会主义法制建设的不断发展与完善

13. 我国对少数民族古籍文献的整理工作取得了大批成果，如藏族史诗《格萨尔王传》、蒙古族史诗《江格尔》和柯尔克孜族史诗《玛纳斯》等。这批成果主要体现出国家

- A. 重视少数民族文化的保护与发展
B. 注重少数民族地区的基础设施建设
C. 保障各少数民族的合法权利和利益
D. 推动少数民族地区的生态环境保护

14. 右边知识结构图的主题应是

- A. 文化事业繁荣
B. 交通设施改善
C. 体育事业发展
D. 国防力量壮大



15. 下列照片可用于学习

 <p>1979年元旦，全国人大常委会发表《告台湾同胞书》</p>	 <p>1997年中国人民解放军驻香港部队进入香港</p>	 <p>1999年中葡澳门政权交接仪式</p>
--	--	--

- A. 外交事业的发展
B. 祖国统一大业的推进
C. 文化事业的繁荣
D. 人民生活生活的变迁

16. 八年级同学以“改革开放以来，我们所处生活环境的变化”为主题，开展社会调查活动。在活动的采访、考察过程中应注意

- ①采访对象只能是家人
②采访前不需要让受访者有所准备
③提问要紧扣调查主题
④在采访过程中要尊重受访者
- A. ①②
B. ①④
C. ②③
D. ③④



二、非选择题 (共 36 分)

17. (14 分) 新中国的成立, 翻开了外交事业的新篇章。

材料一 新中国成立后, 周恩来作为第一任总理兼任外交部部长, 通过①领导制定和平的外交政策、②出席国际会议、③开展政要交往、④参观访问等形式, 成功地在国际社会上展示了独立、和平的新中国形象。

——摘编自陈子玉, 余君《论周恩来与新中国和平国家形象塑造》

卓越外交家	主要外交形式	外交活动
周恩来	A: _____	在新中国成立前夕, 周恩来主持起草《中国人民政治协商会议共同纲领》。其中第五十四条: 中华人民共和国外交政策的原则, 为保障本国独立、自由和领土主权的完整, 拥护国际的持久和平和各国人民间的友好合作, 反对帝国主义的侵略政策和战争政策
	B: _____	印度尼西亚总统苏加诺是著名的艺术收藏家。1950年我国与印度尼西亚建交后, 多次邀请苏加诺总统访华。期间, 周恩来赠送给苏加诺一幅徐悲鸿的奔马轴
	C: _____	在 1955 年的万隆会议上, 周恩来提出“求同存异”的方针
	D: _____	从 1956 年底到 1964 年初, 周恩来出访亚、非 28 国, 坚决支持它们争取和维护政治、经济独立的斗争

(1) 依据材料一, 将表格补充完整。(4 分。写序号, 多选、少选、错选均不得分) 并分析新中国外交活动的影响。(2 分)

材料二 新中国外交中的“动物”国礼



1972 年 2 月 21 日, 美国总统①抵达北京。他带来一件名为“和平之鸟”的瓷塑天鹅礼品。只是没想到运输途中, 天鹅的第五根羽毛被弄断了。他只能设法将断裂的羽毛重新粘了回去, 并向毛泽东主席表示歉意。而毛主席一语双关地表示: “这不是让你给接上了吗?” 毛主席把中美关系和天鹅的羽毛都蕴含在这句话里



(2) 结合所学，将材料二①处填写完整。(1分) 从新中国成立后，中美关系发展的角度，谈谈你对毛泽东“这不是让你给接上了吗？”这句话的理解。(2分) 结合所学，写出20世纪70年代中国取得的其它外交成就。(1分)

材料三 新中国外交服饰，从站起来时期（新中国成立后）的突出中国特色，以“中山装”为标志；到富起来时期（改革开放以来）的与国际接轨，以“西装”为标志；再到强起来（当前阶段）进程中在遵循国际规范的基础上吸收世界服饰文化精华并强化中国传统文化特色，以“新中装”为标志。这是中国在经历了站起来、富起来之后文化自信的体现，是中国走向强起来的宣示。

——周加李《新中国外交服饰：从不断探索到彰显文化自信》

(3) 依据材料三，指出新中国外交服饰的变化。(2分) 谈谈你对上述变化的认识。(2分)

18. (10分) 先锋人物奏响时代最强音。

材料一

序号	作品	内容节选
①		要贯彻三中全会（十一届三中全会）的决定，我（吴南生时任广东省委书记）主张广东先走一步。先走一步的那个“子”怎么下呢？我想先划出一块地方，用各种比较优惠的政策来吸引外资，把他们先进的东西引到我们这个地方来
②		那时（志愿军入朝第二年）敌人疯狂地发动了所谓“秋季攻势”，我们一个战斗小组就在这里守了三天三夜。但是由于我们的重火器太少，在敌人占压倒优势的炮火轰击之下，伤亡很大，最后只剩下我一个人了。我（唐凤喜二级英雄班长）在烈士们的遗体跟前下了决心：“我只要有一口气，就坚决把阵地守住！”
③		1954年8月12日农业社召开了建社的报名大会……晚上我（侯永禄农业社会会计）便参加了建社委员会的会议。从此，我便开始了建社方面的许多具体工作：先登记各入社户的土地亩数，再评定地的肥瘦等级



(1) 依据材料一并结合所学，将三部作品节选内容所反映的史事，按出现时间先后正确排序。(1分。写序号) 参照示例，对其中一段内容节选加以说明。(2分。示例除外)

示例：③反映了农业合作化运动的情况。书中从侯永禄的视角，描述了农民加入农业合作社的步骤。

材料二 我们中国的航天事业，在党的领导下，经过几十年的不懈努力，从无到有，从一穷二白到现在的我们的北斗的组网（北斗系统是中国着眼于国家安全和经济社会发展需要，自主建设运行的全球卫星导航系统，在交通通信、农林渔业、气象测报、公共安全等领域广泛应用），我们的问天的探火（我国成为第二个在火星成功着陆的国家，从而提高了中国深空探测的话语权和大国地位），再到我们的嫦娥的取样（嫦娥五号探月取样并带回地球，通过分析样本可以建立起月球、甚至太阳系的演化历史），同时又到了我们的航天员，入驻我们的核心舱（太空中现有2个驻人空间站：国际空间站由16个国家联合建造，中国天宫空间站则是中国独立研发建造的）。这一刻是值得我们骄傲的！

——杨利伟北京大学的演讲

(2) 依据材料二，概括中国航天事业发展的特点。(2分) 并结合所学，分析中国航天事业发展的意义。(2分)

材料三 不朽功勋，镌刻国家发展史册；光辉榜样，照亮民族复兴征程。或是①赤胆忠心献身国防事业，或是②全心全意服务民生福祉，或是③鞠躬尽瘁推动科技创新。

——摘编自人民日报《向功勋模范人物致敬》

 <p>焦裕禄</p>	 <p>雷锋</p>	 <p>钱学森</p>
 <p>邓稼先</p>	 <p>袁隆平</p>	 <p>屠呦呦</p>



(3) 任选材料三划线句中一个主题，结合两位模范人物的事迹加以说明。(3分。示例除外)

示例：主题②

焦裕禄亲自带队到兰考县灾区调研，患病期间仍坚持工作，被称为“党的好干部”；

雷锋在每个岗位上都兢兢业业，甘做革命的螺丝钉，默默无闻地为人民做好事，被称为“人民的好战士”。

他们将自己的精力和青春无私地奉献给党和人民的事业，全心全意服务民生福祉。

19. (12分) 交通与时代发展。

材料一

时期	铁路	介绍
A	宝成铁路	1952年动工，1956年铁路两端接轨，接轨时间比预计提前了十三个月。其所经过路段地形复杂，地势险要，曾动用了新中国新建铁路一半左右的劳动力和4/5的机械筑路力量进行修建。宝成铁路为我国西部、西南部地区的经济社会发展创造了重要条件
	鹰厦铁路	1955年动工，1957年举行交接仪式，仅用两年多时间竣工完成。其南段地势险要，北段坡陡弯急，工程难度巨大，当时动用20多万铁道兵和当地民工参与修建。鹰厦铁路的修建改变了福建交通闭塞的局面，促进了福建经济社会的发展

(1) 依据材料一并结合所学，将A处信息补充完整。(1分。写序号) 比较两条铁路工程的相同点。(2分) 举出此时期我国工业建设取得的一项成就。(1分。铁路除外)

- ①一五计划期间 ②大跃进期间

材料二 小小火车票见证时代变迁

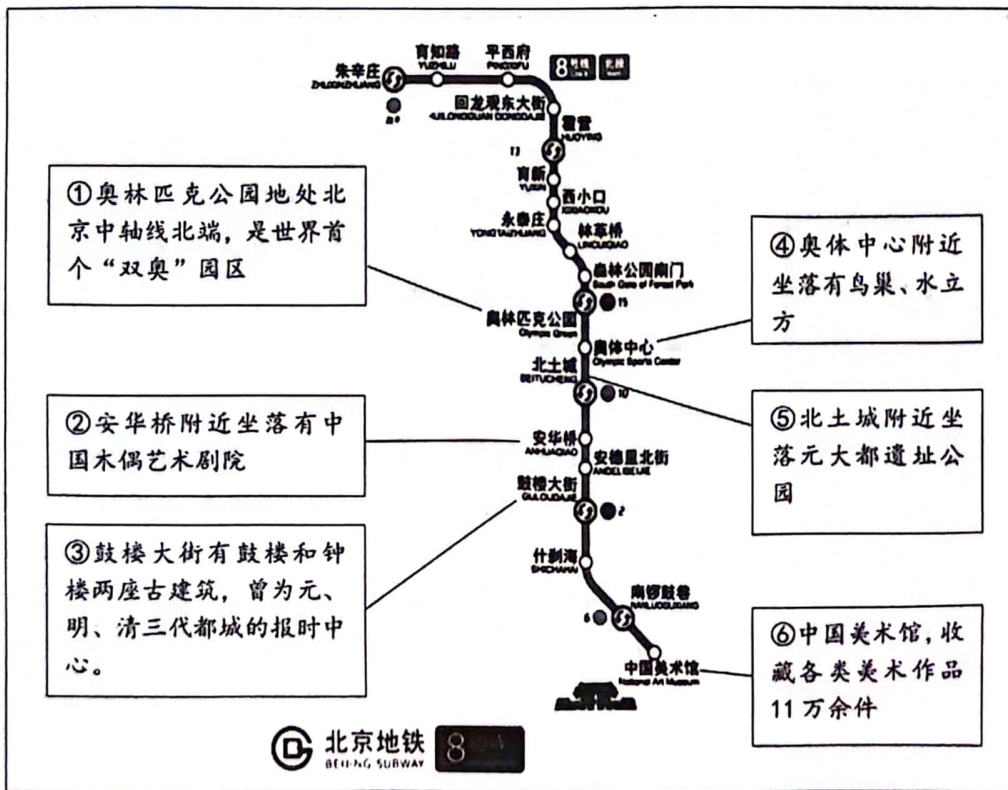
	新中国第一代火车票为硬板式火车票。它使用的时间最长，上世纪50年代至90年代使用。售票时需要售票员手动使用砸票机在车票上标注日期等信息，费时费力
	第二代是软纸票。上世纪80年代广深(广州、深圳)铁路公司研发并使用。1997年计算机打印的红色软纸票正式全国投入使用。软纸票在售票时现场打印即可，使售票时间大大缩短，更加适应不断提高的社会生活节奏



	<p>第三代的磁介质票。2008 年开始出现，乘客自助刷票进站。票卡生产成本低并可以循环使用，降低能源消耗。它改变了传统的人工检票的方式，提高了人们进出车站的速度，减少了车站服务人员的工作强度</p>
	<p>第四代就是当下的“无纸化”车票，纸质火车票退出历史舞台。人们乘车的检票平均速度由 3.8 秒/人缩短至 1.3 秒/人</p>

(2) 依据材料二，概括我国火车票的发展趋势。(2分) 从第二代火车票开始，我国火车票的更新换代速度明显加快。结合所学，分析车票更新速度加快的原因。(2分)

材料三 2024 年 2 月开通的北京地铁 8 号线“中轴线专列”，与地上中轴线遥相呼应，从而形成一条流动的中轴文化带。



(3) 依据材料三，参照示例，设计两条地铁中轴线上的主题之旅。(4分。④⑥组合除外)

示例	序号	主题
	④	文体之旅
	⑥	