



2024 北京中考押题卷

历史（二）

（本试卷满分 70 分，考试时间 70 分钟。）

注意事项：

1. 答卷前，考生务必将自己的姓名、准考证号等填写在答题卡和试卷指定位置上。
2. 回答选择题时，选出每小题答案后，用铅笔把答题卡上对应题目的答案标号涂黑。如需改动，用橡皮擦干净后，再选涂其他答案标号。回答非选择题时，将答案写在答题卡上。写在本试卷上无效。
3. 考试结束后，将本试卷和答题卡一并交回。

第I卷

一、选择题：本题共 20 小题，每小题 1.5 分，共 30 分。在每小题给出的四个选项中，只有一项符合题目要求。

1. 时至今日，人类文明的发展大致经过了以下历程：石器时代、青铜时代、铁器时代、蒸汽时代、电气时代、原子时代、信息时代。这种划分时代的标准是（ ）
A. 考古发现 B. 社会制度 C. 时代思潮 D. 生产技术
2. 下图是李萌同学梳理的济南历史沿革。与图中三个朝代相对应的制度是（ ）

西周	秦	元
属于齐国	分属济北郡	隶属于中书省

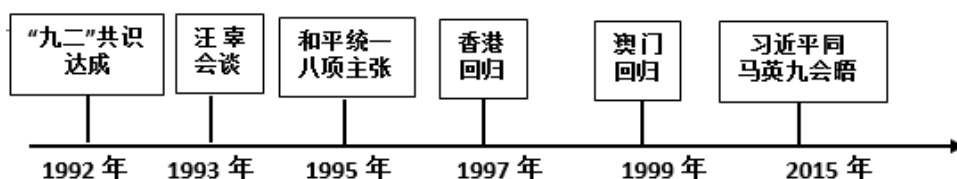
- A. 分封制、行省制、郡县制 B. 分封制、郡县制、行省制
 - C. 郡县制、行省制、分封制 D. 行省制、分封制、郡县制
3. 某班去参观“中国历代文物精品展”。如果按照朝代顺序，他们依次进入的场馆应是（ ）
①元明清馆 ②隋唐馆 ③秦汉馆 ④魏晋南北朝馆
A. ④③②① B. ④③①② C. ③④②① D. ③④①②
 4. 下图是某单元的结构示意图，“？”处应该是（ ）



- A. 孝文帝改革 B. 人口迁徙 C. 盐铁专卖 D. 丝路开辟
5. “冲天香阵透长安，满城尽带黄金甲”，唐诗是那个时代的名片，农民起义领袖也以诗言志，豪气干云。这位农民起义领袖是（ ）
A. 吴道子 B. 阎立本 C. 黄巢 D. 颜真卿
 6. “诗圣”杜甫曾经这样形容自己的生活——“烽火连三月，家书抵万金”，造成当时杜甫生活颠沛痛苦的“烽火”是指（ ）
A. 黄巢起义 B. 朱温灭唐 C. 安史之乱 D. 陈桥兵变



7. 科举创立后，出现了“朝为田舍郎，暮登天子堂”的现象。这表明科举制有利于（ ）
- A. 提高官员素质 B. 加强中央集权 C. 促进阶层流动 D. 营造读书风气
8. 宋初规定，府州的公文要在辖境内颁行，必须由长官与通判共同签押。例如，知府或知州“无得擅断，徒、杖刑以下，听与通判官等，量罪区分”。这种做法旨在（ ）
- A. 加强对地方的控制 B. 防止武将专权
C. 减轻政府财政负担 D. 强化司法监管
9. 梧州某中学学生在研究一份史料，史料中有“1662年”“荷兰殖民者”“收复台湾”等关键词。据此判断，他们研究的历史人物是（ ）
- A. 关天培 B. 左宗棠 C. 邓世昌 D. 郑成功
10. 清政府规定，一切外国进口货物一律由朝廷特许的“广州十三行”承销，内地出口货物也由“广州十三行”代购，进出口货物的价格概由“十三行”决定。外商不得和官府直接交涉，一切命令、文书都由“十三行”转达。材料体现出清朝实行的政策是（ ）
- A. 严格禁止对外贸易 B. 实行闭关锁国政策
C. 重农抑商 D. 鼓励发展海外贸易
11. “西方列强把清政府看作一艘快要沉没的破船，争先恐后扑上前来，想尽快从这里多捞一把，掀起了在中国争夺势力范围的狂潮。”该形势出现的背景是（ ）
- A. 鸦片战争的爆发 B. 甲午战争中国的失败
C. 《辛丑条约》签订 D. 近代民主革命的兴起
12. 某班举办中国人民反侵略斗争主题故事会，讲述了戚继光抗倭、义和团廊坊阻击战的故事，在这次活动中还可以讲述的故事有（ ）
- A. 北魏孝文帝改革 B. 明朝郑和下西洋 C. 邓世昌英勇抗敌 D. 董存瑞炸毁暗堡
13. 在百年的奋斗历程中，中国共产党人顽强拼搏、不懈奋斗，形成了一系列伟大精神。下列党的精神出现的先后顺序是（ ）
- ①井冈山精神 ②红船精神 ③西柏坡精神 ④延安精神 ⑤特区精神
- A. ①②⑤③④ B. ①②③⑤④ C. ②①④③⑤ D. ②③①④⑤
14. 《解放日报》1945年9月5日社论：“半世纪以来，我中华民族所受到的奇耻大辱，血海深仇，现在报仇雪耻了。这的确是我中华民族百年来未有的大事，值得全国同胞的热烈庆祝。”社论中的“中华民族百年来未有的大事”是指（ ）
- A. 百团大战的胜利 B. 抗日战争的胜利
C. 解放战争的胜利 D. 新民主主义革命的胜利
15. 李华同学运用时间轴对中国某一时期的重大史事进行梳理，据此判断他学习的主题是（ ）





- A. 祖国统一大业的推进
- B. 民族工作的有效开展
- C. 法制建设的不断深入
- D. 外交领域的显著成就

16. 下图是李华同学围绕“资产阶级革命”这一主题收集整理的一组漫画，并对它们分别做出如下解读，你认为正确的是（ ）



图一 17世纪英国国王和议会的角力

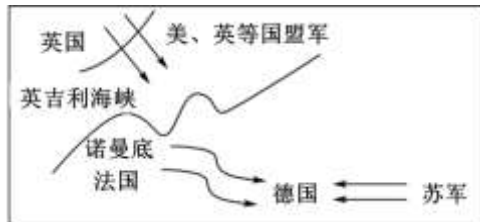


图二 “美利坚”烈马要骑在身上的英国殖民者掀翻在地



图三 18世纪饱受奴役的法国农民

- A. 图一：见证了英国专制王权与议会之间的较量
 - B. 图二：反映了北美人民摆脱了英国的殖民统治
 - C. 图三：法国农民通过领导革命推翻了等级制度
 - D. 三幅漫画呈现了早期资产阶级革命发展历程
17. 历史事实是指对历史人物或事件的客观叙述，不带任何功能性定位；历史解释是对历史事件的原因、意义等进行理性分析和客观评判。以下属于历史解释的是（ ）
- A. 1918年，扎格鲁尔向英国提出完全独立要求
 - B. 1930年，甘地再次发起了非暴力不合作运动
 - C. 1948年，英国向世界宣布建成了“福利国家”
 - D. 1993年，欧盟建立加快了欧洲一体化的进程
18. 识别历史示意图是学习历史的重要能力。如图是第二次世界大战某一战役示意图，该战役（ ）



- A. 使第二次世界大战规模进一步扩大
 - B. 成为第二次世界大战的重大转折点
 - C. 美英盟军成功开辟了欧洲第二战场
 - D. 标志着第二次世界大战已取得胜利
19. 1933年罗斯福在就职演说中讲道：“我们最大的首要任务，是使人民有工作可做……由政府本身直接募工，可以部分地完成这一任务，政府对待这项任务就像对待战争的紧急状态一样。”据此可知罗斯福政府推出的新措施是（ ）
- A. 整顿金融体系
 - B. 调整农业政策
 - C. 推行“以工代赈”
 - D. 建立社会保障制度
20. 联邦德国前总理阿登纳说：“统一欧洲的目标是要一步一步地，首先通过经济一体化，随后政治一体化，最后军事一体化，而达到欧洲的统一。”其中“经济一体化”的第一步是（ ）



- A. 建立欧洲煤钢共同体
- B. 建立欧洲原子能共同体
- C. 签署《欧洲联盟条约》
- D. 发行欧洲统一货币欧元

第II卷

二、选择题：本题共 4 小题，共 40 分。

21. (11 分) 科技创新关乎国家前途，人民福祉。

材料一 中国科学院自然科学史研究所推选出“中国古代重要科技发明创造”85 项，分为科学发现与创造、技术发明、工程成就三类。推选条件：一是突出原创性；二是反映古代科技发展的先进水平；三是对世界文明有重要影响。

——摘编自中国科学院自然科学史研究所《中国古代重要科技发明创造》

(1) 依据材料一，将以下科技发明创造分别填入相应类别。(写序号，多选、错选不得分) 任选一项成就，结合一个推选条件，说明其入选理由。(示例除外)(4 分)

- ①都江堰 ②造纸术 ③大运河 ④罗盘(指南针)

类别	科学发现与创造	技术发明	工程成就
成就	二十四节气、《本草纲目》分类体系	_____、_____	_____、_____

示例

《本草纲目》分类体系：《本草纲目》分类方法严谨，更加接近现代的科学认识。17 世纪传入日本和朝鲜，后来陆续被翻译成法文、英文等多种文字。因此，符合第三个推选条件。

材料二 有经济学家指出，技术创新经常能够创造新产业并生产新产品，推动经济发展。以下是英、美人均国内生产总值估值表。(单位：美元)

时间	1820 年	1850 年	1870 年	1913 年
英国	1756	2362	3263	——
美国	——	1819	2457	5307

——整理自布鲁尼格等《现代欧洲史》

(2) 依据材料二并结合所学，举例说明“技术创新能够创造新产业并生产新产品”。(例如：人造纤维的发明，开辟了新的纺织品生产领域。) 概括英、美人均国内生产总值变化的共同趋势，并分别说出两国国内生产总值变化的历史背景。(5 分)

材料三 世界知识产权组织发布的 2022 年全球创新指数显示，中国创新能力综合排名为全球第 11 位，较 2012 年跃升 23 位。中国进入全球百强的科技集群数量达 21 个，比 2017 年增加 14 个，居全球首位。2022 年前 10 个月，我国一般公共预算中科学技术支出超过 7000 亿元，同比增长 8.8%。

——摘编自 2022 年 12 月 25 日《经济日报》

(3) 依据材料三并结合所学，谈谈你对中国科技创新发展情况的认识。(2 分)

22. (8 分) 中华民族的海洋之路“辉煌与屈辱”。

【走向深蓝】



材料一 当时的中国是世界上独一无二的超级大国，按照航海的实力，发现“新大陆”的不应该是西班牙人，而应该是中国人。这似乎是西方学者几乎一致的看法，但是他们忽略了对郑和下西洋与欧洲“地理大发现”的不同的国内背景的分析，达·伽马、哥伦布的航海探险，是为了夺取殖民地，夺取贵重的黄金白银，作为资本的原始积累。而郑和下西洋的明朝初年，国内并无这种需求。后来的事实也证明了这点，郑和七次下西洋，没有霸占一丝一毫的海外殖民地。

——樊树志著《国史十六讲》

【海防之殇】

材料二 甲午战争前中日军费筹措对比：

清朝政府——1894年6月30日，李鸿章提出添募士兵、加强北洋舰队等方案，并请求户部拨款二三百两，以作军费。清政府一开始竟然仅仅拿出18万两银子以充军费。经过反复商议，户部最后也只答应负责筹措150万两。而这些钱只相当于甲午战争中，日本娼妓为支援战争捐出的数目。即便这样，这笔钱直到战争爆发也未全部到位。

——摘编自舒健《钱都去哪儿了？——清政府的军费筹措与甲午战争的惨败》

日本政府——到1881年的时候，日本政府制定了一个为期20年的造舰计划，准备每年造3艘，共造60艘。可是到了第二年，这个计划又改了，它以8年为期，每年造6艘，一共造48艘。1889年的时候，国会又增加107万日元海军经费，使得海军经费占到全国总财政支出的11.7%。

——摘自纪录片《走向海洋》

【以海强国】

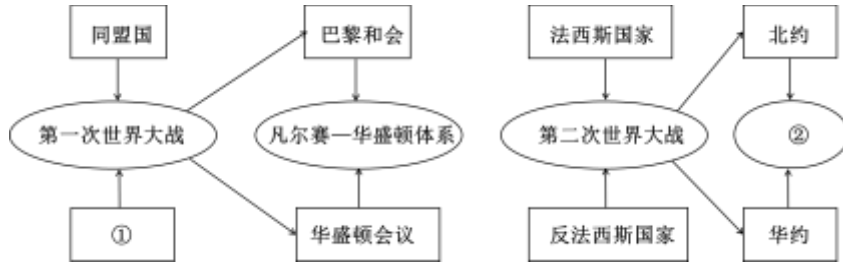
材料三 新中国海防建设走过由海防体系的初步建立（1949-1956年）、海防建设事业在曲折中发展（1956-1976年）、改革开放新时期的发展（1978-2012年）、新时代的发展（2012年至今）四个阶段。在此历程中，建立健全了陆、海、空一体化海防体系；完成了党和国家赋予的重大使命任务；为发展我国海洋事业提供了强有力的保障；反击外来侵略，捍卫了海疆主权和国家领空、领海安全，维护了祖国统一。

——陈明富、秦婧《新中国70年海防建设的回顾与思考》

- （1）根据材料一并结合所学知识分析“郑和下西洋”和“新航路开辟”的目的有何不同？（2分）
- （2）材料二中，从甲午战争前中日双方军费筹措结果的不同，能够得出中国战败的政治原因是什么？（2分）
- （3）根据材料三列举一项新中国成立以来海防成就？（2分）
- （4）6月8日是世界海洋日。2024年世界海洋日的主题是“新深度唤醒”（Awaken New Depths）。结合以上材料，谈一谈你的认识。（2分）

23.（10分）2023年10月7日，俄乌冲突没有停止，巴以冲突再度爆发，停火协商，维护和平成为全世界人民共同的心声。阅读材料，回答问题。


材料一



材料二 斯大林格勒之战，英美报纸比之为凡尔登战役，“红色凡尔登”之名已传遍于世界。这个比拟并不适当。今天的斯大林格勒之战，比起第一次世界大战的凡尔登来，有性质的不同。……这一战，不但是苏德战争的转折点，甚至也不仅是这次世界反法西斯战争的转折点，而是整个人类历史的转折点。

——摘编自毛泽东《第二次世界大战的转折点》

材料三

<p>失去亲人的加沙儿童</p>	 <p>医院里的加沙儿童</p> <p>2023年12月4日，以色列不顾国际社会的强烈反对，继续对加沙地带的袭击，已致15523人死亡，41316人受伤，死伤人员中70%为妇女和儿童。巴勒斯坦中央统计局表示，加沙地带70%的医院已经停止服务。</p> <p>——央广网北京12月4日消息</p>
------------------	---

(1) 根据材料一，图示反应了两次世界大战后国际关系格局变化及相关的影响因素。请根据提示信息，填出①②处对应的内容。(2分)

(2) 根据材料二，结合所学，如何理解材料二中两次战争性质的不同？为什么说斯大林格勒战役是世界反法西斯战争的转折点？(4分)

(3) 根据材料三，结合所学，从国家角度分析，怎样才能使材料三图片反映的现象不再发生？(4分)

24. (11分) 北京的商业。

材料一 1153年，金海陵王将辽南京城扩建为较大的中都城，城内的坊巷较前增加许多。旧坊有的被打破，原来仅在封闭的坊内进行商业活动的习惯也被打破，新建的开放的街巷可以多设交易场所以及酒楼等，也有利于商贩走街串巷去售卖商品。中都城消耗日繁，购买力强大，四方商贾常运货物到此贸易。中都市场上出售的货物有粮食类、衣着类、果品类、铁器类等，还出售从榷场运来的、从南宋输入的茶、荔枝、砂糖、生姜、橘子等以及从西夏输入的珠、玉、马匹等。

——摘编自曹子西主编《北京通史》

(1) 依据材料一，指出中都城商业发展的主要表现。(2分) 结合所学，说明商业得到发展的时代背景。(2分)

材料二 元大都的商业街市大部分集中在钟、鼓楼至积水潭一带(大运河的终点码头)。明北京城在元大都的基础上向南迁移，商业中心从原来的钟、鼓楼一带移到皇城之南。此时，大运河的终点码头南移至东便门外的大通桥下，带动北京城商业中心的南移。清初规定内城不许开设店铺，内城商人迁往外城，外城人



口密度逐渐增加，外城的商业日益发展起来。

——摘编自张景秋《北京城市商业中心布局的演变》

(2) 依据材料二，指出从元到清北京城市商业中心分布的变化。(1分) 分析产生变化的主要原因。(2分)

材料三

<p>1978年，北京商业增加值仅为8.27亿元，2007年则高达879.4亿元，占当年北京国内生产总值的9.4%，累计增长超过100倍。</p> <p style="text-align: right;">——北京商业经济学会副会长王茹芹口述</p>
<p>1980年，东城区翠花胡同出现了北京市第一家个体饭馆——悦宾饭馆，轰动一时，后来街面上弹棉花、理发的都出现了。1983年，北京巴黎马克西姆餐厅营业，之后北京光餐饮就批准了近500家的外国餐饮企业。</p> <p style="text-align: right;">——北京商业联合会副会长张锡霖口述</p>
<p>1987年，北太平庄商场基本是个亏损企业，当时我进行了用工制度改革，打破铁饭碗，实行管理改革和分配制度改革，年底就盈利26万元。</p> <p style="text-align: right;">——北太平庄商场经理李秀珍口述</p>
<p>1997年，北京翠微大厦开业。当时实现计算机对人财物全面管理、单品计价核算，推进翠微大厦跟上了时代发展。</p> <p style="text-align: right;">——北京翠微集团顾问栾茂茹口述</p>

——《三十年，丈量北京商业的革新跨度》北京商报2008年12月22日

(3) 依据材料三，指出改革开放以来北京商业的发展变化。(2分)

(4) 2022年颁布的《北京市商业消费空间布局专项规划》中提出，将北京建设成为“中国潮”“国际范”“烟火气”共融共生的国际消费中心示范城市、国际一流的和谐宜居之都。请你提出一条实现此目标的合理化建议。(2分)



参考答案

(本试卷满分 70 分，考试时间 70 分钟)

一、选择题：本题共 20 小题，每小题 1.5 分，共 30 分。

1	2	3	4	5	6	7	8	9	10
D	B	C	B	C	C	C	A	D	B
11	12	13	14	15	16	17	18	19	20
B	C	C	B	A	A	D	C	C	A

二、选择题：本题共 4 小题，共 40 分。

21. (11 分)

【答案】(1) ②④；①③。(2 分)

【示例】造纸术：东汉蔡伦改进造纸工艺，纸成为广泛使用的书写材料。世界各国的造纸术大都是从中国辗转流传过去的，造纸术是中国对世界文明的伟大贡献之一。因此符合第三个推选条件。(2 分)

(2) 技术创新；创造出的新产业或新产品。例如：汽油内燃机和柴油内燃机的发明，在交通运输领域引发了一场变革，创造了汽车制造业。(2 分) 英、美人均国内生产总值呈增长趋势。(1 分) 第一次工业革命；第二次工业革命。(2 分)

(3) 我国科技创新能力不断提升；科技实力不断增强；国家重视科技发展与创新等。(写出一项，2 分)

22. (8 分)

【答案】(1) 不同：“郑和下西洋”的目的是增进与亚非国家和地区的相互了解和友好往来；(1 分) “新航路开辟”的目的是为了夺取殖民地，夺取贵重的黄金白银，作为资本的原始积累。(1 分)

(2) 政治原因：清政府政治腐败，不重视国防建设；日本政府重视国防建设，增加海军经费。(2 分)

(3) 海防成就：2012 年 9 月，我国第一艘航空母舰“辽宁舰”交接入列；2019 年 12 月，我国自主研发的“山东号”航空母舰正式入列我国海军，它的入役标志着我国正式进入“双航母时代”。(2 分)

(4) 启示：要避免落后挨打，关键在于国家综合实力强大；外交交涉要以国家实力为基础；日本军国主义给中国人民带来的刻骨铭心的历史灾难不能忘记；中国人民一定要牢记历史，砥砺前行，坚持和平走向海洋、建设“强而不霸”的新型海洋强国，为中华民族走向海洋文明进而实现伟大复兴的中国梦而努力奋斗！(2 分)

23. (10 分)

【答案】(1) ①协约国；②两极格局。(2 分)

(2) 不同：凡尔登战役性质是非正义的帝国主义战役；斯大林格勒战役是苏联反对法西斯侵略的正义战役。(2 分)

原因：斯大林格勒战役改变了苏德战场的形势，苏军转入战略进攻，加速了世界反法西斯战争的胜利。(2 分)

(3) 做法：我们要呼吁国际社会都来谴责一些大国的霸权主义行径，为维护世界和平而努力。我们国家要以经济建设为中心，努力提高国家的综合国力，为维护国家的安全和世界的和平做出我们的努力。(4 分)



分)

24. (11分)

【答案】(1) 表现：坊巷数量增加；坊巷由封闭到开放，商业活动不受空间限制；商品种类丰富；货物来源广泛；(2分)

背景：民族政权并立，民族关系发展。(2分)

(2) 变化：北京城市商业中心由北向南移动。(1分)

原因：北京城市空间范围变大；大运河终点南移；清政府禁止在内城开设店铺；外城人口逐渐增加。(2分)

(3) 变化：商业对北京经济的贡献增多；出现了多种经济形式；商业企业内部实行改革，增强了企业活力；科技服务于商业，提高了管理水平等。(2分)

(4) 建议：将中国优秀传统文化艺术与现代科技相融合，分区域规划建设一批独具特色的餐饮、娱乐、休闲、消费等活动中心。(2分)