



2024 北京中考押题卷

历史

(本试卷满分 70 分，考试时间 70 分钟。)

注意事项：

1. 答卷前，考生务必将自己的姓名、准考证号等填写在答题卡和试卷指定位置上。
2. 回答选择题时，选出每小题答案后，用铅笔把答题卡上对应题目的答案标号涂黑。如需改动，用橡皮擦干净后，再选涂其他答案标号。回答非选择题时，将答案写在答题卡上。写在本试卷上无效。
3. 考试结束后，将本试卷和答题卡一并交回。

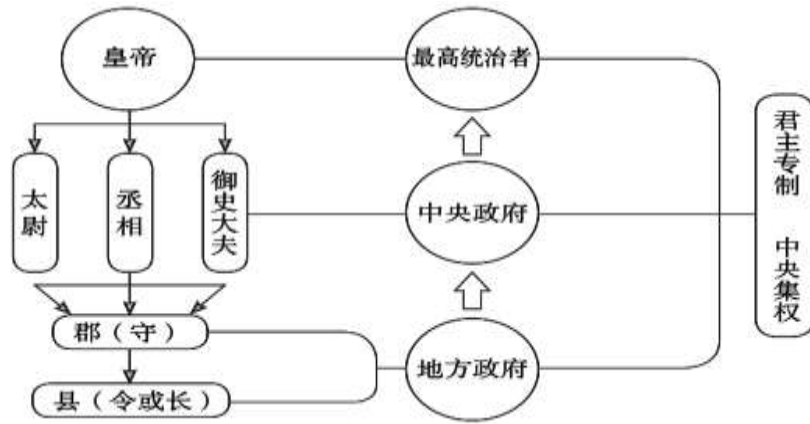
第I卷

一、选择题：本题共 20 小题，每小题 1.5 分，共 30 分。在每小题给出的四个选项中，只有一项符合题目要求。

1. 我国是世界上发现古人类遗址最多的国家之一。考古学者在云南、北京等地发现了多处不同时期的古人类遗址。如下图位于 M 处的遗址最有可能是 ()



- A. 北京人遗址 B. 河姆渡遗址 C. 半坡遗址 D. 二里头遗址
2. 《荀子》虽师法仲尼（孔子），但它也主张法治；《韩非子》熔法、术、势于一炉，同时也吸收了老子的思想。这反映了战国时期学派之间思想 ()
 - A. 互相排斥 B. 相互影响 C. 趋于一致 D. 独立发展
 3. 有人称他为“千古一帝”有人称他为“暴君”。在西方人看来他是东方世界的凯撒大帝，开创了历史的新纪元。“他”的主要贡献是 ()
 - A. 统一中国 B. 焚书坑儒 C. 轻徭薄赋 D. 重文轻武
 4. 如图是秦朝的政治建制示意图。其中秦朝在地方推行的行政制度是 ()



- A. 分封制 B. 皇帝制 C. 郡县制 D. 三公制

5. 229年，孙权称帝，吴国建立。230年，孙权派将军卫温率领万人船队到达夷洲，加强了大陆与_____的联系。（ ）

- A. 洛阳 B. 成都 C. 开封 D. 台湾

6. 生产工具的改进极大推动了社会生产力的发展。下列生产工具出现于唐朝的是（ ）



- A. 铁农具 B. 水车 C. 曲辕犁 D. 秧马

7. 下图中不同朝代经济分布的变化说明（ ）



汉代经济分布区

唐后期经济分布

宋代经济分布

- A. 统一市场形成 B. 中央集权强化 C. 国家版图扩展 D. 经济重心南移

8. 假如你是北宋中期四川的一位富商，要购进500匹上等绸缎，使用最便捷的货币是（ ）

- A. 刀币 B. 五铢钱 C. “交子” D. “会子”

9. 史料实证是历史学习的必备技能，在历史学习过程中，要注意区分史实和结论。下列表述中，属于结论的是（ ）

- A. 郑和率船队7次下“西洋”，规模最大时有船200多艘
B. 郑和的船队满载中国的优质丝绸和精美瓷器等各类物品



- C. 郑和船队最远到达非洲东海岸和红海沿岸
 D. 郑和远航为人类的航海事业作出了伟大贡献
10. 鸦片战争后，中国进入饱经磨难的近代时期。下列组合搭配准确的是（ ）
 A. 鸦片战争——《北京条约》——协定关税
 B. 第二次鸦片战争——《南京条约》——割香港岛
 C. 甲午中日战争——《马关条约》——允许设厂
 D. 八国联军侵华战争——《辛丑条约》——增开天津商埠
11. 1905 年《民报》创刊后，陆续发表了《民族的国民》《驳新民丛报最近之非革命论》《驳革命可以召瓜分说》《驳革命可以生内乱说》等文章。这反映出《民报》作者群体（ ）
 A. 倾向改良 B. 主张革命 C. 拥护君主立宪 D. 赞成君主专制
12. 在历史课上，教师播放了《开天辟地》电影片段“中共一大召开”的场景，以下可能在电影中出现的（ ）
 A. 会议地点因故发生了转移 B. 单枪匹马遭遇革命的挫折
 C. 提出“政权是由枪杆子中取得”的论断 D. 星星之火形成了燎原之势
13. 红军在长征途中召开了一次重要的会议。这次会议坚持真理、修正错误，在危急关头挽救了党，挽救了红军，挽救了中国革命。该会议召开的地点是下图中的（ ）



中国工农红军长征路线示意图

- A. ① B. ② C. ③ D. ④
14. 如图是“一五”计划期间，我国实施的 156 项重点工程项目比例分布示意图。这表明当时我国（ ）



- A. 集中力量发展重工业 B. 建立了完整的工业体系
C. 工业项目均衡发展 D. 已成为工业化强国
15. 1960 年，美国总统尼克松曾说：“一个国家必须爱好和平才具备进入联合国的资格。十分明显，中国不是。”而 1971 年他又说：“没有中华人民共和国的参加，是不能有稳定与持久的和平的。”尼克松态度变化的主要原因是（ ）
- A. 中国提出“求同存异”方针 B. 中美外交关系的正常化
C. 和平与发展成为时代主题 D. 中国综合国力不断增强
16. 漫画是对社会生活简约、形象的描绘，具有直观、生动的特点。有人在学习世界历史时创作了如下漫画，这一作品可能反映了（ ）



- A. 古代雅典的工商业经济 B. 西欧庄园的对外交换
C. 阿拉伯商人的致富路径 D. 欧洲人早期殖民掠夺
17. 下图是某班同学绘制历史板报时拟定的各板块题目。由此判断板报的主题是（ ）



- A. 封建时代亚洲文明的发展 B. 资本主义制度的初步确立
C. 国际共产主义运动的兴起 D. 近代资本主义制度的扩展

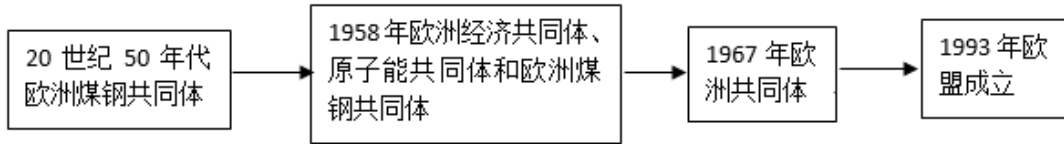


18. 20 世纪爆发的两次世界大战，给世界带来了深远影响。下列对应正确的是（ ）

- ①萨拉热窝事件——第一次世界大战爆发的根本原因
- ②斯大林格勒保卫战——第二次世界大战的转折点
- ③《联合国宣言》签署——世界反法西斯同盟形成
- ④莫斯科保卫战——第二次世界大战达到了最大规模

A. ①② B. ①③ C. ②③ D. ③④

19. 下图示意图反映的是（ ）



- A. 世界殖民体系的瓦解
- B. 社会主义力量的壮大
- C. 美苏冷战的对峙局面
- D. 欧洲走向联合的过程

20. 下图为某同学在历史复习时整理的单元知识框架，其主题拟定最恰当的是（ ）

主题	联合国与国际安全
	经济全球化与世界贸易组织
	霸权主义与地区冲突
	世界多极化趋势的发展
	建立国际新秩序的努力

- A. 凡尔赛——华盛顿体系的建立
- B. 反法西斯同盟的建立
- C. 冷战与两极格局的形成
- D. 走向和平发展的世界

第II卷

二、非选择题：本题共 4 小题，共 40 分。

21. (7 分) 从古至今，丝绸之路上文明交流的步伐从未停息。阅读材料，回答问题。

材料一 新华社北京 2023 年 4 月 3 日电

近日，国家主席习近平复信参加“艺汇丝路”访华采风活动的阿拉伯知名艺术家代表，鼓励艺术家创作更多体现中阿友好的艺术佳作，为增进中阿人民友谊作出新的贡献。信中指出，从开辟古代丝绸之路到共建“一带一路”，中阿文明交流跨越千年、相互欣赏，书写了互学互鉴的历史佳话。

(1) 阅读材料一，写出一例广受中国人民喜爱的古代阿拉伯文学成就。(1 分)

(2) 列举两例古代中阿文明“互学互鉴的历史佳话”。(2 分)

材料二 西安古称长安，是中华文明和中华民族的重要发祥地之一，也是古丝绸之路的东方起点 2100 多年前，中国汉代使者张骞自长安出发，出使西域，打开了中国同中亚友好交往的大门……我们要继续在共建“一带一路”合作方面走在前列，推动落实全球发展倡议……携手建设一个合作共赢、



相互成就的共同体。

——国家主席习近平在中国—中亚峰会上的主旨讲话（2023年）

(3)解读材料二，写出中国—中亚峰会选择在西安举行的历史渊源。（2分）

(4)分析两则材料，古代丝绸之路与今天的“一带一路”有何共同作用？（2分）

22.（11分）五四运动以来的100多年，是中国青年用青春之我创造青春之中国、青春之民族的100多年。

阅读材料，完成下列要求。

材料一 1919年5月4日，星期天，天气晴朗。正午时分，烈日当空。从下午1时许，陆续有学生以学校为单位来到天安门前集会。昔日以皇权政治为中心的中央政府机关，成了新知识分子们表达政治意愿的场所。

材料二 1921年7月23日，中国共产党第一次全国代表大会在上海召开。中共一大正式代表的平均年龄是28岁。这些代表大多数与各地的社会主义青年团关系密切，有的是创建人，有的是参与者。

材料三 在朝鲜战场上，中国人民志愿军中青年指挥员占66%，战斗连队中青年达到80%以上，基层官兵大部分是青年团员。抗美援朝战争的胜利维护了亚洲和世界的和平，使中华人民共和国的国际威望空前提高。

材料四 为实现中华民族伟大复兴的中国梦而奋斗，是中国青年运动的时代主题。中共十八大之后，中国梦很快就成为广大青年关注的“第一热词”。“实现中国梦、青春勇担当”成为鼓舞当代青年奋力前行的最强音。

——以上材料均摘编自胡献忠《中国青年运动一百年（1919—2019）》

(1)据材料一并结合所学知识，举出一例反映青年学生“政治意愿”的口号。（1分）


(2)据材料二并结合所学知识，回答中共一大召开的重大历史意义。（3分）

(3)据材料三简述抗美援朝战争胜利的历史影响。（2分）


(4)据材料五并结合所学知识，回答中国梦的内涵是什么。（3分）

(5)综合上述材料并结合所学知识，指出中国青年运动100多年来不变的主题是什么。（2分）

23.（11分）改革开放是实现中华民族伟大复兴的必由之路。阅读材料，回答问题。

<p>材料一</p>	<p>中国国家博物馆的文物“安徽凤阳小岗村18位农民订立的契约”</p> <p>1978年，安徽凤阳小岗村18户农民以敢为天下先的精神订立契约，实行分田包干到户。</p>	
------------	---	--



材料二	<p>傅高义先生的著作《邓小平时代》该书对邓小平一生和中国改革开放之路进行了全景式描写，形式上类似传记。但作者的本意并不是要写一个人，而是要写一个时代。全书以1978—1992年这14年作为重点，着力描画了中国大转变的关键时期，称之为“邓小平时代”。</p>	
材料三	<p>石广生口述的《中国“复关”和加入世贸组织谈判回顾》2001年11月，石广生作为中国对外贸易经济合作部部长，代表中国政府签署了中国加入世界贸易组织议定书。以下是其部分口述内容：</p> <p>“实行改革开放后，随着我国对外贸易活动日益增多，外经贸工作在国民经济中的作用不断增强，迫切需要一个稳定的国际环境。同时，国内经济体制改革也不断向市场化发展，使我们初步具备了加入多边贸易体制的条件。1983年1月，国务院作出决定，申请恢复我国关贸总协定缔约国地位1999年，党中央、国务院作出了加快我国加入世贸组织谈判的战略……当然，那时经济全球化进程大大加快，也是我们加速谈判的一个重要动因。”</p>	

(1)材料一中的文物可用于研究我国哪一改革举措？（2分）

(2)根据材料二和所学知识，你认为该书把1978—1992年称为“邓小平时代”的主要原因是什么？（2分）

请结合史实阐释说明这14年是“中国大转变的关键时期”。（至少两例史实）（2分）

(3)根据材料三，概括中国决定加快加入世贸组织谈判的主要原因。（2分）

(4)史料按价值可分为一手史料（当事人、亲历者直接记录或留下的原始资料）和二手史料（间接资料）。请据此标准将三则材料中的史料进行分类。（填写材料序号）（3分）

24.（11分）全球化是人类各民族之间相互联系和交往并日益普遍化和紧密化的表现。阅读材料，完成下列要求。

【探险时代】（1500—1750年）

材料一 16世纪以来的地理大发现堪称探险时代全球化历史进程的核心环节。地理大发现让地区性的交往成为世界交往，并且将新大陆、非洲和亚洲都卷入欧洲资本主义扩散的范围。

【殖民时代】（1750—1870年）

材料二 18世纪60年代开始形成的世界市场是全球化进程中的一个重要元素，也是全球化进入实质形成阶段的重要标志。……到19世纪末，世界被瓜分完毕，世界连接成一个整体，资本主义殖民



体系最终确立起来。

【帝国时代】(1870—1945年)

材料三 主要资本主义国家基本实现了工业化，进而向全面现代化推进。主要资本主义国家的现代化，尤其是工业化的发展，为帝国的形成和全球化的发展奠定了强大的物质基础。股份公司不断涌现，资本和生产日益集中，资本主义向垄断过渡。……垄断组织极大地促进了生产力的进一步发展，它们为了自己的利益操纵政府进行对外扩张和侵略。

【网络时代】(1945年—)

材料四 作为当前世界系统中最大的政府间国际组织，_____已经成为国际外交活动的最重要舞台，在建立国际政治经济新秩序中起着越来越重要的作用。……作为世界上唯一处理国与国之间贸易规则的国际组织，WTO的建立，标志着世界贸易进一步规范化。两者在全球治理方面发挥着积极作用。

——以上材料均摘编自何顺果《全球化的历史考察》。

- (1)据材料一并结合所学知识，指出首先“发现”美洲的是哪一位航海家。(1分)
- (2)据材料二，指出全球化进入实质形成阶段的重要标志是什么。(2分)结合所学知识，回答在资本主义殖民体系的形成过程中，哪一国家发展成为最大的殖民帝国。(1分)
- (3)据材料三并结合所学知识，指出主要资本主义国家基本实现工业化，得益于第几次工业革命。(1分)据材料三，指出垄断组织的发展有何影响。(2分)
- (4)据材料四并结合所学知识，指出“_____”应填入的内容是什么。(1分)并指出WTO是哪一国际组织的简称。(1分)
- (5)近年来，经济全球化过程中出现了逆全球化和贸易保护主义等倾向，你认为我们应该如何应对这一问题？(2分)



参考答案

(本试卷满分 70 分，考试时间 70 分钟)

一、选择题：本题共 20 小题，每小题 1.5 分，共 30 分。

1	2	3	4	5	6	7	8	9	10
A	B	A	C	D	C	D	C	D	C
11	12	13	14	15	16	17	18	19	20
B	A	B	A	D	D	B	C	D	D

二、非选择题：本题共 4 小题，共 40 分。

21. 【答案】(7 分)

(1) 例：《天方夜谭》(《一千零一夜》)(1 分)

(2) 中国的造纸术、指南针、火药等重大发明传到阿拉伯，并由阿拉伯人传入欧洲；(1 分) 阿拉伯数字在中国被广泛应用等。(1 分)

(3) 西安古称长安，是中华文明和中华民族的重要发祥地之一，也是古丝绸之路的东方起点。中国汉代使者张骞自长安出发，出使西域，打开了中国同中亚友好交往的大门。(2 分)

(4) 作用：都促进了中国同沿线国家和地区的经济贸易和文化交流。(2 分)

22. 【答案】(11 分)

(1) “外争主权，内除国贼”(或“暂死力争，还我青岛”“取消二十一条”“拒绝在和约上签字”)。(1 分)

(2) 标志着中国共产党诞生；中国共产党的诞生，是中国历史，上开天辟地的大事变；自从有了中国共产党，中国革命的面貌就焕然一新了。(3 分)

(3) 维护了亚洲和世界的和平；提高了中华人民共和国的国际威望。(2 分)

(4) 国家富强、民族振兴、人民幸福。(3 分)

(5) 爱国主义(2 分)

23. 【答案】(11 分)

(1) 农村实行家庭联产承包责任制。(2 分)

(2) 原因：1978 年，中共十一届三中全会的召开，实际上形成了以邓小平为核心的党的第二代中央领导集体，以邓小平同志为主要代表的中国共产党人，领导全国各族人民，创立了邓小平理论，成功开创了中国特色社会主义。1992 年中共十四大，提出用邓小平理论武装全党。(2 分)

史实：(2 分)(答出两点即可)

1978 年，中共十一届三中全会是新中国成立以来党的历史上具有深远意义的伟大转折，开启了改革开放和社会主义现代化建设新时期；

1982 年，中共十二大，提出建设有中国特色的社会主义；

1987 年，中共十三大阐述了社会主义初级阶段理论，概括了党在社会主义初级阶段的基本路线；

1992 年，邓小平南方谈话进一步解放了人们的思想，推动改革开放和社会主义现代化建设进入新阶段；



1992年，中共十四大提出建立社会主义市场经济体制的目标。（答出两点即可）

（3）实行改革开放后，随着我国对外贸易活动日益增多，外经贸工作在国民经济中的作用不断增强，迫切需要一个稳定的国际环境。国内经济体制改革不断向市场化发展，使我们初步具备了加入多边贸易体制的条件。（2分）

（4）一手史料：材料一、材料三；二手史料：材料二。（3分）

24.【答案】（11分）

（1）哥伦布。（1分）

（2）重要标志：18世纪60年代世界市场开始形成。（2分）

殖民帝国：英国。（1分）

（3）第二次工业革命。（1分）

影响：垄断组织极大地促进了生产力的进一步发展；垄断组织操纵政府进行对外扩张和侵略。（2分）

（4）联合国。（1分）世界贸易组织。（1分）

（5）（2分）（答出一点即可）加强国际合作，推进贸易自由化；发挥联合国、世界贸易组织等主要国际组织在全球治理中的积极作用；坚定不移地推动新一轮的改革开放；落实构建人类命运共同体的理念；坚定不移地推动“一带一路”倡议，积极拓展世界市场；反对霸权主义和冷战思维；等等。