



北京二中教育集团 2023—2024 学年度第二学期

# 初三历史保温训练试卷

命题人：孙庆申 审核人：张华宇、阴思浓

座位号  
考号  
姓名  
班级  
线  
封  
密

## 考查目标

- 1. 考查中国史和世界史的主干知识和基本发展线索；
- 2. 考查初中阶段应具备的唯物史观、时空观念、史料实证意识、历史解释素养和家国情怀。





考生须知

- 1. 本试卷分为第 I 卷、第 II 卷和答题纸，共 13 页；其中第 I 卷 4 页，第 II 卷 6 页，答题纸 3 页。全卷共二大题，24 道小题。
- 2. 本试卷满分 70 分，考试时间 70 分钟。
- 3. 在第 I 卷、第 II 卷指定位置和答题纸的密封线内准确填写班级、姓名、考号、座位号。

## 第 I 卷（选择题 共 30 分）

### 一、选择题（以下每题只有一个正确的选项，每小题 1.5 分，共 30 分）


- 20 世纪 70 年代，中国某遗址出土了骨器、陶器等生产工具、生活用品，以及人工栽培稻遗物、干栏式建筑构件等文物。该遗址是
  - A. 元谋人遗址
  - B. 北京人遗址
  - C. 河姆渡遗址
  - D. 半坡遗址
2. 以下实物史料可作为夏、商、西周时期文明发展证据的是

			
①二里头遗址出土的铜鼎	②殷墟出土的甲骨	③临潼出土铸有“珽(武)征商”等铭文的利簋	④商鞅铜方量

- A. ①②③
- B. ①②④
- C. ①③④
- D. ②③④



3. 都江堰在修建过程中,李冰等经过精心设计,选择高山与平原的交接处,利用地势和河道,建造了一座综合性的水利枢纽,发挥出防洪、灌溉、水运等多方面的作用。这说明都江堰的修建
- 加快了经济重心南移
  - 加强了南北地区的联系
  - 使君主专制达到顶峰
  - 体现了古代人民的智慧
4. 下图是西汉初期中央和封国力量对比图,反映出西汉初期中央面临的问题。汉武帝为解决该问题采取的措施是



- 北击匈奴
  - 实施“推恩令”
  - 盐铁专卖
  - 罢黜百家,尊崇儒术
5. 《晋书·食货志》记载,东晋后期南方的情形是:“天下无事,时和年丰,百姓乐业,谷帛殷阜,几乎家给人足矣。”上述现象出现的主要原因是
- 张骞通西域
  - 北民南迁
  - 科举制创立
  - 大运河开通

6. 下列文物出土于唐朝墓葬,它们共同反映了当时



大食人俑




东罗马金币



黑人俑

- 民族关系和睦
- 唐朝经济繁荣
- 科技成就突出
- 中外友好往来

7. 下图为宋代印刷广告的铜板,其不仅标明铺号“济南刘家功夫针铺”,而且以白兔为商品标识;还特别说明“收买上等钢条,造功夫细针”,如果要批发购买,还可以优惠。材料体现出宋代



- 商业活动空前活跃
- 市民文化生活丰富
- 官僚机构不断膨胀
- 边疆地区获得开发




8. 中华文明源远流长。下列材料共同体现出



《伤寒杂病论》书影



“五禽戏”（想象画）



《本草纲目》书影

- A. 农业技术推广普及  
B. 手工技艺推陈出新  
C. 传统医学成就突出  
D. 文学艺术大放异彩

9. 下表呈现了清朝对某一地区管辖的措施。对此理解正确的是

册封制度	册封五世达赖和五世班禅，确立达赖和班禅的册封制度
行政管辖	设置驻藏大臣，监督西藏地方政务 设立噶厦（地方政府），授达赖喇嘛和驻藏大臣管理政教事务
颁布法律	颁布《钦定藏内善后章程》，规范地方行政体制和法规

- A. 加强对台湾地区管辖  
B. 实现了清朝对全国统治  
C. 治理西藏方式多样  
D. 抵御了西方的殖民侵略

10. 1842年，清政府被迫与英国签订条约，涉及五口通商、割香港岛给英国等内容。该条约的影响

- A. 中国的领土主权完全丧失  
B. 中国开始沦为半殖民地半封建社会  
C. 列强掀起了瓜分中国狂潮  
D. 清政府沦为西方列强统治中国的工具


11. 某校学生研学期间，考察了以下历史遗址（纪念馆）。其考察的主题是



秋收起义纪念馆



井冈山革命博物馆



瑞金临时中央政府大礼堂

- A. 中国共产党对革命道路的探索  
B. 五四运动是新民主主义革命的开端  
C. 国民大革命的蓬勃开展  
D. 中华人民共和国的成立和巩固

12. 《解放日报》撰文写道：“中华民族已经从日本帝国主义的压迫下解放出来了。半个世纪以来，中国所受到的奇耻大辱，血海深仇，现在报仇雪耻了。这的确是我中华民族百年来未有的大事。”该报道强调

- A. 抗战爆发的背景  
B. 抗战胜利的过程  
C. 抗战胜利的意义  
D. 抗战胜利的原因



13. 淮海战役期间,今山东、江苏、安徽、河南、河北五省出动支援前线的群众总数达到 543 万人,几乎是九个群众在支持着一个战士。这一情况的出现得益于

- A. “双十协定”的彻底实施  
B. 国民党重点进攻被粉碎  
C. 解放区开展的土地改革  
D. 渡江战役取得最后胜利

14. 20 世纪 70 年代初,中国外交开创了新局面。下列能为此结论提供佐证的是

- A. 提出和平共处五项原则  
B. 恢复在联合国的合法席位  
C. 构建人类命运共同体  
D. 共商共建共享全球治理观

15. 右图是某同学制作的知识卡片。卡片中介绍的这位科学家是

- |                    |               |
|--------------------|---------------|
| ◇英国科学家             | ◇发现万有引力定律     |
| ◇出版科学巨著《自然哲学的数学原理》 | ◇近代自然科学的奠基人之一 |

- A. 巴尔扎克  
B. 牛顿  
C. 达尔文  
D. 贝多芬

16. 1804 年,为巩固法国大革命成果而颁布实施的一部法典,体现了自由平等和私有财产神圣不可侵犯等原则。这部法典是

- A. 《权利法案》  
B. 《独立宣言》  
C. 1787 年宪法  
D. 《拿破仑法典》

17. 右图为某位同学学习笔记的一部分。他学习的内容应是

- |                        |
|------------------------|
| 1. 政治上, 废藩置县, 加强中央集权   |
| 2. 经济上, “殖产兴业”, 发展近代经济 |
| 3. 社会生活上, 提倡“文明开化”     |

- A. 明治维新  
B. 美国内战  
C. 新经济政策  
D. 农奴制改革

18. 1943 年,《开罗宣言》明确规定将日本窃取的台湾归还中国。1945 年,旨在结束二战的《波茨坦公告》第八条规定,“《开罗宣言》之条件必将实施”。据此可知,这两个文件

- A. 明确了中国对台湾的主权  
B. 彰显战后维护和平的决心  
C. 明确了开辟欧洲第二战场  
D. 强调反法西斯同盟重要性

19. 20 世纪 50 年代,美苏两国都形成了以自己为核心的政治军事联盟,它们之间争夺世界霸权的斗争发展成为集团对抗,将世界推入了一个紧张时代。这表明

- A. 世界殖民体系逐渐崩溃  
B. 两极格局形成  
C. 世界向多极化方向发展  
D. 经济全球化趋势加强

20. 某校开展主题为“20 世纪国际关系格局演变”项目式学习。下列属于这一主题的是

- ① 凡尔赛—华盛顿体系  
② 两极格局形成  
③ 世界多极化趋势发展  
④ 社会信息化持续推进
- A. ①②③  
B. ①②④  
C. ②③④  
D. ①③④



## 第 II 卷 (材料分析题 共 40 分)

### 二、材料题 (本大题共 4 小题, 共 40 分)


21. (10 分) 历史是相互关联、相互影响的一幅立体画卷。

材料一



《梦溪笔谈》

(宋) 沈括撰, 详细记载了中国古代特别是北宋时期自然科学的辉煌成就。这本书中记载了毕昇发明的①。成书后被多国学者研究, 具有世界性影响。



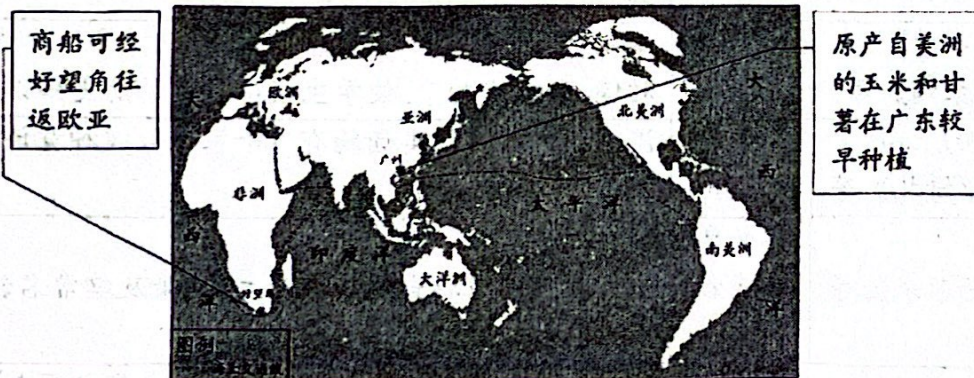
《论语导读》

(法) 贝尼耶译, 1688 年法语版。《论语》的导读性著作。它第一次用法文传递了②的思想, 在欧洲出版后, 风靡一时。中国经籍西传对欧洲哲学、政治都有深远影响。

(1) 依据材料一并结合所学, 判断①处为\_\_\_\_\_ , ②处的人物是\_\_\_\_\_ ; (2 分。填字母) 并分析两部著作对世界历史发展的共同影响。(1 分)

- A. 造纸术                      B. 活字印刷术                      C. 老子                      D. 孔子

材料二



(2) 依据材料二, 判断上述现象最早出现在中国的\_\_\_\_\_, (1 分, 写字母) 并运用材料说明判断理由。(2 分)

- A. 隋唐时期                      B. 明清时期

线

座位号

考号

高

姓名

班级

密



材料三

①19 世纪末 20 世纪初两大军事集团三国同盟、三国协约形成	②1914 年，奥匈帝国斐迪南大公夫妇在萨拉热窝被刺杀	③1917 年 11 月（俄历十月），列宁领导彼得格勒武装起义取得胜利	④1918 年，李大钊发表《布尔什维主义的胜利》等文章，第一次举起马克思主义旗帜
⑤1919 年 1 月，在巴黎凡尔赛宫召开会议，讨论对德和约及战后安排	⑥1919 年 5 月 4 日，北京 3000 多名学生汇集天安门前，举行示威游行	⑦1912 年，荣氏兄弟创建福新面粉厂。到 1919 年，荣氏面粉厂增至 8 个	⑧1921 年 7 月，中国共产党第一次全国代表大会在上海开幕

(3) 史事的发生都有其相互联系。从材料三中选择两张图片，参照示例，对其所反映史事的因果联系进行说明。(4 分，示例组合除外)

示例：①②

19 世纪末 20 世纪初，资本主义列强为争夺世界霸权，形成两大军事集团，展开扩军备战。

1914 年，奥匈帝国斐迪南大公夫妇被刺杀，成为第一次世界大战导火线。

两大军事集团扩军备战冲突不断，引发萨拉热窝事件，导致第一次世界大战爆发。



## 22. (11分) 国家治理与社会发展

### 材料一

- ① 分天下以为三十六郡……车同轨。书同文字。  
——《史记·秦始皇本纪》
- ② 汉兴，扫除烦(繁)苛，与民休息。  
——《汉书·景帝纪》
- ③ 隋帝嗣兴(继位)，又变前法，置进士等科。  
——《旧唐书·薛登传》

(1) 依据材料一并结合所学，任选两项文献，指出相关治国措施并分析作用。(4分)

**材料二** 马克思主义勾勒了未来社会维护人民利益、实现共同富裕、致力于人的自由全面发展和人类解放的宏观制度构想。十月革命胜利后，列宁进行了建设社会主义的探索。1920年底，农民不堪忍受粮食无偿征集，工业产值也大幅下降。1921年，苏维埃政府用征收粮食税代替余粮收集制；允许使用雇佣劳动力和出租土地，农民可以自由买卖纳税后的剩余产品……这一系列措施取得成效的同时，也对经济落后的国家如何建设社会主义提供了经验。

——摘编自徐蓝《世界近现代史》等

(2) 依据材料二，分析列宁进行社会主义探索的意义。(2分)

**材料三** 新中国成立以来，中国共产党带领全国各族人民，围绕不同时期的主要任务努力奋斗。

时期	主要任务	史实
社会主义革命和建设时期	实现从新民主主义到社会主义的转变，进行社会主义革命，推进社会主义建设，为实现中华民族伟大复兴奠定根本政治前提和制度基础	A. _____
改革开放和社会主义现代化建设新时期	继续探索中国建设社会主义的正确道路，解放和发展社会生产力，使人民摆脱贫困、尽快富裕起来，为实现中华民族伟大复兴提供体制保证和物质条件	B. _____



中国特色社会主义新时代	实现第一个百年奋斗目标，开启实现第二个百年奋斗目标新征程，朝着实现中华民族伟大复兴的宏伟目标继续前进	C. _____
-------------	--	----------

(3) 将下列史实填入 A、B、C 处相应位置。(3 分，写序号) 任选一项史实，说明它是如何促进主要任务实现的。(2 分)

- ① 实行家庭联产承包责任制    ② 打赢脱贫攻坚战    ③ 确立人民代表大会制度

### 23. (9 分) 教育的发展

#### 材料一 宋代蒙学教材

名称	种类	简介
《三字经》	综合性教材	内容包括历史知识、名物常识、读书次序、人生哲理、勤勉好学等，熔识字、知识、道德教育于一炉。 编写技巧上，文字简练，概括性较强；三字一句，句句成韵；通俗易懂，便于记诵。类似的教材还有《百家姓》、《千字文》，二者与《三字经》合称“三百千”
《启蒙初诵》 《性理字训》	道德类教材	《启蒙初诵》以伦理内容为主。《性理字训》全文仅 30 条，言简意赅、浅近易懂地揭示了性理精髓
《小学》 《童蒙训》等	历史类教材	均以历史故事为中心内容，编写技巧上多“参为对偶，联以音韵”，使学生获得有关的历史知识
《训蒙诗》 《小学诗札》等	诗歌类教材	流传极久远的此类读物有《千家诗》、《神童诗》等
《名物蒙求》等	名物常识类教材	以介绍天地万物自然知识为主，也兼及纲常名教

——摘自袁行霈等《中华文明史》

(1) 依据材料一，概括宋代蒙学教材的特点。(2 分)





线

座位号

考号

封

姓名

班级

密

材料二 1825年,普鲁士实现义务教育制度。……各邦政府还兴办了多种中等专业技术学校和职工补习学校。在普通中学中,增设了自然科学课程,在高等学校中,贯彻教育、科研与生产相结合、基础研究和应用研究相结合的方针。这些改革使国民科学文化水平普遍提高,文盲率降低到欧美各国的最低水平,还培养出一大批像西门子那样的集企业家、科学家和工程师于一身的优秀人才,获得了发电机、电炉、煤气发动机、电车、合成燃料等一系列重大发明。到19世纪70年代末,德国不仅在生产技术上消除了与英国的差距,而且在电气、化学等新兴工业方面超过了英国,走在了世界前列。

——摘自吴于廑、齐世荣《世界史·近代史编》

(2) 依据材料二,指出19世纪德国教育发展的状况。(2分)结合所学,分析其产生的影响。(2分)

### 材料三

1950年	党和政府召开全国工农教育会议,确定工农教育首先以识字教育为主,以“开展识字教育,逐步减少文盲”为宗旨,指出扫盲教育应配合国家各项生产建设的开展
1986年	全国人大六届四次会议通过《中华人民共和国义务教育法》,规定“凡年满六周岁的儿童,不分性别、民族、种族,应当入学接受规定年限的义务教育”
1995年	党和政府进一步把教育事业摆在优先发展地位,提出“科教兴国”战略
2022年	中国共产党第二十次全国代表大会指出,实施科教兴国战略,强化现代化建设人才支撑。教育、科技、人才是全面建设社会主义现代化国家的基础性、战略性支撑

(3) 依据材料三,谈谈对我国教育发展的认识。(3分)



## 24. (10分) 北京——博物馆之城

### 【北京博物馆诞生记】

#### 材料一 紫禁城大事记(部分)

1859年,基于对理政空间的需要,紫禁城长春宫一区开始被改造。此后,为慈禧听政、寝居需求,又加盖游廊、戏台等

1912年,在紫禁城颁布《清帝退位诏书》,宣统帝(溥仪)逊位,暂居紫禁城内廷 1914年,紫禁城对公众开放,成立古物陈列所 1924年,溥仪被要求偕同眷属离开紫禁城

1925年,故宫博物院开院典礼在紫禁城乾清门前举行

(1)依据材料一,指出近代紫禁城功能的变化。(2分)结合时代背景,分析紫禁城功能变化的主要原因。(1分)

### 【北京博物馆成长记】

#### 材料二

年份 数量	门类	质量等级	藏品数量	地域分布	博物馆名称(部分)
1965年15个	综合类 自然历史 科学技术 文学艺术 文化遗址 等	截止2022年,国家一级博物馆数量居全国首位	截止2020年,全市博物馆拥有藏品总数已达1625万件(套),居全国第一位	全市16个区均有博物馆,朝阳区、东城区拥有博物馆数量最多	①西周燕都遗址纪念馆
1989年56个					②北京鲁迅纪念馆
1991年88个					③北京辽金城垣博物馆
2018年181个					④周口店北京人遗址博物馆
2023年226个					⑤北京陈独秀旧居 ⑥北京王府井古人类文化遗址

——数据整理自《北京博物馆年鉴》、北京博物馆之城建设发展规划(2023-2035)(征求意见稿)

(2)依据材料二,概括北京地区博物馆发展的特点。(2分)结合所学,参照下面的示例将上述博物馆任选组合并拟定一个主题,阐述理由。(3分,示例除外)



示例：

组合	主题	理由
①③	古代北京城的发展演变	西周时，周武王封召公于蓟（今北京及附近地区），称燕；金朝正式建都于北京，称为中都。

### 【北京博物馆未来记】

材料三 博物馆是城市文化的重要产物，建设高品质的博物馆之城，是国际文化名城和人类文明交流互鉴的重要组成部分，是彰显“首都风范、古都风韵”城市特色的重要使命，是满足人民日益增长的文化需求、增强人民精神力量的重要任务，是实现博物馆教育、欣赏、深思和知识共享的重要目标。

——北京博物馆之城建设发展规划（2023-2035）（征求意见稿）

（3）依据材料三，概括建设北京博物馆之城的作用。（1分）请你提出一项助力博物馆之城建设的行动建议。（1分）



# 初三历史保温训练试卷答案

## 第一部分 选择题（共 30 分）

（共 20 题，每题 1.5 分）

题号	1	2	3	4	5	6	7	8	9	10
答案	C	A	D	B	B	D	A	C	C	B
题号	11	12	13	14	15	16	17	18	19	20
答案	A	C	C	B	B	D	A	A	B	A

## 第二部分 材料分析题（共 40 分）

21.（10 分）

（1）字母：①处人物：B（1分） ②处人物：D（1分）

影响：传播了中国的科技和文化，对欧洲科技、思想文化的发展产生了深远的影响。（1分）

（2）字母：B（1分）

理由：①新航路开辟使世界开始连成一个整体，促进了物种交流。（1分）②明清时期，原产美洲的高产作物传入。（1分）

（3）示例：

选择：③④（1分）

图③：1917年，列宁领导的十月革命胜利，是人类历史上第一次胜利的社会主义革命。（1分）

图④：1918年，李大钊发表《布尔什维主义的胜利》等文章，开始在中国宣传马克思主义。（1分）

联系：俄国十月革命的胜利为中国送来了马克思主义，为中国革命指明了方向。（1分）

选择：⑤⑥（1分）

图⑤：1919年1月，在英法美操纵之下，战胜国在法国巴黎召开讨论对德和约及战后安排，将德国在中国山东的权益全部转给日本。（1分）

图⑥：1919年5月4日，巴黎和会中国外交的失败引发了北京3000多名学生汇集天安门前进行游行示威。（1分）



<p><b>联系：</b>巴黎和会列强将德国在中国山东的权益全部转给日本，引发了中国的五四运动，中国代表拒绝在合约上签字。/巴黎和会中国外交的失败是五四运动的导火索（1分）</p>
<p><b>选择：</b>⑦⑧（1分）</p> <p><b>图⑦：</b>1912-1919年，中国民族工业不断得到发展，工人不断增加。（1分）</p> <p><b>图⑧：</b>1921年，中共一大召开，宣告中国共产党的诞生。（1分）</p> <p><b>联系：</b>工人阶级日益壮大，为党的建立奠定了阶级基础。（1分）</p>
<p><b>选择：</b>②⑦（1分）</p> <p><b>图②：</b>1914年，奥匈帝国斐迪南大公夫妇被刺杀，成为第一次世界大战的导火索。（1分）</p> <p><b>图⑦：</b>1912-1919年，中国民族工业不断得到发展，工厂不断增加。（1分）</p> <p><b>联系：</b>西方列强忙于欧洲战事，暂时放松了对中国的经济侵略，中国民族工业获得迅速发展的良机（纺织业和面粉业发展最快）/迎来了“短暂的春天”。（1分）</p>
<p><b>选择：</b>④⑧（1分）</p> <p><b>图④：</b>1918年，李大钊发表《布尔什维主义的胜利》等文章，开始在中国宣传马克思主义。（1分）</p> <p><b>图⑧：</b>1921年，中共一大召开，宣告中国共产党的诞生。（1分）</p> <p><b>联系：</b>马克思主义的传播，为党的建立奠定了思想基础。（1分）</p>
<p><b>选择：</b>⑥⑧（1分）</p> <p><b>图⑥：</b>1919年5月4日爆发的五四运动中，工人阶级成为第二阶段的主力。（1分）</p> <p><b>图⑧：</b>1921年，中共一大召开，宣告中国共产党的诞生。（1分）</p> <p><b>联系：</b>工人阶级日益壮大并登上政治舞台，为党的建立奠定了阶级基础。（1分）</p>

22. (11分)

(1) 文献①

**措施：**秦朝建立郡县制、统一车轨与文字。（1分）

**作用：**加强中央集权，便利交通与文化交流等。（1分）

文献②

**措施：**西汉前期采取轻徭薄赋、休养生息的政策。（1分）

**作用：**进经济恢复发展，形成文景之治局面。（1分）



文献③

**措施：**隋朝确立科举制。（1分）

**作用：**加强皇帝选官用人权力，促进社会阶层流动，推动教育发展。（1分）

(2) **意义：**①结合国情，发展了马克思主义；②稳定和恢复了国民经济，巩固了苏维埃政权；③为落后国家建设社会主义提供借鉴经验。（2分，写出一项得1分）

(3) **字母：**A ③；（1分）B ①；（1分）C ②（1分）

**选择：**①实行家庭联产承包责任制

**说明：**农民有了生产自主权，解放农村生产力，农业生产和农民收入有很大提高，不断满足农民物质生活需求。（史实1分，史论1分）

**选择：**②打赢脱贫攻坚战

**说明：**所有深度贫困地区的最后堡垒被攻克，消除绝对贫困，提升脱贫地区人民生活水平，有助于第一个百年奋斗目标——全面建成小康社会的实现。（史实1分，史论1分）

**选择：**③确立人民代表大会制度

**说明：**人民代表大会制度是我国的根本政治制度，为社会主义民主政治建设奠定基础。（史实1分，史论1分）

23. (10分)

(1) **特点：**①种类齐全；②注意突出儿童特点；③句式短，句子结构简单；④注重对偶押韵，便于记诵；⑤将知识性、教育性和趣味性融于一体。（1分，写出一项得1分）

(2) **状况：**①实行义务教育；②创办各级各类学校；③注重理论与实践相结合。（2分，写出一项得1分）

**影响：**①提高国民素质和科学文化水平；②培养优秀人才，使德国在第二次工业革命中走在世界前列；③促进了社会发展。（2分，写出一项得1分）

(3) **角度：**从我国教育发展的原因（为什么）、特点（是什么）、影响（怎么看）等角度作答。



**示例：**党中央高度重视教育工作（为什么），提出了符合时代发展的中国教育政策（怎么看）。从新中国成立初期的扫盲教育，到义务教育，再到科教兴国，是与时俱进、稳步推进的（是什么）。不同时期的教育方略，都体现了中国共产党“执政为民”的初心与使命（是什么）。（3分，写出一个角度得1分）

24. (10分)

(1) **变化：**由统治者理政、寝居的宫殿变为收藏、保护文物的博物院。（2分，写出一项得1分）

**原因：**辛亥革命推翻了清王朝的统治，结束了君主专制制度，建立中华民国，紫禁城服务于大众。（1分，写出一项得1分）

(2) **特点：**①博物馆数量多；②门类丰富多样；③质量等级高；④藏品总数多；⑤分布广泛。（2分，写出一项得1分）

**仿写：**

组合	主题	理由
②⑤	新文化运动的代表人物 (1分)	1915年，陈独秀在上海创办《青年杂志》，正式吹响了新文化运动的号角。（1分）《新青年》杂志社迁到北京，当时《新青年》的主要撰稿人有陈独秀、鲁迅等。（1分）
④⑥	北京地区远古人类生活 (1分)	周口店北京人遗址是迄今所知世界上内涵最丰富、材料最齐全的直立人遗址之一；（1分）北京王府井古人类文化址博物馆向世人展示古人类生活的场景。（1分）

(3) **作用：**①促进了人类文明交流互鉴；②彰显了首都城市特色；③满足了人民文化需求；④增强了人民精神力量；⑤有助于实现博物馆教育及知识共享。（1分，写出一项得1分）

**建议：**①建设数字化博物馆；②博物馆进校园；③丰富博物馆类型等。（言之有理即可，1分，写出一项得1分）