

房山区 2023-2024 学年度第二学期综合练习（二）



九年级历史

本试卷共 10 页，满分 70 分，考试时长 70 分钟。考生务必将答案填涂或书写在答题卡上，在试卷上作答无效。考试结束后，将试卷和答题卡一并交回。

第一部分

本部分共 20 题，每题 1.5 分，共 30 分。在每题列出的四个选项中，选出最符合题目要求的一项。

1. 2023 年中国考古新发现的陕西清涧寨沟遗址，建筑群由下沉式中心院落和四周廊房组成，整体呈“回”字形，合围区域面积约 6000 平方米。外围墓葬中出土了大量青铜车马器、兵器、玉器、骨器、漆器、龟甲等，与殷墟高等级贵族墓葬物质文化相同。该遗址

- A. 为研究人类起源提供新证据
- B. 有助于研究原始农耕生活
- C. 为研究早期国家提供新资料
- D. 可佐证尧舜禹禅让的传说

2. 右图是小明同学的部分历史笔记。请你帮他补全笔记中横线部分的内容

- A. 铁制农具和牛耕的推广
- B. 各诸侯国展开争霸战争
- C. 兼并战争连绵不断
- D. 政治秩序重新确立

战国时期的社会变化

政治：各国变法

经济：_____

思想：百家争鸣

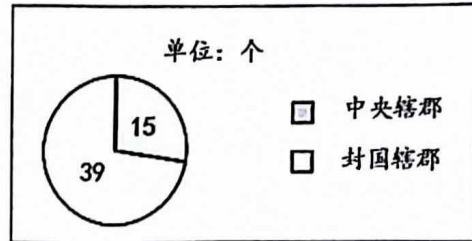
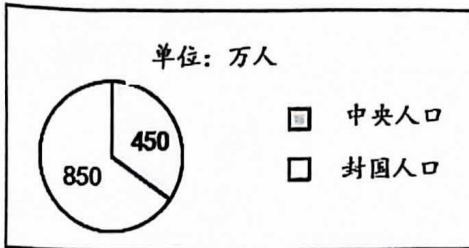
3. 右图是出土于山东省的陶量，外壁印有秦始皇二十六年（公元前 221 年）的诏书“……乃诏丞相状、绾，法度量则不壹歎（嫌）疑者，皆明壹之。”这件文物可印证秦始皇



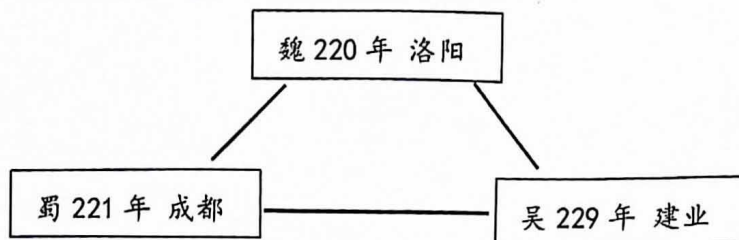
- A. 统一圆形方孔钱
- B. 统一车辆和道路宽窄
- C. 统一度量衡制度
- D. 北击匈奴并修筑长城



4. 下图是西汉初期中央和封国力量对比图，反映出西汉初期中央面临的问题。汉武帝为解决该问题采取的措施是



- A. 北击匈奴
B. 实施“推恩令”
C. 盐铁专卖
D. 罢黜百家，尊崇儒术
5. 对下图所示局面的形成起到重要影响的战役是



- A. 桂陵之战 B. 长平之战 C. 官渡之战 D. 赤壁之战
6. 以下是描写中国历史上著名帝王的对联。与唐太宗有关的是
- A. 开明君主吸隋训，贞观之治创唐荣 B. 武周政治得发展，无字之碑任后评
- C. 调整政策呈开元，沉淫酒色误王国 D. 陈桥兵变成君主，黄袍加身显威风
7. 以下引文能够反映经济重心南移这一历史现象的是
- ① “伐无道，诛暴秦” ② “楚越之地，地广人希（稀）”
- ③ “苏湖熟，天下足” ④ “国家根本，仰给东南”
- A. ①② B. ①③ C. ②④ D. ③④
8. 以下史事历史作用的共同点是

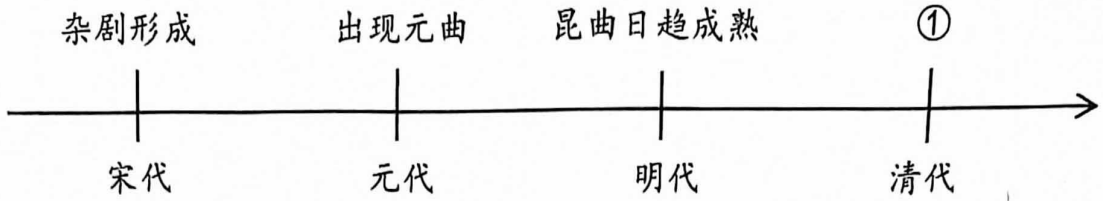
郑成功收复台湾	清朝在台湾建制
明末荷兰殖民者侵占台湾。清初在福建沿海抗清的郑成功打败荷兰侵略者，收复台湾	郑成功后代继续治理台湾。清政府打败郑氏军队，台湾归入清朝版图，设置台湾府，隶属福建省

- A. 维护了祖国领土完整 B. 加强了对西北地区的管辖
- C. 推行了闭关锁国政策 D. 实现了清朝对全国的统治
9. 右图是历史教材的目录（部分）。归纳这一时期的时代特征是
- A. 政权分立与民族交融
B. 繁荣与开放的时代
C. 民族关系发展和社会变化
D. 统一多民族国家的巩固与发展

第14课	明朝的统治
第15课	明朝的对外关系
.....	
第19课	清朝前期社会经济的发展
第20课	清朝君主专制的强化
第21课	清朝前期的文学艺术



10. 以下是某一专题知识示意图。图中①处应填的是



- A. 行书形成 B. 瓦子出现 C. 小说流行 D. 京剧形成

11. 某历史公众号推送中国近代系列人物相关内容。以下人物应归入的主题是



林则徐



左宝贵



左宗棠



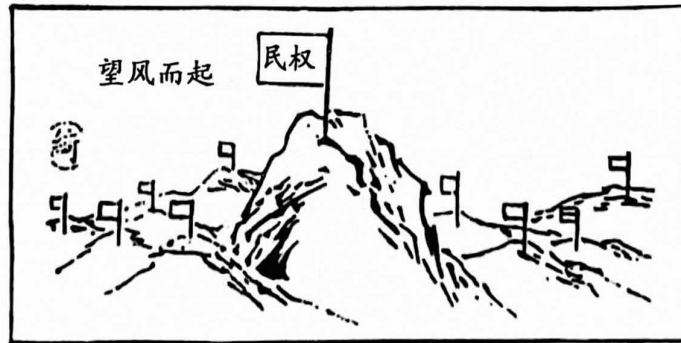
邓世昌

- A. 列强侵略 B. 民族抗争 C. 立宪共和 D. 民主科学

12. 中国近代民族工业经历了曲折的发展历程。民族工业“短暂的春天”出现在

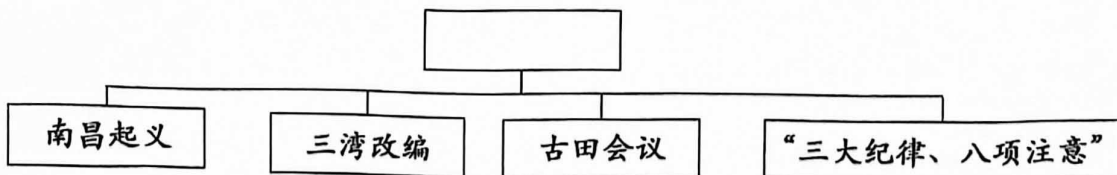
- A. 鸦片战争期间 B. 甲午中日战争期间
C. 第一次世界大战期间 D. 抗日战争期间

13. 漫画《望风而起》描绘了 1911 年的中国时局。画面中的“风”来自



- A. 黄花岗起义 B. 武昌起义 C. 五四运动 D. 秋收起义

14. 某同学在复习中国共产党党史时，绘制了如下的结构示意图。图中空格处应填的主题是



- A. 国共第一次合作实现 B. 革命根据地的建立
C. 中国共产党军队建设 D. 解放区经济的发展

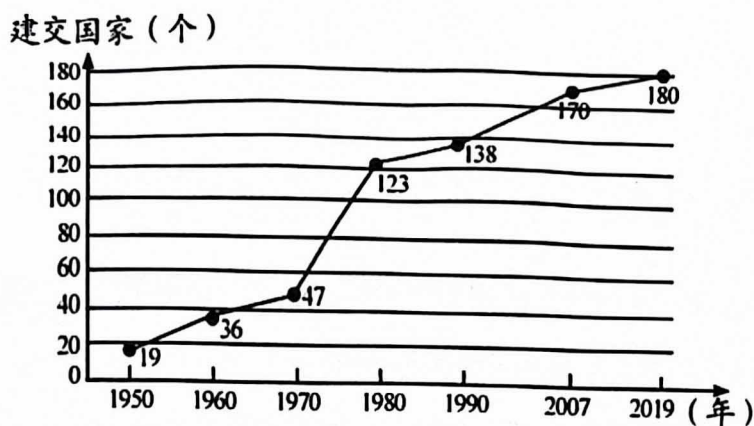


15. 右侧是解放战争时期广为传唱的一首歌谣。从材料中可知解放战争获胜的原因有

- A. 人民解放军英勇善战
- B. 人民群众的大力支持
- C. 国民党军队的战斗力低下
- D. 人民解放军作战方针正确

最后一瓢米送去做军粮，
最后一块布拿去缝军装，
最后一个娃送去上战场，
最后一床被盖在担架上。

16. 下图是我国与各国建立外交关系情况简图（累计）。这反映了



- A. 中国的影响力在不断扩大
 - B. 中美关系走向正常化
 - C. 经济全球化趋势逐步加强
 - D. 多极化格局已经形成
17. 中世纪晚期，西欧土地关系的变化和手工业的发展，推动农业和手工业生产组织逐渐资本主义化，开始改变中世纪欧洲社会的整体面貌。这一变化主要表现在
- A. 租地农场和家庭手工业出现
 - B. 垦殖运动和手工作坊的出现
 - C. 租地农场和手工工场的出现
 - D. 庄园经济和手工工场的出现
18. 历史学家使用“城市化的浪潮”“教育的大众化”“人口数量的激增”“环境污染”等来描述 19 世纪后期
- A. 资本主义制度的初步确立
 - B. 国际共产主义运动的兴起
 - C. 资本主义制度的扩展
 - D. 工业化国家的社会变化
19. 这场革命借助战争完成了一次历史性的转换。俄国不再是资本主义的效仿者，而是世界历史的引领者，建立了第一个无产阶级专政的国家。“这场革命”是
- A. “光荣革命”
 - B. 二月革命
 - C. 十月革命
 - D. 国民革命
20. 《物种起源》的出版，打破了千百年来“上帝创造万物”的神创论，在生物科学领域掀起了一场伟大革命。这部著作的作者是
- A. 达·芬奇
 - B. 牛顿
 - C. 达尔文
 - D. 巴尔扎克



第二部分

本部分共 4 题，共 40 分。

21. (10 分) 灯火里的城

材料一


油灯是古时最常用的照明工具。汉代的油灯多使用动物油脂，到了宋代人们普遍使用植物油脂；汉代灯具多为青铜器、铁器与陶器，到宋代时陶瓷灯具更为常见。

宋代夜禁制度松弛，酒楼茶坊夜夜笙歌、觥筹交错；瓦舍勾栏每晚都上演精彩节目，令人流连忘返；店铺与街边摊营业至深夜，乃至通宵达旦。

——吴钩《风雅宋——看得见的大宋文明》

- (1) 依据材料一，概括宋代照明的变化。(2 分) 照明的发展为宋代城市生活带来新气象，依据材料并结合所学，说出新气象的表现。(2 分)

材料二



电灯照亮紫禁城

故宫藏老照片中，有 20 世纪初的乾清宫殿内照片。照片中，宝座的上方、正大光明匾额的前方，悬挂有一盏吊灯。此吊灯由灯架、灯罩、电线和灯泡组成。灯罩内含有灯泡，而各支架管的端部，均向下挑出一个灯泡，犹如皇帝冠冕边上的一排排垂珠，造型颇具东西方文化融合的特点。

——周乾《皇家也爱“高科技”，电灯照亮紫禁城》(《湖南日报》2024 年 3 月 24 日)

- (2) 依据材料二并结合所学，从中外两个方面说出“电灯照亮紫禁城”的历史条件。(4 分)

材料三

2024 年 2 月 2 日，腊月二十三夜，长安街上悬挂的大红灯笼和中国结正式全部点亮，透出温暖喜庆的气息。灯笼和中国结材质为 PETG，牢固不易磨损，还能耐受低温。灯箱内的光源全部采用 LED 节能灯，节能环保，使用寿命长。灯笼灯饰使用采取“利旧”原则，大红灯笼、中国结以及串灯等都是沿用去年使用过的。智慧照明服务指挥中心将利用自然光照度远程监测系统，密切监测天气变化，智慧化开关灯确保市民出行安全。

——《北京日报：灯笼灯饰提前“上岗”扮靓长街迎新春》

- (3) 依据材料三，概括 2024 年春节期间北京城市照明的特点。(2 分)



22. (9分) 江山就是人民, 人民就是江山

材料一 人民英雄纪念碑是中华人民共和国成立后国家建立的大型纪念碑。



人民英雄纪念碑

毛泽东题写的“人民英雄永垂不朽”。

三年以来, 在人民解放战争和人民革命中牺牲的人民英雄们永垂不朽!





三十年以来, 在人民解放战争和人民革命中牺牲的人民英雄们永垂不朽!

由此上溯到一千八百四十年, 从那时起, 为了反对内外敌人, 争取民族独立和人民自由幸福, 在历次斗争中牺牲的人民英雄们永垂不朽!

底座四面镶嵌着 10 幅汉白玉浮雕, 上面雕刻着 172 个人物, 他们都是无名英雄。

(1) 依据材料一并结合所学, 谈谈人民英雄纪念碑的设计意图。(2分)

材料二 新中国成立以来被授予国家勋章和国家荣誉称号的个人(部分)

获奖人物	 ①常香玉	 ②钱学森	 ③焦裕禄
所获荣誉	人民艺术家	“两弹一星”功勋奖章	最美奋斗者
获奖人物	 ④袁隆平	 ⑤袁庚	 ⑥张桂梅
所获荣誉	共和国勋章	改革先锋	七一勋章

(2) 在材料二中任选一位功勋人物, 仿照示例, 结合时代背景介绍其事迹。(3分, 示例除外)

示例: ⑤袁庚: 改革开放时期, 袁庚创办培育了我国第一个外向型工业园区——蛇口工业区, 成为我国改革开放排头兵, 体现了开拓创新的時代精神。



材料三

2023年居民人均可支配收入增长6.1%，城乡居民收入差距继续缩小。脱贫攻坚成果巩固拓展，脱贫地区农村居民收入增长8.4%。加大义务教育、基本养老、基本医疗等财政补助力度，扩大救助保障对象范围。提高“一老一小”个人所得税专项附加扣除标准，6600多万纳税人受益。加强城镇老旧小区改造和保障性住房供给，惠及上千万家庭。

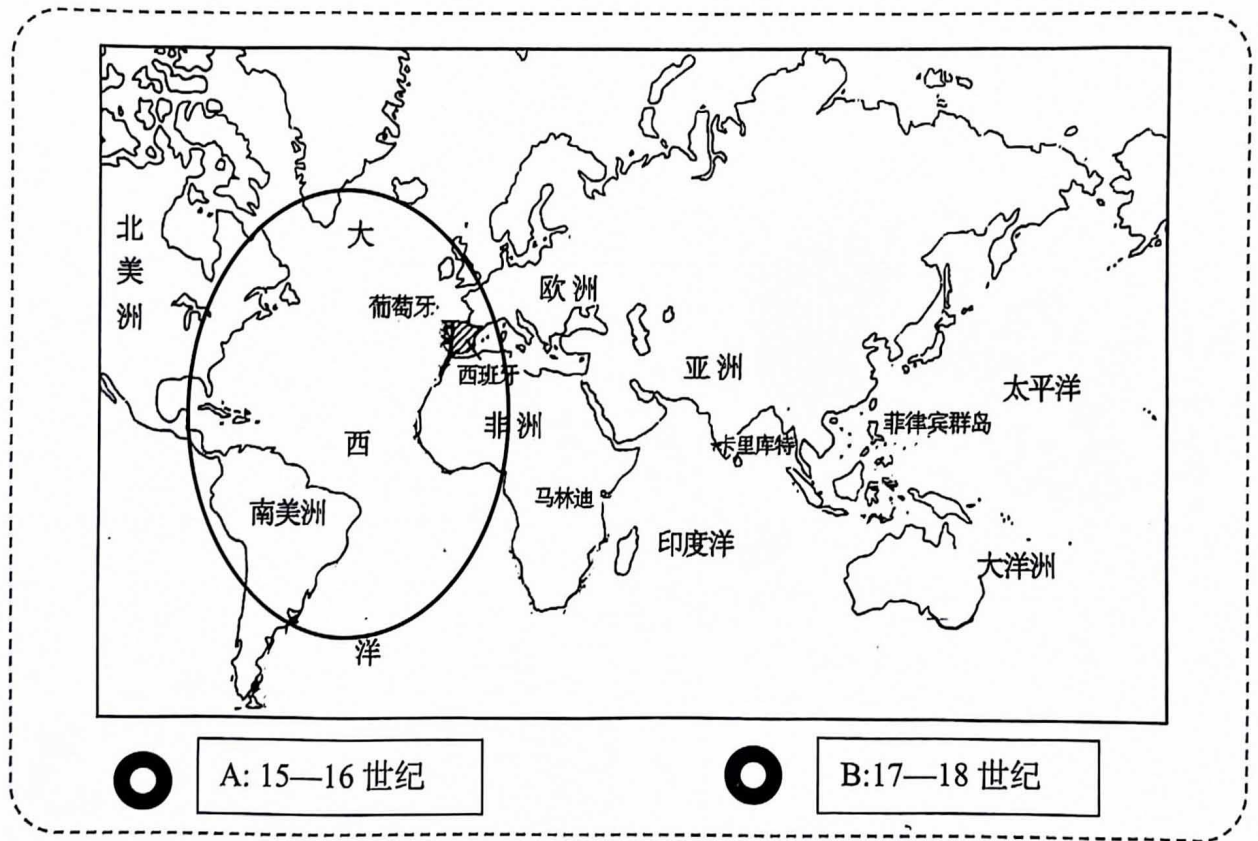
——《政府工作报告》（2023年）

- (3) 依据材料三，列举我国在2023年改善社会民生方面的措施。(2分) 综合以上材料，谈谈你对“江山就是人民，人民就是江山”的认识。(2分)

23. (11分) 某历史小组的同学开展了将信息技术与历史地图相结合的实践活动，在历史地图的基础上增加了互动功能，让历史地图动起来。

材料一

互动地图一



- (1) 材料一的互动地图中，分别点击 A、B 按钮，图中标示地区会出现相应历史事件的示意图。请将对应历史事件填写在相应位置上。(只填序号，2分) 并说出两个事件之间的联系。(1分)

事件①三角贸易

事件②哥伦布航行到美洲

点击 A: _____

点击 B: _____



材料二

互动地图二

①第一次世界大战后的欧洲 ②“北约”和“华约”形势图 ③欧盟成员国（截至2013年）

(2) 材料二的互动地图中，点击地图时，历史地图会放大，并显示其反映的世界局势。依次点击三幅地图并结合所学，描述出世界格局的演变过程。(3分)

材料三

互动地图三

1945年 2012年

联合国的成立 联合国193个会员国的国旗

1945年10月24日，《联合国宪章》正式生效，联合国正式成立。共有51个创始成员国。截至2012年末，联合国共有193个会员国，2个观察员国（梵蒂冈和巴勒斯坦）

(3) 移动时间轴上的标签，会显示联合国成员国的发展历程。依据材料三，说说联合国成员国的变化趋势。(1分) 结合所学，说明联合国在世界上发挥的作用。(2分)

(4) 通过参加此次实践活动，谈谈历史地图在历史学习中发挥的价值。(2分)

务必将答案答在答题卡上