



历史

2024.5

考生须知

1. 本试卷共 8 页，共两部分，共 24 题，满分 70 分。考试时间 70 分钟。
2. 在试卷和草稿纸上准确填写姓名、准考证号、考场号和座位号。
3. 试题答案一律填涂或书写在答题卡上，在试卷上作答无效。
4. 在答题卡上，选择题用 2B 铅笔作答，其他试题用黑色字迹签字笔作答。
5. 考试结束，将本试卷、答案卡和草稿纸一并交回。

第一部分

本部分共 20 题，每题 1.5 分，共 30 分。在每题列出的四个选项中，选出最符合题目要求的一项。

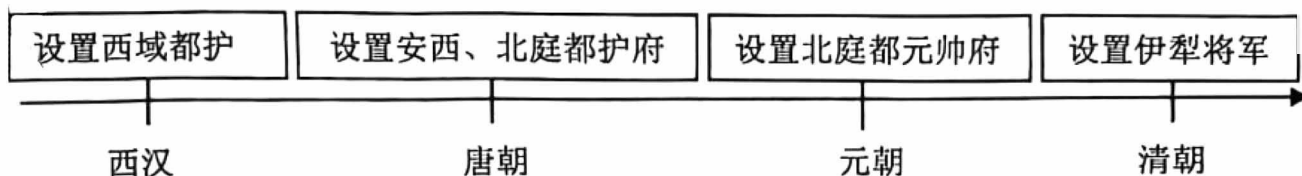
1. 北京人是世界上最重要的原始人类之一。北京人遗址中发现有灰烬、烧石和烧骨等。由此可以推断，北京人
 - A. 掌握了人工栽培水稻技术
 - B. 已经学会使用火
 - C. 具有最早的天文历法知识
 - D. 会制作各类工具
2. 有学者认为：商鞅虽死，但新法在秦长期行用并取得显著成效。秦国亦因而得以长期保持强盛的国力，最终完成统一大业。该观点说明了商鞅变法
 - A. 实施的背景
 - B. 失败的原因
 - C. 内容的全面
 - D. 深远的影响
3. 今天所说的“丝绸之路”始通于西汉在西域设置行政管理机构之时。当时经这条道路运往西方的商品有丝织品、漆器、铁器等，铸铁和凿井技术也在这时西传。西方输进中国的商品有良马、石榴等，多种乐器和歌舞等也传入中国。这说明丝绸之路



- ①是古代东西方往来的大动脉
 - ②促进了中外贸易与文化交流
 - ③有利于我国大一统局面形成
 - ④加强了我国南北地区的联系
- A. ①② B. ①③ C. ②③ D. ②④



4. 对以下示意图理解正确的是



- A. 唐朝前期政治开明，民族关系和睦
 B. 清朝设置驻藏大臣监督西藏地方政务
 C. 郑成功从荷兰殖民者手中收复台湾
 D. 中央政府不断加强对新疆的有效管辖

5. 以下是中国近代一位历史人物年谱(部分)。对此解读正确的是

1894年	1905年	1907年	1912年1月
成立兴中会	成立中国同盟会	筹划领导广西起义	宣誓就任临时大总统

- A. 洋务运动促进民族资本主义产生
 B. 戊戌变法启蒙民众思想
 C. 孙中山是中国民主革命的先行者
 D. 武昌起义推翻清朝统治

6. 右图是1919年发表在《新申报》上的漫画《长蛇猛兽动起来 冲破和平正义塔》。漫画中是一座即将倾倒的塔，塔身自上而下写着“公道”“和平”“正义”“平等”字样。塔的旁边立有一碑，上面写着“凡尔赛和会”。漫画作者意在



- A. 颂扬近代以来中国人救亡图存的探索
 B. 讽刺北洋军阀统治下混乱的政治局面
 C. 揭露巴黎和会是帝国主义的分赃会议
 D. 说明二战结束后联合国作用不断增强

7. 1950年1月“中国人民解放军北京市军事管制委员会布告”中第一条内容是：某些外国，过去利用不平等条约中所谓“驻兵权”，在北京市内占据地面，建筑兵营。现在此项地产权，因不平等条约之取消，自应收回。与此布告相关的史事有

- A. 《南京条约》 中华民国成立
 B. 《辛丑条约》 中华人民共和国成立
 C. 《辛丑条约》 中华民国成立
 D. 《南京条约》 中华人民共和国成立

8. 右侧照片是我国20世纪50年代政治领域取得的重大建设成就的一个场景。这一重大建设成就



人民代表步入第一届全国人民代表大会第一次会议会场

- A. 标志着我国摧毁了封建土地制度
 B. 彻底改变了我国工业落后的面貌
 C. 为人民当家作主提供了制度保障
 D. 形成了独立完整的国民经济体系



9. 1954年,《中印两国总理联合声明》中说:“两国总理重申这些原则……如果这些原则不仅适用于各国之间,而且适用于一般国际关系之中,它们将形成和平和安全的坚实基础……”。这些原则是指

- A. 和平共处五项原则 B. 求同存异 C. 四项基本原则 D. 实事求是

10. 下列史事与结论对应正确的是

	史事	结论
A	明朝建立后,先后18次修筑长城	基本解除了东南沿海的倭患
B	清朝实行闭关锁国政策	阻止了西方列强的入侵
C	1915年陈独秀创办《青年杂志》	国民革命军北伐胜利进军
D	1956年三大改造完成	社会主义基本制度在我国建立起来

11. 他被授予“共和国勋章”时的解说词写道:他是杂交水稻研究的开创者,50多年来致力于杂交水稻技术的研究、应用与推广,为我国粮食安全、农业科学发展和世界粮食供给作出巨大贡献。“他”是

- A. 钱学森 B. 邓稼先 C. 袁隆平 D. 屠呦呦

12. 文艺复兴的先驱但丁在《神曲》中抨击教会的贪婪腐化,表达了普通人的情感与理想。《蒙娜丽莎》是达·芬奇为佛罗伦萨一位商人妻子所画的肖像画,人物形象神态自若,富有生命力。这说明文艺复兴

- ①反对教会“神权至上”,提倡人文主义 ②促进了人们的思想解放
③推动了欧美国家妇女独立意识的增强 ④反对欧洲君主专制制度

- A. ①② B. ①④ C. ②③ D. ②④

13. 右侧是一部历史著作的目录(部分)。

其中①处的标题应为

- A. 隔绝的世界:美洲和大洋洲
B. 全球一体化的缘起
C. 新的战火:第二次世界大战
D. 解决全球问题:国际组织

第五部分 ① (公元1500—1800年)
第23章 跨洋交流与全球联系
第24章 欧洲的转变
第25章 新世界:美洲和大洋洲
第26章 非洲与大西洋世界

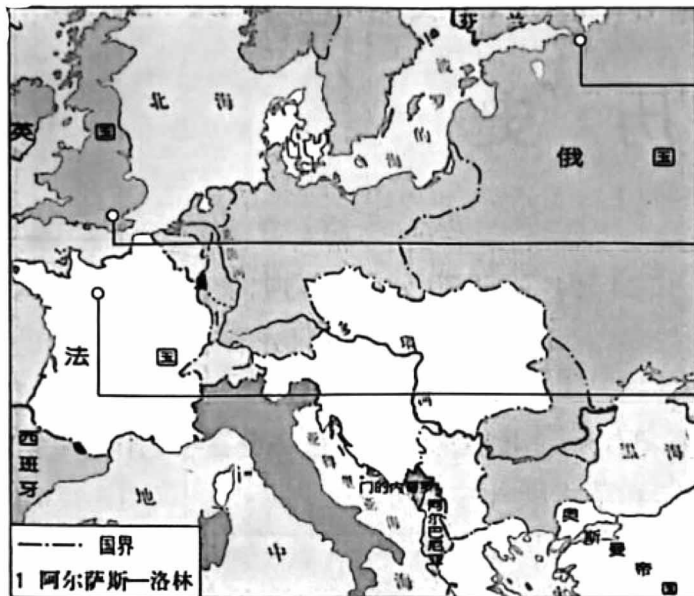
14. 有同学为参加专题论坛活动,搜集了1689年《权利法案》、1787年美国宪法、1789年《人权宣言》、1804年《拿破仑法典》等历史文献。该论坛的主题应该是

- A. 资本主义制度的初步确立 B. 大众教育的新发展
C. 一战后资本主义的新变化 D. 欧洲的一体化进程

15. 有学者说:“这是俄罗斯历史上的一个重大转折点,其意义甚至比美国历史上1863年发表的《解放宣言》都要重大:《解放宣言》仅关系到美国的少数黑人,而废除农奴制的法令则涉及到在俄罗斯占压倒多数的人口。”这一重大转折点的作用是

- A. 推动俄国走上发展资本主义的道路 B. 推翻幕府统治,加强中央集权
C. 维护了国家统一促进资本主义发展 D. 摧毁君主统治,传播民主思想

16. 以下示意图的标题应是



1917年, 世界上第一个无产阶级专政的社会主义国家建立

1848年, 马克思、恩格斯起草的《共产党宣言》正式出版

1871年, 世界上第一个无产阶级政权——巴黎公社建立

- A. 马克思主义的诞生
- B. 资本主义制度在全球的扩展
- C. 一战后的国际秩序
- D. 科学社会主义从理论到现实

17. 据不完全统计, 二战中全世界军民死亡 6000 多万人, 消耗军费 13000 亿美元, 物资损失 42700 亿美元, 还造成无法用数字估量的精神创伤。以上材料说明二战

- A. 是帝国主义瓜分世界的战争
- B. 给人类带来了巨大灾难
- C. 促进了世界殖民体系的瓦解
- D. 导致社会保障制度建立

18. 1964 年 1 月 27 日, 中国《人民日报》和法国《世界报》同时在头版刊登中法两国建交的消息, 被西方舆论喻为“一次突发的外交核爆炸”。此比喻反映出当时的国际形势是

- A. 列强在全球掀起瓜分狂潮
- B. 以美、苏为首的两大集团冷战对峙
- C. 世界多极化趋势不断发展
- D. 亚非拉国家民族民主运动不断高涨

19. 以下两幅照片共同反映了



周恩来在万隆会议上发言



不结盟国家和政府首脑会议会场

- A. 中国特色大国外交全面推进
- B. 非洲国家彻底摆脱殖民主义枷锁
- C. 发展中国家的力量不断增强
- D. 和平发展合作共赢成为时代潮流

20. 截至 2023 年 4 月, 中国已经与 151 个国家、32 个国际组织签署了 200 多份共建“一带一路”合作文件, 涵盖世界上三分之二的国家和三分之一的国际组织。据世界银行预测, 到 2030 年, 共建“一带一路”相关投资有望使共建国家 4000 多万人摆脱贫困。这说明该倡议

- A. 使我国进入创新型国家行列
- B. 消除了霸权主义对世界和平的威胁
- C. 彻底解决了全球的贫困问题
- D. 是构建人类命运共同体的重要实践

密封线内不要答题

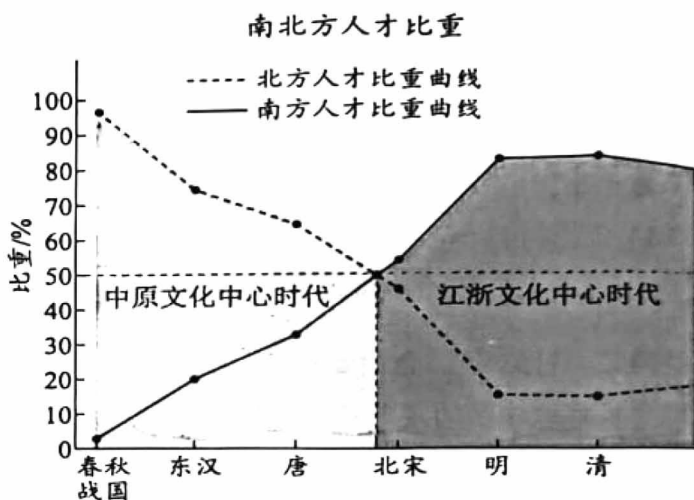


第二部分

21. (10分) 人口迁徙与历史变迁

材料一 魏晋以来，匈奴、鲜卑、羯、氐、羌不断迁入黄河中下游地区，不同民族间风俗习惯、生产生活方式相互影响。原黄河中下游地区民众迁入淮河以南地区。江南“火耕水耨”的粗放型农业生产方式向精耕细作转变。

安史之乱后，北方人口除平民百姓外，还有众多富商大贾、文人墨客移居川、湖、江、浙。两宋之际“靖康之难”迫使中原士庶纷纷南下，南方人口激增。以杭州为核心的江浙地区成为北方移民最集中的区域。南方人口逐渐超过北方。



(1) 依据材料一，概括中国古代人口迁移的主要趋势。(1分) 结合所学，分析其产生的影响。(3分)

材料二 晚清时期，大量华人出洋务工，形成华工出国潮

- ① 英国于1807年、1838年先后宣布废除作为劳动力重要来源的奴隶贸易和奴隶制度，美国在南北战争后废除奴隶制。
- ② 鸦片战争后，中国产生大批失地农民和破产的小手工业者。
- ③ 被拐卖的华工通常能在一年内生产出高过拐运费以及生产投资费用三倍以上价格的产品。
- ④ 19世纪60年代前后，美国旧金山一带发现金矿，被宣传为发财致富的好去处。
- ⑤ 英、法、美强迫清政府签订《北京条约》《蒲安臣公约》等，就华工出洋达成协议。

(2) 运用材料二，多角度分析推动晚清华工出国潮形成的因素。(3分)

材料三 新中国成立后，由于西方阵营的封锁，中国大陆的海外移民基本停止。1978年，中国向世界打开了大门，出国潮经久不衰。20世纪90年代以来，国际移民不断加速，促进了劳动力、商品和资本的更大流动。据2014年数据显示，海外华侨华人数量达到6000多万人。与近代移民相比，新移民群体类别多元，既包括家庭团聚移民、低技能劳工移民，也包括留学、投资等高技能移民；女性移民的比重日益提高。华侨华人对祖国的认同逐步强化，与祖国的联系与合作愈加紧密。中国吸收的外资中，60%以上是华商资金。

(3) 依据材料三，概括1978年以来中国海外移民的特点。(2分) 结合所学，说出中国出国潮经久不衰的时代背景。(1分)



22. (10分) 未来属于青年

材料一

北京大学学生起草的 《北京学界全体宣言》	上海学生联合会印制的传单 《商家千万注意》	天津学生散发的宣传单 《欲雪国耻必须自强》
务望全国工商界，一律起来 设法开国民大会，外争主 权、内除国贼。中国存亡， 就在此一举了！	死活关头，争这一点。泣求诸 君，努力坚持，目的不达，店 门不开，救得中国……救得山 东，救得被拘的爱国学生。	同胞速醒，群策进行…… 急收旅大，保我神州…… 坚持不懈，以免后忧…… 如此进步，能占胜优

(1) 依据材料一，写出五四运动的性质。(1分) 从角度一、二中选择其一，仿照示例，说明青年学生对社会进步的作用。(示例角度除外)(2分)

角度一	角度二	角度三
五四运动的先锋	凝聚民众力量	传播新思想

示例：

角度：传播新思想

说明：青年学生在全国各地向社会各界呼吁宣传，要争取民族独立、国家自强，传播了爱国、民主、科学、进步的新思想。

材料二 抗美援朝战争期间，广大青年积极参与到全国的捐献热潮中，如青年演员常香玉带领剧社巡演 170 场，将所得捐献购买了一架战斗机。在农、工、商等各领域还开展了生产竞赛，“一切为了祖国”成为国内青年的行动口号。全国各地青年积极报名参军，中国人民志愿军中青年指战员占 66%。21 岁的黄继光用胸口堵枪眼光荣牺牲，26 岁的邱少云为保证战斗胜利被烈火烧身而牺牲，21 岁的罗盛教为救落入冰窟窿的朝鲜少年光荣献身。

(2) 依据材料二，概括青年为抗美援朝战争做出的贡献。(2分) 指出其体现的抗美援朝精神。(2分)

材料三 1986 年，我国制定了国家高技术研究发展计划，即“863 计划”。“863 计划”造就了一批既有深厚专业造诣、又能把握高技术发展方向的战略科学家和青年领军人才。1989 年“青年星火带头人”活动，把新技术成果引入农村，农村出现一批科技后备科研和工程技术队伍。新时代以来，国家制定科技自立自强的战略，中国科协实施“青年人才托举工程”。青年人敢啃“硬骨头”，勇闯“无人区”，“十年磨一剑”。北斗导航等国家重大工程中，团队的平均年龄刚过 30 岁。

(3) 依据材料三，说说社会进步与青年人发展之间的关系。(2分) 综合以上三则材料，谈谈作为青年的你从中获得的启示。(1分)

23. (9分) 探索·发展

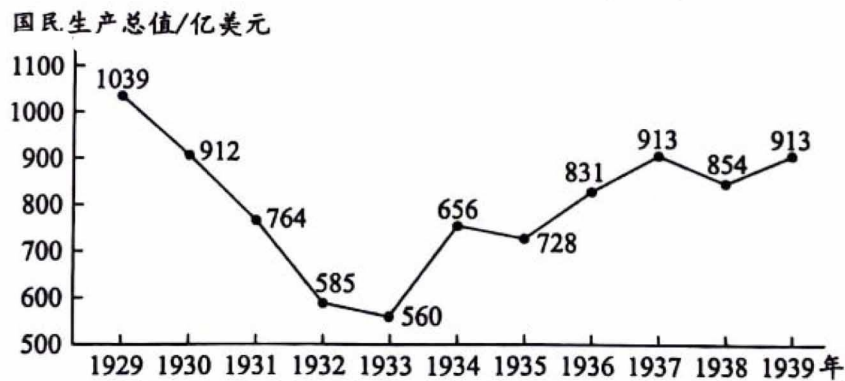
材料一 十月革命胜利后，面对残酷的战争环境，苏维埃政府实行战时共产主义政策，包括实行余粮收集制、取消自由贸易等。1920年底，国内战争逐渐平息。但是，工厂停工，农业产量急剧下降，饥荒严重。列宁在调查后认为，只有改变战时共产主义政策，才能恢复和发展生产。1921年春，苏维埃政府开始实施新经济政策。列宁指出：“我们还不能实现从小生产到社会主义的直接过渡……应该利用资本主义作为小生产和社会主义的中间环节，作为提高生产力的手段、途径、方法和方式。”



(1) 依据材料一，指出与战时共产主义政策相比，新经济政策做出的调整。(1分) 结合所学，说说新经济政策的作用。(2分)

材料二 1933年罗斯福就任美国总统后，为应对经济大危机，颁布了《紧急银行法案》《农业调整法》等多部法律，采取了“以工代赈”等一系列行政措施，被统称为“新政”。新政为其他资本主义国家克服经济危机提供了可以模仿的有效例证，也使得各资本主义国家选择政府宏观调控作为以后政府加强控制的主要工具。

1929-1939年美国国民生产总值



(2) 依据材料二并结合所学，概括罗斯福新政的特点。(1分) 分析新政产生的影响。(2分)

材料三 1992年，邓小平到南方视察过程中发表一系列重要谈话，指出：社会主义的本质，是解放生产力，发展生产力，消灭剥削，消除两极分化，最终达到共同富裕；计划和市场都是经济手段……

党的二十大报告指出，中国式现代化是全体人民共同富裕的现代化。共同富裕是中国特色社会主义的本质要求。

(3) 依据材料三，写出邓小平对社会主义本质的认识。(1分) 结合所学，列举中国共产党为实现全体人民共同富裕进行的实践。(2分)



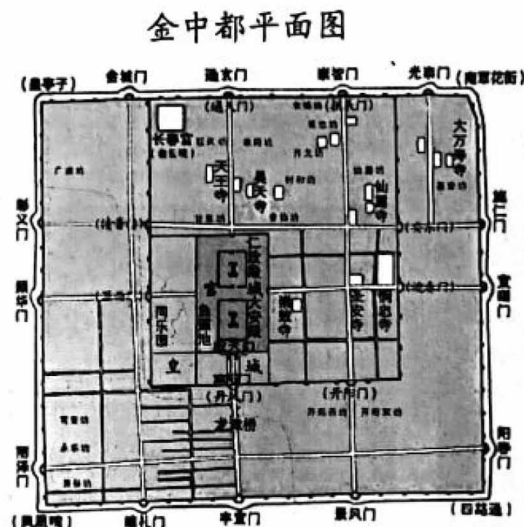
24. (11分) 北京——中华文明的有力见证

材料一 北京位于华北平原的北端，气候温和，水利资源丰富，地处东北、西北、西南几条古代大道的交汇点上，是南北交通的重要枢纽。周围多种文化向北京传入，并通过这里相互影响，北京地区成为北方民族同中原民族交往交流的枢纽和桥梁。

北京城的兴起始于周代，距今已三千余年。周武王灭商后，封黄帝后人于蓟，封同姓贵族召公于燕。春秋战国时期诸侯割据，蓟为燕侯都城，名满海内。后世或称北京为燕京，来源于此。

(1) 依据材料一，归纳古代北京建城的有利条件。(2分) 结合所学，写出与蓟、燕建城相关的西周政治制度名称。(1分)

材料二 1153年，金迁都燕京，改名中都。金中都仿照北宋都城汴京的建筑格局和宫室制度，在辽南京城的基础上进行了大规模扩建。在扩建过程中，把皇城摆在了城市的中心位置，不断强调“居天下之中”“可以为正统”的华夏正统思想。金朝人不仅把园林纳入皇城，还在城外风景优美的地方，如白莲潭(今什刹海一带)、南海子等兴建离宫别苑，这反映出草原民族逐水草而居的理念。金中都的建立，使北京完成了由“城”到“都”的身份转换，在华夏都城营建史上有着承上启下的作用，为元明清定都北京打下了坚实基础。



(2) 依据材料二，概括金中都城市建设的特点。(2分) 分析金中都建立的影响。(2分)

材料三 新时代以来，北京的首都功能不断优化提升

①	2022年北京市政府工作报告提到，北京一批大科学装置建设运行顺利，综合性国家科学中心取得阶段性成果。
②	2022年冬奥会期间，北京先后举行20余场同外国元首、政府首脑、国际组织负责人的双边会晤。
③	2022年7月，首届北京文化论坛在京召开，论坛以“推动文化创新 赋能美好生活”为年度主题。
④	2022年10月15日，中国共产党第二十次全国代表大会在北京开幕。
⑤	截至2023年8月，北京已形成全国规模最大、实力最强的博物馆集群，年均接待观众超过5000万人次。
⑥	2023年10月18日，第三届“一带一路”国际合作高峰论坛在北京举行。
⑦	2023年北京万人发明专利拥有量262.9件，技术合同成交额85236.9亿元。
⑧	2024年3月11日，第十四届全国人民代表大会第二次会议在北京人民大会堂闭幕。

(3) 依据材料三，将下列表格补充完整。(4分)

序号	④⑧	③⑤		
首都功能	政治中心			国际交往中心

密封线内不要答题



北京市西城区九年级模拟测试试卷

历史答案及评分参考

2024.5

第一部分（共30分）

1	2	3	4	5	6	7	8	9	10
B	D	A	D	C	C	B	C	A	D
11	12	13	14	15	16	17	18	19	20
C	A	B	A	A	D	B	B	C	D

第二部分（共40分）

21.（10分）

- (1) 趋势：人口南迁；少数民族内迁至中原地区；中原汉族南迁至长江中下游地区。（1分）
影响：推动江南农业生产方式转变（江南农业生产方式从粗放型向精耕细作转变）；导致古代人口分布格局的变化（南方人口大大增长；南方人口超过北方）；推动中国古代经济重心南移（促进江南地区的开发；推动南方经济的发展）；促进了民族交融；有利于南方文化的发展（南方人才逐渐增长并超过北方）。（3分）
- (2) 英美等国家废除奴隶贸易和奴隶制度，导致劳动力短缺；贩卖华工带来可观利润；近代以来由于西方列强对中国的入侵等，造成大批失业人群；西方国家对发财致富的宣传契合华工谋生的需求；不平等条约的签订使华工出洋合法化。（3分）
- (3) 特点：移民规模变大/数量增多；移民群体类别多元化；女性移民日益增多；与祖国联系与合作日益密切；对我国的社会主义建设做出贡献（2分）
背景：我国实行改革开放（对外开放）政策；20世纪八九十年代以来，国家间的经济联系日益紧密/世界经济全球化的趋势加强（1分）

22.（10分）

- (1) 性质：反帝反封建的爱国革命运动（1分）
示例：
角度一：五四运动的先锋
说明：北京大学的学生首先揭露列强侵略行径和对中国的危害，各地青年学生提出运动口号，身体力行坚决斗争，呼吁群众共同救国，成为五四运动的先锋。
角度二：凝聚民众力量
说明：广大青年学生提出召开国民大会，坚持斗争精神唤醒社会各界声援，鼓励各界同胞坚持斗争形成合力，凝聚了民众力量。（2分）
- (2) 贡献：积极参与为抗美援朝捐献的热潮；在后方努力进行生产；积极报名参军；不怕



牺牲，英勇战斗。（2分）

精神：祖国和人民利益高于一切、为了祖国和人民的尊严而奋不顾身的**爱国主义**精神；英勇顽强、舍生忘死的**革命英雄主义**精神；为完成祖国和人民赋予的使命、慷慨奉献自己一切的**革命忠诚**精神；为了人类和平正义事业而奋斗的**国际主义**精神（2分）
（不怕牺牲；舍己救人……）

- (3) 关系：国家、社会进步为青年人发展创造条件；青年人发展推动时代的进步（**双向关系要表述清楚，只说出一个单向关系得1分**）。（**学生具体表述也可以，给分标准同上**。如中国特色社会主义新时代，中国具有自主研发能力，国家重点工程给予青年人机会，青年科学家得以承担国家重大工程；这些重大工程的成果，推动中国进入创新型国家行列）（2分）

启示：言之有理即可（1分）（**价值观正确**）

23. (9分)

- (1) 调整：利用商品货币关系调节经济（1分）（利用资本主义作为小生产者作为小生产和社会主义的中间环节；用粮食税取代余粮征集制等具体措施也可以）

作用：调动了生产者的积极性；迅速缓解了苏维埃政权的危机；巩固了工农联盟；促使国民经济稳步发展/促进了工农业生产发展。（2分）

- (2) 特点：采用立法、行政手段应对危机/国家干预经济/国家对经济进行宏观调控（1分）

影响：在一定程度上克服了经济危机对美国的影响/促进了**美国经济复苏**，工业生产恢复，就业人数逐步增加，人民生活得到改善；恢复了美国人民的信心，**维护了美国的资本主义制度**；**增强了美国政府的宏观调控能力**；**为其他资本主义国家克服经济危机提供了示范**；**对资本主义世界产生了深远影响**。（2分）

- (3) 认识：社会主义的本质，是解放生产力，发展生产力，消灭剥削，消除两极分化，最终达到**共同富裕**（1分）

实践：中共十一届三中全会作出把党和国家工作中心转移到经济建设上来、实行改革开放的历史性决策；中央支持和倡导家庭联产承包责任制；加快以城市为重点的经济体制改革步伐；建立社会主义市场经济体制；提出全面建成小康社会的战略布局（符合史实，言之有理即可，2分）（**推动经济发展、各族人民生活水平提高的正确史实**）

24. (11分)

- (1) 条件：自然条件优越、交通便利、多文化交融、多民族交流/民族交融（2分）

政治制度：分封制（1分）

- (2) 特点：布局方正；中轴对称；继承前代；体现华夏正统思想/受汉文化影响大；保留本民族建城理念；影响后代都城建设（2分）

影响：提升了北京城的地位；为后代定都北京奠定基础；在华夏营城建都史上起到承



上启下的作用；促进民族交融。（2分）

(3) (4分)

序号	④⑧	③⑤	①⑦	②⑥
首都功能	政治中心	文化中心	科技创新中心	国际交往中心