

2024 北京门头沟初三二模



历史

2024. 05

学校_____ 姓名_____ 准考证号

注意事项

1. 本试卷共 8 页，共两部分，共 24 道题，满分 70 分。考试时间 70 分钟。
2. 在试卷和答题纸上准确填写学校名称、姓名和准考证号。
3. 试题答案一律填涂或书写在答题纸上，在试卷上作答无效。
4. 在答题纸上，选择题用 2B 铅笔作答，其他试题用黑色字迹签字笔作答。
5. 考试结束，请将本试卷、答题卡和草稿纸一并交回。

第一部分

本部分共 20 题，每题 1.5 分，共 30 分。在每题列出的四个选项中，选出最符合题目要求的一项。

1. 王国维在《殷周制度论》中说“周人制度之大异于商者……而有封建子弟之制……”。材料中的制度是
A. 禅让制 B. 分封制
C. 郡县制 D. 行省制
2. 汉武帝时期，在中央设立司隶校尉，监督和检举京师百官和皇族的不法行为。在地方设刺史，负责监督地方官员。这一作法
A. 全面改善国家的财政状况
B. 废除了汉初分封的诸侯国
C. 将儒家学说立为正统思想
D. 有利于大一统王朝的巩固
3. 文献阅读是中学历史学习的重要方法。某生阅读文献《魏晋南北朝黄河中下游地区的水稻种植》时对当时水稻撒播的时间有所疑惑，她用以查证的书籍是
A. 《伤寒杂病论》 B. 《齐民要术》
C. 《资治通鉴》 D. 《天工开物》
4. 有学者说“鲜卑人所面临的重大问题即如何处理这一广大地区的民族关系，其中包含如何对待汉族的先进生产方式、汉族的文化问题”。解决这一“问题”的有效方式是
A. 北魏孝文帝改革
B. 前秦的减赋禁奢
C. 江南地区的开发
D. 隋文帝编订户籍
5. 公元 7 世纪日本诗人创作了“听到天河中有划船的声音，今晚牛郎和织女相会”的句子，这是日本关于七夕节日最早的诗文。以下与之相关的历史事件是



- A. 商鞅变法
- B. 遣唐使来华
- C. 玄奘西行
- D. 市舶司的设立

6. 以下为某学生复习的内容，该生复习的主题为

		
秧马	交子	清明上河图（局部）

- A. 商业贸易的繁荣
- B. 宋代的经济发展
- C. 手工业发展迅速
- D. 农业技术的进步

7. 以下示意图体现了某朝代的国家管理方式。其中①②处分别应为

①	政治	废丞相，设三司
	经济	引进外来作物
	文教	八股取士
	外交	②

- A. ①西汉 ②甘英出使大秦
- B. ①元朝 ②与 140 多个国家有贸易往来
- C. ①明朝 ②郑和下西洋
- D. ①清朝 ②闭关锁国政策

8. 右侧是流传于 20 世纪初期的民间歌谣，它们流传的背景是

- A. 洋务运动的实践
- B. 维新变法的施行
- C. 辛亥革命的爆发
- D. 军阀统治的黑暗

“革命，革命，剪掉辫子反朝廷！
独立，独立，中国岂是鞑子的！”

9. 《新华日报》是创刊于 1938 年 1 月的报纸。它在创刊后三个月，就连续报道了一件“大事”，其中写道“四月六日晚间九点半，……前锋部队冲进台儿庄寨子，把原来困守一角之残敌七八百人解决了！”。这件“大事”

- A. 揭开国共两党联合抗日的序幕
- B. 粉碎了日军“不可战胜”的神话
- C. 抗战以来正面战场的最大胜利
- D. 提高了共产党和八路军的威望

10. 右图新闻报道中事件的意义是

- A. 粉碎了国民党全面进攻
- B. 揭开了战略反攻的序幕
- C. 华北全境基本得到解放
- D. 结束国民党在大陆统治



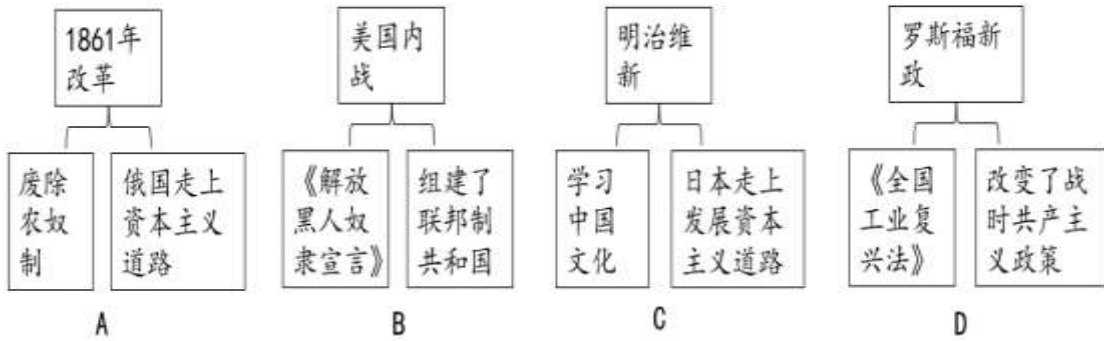


11. 党的二十大报告提出：以铸牢中华民族共同体意识为主线，坚定不移走中国特色解决民族问题的正确道路，坚持和完善民族区域自治制度。将这一制度作为一项基本政治制度确定下来的文件是
- A. 《中国人民政治协商会议共同纲领》
 B. 《中华人民共和国土地改革法》
 C. 《中华人民共和国宪法(1954)》
 D. 《中华人民共和国民族区域自治法》
12. 十六世纪英国诗人的时间观发生改变，他们一改之前创作中以神为尺度衡量人生命的末世论，开始让“人的生命成为度量时间的尺度”。这反映出
- A. 人文主义思想的盛行 B. 分权制衡原则的影响
 C. 资产阶级对权贵厌恶 D. 相对论理论广泛传播
13. 某研究小组在探究活动中通过翻阅英文文献得到以下词汇：America、Indian（印第安人）、Magellan（麦哲伦）、sail，由此判断他们探究的主题是
- A. 航海时代 B. 蒸汽时代
 C. 电气时代 D. 信息时代
14. 《独立宣言》的内容包含：“人人生而平等……其中包括生存权、自由权和追求幸福的权利”“任何形式的政府一旦对这些目标的实现起破坏作用时，人民便有权予以更换或废除，以建立一个新的政府”，可以看出宣言
- ①强调了天赋人权的理念 ②体现了分权制衡的原则
 ③维护了君主立宪的制度 ④认为政府的合法性来自于人民的同意
- A. ①② B. ①④
 C. ②③ D. ②④
15. 有学者这样评价第一次世界大战：“因为欧洲看起来被削弱、分裂和不堪一击了，所以这些白人不再注定是殖民地的统治者了。”这说明一战
- A. 缓和了列强之间的矛盾 B. 结束了人民的反战运动
 C. 终结了欧洲的优势地位 D. 有利于被压迫地区解放

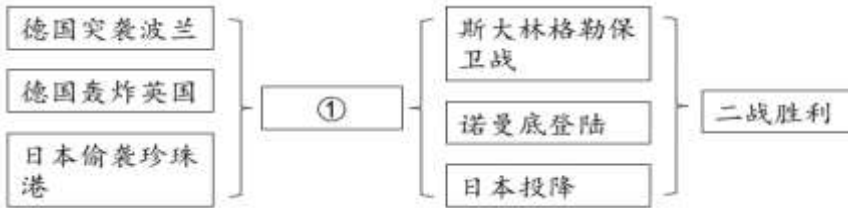
16. 以下主题与史实对应正确的

选项	主题	史实
A	国际共产主义运动的兴起	《共产党宣言》的发表、墨西哥卡德纳斯改革
B	苏联（俄）社会主义的发展	彼得一世改革、新经济政策
C	殖民地人民的反抗斗争	拉丁美洲独立运动、印度民族大起义
D	近现代科技与文化	《查士丁尼法典》的编纂、达尔文著《物种起源》

17. 绘制示意图梳理知识结构是历史学习的重要方法之一。以下示意图符合史实的是



18. 下图是某生复习“第二次世界大战”专题时绘制的思维导图。图中①处应填写



- A. 《联合国宣言》发表
- B. 《开罗宣言》发表
- C. 雅尔塔会议召开
- D. 《波茨坦公告》发表

19. 有学者认为，它是一种“国际体系”，这种“国际体系”的特点是两极对抗、意识形态尖锐对立和积极动员盟国参与各个领域的激烈斗争，这种斗争持续于 1945-1989 年间。它是

- A. 凡尔赛-华盛顿体系
- B. 联合国安全理事会
- C. 冷战
- D. 世界贸易组织

20. 历史解释是对史实的分析或评判。下列选项中属于历史解释的是

- A. 20 世纪 50 年代，一些新独立的民族国家发起了不结盟运动
- B. 1979 年，联合国大会通过了《消除对妇女一切形式歧视公约》
- C. 20 世纪 90 年代以来，互联网在全球迅速普及
- D. 2010 年，中国经济总量位居世界第二，对世界格局产生重大影响

第二部分

本部分共 4 题，共 40 分。

21. (10 分) 棉花及棉布是人类有史以来最重要的产品之一。

材料一 两汉时期，棉花便已在西域落户。虽然此地种植的系通过印度或阿拉伯传来的非洲棉(草棉)，纤维质量较差，但这种棉耐干旱，适于河西走廊以至陕甘地区种植。唐宋以后，棉花在西北广大地区逐渐推广。

——摘编自殷晴《西域经济——对新疆开发史上若干问题的思考》

- (1) 依据材料一和所学，分析两汉时期棉花在西域得以种植的原因(2 分)并写出这一时期中央政府管理西域设置的机构。(1 分)

材料二 18-19 世纪，棉纺织业成为英国经济的核心。

18-19 世纪英国部分行业占国民经济比重表(百分比)



时间	棉纺织业	钢铁工业	煤炭工业	毛纺织业
1770	2.6			
1801	17			
1831	22.4	6.7	7	14.1

——摘编自[美]贝克特《棉花帝国——一部资本主义全球史》

(2) 依据材料二并结合所学，说出英国棉纺织业发展变化的趋势(1分)和原因。(2分)

材料三 1839年，英国在华散商报告本国棉制品在中国“现在虽然有限，可是因为价格低廉，将来可望增加……它所开辟的英国工业品市场是不可限量的”。在棉纺织利益集团助推下，英国国内的新闻报道也表明了纺织商人的目的并呼吁政府使用政治或者军事力量以保护他们的贸易通往世界市场。

——摘编自杨松《英国棉纺织利益集团对华贸易的介入及其影响》

(3) 依据材料二，说出英国纺织商策划对华战争的目的(1分)并依据所学说出战争的名称、战后签订的条约名称以及其中体现英国纺织商目的的内容。(3分)

22. (11分) 社团指公民自愿组成，为实现会员共同意愿，按照其章程开展活动的社会组织。

材料一 月光社是18世纪中后期由生活在英格兰的科学家、工程师、仪器制造商组成的科学和工艺研究的社团。它是通过技术转化有力推动工业发展的典范，是一个一致努力去发现某位成员的科学发现的实际应用的社团。它带来的广泛社会价值将各种具有启发性的思想和方法更为有效地融入到19世纪之中。它的成员包括博尔顿、瓦特、韦奇伍德、威尔金森等。

1782年，经过反复试验，韦奇伍德在他的陶瓷工厂将 蒸汽抛光机 投入了流水线生产，其瓷器产量大幅提升，成本迅速下降，韦奇伍德的陶瓷器具很快就占据了欧洲市场。	1797年，历经10年迭代，博尔顿的造币厂用 新式冲床 制造钱币，这种冲床以蒸汽为动力，制作的钱币工艺精良而成本低廉。10年时间，博尔顿为英国政府加工了4000吨以上的铜币。
---	--

——摘编自李斌《月光社的历史及其影响》

(1) 依据材料一，分析划线处发明的共同特征(2分)并概括月光社的影响。(2分)

材料二 少年中国学会成立于1919年7月，是当时影响最大、人数最多的进步社团之一。社团畅想的“少年中国”理想图景，堪称丰富多彩。王光祈等人提出“一面工作，一面读书，终身工作，终身读书”的新社会；李大钊提出“到森林村落去从事改造活动，创造新农村”。田汉认为“少年中国”的精神就是和平、平等、自由、博爱的精神；张申府公开提出：“吾想创造的少年中国，乃是无产阶级的少年中国”。

——摘编自李永春《五四时期“少年中国”理想探析》

(2) 依据材料二，概括“少年中国”理想图景的模式(2分)并依据所学分析它的思想基础。(2分)

材料三 以下是北京某校历史社团开展“抚今追昔”校园历史文化节的一日活动安排



项目	内容
第一项	开幕——特色表演：古筝、琵琶、二胡
第二项	北京历史文化讲座——
第三项	……
第四项	……

(3) 请你为历史文化节的第二项讲座制订主题并说明选择此项主题的理由。(2分) 并谈谈你对项目设置的构想。(1分)

23. (10分) 报刊是近代社会的主要信息载体之一，在近现代史研究中具有独特的价值。

材料一 近代报刊的发展与主流思想的传播息息相关。

序号	创刊时间	主编	名称	刊载文章
①	1897年	严复	《国闻报》	《论世变之亟》
②	1910年	宋教仁	《民立报》	《武汉大风云》
③	1941年	杨松	《解放日报》	《列宁论群众观点》


(1) 依据材料一，回答如下问题(写序号)：(3分)

宣传马克思主义思想为主的是

宣传资产阶级革命思想为主的是

宣传维新派思想为主的是

材料二

			
①1949年10月1日，《人民日报》刊载中央人民政府成立相关文章。	②1950年6月26日，《人民日报》报道了朝鲜战争的爆发。	③1950年6月30日，《人民日报》上刊登的《中华人民共和国土地改革法》。	④1953年1月1日，《人民日报》发表社论，宣布：今年将开始执行国家建设的第一个五年计划。



⑤1955年4月15日《人民报》报道：周恩来总理率领我国代表团出席亚非会议。	⑥1956年，《新湖南报》刊发图片专版庆祝社会主义改造的伟大胜利。	⑦1978年12月24日，《人民日报》第一版刊发党的十一届三中全会公报。	⑧1979年8月8日的《安徽日报》，头版报道了小岗村“大包干”事迹。

(2) 材料二属于新中国外交成就的是_____ (写序号) (1分) 试再举一例说明新中国外交成就。(1分)

史事的发生都有其前因后果。从材料二中选择两则报道，参照示例，对其所反映史事的因果关系进行说明。(示例除外) (5分)

示例：

选择：报纸④⑥。

④：1953-1957年，第一个五年计划完成。我国开始改变工业落后的面貌，向社会主义工业化迈进。



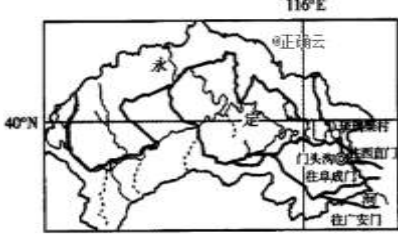
⑥：1956年，对农业、手工业、资本主义工商业的社会主义改造的完成，实现了生产资料私有制向社会主义公有制的转变。我国从此进入社会主义初级阶段。

三大改造使得原本分散、落后、低效率的生产方式得到了改善，为工业化提供了更多的原材料和市场需求，促进了工业化的顺利进行。

24. (9分) 门头沟区琉璃渠村窑火的兴衰，始终和北京城市发展有着密切联系。

【皇家官窑】

材料一

 <p>①辽三彩琉璃坐式菩萨像</p>	 <p>②北宋“寿昌五年”款的三彩瓷片 (正、反面)</p>	 <p>③门头沟区琉璃渠村地理位置及其周边地区示意图</p>
<p>④琉璃渠村位于北京西边门头沟区九龙山的北坡，早在一千年前的辽代，琉璃渠一带就已经开始生产</p>		



极为精美的琉璃制品（见右图）。这里出产的黑色页岩，粉碎后称为坭子土，坭子土含铁量少，烧制琉璃成胚后色泽月白，不会影响釉色呈现，是制作琉璃最好的原材料，其它地区的坭子土难以与之媲美。门头沟地区有优质的煤炭资源可供烧窑，方便运输，也便于管理。

——摘自北京日报《京西的皇商 天下的琉璃》

(1) 依据材料一，说出属于实物史料的类型（写序号）（2分）并归纳琉璃渠村烧制琉璃的有利条件。（2分）

【陷入困境】

材料二 2001年，北京市琉璃制品厂经企业改制后更名为北京明珠琉璃制品有限公司。但在市场需求萎缩之下，公司的经营出现困难。琉璃烧制工作艰苦，工资待遇也不高，让技艺传承出现了后继无人的危机。另外，坭子土需要开山采集，古法烧窑使用的是煤炭和木柴，无论是采石开山，还是烧窑时产生的烟尘，都与环境保护要求相冲突。2013年，在为故宫大修工程烧制最后一批琉璃后，老窑厂停产。

——摘自新京报《门头沟皇家琉璃 七百六十年窑火重燃记》

(2) 根据材料二，分析导致老窑厂停产的因素。（2分）

【窑火重燃】

材料三

按照北京“四个中心”功能定位，结合西山永定河文化带规划，今年2月24日，焕新升级的金隅琉璃文化创意产业园举行了窑火重燃仪式。不同于一般的城市更新项目，园区以“保护性更新”为主线，保护传承非遗琉璃烧制技艺。新建了生产厂房，将现代技术与古法技术结合，完美融合了传统与工业风格，打造集非遗文化交流及展览、非遗研学、特色餐饮、民宿、文创办公于一体的综合性文化园。



——摘自北京市规划和自然资源委员会微信公众号

(3) 根据材料五，概括琉璃文化创意产业园的项目特点。（2分）结合自身学习生活，为琉璃文化传承与保护提出一条合理建议。（1分）

参考答案



第一部分：选择题（每小题 1.5 分，共 30 分）

题号	1	2	3	4	5	6	7	8	9	10
选项	B	D	B	A	B	B	C	C	C	D
题号	11	12	13	14	15	16	17	18	19	20
选项	D	A	A	B	D	C	A	A	C	D

第二部分：非选择题（21 题 10 分, 22 题 11 分, 23 题 10 分, 24 题 9 分, 共 40 分）

21.（共 10 分）

(1) 原因：丝绸之路的开辟；西域气候适宜耕种棉花（2 分）（答出任意一点即可得 1 分，共 2 分）

机构：西域都护府（1 分）

(2) 趋势：棉纺织业占比不断增加；至 1831 年在国民经济中占比最高。（答出任意一点即可得 1 分，共 1 分）

原因：工业革命的影响。君主立宪制的确立，英国资本主义迅速发展，国内外市场不断扩大。英国通过海外殖民获得大量的资本原始积累。（答出任意一点即可得 1 分，共 2 分）

(3) 目的：为了倾销商品，掠夺原料，打开中国市场（答出任意一点即可得 1 分，共 1 分）

鸦片战争；《南京条约》；五口通商和关税协定最能体现其目的。（答出任意一点即可得 1 分，共 3 分）

22.（共 11 分）

(1) 特征：以蒸汽为动力；给工厂带来巨大利益；经过反复实验取得成功（答出任意一点即可得 1 分，共 2 分）

影响：推动了工业革命的发展；提高了技术发明转化为工厂效益的速率；促进了各领域之间的技术交流。（答出任意一点即可得 1 分，共 2 分）

(2) 模式：以工读生活为主的新社会；以农村为中心的村落社会；民主主义的中国；社会主义的国家（答出任意一点即可得 1 分，共 2 分）

思想基础：新文化运动提倡的民主、科学；马克思主义思想；五四运动的爱国思想（答出任意一点即可得 1 分，共 2 分）

(3) 主题：故宫里隐藏的秘密；理由：故宫坐落于首都北京，是明清两代的皇家宫殿，体现了皇权的至高无上，其内部构造更是蕴含了丰富的历史文化。（主题、理由各 1 分，答出任意一点即可得 1 分，共 2 分）

构想：符合题意，即可得分。（1 分）

23.（共 10 分）

(1) ③；②；①（多答、错答、漏答不得分，共 3 分）

(2) 外交成就：⑤；举例：1971 年，中国恢复在联合国的合法权利等（答出任意一点即可得 1 分，共 2 分）



示例 1：选择：①、②

分数	材料运用与论述（共 5 分）
5-4	能够对材料中两个史实做出正确、具体的分析或评判，阐明因果关系，做到史论结合，论述完整，逻辑严密，语言规范。
3-2	能够运用材料中的史实做出具体的分析或评判，但因果关系阐释不充分，论述不够完整，语言不够规范。
1-0	仅重复或列举材料中的史实，未对史实作出正确、具体的分析或评判，未阐明史实间的因果关系，论述不完整，语言不规范。

①：1949 年 10 月 1 日，中华人民共和国成立，开辟了中国历史的新纪元。中国人民推翻了帝国主义、封建主义、官僚资本主义的统治；中国真正成为独立自主的国家；新中国的成立，壮大了世界和平民主和社会主义的力量。

②：1950-1953 年的抗美援朝战争，中朝军队联手，打破了美军不可战胜的神话。

抗美援朝战争捍卫了新中国安全，保卫了中国人民和平民主的生活，提高了我国的国际地位。

示例 2：选择：⑦、⑧

⑦：1978 年，十一届三中全会召开，这次会议作出把党和国家工作重心转移到经济建设上来，实行改革开放的历史性决策。这次会议是新中国成立以来党的历史上具有深远意义的伟大转折，开启了改革开放和社会主义现代化建设新时期。

⑧：改革开放后，在我国农村地区实行家庭联产承包责任制。家庭联产承包责任制的实行，激发了农民的劳动热情，带来农村生产力的大解放，农业生产和农民收入均有很大提高。

改革开放政策包括对内改革和对外开放，其中对内改革的经济体制改革先从农村的家庭联产承包责任制开始。

24. （共 9 分）

（1）实物史料：①、②（多答、错答、漏答不得分，共 3 分）

有利条件：①盛产坭子土，原料充足；②水源充沛；③煤炭资源丰富；④交通便利。（答出任意一点即可得 1 分，共 2 分）

（2）因素：①市场需求萎缩；②技艺传承人不足；③与环保理念相冲突。（答出任意一点即可得 1 分，共 2 分）

（3）特点：①以“保护性更新”为主线，保护传承非遗琉璃烧制技艺；②将现代技术与古法技术结合；③功能多样，具有综合性。（答出任意一点即可得 1 分，共 2 分）

建议：符合题意即可得分（共 1 分）