

2024 北京顺义初三一模

历史

考生须知：

1. 本试卷共 8 页，共两部分、共 24 题，满分 70 分。考试时间 70 分钟，2. 在答题卡上准确填写学校、班级、姓名和准考证号，
3. 试题答案一律填涂或书写在答题卡上，在试卷上作答无效。
4. 在答题卡上，选择题用 2B 铅笔作答，其他试题用黑色字迹签字笔作答。
5. 考试结束后，将答题卡交回。

第一部分

本部分共 20 题，每题 1.5 分，共 30 分。在每题列出的四个选项中，选出最符合题目要求的一项。

1. 下列考古发现中，能够用于研究中国原始农耕生活的是（ ）



A. ①②

B. ①③

C. ②③

D. ③④

2. 战国时期，由于生产工具和技术的进步，推动社会结构发生了重大变化；各诸侯国统治者寄希望于实行改革来确定新的政治经济秩序，以求富国强兵。以上内容可以说明（ ）

A. 早期国家的产生

B. 铁器牛耕出现的原因

C. 商鞅变法的背景

D. 秦国完成统一的过程

3. 以下分别是秦始皇和汉武帝实行的统治措施(部分)。其共同点是（ ）

秦始皇	汉武帝
命李斯等人统一文字，制定笔画规整的小篆，作为通用文字颁行全国	接受董仲舒的建议，把儒家学说立为正统思想；在长安兴办太学

A. 加强国家对思想文化的管理

B. 打击了豪强地主势力

C. 改变了以往币制混乱的状况

D. 便利了各地交通往来

4. 某同学在整理两汉时期的笔记时出现了“蔡伦改进造纸术”“张仲景与《伤寒杂病论》”“华佗发明‘麻沸散’”等内容。按其整理的主题还可以补充的有（ ）

A. 王羲之作《兰亭集序》

B. 司马迁撰写《史记》

C. 毕昇发明活字印刷术

D. 宋应星著《天工开物》

5. 魏晋南北朝时期，在相互接触中，北方原有民族格局被打乱，民族间差异逐渐缩小。各民族间相互学习，形成了民族交融的高潮，为新的统一局面的出现奠定了基础。其意在说明（ ）

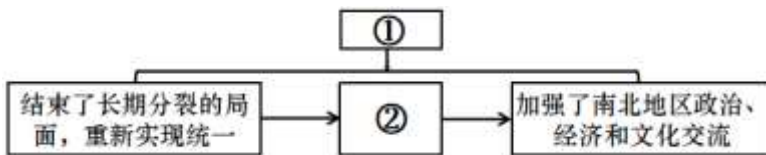
A. 丝绸之路是古代东西方的大动脉

B. 赤壁之战为三国鼎立局面奠基

C. 南朝时形成了大规模的人口迁徙

D. 民族交融为隋唐发展创造条件

6. 以下是某朝代的知识结构示意图。填入①②处的应是（ ）



A. 战国修建都江堰

B. 秦朝修建长城

C. 隋朝开通大运河

D. 明朝修建北京城

7. 有文章指出：“九品中正之弊致成贵族政治，矫之以科举，而后贡选考试机会均等……庶民之优秀者，亦得与贵族均享政权。”这表明科举制度（ ）

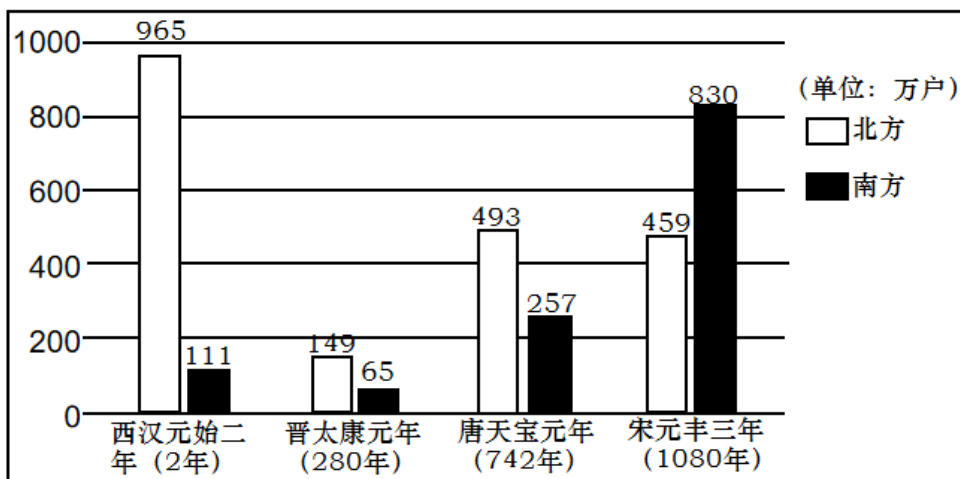
A. 扩大了官吏的选拔范围

B. 选拔权由上层权贵垄断

C. 扭转了尚武轻文的风气

D. 严格规定考试文体格式

8. 下侧《西汉至宋代南北方户数变化图》反映了（ ）



A. 民族政权的并立

B. 对外交往的频繁

C. 政治制度的完善

D. 经济重心的南移

9. 某同学用时间轴的形式梳理了中国古代某一地区的相关史实。填入方框里的内容应是（ ）



- A. 设置西域都护
B. 设置宣政院
C. 设置台湾府
D. 设置伊犁将军

10. 近代随着列强的入侵，中国逐步沦为半殖民地半封建社会。下表反映的现象是（ ）

时间	条约	内容
1842 年	《南京条约》	开放广州、福州、厦门、宁波、上海五处为通商口岸
1858 年	《天津条约》	增开汉口、南京等十处为通商口岸
1895 年	《马关条约》	开放沙市、重庆、苏州、杭州为商埠
1901 年	《辛丑条约》	划定北京东交民巷为使馆界，允许各国派兵驻守

- A. 列强侵占了我国大量的领土
B. 中国的赔款金额逐渐增加
C. 列强侵略势力逐渐深入腹地
D. 列强掀起瓜分中国的狂潮

11. 下面所示是中国近代某一刊物上发表过的文章及作者。该刊物是（ ）

1917 年陈独秀《复辟与尊孔》
1917 年胡适《文学改良刍议》
1918 年鲁迅《狂人日记》
1918 年李大钊《庶民的胜利》

- A. 《申报》
B. 《时务报》
C. 《民报》
D. 《新青年》

12. 以下歌曲在 20 世纪三四十年代响彻中华大地，汇成时代的最强音。这里的“时代最强音”指的是（ ）

时间	歌曲名称	歌词(部分)
1934 年	《毕业歌》	同学们，大家起来，担负起天下的兴亡！
1939 年	《黄河大合唱》	保卫家乡！保卫黄河！保卫华北！保卫全中国！
1943 年	《团结就是力量》	向着法西斯蒂开火，让一切不民主的制度死亡，

- A. 自强求富
B. 变法图强
C. 走向共和
D. 抗日救亡

13. 中国共产党历来重视农民、农业和农村问题。如图体现的历史事件的共同之处是（ ）



图1 解放战争时期解放区农民在分到的土地上插界标



图2 《中华人民共和国土地改革法》受到广大农民的热烈拥护

- A. 保障了解放战争的胜利
- B. 解放了农村生产力
- C. 实现了社会主义工业化
- D. 确立了土地公有制

14. 1955年，周恩来在国际会议中进行了精彩发言，强调“求同”而不是“立异”，主张不同思想意识和制度的存在并不妨碍求同和团结。这次会议（ ）

- A. 促使中国提出和平共处五项原则
- B. 加强了中国与亚非各国的团结合作
- C. 推动了中美关系走向正常化
- D. 推动了中国全方位外交格局的建立

15. 某学习小组摘录了斯塔夫里阿诺斯在《全球通史》中的一段话：“1500年以前，人类基本上生活在彼此隔绝的地区中……直到1500年前后，各种族集团之间才第一次有了直接交往。从那时起，他们才终于联系在一起。”据此判断其学习的主题是（ ）

- A. 郑和下西洋的背景
- B. 新航路开辟的影响
- C. 日本明治维新的措施
- D. 经济大危机的表现

16. 1689年《权利法案》基本上是重申英国人“自古就有的权利”，比如议会必须定期召开，征税权属于议会等。从表面上看似乎没什么新意，但事实上却是政体制度上的一次革命。材料中“政体制度上的一次革命”指（ ）

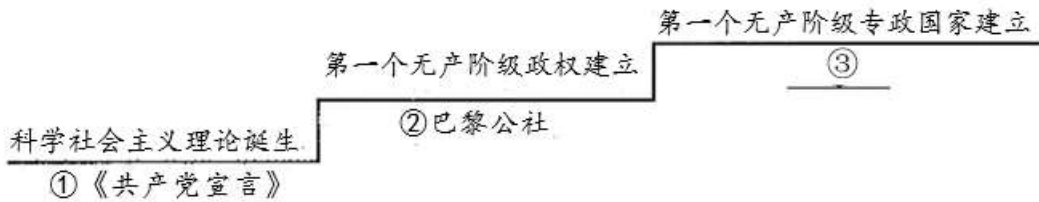
- A. 君主立宪制逐渐形成
- B. 君主制度彻底废除
- C. 民主共和制正式确立
- D. 福利政策广泛推行

17. 某校的历史展览中出现了以下内容。由此可知其展览的主题为（ ）

玻利瓦尔和圣马丁领导南美洲独立运动 19世纪初	甘地领导印度非暴力不合作运动 20世纪二三十年代	利比亚、埃及、阿尔及利亚等国相继独立 20世纪五六十年代
----------------------------	-----------------------------	---------------------------------

- A. 中世纪城市的兴起
- B. 亚非拉民族解放运动的发展
- C. 资本主义制度的扩展
- D. 欧洲一体化的趋势不断加强

18. 以下是国际共产主义运动发展示意图，其中③处的内容是（ ）



- A. 彼得一世改革
- B. 亚历山大二世改革
- C. 俄国十月革命
- D. 新经济政策

19. 1942年1月，美、英、苏、中等26个国家的代表在华盛顿签署了一份文件，以下列举了其中部分内容。据此判断，该文件的发表（ ）

(一) 每一政府各自保证对与各该政府作战的三国同盟成员国及其附从者使用其全部资源，不论军事的或经济的

(二) 每一政府各自保证与本宣言签字国政府合作，并不与敌人缔结单独停战协定或和约

- A. 使欧洲冷战对峙的局面基本形成
- B. 标志世界反法西斯同盟建立
- C. 标志着新的国际组织联合国成立
- D. 促进了全球贸易和经济发展

20. 习近平总书记强调：“认识世界发展大势，跟上时代潮流，是一个极为重要并且常做常新的课题”。20世纪至今，世界政治格局出现了三次大的演变，按其形成的先后顺序排列正确的是（ ）




- ①多极化趋势 ②凡尔赛-华盛顿体系 ③两极格局
- A. ①②③
 - B. ①③②
 - C. ②③①
 - D. ③①②

第二部分

本部分共4题，共40分。

21. 展览：历史见证·创新发展

材料一

故宫博物院瓷器展(部分)		
 <p>(商) 原始瓷青釉弦纹罐</p>	 <p>(宋) 汝窑天青釉三足樽承盘</p>	 <p>(元) 青花釉里红镂雕盖罐</p>
商代社会发展，手工业进步。原始青瓷制作过程中已开始使用瓷	宋代经济繁荣，瓷器制造业蓬勃发展。宋代瓷器造型丰富，刻	元代实现了大一统，贸易往来频繁。元朝对工匠的重视激发

<p>土和拉胚技术，但是其烧成温度比瓷器低，器物造型不甚规整，釉色不稳定。在烧造工艺上与真正的瓷器相比还具有一定的原始性</p>	<p>花、印花等技术以及青色、白色等单色瓷器不断发明，特别是天青色烧制所需瓷土规格较高，窑温控制比较精确，釉彩杂质很少</p>	<p>了制瓷的创造力。与此同时景德镇制瓷业高度发达。烧制青花釉里红瓷器需要精确控制窑温和烧制时间，釉料极其纯净</p>
--	---	---

(1) 依据材料一，指出中国古代瓷器艺术风格的变化。说说其变化的原因。

材料二

		
<p>①中世纪晚期，西欧农民使用重犁，生产力发展，产品推向市场</p>	<p>②1776年《独立宣言》签署，号召殖民地人民反对英国的殖民统治</p>	<p>③达·芬奇作品《蒙娜丽莎》以现实人物为主题，展现了生命的活力</p>
		
<p>④1765年以后，英国利用《印花税》等新税法加大对殖民地的剥削</p>	<p>⑤1789年7月14日，巴黎人民攻占了象征国王统治的巴士底狱</p>	<p>⑥1789年制宪议会颁布《人权宣言》，宣告法律面前人人平等</p>

(2) 史事的发生都有其前因后果。从材料二中选择两件展品，参照示例，对其所反映史事的因果关系进行说明。(示例组合除外)

示例：①③

中世纪晚期，西欧农民使用重犁，促进了生产力的发展，出现了资本主义萌芽。

达·芬奇创作的《蒙娜丽莎》，以现实人物为主题，是文艺复兴时期的绘画代表作品。欧洲资本主义经济的萌芽，使得形成中的资产阶级不满罗马教廷的精神控制，提倡发扬人的个性，人文主义思潮逐渐流行，文艺复兴运动兴起。

材料三 在北京的中轴线北延长线东侧，一座永久性、综合性的党史展览馆巍然矗立。按照习近平总

书记重要指示，展览把握住“守正”和“创新”的关系，既突出大气耐看，同时创造新体验。其展览运用数字化等技术和手段，研究设计体验式、沉浸式、互动式的项目。例如，“4D+6面”全景影院立体直观还原历史场景；《飞越中国》项目让体验者在驾驶舱中飞越革命圣地；通过炼钢炉造型艺术装置结合液晶屏幕上钢水流动的动画视频，展示新中国成立初期各项建设取得的若干个“第一”。这些项目让人们在观展中获得全方位的感受，丰富展览的观赏性和参与性，提高艺术水准和品位。

——摘编自新华社《壮丽的史诗，精神的殿堂》

(3) 依据材料三，谈谈你对“展览数字化”的认识。

接续奋斗中书写中华民族新的辉煌

材料一 【探寻思想之源】

<p>政之急者，莫大乎使民富且寿也。 ——《孔子家语》</p> <p>治国有常，而利民为本。 ——《淮南子》</p> <p>无产阶级的运动是绝大多数人的，为绝大多数人谋利益的独立的运动。 ——《共产党宣言》</p>	<p>中国共产党是为人民服务的。 ——毛泽东</p> <p>我们要增加我们的国民收入，使人民生活一步步好起来。 ——邓小平</p> <p>中国共产党必须把人民放在心中最高位置。 ——习近平</p>
---	--

(1) 依据材料一并结合所学，指出中国共产党执政理念的思想来源及核心内涵。

材料二 【践行初心使命】

决议名称	背景	内容(部分)
《关于若干历史问题的决议》(1945年)	诞生于抗日战争即将胜利、夺取新民主主义革命胜利的关键时期	为实现新民主主义而进行的二十四年的奋斗中，我们党始终一贯地领导了广大的中国人民，进行了艰苦卓绝的革命斗争，取得了伟大的成绩和丰富的经验……在以毛泽东同志为首的中央的正确领导之下，必将使中国革命达到彻底的胜利
《关于建国以来党的若干历史问题的决议》(1981年)	形成于解放思想、拨乱反正的历史转折中	中国共产党在中华人民共和国成立以后的历史，总的说来，是我们党在马克思列宁主义、毛泽东思想指导下，领导全国各族人民进行社会主义革命和社会主义建设并取得巨大成就的历史。社会主义制度的建立，是我国今后一切进步和发展的基础
《中共中央关于党的百年奋斗重大成就和历史经验的决议》	形成于“两个一百年”奋斗目标交汇的关键节点	党的十八大以来，以习近平同志为核心的党中央领导全党全军全国各族人民砥砺前行，全面建成小康社会目标如期实现，党心军心民心空前凝聚振奋，为实现中华民族伟大

议》 (2021 年)	复兴提供了更为完善的制度保证、更为坚实的物质基础、更为主动的精神力量
----------------	------------------------------------

(2) 依据材料二，从背景和内容的角度概括三个决议的共同点。结合所学，参照示例，从以下所给的事件中任选其一，说明中国共产党为推进中华民族的伟大复兴所做的努力。(示例除外)

- ①建立井冈山革命根据地 ②红军长征 ③百团大战 ④抗美援朝 ⑤十一届三中全会

示例：中国共产党在井冈山建立农村革命根据地，领导人民打土豪、分田地，建立革命政权，开展了土地革命和游击战争，从进攻大城市转向进军农村，是中国革命具有决定意义的新起点，推动了中华民族的伟大复兴。

材料三 【贡献中国力量】

2013 年以来，中国已与 150 多个国家、30 多个国际组织签署了 230 多份共建“一带一路”合作文件。形成了 3000 多个合作项目，成立了 20 多个专业领域多边合作平台。




截至 2023 年，中国共派出维和人员 5 万多人次，赴 20 多个国家和地区参加近 30 项联合国维和行动，先后有 25 名中国维和人员献出宝贵生命。

中国积极参与应对气候变化全球治理。截至 2023 年 11 月，中国已与 40 个发展中国家签署 48 份气候变化南南合作谅解备忘录，通过合作建设低碳示范区、开展减缓和适应气候变化项目、组织能力建设培训等方式，为其他发展中国家提供务实支持。

(3) 依据材料三，指出中国为世界发展所作的贡献。结合所学，说说中国向世界传达的理念。



23. 车轮上的历史

材料一

		
<p>①西周青铜轮牙马车</p>	<p>②秦始皇陵出土的铜车马</p>	<p>③元代黑陶马车</p>
<p>该车车轮外沿由青铜铸造。据车轮上的痕迹判断，该车代表某种西周高等级贵族的礼制。关于这种礼制，有史书记载：天子驾六马，诸侯驾四，大夫三，士二，庶人一。</p>	<p>这种车子古代叫作安车，是秦始皇出巡时乘坐的车。秦始皇曾东巡，经邯鄲郡、常山郡、广阳郡，进入今北京地区，到达蓟城</p>	<p>该车造型精美，整体规整，充满了生活气息，丰富了交通运输史资料。元朝为便利交通运输，建立驿站，不仅远至云南、辽阳行省，甚至直通国外</p>

(1) 依据材料一，概括中国古代车马的主要功能。结合所学，任选一件文物，说明与之相关的政治制度名称及其影响。

材料二

	
1885 年内燃机驱动的德国“奔驰 1 号”汽车	1913 年美国福特汽车公司生产流水线

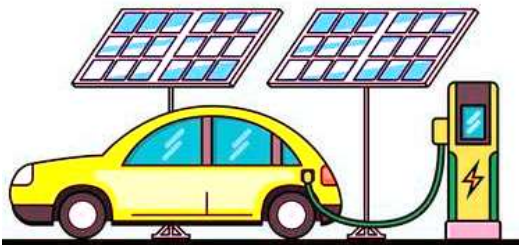
(2) 依据材料二并结合所学，判断以上发明成果出现在_____ (写字母) 结合相关史实，从不同角度说明判断理由。

- A. 第一次工业革命时期 B. 第二次工业革命时期

材料三 新质生产力是指新的高水平的现代化生产力，具有高科技、高效能、高质量、可持续等特点。

2021—2023 年我国新能源汽车产销表

时间	产量(万辆)	销量(万辆)	国内市场占有率
2021 年	367.7	299	13.4%
2022 年	700.3	688.7	25.6%
2023 年	958.7	949.5	31.6%



全球一半以上的新能源汽车行驶在中国大地上，60%以上的动力电池都是由中国生产供应。新能源汽车的普及有助于减少传统燃油车对环境的污染，提高空气质量。人们对于环保、科技的追求，推动着整个汽车产业向着更为可持续、智能化的方向发展。

(3) 依据材料三，说出我国新能源汽车的发展状况。谈谈新能源汽车与新质生产力的关系。

24. 探寻历史文脉·走进北京非遗

材料一 北京景泰蓝技艺——因成熟于明景泰年间而得名。其制作需要经过十几道工艺，体现了中国传统工艺门类之间的相互学习、借鉴，是研究中国工艺史的鲜活材料。景泰蓝制品经常被作为国礼馈赠外宾，是中国与世界人民友谊的见证。

京剧——清乾隆年间，四大徽班进京，与来自湖北的汉调艺人合作，接受昆曲、秦腔的表演方法，吸收地方民间曲调，最终形成京剧。京剧分布地以北京为中心，遍及全国并走向世界，成为传播中华优秀传统文化的媒介

杨镇龙灯——顺义杨镇龙灯会距今已有 200 多年的历史，最初是庙会活动。后来，逐渐变为娱乐乡亲，增加节日气氛的活动。但龙灯会的舞龙技法、套路、伴奏的鼓谱仍沿袭前代，只是表演形式稍做变动，以适应民间表演需要。

(1) 依据材料一，任选一项非物质文化遗产，从历史或现实角度说明其价值。

材料二



(2) 依据材料二，概括同仁堂的发展变化。结合所学，分析影响其变化的因素。

材料三 作为六朝古都，北京不仅拥有故宫、颐和园等闻名世界的物质文化遗产，更有着曲艺、工艺美术、传统医药、民俗等璀璨的非物质文化遗产。这些宝贵的历史文化资源使北京有了自己独特的文化符号，有了可供挖掘的历史文化金矿。新时代新征程上，开展与加强非物质文化遗产的保护与传承工作，是北京坚持和强化首都作为全国政治中心、文化中心、国际交往中心、科技创新中心的核心功能，实施建设“国际中心城市”战略的重要内容和举措，是巩固连接北京市民情感的纽带，保持了北京乃至中国文化的多样性。

——摘编自《北京非物质文化遗产巡礼：北京市级》

(3) 依据材料三，分析非物质文化遗产在北京城市发展中的作用。结合所学，请你从国家和个人两个角度，针对北京非物质文化遗产的保护与传承提出合理建议。

参考答案

第一部分

本部分共 20 题，每题 1.5 分，共 30 分。在每题列出的四个选项中，选出最符合题目要求的一项。

1. 【答案】A

【详解】根据题干信息“研究中国原始农耕生活”及图片，结合所学知识可知，炭化的稻粒表明当时农业已经有了初步的发展，骨耜是河姆渡原始居民使用于翻土的农业工具，故图①、图②符合题意，A 项正确；打制石器是旧石器时代人们使用的工具，当时还没有产生原始农业，图③不符合题意，BCD 项都包含③，排除 BCD 项。故选 A 项。

2. 【答案】C

【详解】根据所学知识可知，战国时期，由于生产工具和技术的进步，推动社会结构发生了重大变化；各诸侯国统治者寄希望于实行改革来确定新的政治经济秩序，以求富国强兵，因此公元前 356 年，秦孝公任用商鞅进行变法，C 项正确；夏商周属于早期国家的产生，排除 A 项；社会生产力的发展是铁器牛耕出现的原因，排除 B 项；公元前 230 年至 221 年，秦国灭掉六国，完成统一，排除 D 项。故选 C 项。

3. 【答案】A

【详解】根据题干“秦始皇命李斯等人统一文字，制定笔画规整的小篆，作为通用文字颁行全国”“汉武帝接受董仲舒的建议，把儒家学说立为正统思想；在长安兴办太学”可知秦始皇和汉武帝都加强国家对思想文化的管理，A 项正确；汉武帝设立了刺史制度打击了豪强地主势力，排除 B 项；秦朝时期统一使用的圆形方孔钱改变了以往币制混乱的状况，排除 C 项；秦驰道的修建便利了各地交通往来，排除 D 项。故选 A 项。

4. 【答案】B

【详解】根据题干“两汉时期的笔记”并结合所学知识可知，西汉时期的司马迁是我国古代伟大的史学家，他经过十多年的刻苦努力，终于编成了《史记》，B 项正确；王羲之生活在东晋时期，毕昇发明活字印刷术发生在北宋，宋应星著《天工开物》发生在明朝，均与题干“两汉时期”不符，排除 ACD 项。故选 B 项。

5. 【答案】D

【详解】根据题干“魏晋南北朝时期”“各民族间相互学习，形成了民族交融的高潮，为新的统一局面的出现奠定了基础”结合所学可知，结束魏晋南北朝分裂局面实现国家统一的是隋唐时期，由题干可知民族交融为隋唐发展创造条件，D 项正确；丝绸之路是在西汉时期开辟，排除 A 项；赤壁之战是东汉末年，排除 B 项；西晋时期形成了第一次大规模的人口迁徙高潮，排除 C 项。故选 D 项。

6. 【答案】C

【详解】分析题干知识结构示意图并结合选项设计可知，①处应填入朝代，②处应填入工程名称。结合所学知识可知，589 年，隋文帝灭掉陈朝，统一全国，隋的统一，结束了长期分裂的局面，顺应了统一多民族国家的历史发展大趋势。为了加强南北交通，巩固隋王朝对全国的统治，隋炀帝利用已有的经济实力，征发几百万人，从 605 年起，陆续开凿了一条贯通南北的大运河。大运河的开通，加强了南北地区政治、

经济和文化交流。据此可知，①处应填写“隋朝”，②处应填写“开通大运河”，C项正确；春秋战国时期是我国历史上一个大分裂时期，与①处不符，排除A项；秦朝修筑长城的目的主要是为了防御北方游牧民族的骚扰，与②处不符，排除B项；明朝之前的元朝是一个统一的王朝，与①处不符，排除D项。故选C项。

7. 【答案】A

【详解】阅读题干“矫之以科举，而后贡选考试机会均等……庶民之优秀者，亦得与贵族均享政权”可知，科举制实行之后，平民中的优秀者，也得以进入仕途，参与政治，这说明科举制注重人的才能，实行机会均等原则，从而扩大了官吏的选拔范围，A项正确；从“九品中正之弊致成贵族政治，矫之以科举”可知，九品中正制造成贵族垄断政权的局面，因此，B项不符合题意，排除B项；宋朝实行重文轻武政策，扭转了五代十国时期尚武轻文的风气，排除C项；材料也没有涉及考试的答题文体，排除D项。故选A项。

8. 【答案】D

【详解】根据题干“《西汉至宋代南北方户数变化图》”可知，从西汉至南宋，北方和南方人口户数的变化呈现北方减少，而南方大量增加，直至南方超过北方。结合所学知识可知，最初是由于北方战乱，导致北人南迁，进而促进江南地区经济的发展，加上江南战乱少，南方人口超过北方，经济重心最终南移，D项符合题意；民族政权的并立主要体现的是不同政权之间的关系，与题干反映的人口变化无关，排除A项；题干反映的是人口的变化，与对外交往没有关系，排除B项；人口的变化无法体现政治制度的完善，排除C项。故选D项。

9. 【答案】C

【详解】根据题干“孙权派卫温到达夷洲”“隋炀帝派人三赴流求”“设置澎湖巡检司”均反映的是我国古代对台湾地区的管辖。清朝时期设置台湾府，加强了对台湾地区的管辖，C项正确；设置西域都护在西汉时期，管辖今新疆地区，排除A项；元朝设置宣政院管辖西藏地区，排除B项；清朝设置伊犁将军，管辖新疆地区，排除D项。故选C项。

10. 【答案】C

【详解】根据所学知识，由题干材料“1842年《南京条约》，开放广州、福州、厦门、宁波、上海五处为通商口岸”“1858年《天津条约》增开汉口、南京等十处为通商口岸”“1895年《马关条约》开放沙市、重庆、苏州，杭州为商埠”“1901年《辛丑条约》划定北京东交民巷为使馆界，允许各国派兵驻守”可知，材料体现西方列强的侵略势力不断深入中国腹地，C项正确；材料体现西方列强的侵略势力不断深入中国腹地，未体现近代西方列强侵占中国的领土和主权，排除A项；材料体现西方列强的侵略势力不断深入中国腹地，未涉及中国的赔款，排除B项；《马关条约》签订后，西方列强掀起了瓜分中国的狂潮，与题干材料不符，排除D项。故选C项。

11. 【答案】D

【详解】根据题干图示信息可知，该刊物的作者有胡适、陈独秀、鲁迅、李大钊。结合所学知识可知，材料展现的文章属于新文化运动时期的代表作。1915年陈独秀在上海创办《青年杂志》（后改名为《新青年》），正式吹响了新文化运动的号角，新文化运动的代表人物有陈独秀、胡适、李大钊、鲁迅等，由此推断该刊物应该是《新青年》，D项正确；1872年在上海创办的《申报》是近代中国存在时间最长的中文报

纸，与新文化运动时间不相符，排除 A 项；《时务报》是维新人士创办宣传变法思想的刊物，排除 B 项；《民报》是同盟会的机关刊物，排除 C 项。故选 D 项。

12. 【答案】D

【详解】根据题干表格信息“1934 年”“1939 年”“1943 年”“同学们，大家起来，担负起天下的兴亡！”“保卫家乡！保卫黄河！保卫华北！保卫全中国！”“向着法西斯蒂开火，让一切不民主的制度死亡”结合所学可知，1931 年日本制造九一八事变后发动侵华战争，从此中国人民走上了反抗日本侵略的道路，题干歌曲反映的就是中国人民反抗日本侵略的史实，D 项正确；自强求富是洋务运动的口号，排除 A 项；变法图强是戊戌变法时期的思想主张，排除 B 项；走向共和与辛亥革命有关，排除 C 项。故选 D 项。

13. 【答案】B

【详解】根据图片信息“图 1 解放战争时期解放区农民在分到的土地上插界标”，“图 2《中华人民共和国土地改革法》受到广大农民的热烈拥护”，结合所学知识可知，图 1，1947 年，中国共产党颁布《中国土地法大纲》规定，没收地主土地，废除封建剥削的土地制度，实行耕者有其田，按照农村人口平均分配土地；解放区的土地改革历时一年多顺利完成，激发了农民革命和生产的积极性，为人解放战争的胜利提供了重要的人力、物力保障。图 2，1950 年，在新解放区，中央人民政府颁布《中华人民共和国土地改革法》实行土地改革，1952 年底的土地改革的完成，彻底摧毁了我国存在 2000 多年的封建土地制度，消灭了地主阶级；农民翻了身，得到了土地，成为土地的主人，这使人民政权更加巩固，也大大解放了农村生产力。因此材料体现的历史事件的共同之处是解放了农村生产力，B 项正确；保障了解放战争的胜利，与图 1 解放战争时期解放区土地改革相关，排除 A 项；实现了社会主义工业化，与图 1 图 2 土地改革内容不符，土地改革完成，为国家的工业化建设准备了条件，排除 C 项；确立了土地公有制，与图 1 图 2 土地改革内容不符，与三大改造相关，排除 D 项。故选 B 项。

14. 【答案】B

【详解】根据所学知识可知，万隆会议期间周恩来提出“求同存异”的方针，促进了会议的圆满成功。中国代表团还积极开展会外交往，与很多国家的代表团举行会晤，加强了同亚非各国的团结与合作，B 项正确；1953 年底，周恩来在接见印度代表团时，首次提出和平共处五项原则，排除 A 项；尼克松访华中美签署《联合公报》推动了中美关系走向正常化，排除 C 项；改革开放的推进推动了中国全方位外交格局的建立，排除 D 项。故选 B 项。

15. 【答案】B

【详解】由题干中的“直到 1500 年前后，各种族集团之间才第一次有了直接交往。从那时起，他们才终于联系在一起。”，结合所学知识可知，新航路开辟以后，欧洲与亚洲、非洲、美洲之间建立起了直接的商业联系，往来日益密切。世界开始连成一个整体，世界的观念也从此逐步确立起来，B 项正确；郑和下西洋是 1405—1433 年，比欧洲航海家远洋航行早了半个多世纪，所以不可能是郑和下西洋的背景，排除 A 项；日本明治维新是 1868 年，与题干时间不符，排除 C 项；1929 年，经济大危机席卷了整个资本主义世界，与题干时间不符，排除 D 项。故选 B 项。

16. 【答案】A

【详解】根据题干“1689 年《权利法案》”“但事实上却是政体制度上的一次革命”结合所学可知，英国以

《权利法案》为基础，确立了议会在国家政治生活中的最高地位，逐渐形成了君主立宪制，A项正确；英国君主立宪制依然有君主存在，并没有彻底废除，排除B项；英国建立君主立宪制而不是民主共和制，排除C项；20世纪中期福利政策在欧美国家广泛推行，排除D项。故选A项。

17. 【答案】B

【详解】根据所学知识可知，玻利瓦尔和圣马丁是南美解放运动的领袖，非暴力不合作运动是甘地领导的反抗英国殖民统治的运动，阿尔及利亚人民等国相继独立体现了非洲反抗殖民统治的胜利，所以，这组展览反映的主题应该是亚非拉国家的民族解放运动，B项正确；西欧中世纪城市是指10—15世纪西欧诸国新兴的城市，与题干时间不符，排除A项；“资本主义制度的扩展”出现的历史时期是在十九世纪六七十年代，与题干时间不符，排除C项；题干内容没有涉及欧洲地区，排除D项。故选B项。

18. 【答案】C

【详解】根据所学知识可知，俄国十月社会主义革命是人类历史上第一次获得胜利的社会主义革命，世界上第一个无产阶级专政的社会主义国家由此诞生。因此，③处的内容是俄国十月革命，C项正确；彼得一世改革使俄国的封建中央集权制度得到进一步强化，亚历山大二世改革使俄国走上了发展资本主义的道路，均与题干“国际共产主义运动”不符，排除AB项；新经济政策是运用商品市场关系来发展经济，与题干③处信息不符，排除D项。故选C项。

19. 【答案】B

【详解】根据题干“1942年1月，美、英、苏、中等26个国家的代表在华盛顿签署了一份文件”结合所学可知，1942年美英苏中等26个国家签署了《联合国家宣言》，标志着世界反法西斯同盟形成，B项正确；德国分裂使欧洲冷战对峙的局面基本形成，排除A项；1945年《联合国宪章》的签订标志着新的国际组织联合国成立，排除C项；世界贸易组织促进了全球贸易和经济发展，排除D项。故选B项。

20. 【答案】C

【详解】结合所学可知，一战后，列强通过召开巴黎和会和华盛顿会议，形成了凡尔赛——华盛顿体系；二战后，美苏由战时同盟走向分裂，实行冷战政策，北约和华约的建立，标志着两极格局的形成；1991年，苏联解体，两极格局终结，世界出现“一超多强”局面，世界向多极化加速发展。按时间先后顺序排列为：②③①，C项正确；ABD项顺序错误，排除ABD项。故选C项。

第二部分

本部分共4题，共40分。

21. 【答案】(1) 变化：造型由不甚规整到丰富多样，技术由简单到复杂，釉色由不稳定到纯净；原因：社会经济的发展，手工业技术的进步；政治统一，贸易往来频繁；对工匠的重视，激发了创造力；制瓷业中心的发展和技术的传承与创新。

(2) 展品说明：②⑤：1776年《独立宣言》的签署，号召殖民地人民反对英国的殖民统治，这激发了北美人民的反抗意识。1789年7月14日，巴黎人民攻占巴士底狱，标志着法国大革命的爆发，这也是对封建统治的有力冲击。④⑥：1765年以后，英国利用新税法加大对殖民地的剥削，这导致了殖民地人民与英国之间的矛盾激化。1789年制宪议会颁布《人权宣言》，宣告法律面前人人平等，这反映了法国大革命对自由、平等思想的追求，也是对英国殖民统治的一种回应。

(3) 认识：展览数字化是一种创新的展示方式，能让人们在观展中获得全方位的感受，丰富展览的观赏性和参与性，提高艺术水准和品位，有助于更好地传播历史文化，让人们更深入地了解 and 铭记历史。

【小问 1 详解】

变化：根据材料一“原始青瓷制作过程中已开始使用瓷土和拉胚技术，但是其烧成温度比瓷器低，器物造型不甚规整，釉色不稳定”“烧制青花釉里红瓷器需要精确控制窑温和烧制时间，釉料极其纯净”可概括出古代瓷器艺术风格的变化是造型由不甚规整到丰富多样，技术由简单到复杂，釉色由不稳定到纯净；原因：根据材料一“商代社会发展，手工业进步”“宋代经济繁荣，瓷器制造业蓬勃发展”“元代实现了大一统，贸易往来频繁。元朝对工匠的重视激发了制瓷的创造力。与此同时景德镇制瓷业高度发达。”可分析出中国古代瓷器艺术风格的变化原因是社会经济的发展，手工业技术的进步；政治统一，贸易往来频繁；对工匠的重视，激发了创造力；制瓷业中心的发展和技术的传承与创新。

【小问 2 详解】

展品说明：先从材料二中选择两件展品，然后参照示例，对所选展品所反映史事的因果关系进行说明。如，②⑤：1776 年《独立宣言》的签署，号召殖民地人民反对英国的殖民统治，这激发了北美人民的反抗意识。1789 年 7 月 14 日，巴黎人民攻占巴士底狱，标志着法国大革命的爆发，这也是对封建统治的有力冲击；④⑥：1765 年以后，英国利用新税法加大对殖民地的剥削，这导致了殖民地人民与英国之间的矛盾激化。1789 年制宪议会颁布《人权宣言》，宣告法律面前人人平等，这反映了法国大革命对自由、平等思想的追求，也是对英国殖民统治的一种回应。

【小问 3 详解】

认识：根据材料三“其展览运用数字化等技术和手段，研究设计体验式、沉浸式、互动式的项目”“这些项目让人们在观展中获得全方位的感受，丰富展览的观赏性和参与性，提高艺术水准和品位”等信息可得出如下认识：展览数字化是一种创新的展示方式，能让人们在观展中获得全方位的感受，丰富展览的观赏性和参与性，提高艺术水准和品位，有助于更好地传播历史文化，让人们更深入地了解 and 铭记历史。

22. 【答案】(1) 思想来源：古人的“以民为本”的思想；核心内涵：以人民为中心。

(2) 共同点：三次会议都形成于中国共产党百年历史的重大节点和转折关头、三个决议都加强了全党的团结，为推进党和国家事业发展提供了行动指南。

努力：党的十一届三中全会以后，以邓小平同志为主要代表的中国共产党人，深刻总结我国社会主义建设正反两方面经验，创立了邓小平理论，作出把党和国家工作中心转移到经济建设上来、实行改革开放的历史性决策。党的十八大以来，创立了习近平新时代中国特色社会主义思想，确立了“两个一百年”奋斗目标，深入实施“一带一路”建设，为中国与世界和平、发展做出了卓越的贡献，为推进中华民族伟大复兴贡献了中国智慧、中国力量。

(3) 贡献：与世界各国加强多边合作；维护世界和平；积极参与应对气候变化全球治理。

理念：构建人类命运共同体。

【小问 1 详解】

思想来源：根据材料一“政之急者，莫大乎使民富且寿也。”“治国有常，而利民为本。”“无产阶级的运动是绝大多数人的，为绝大多数人谋利益的独立的运动。”和所学可知，中国共产党执政理念的思想来

源是古人的“以民为本”的思想。

核心内涵：根据材料一“中国共产党是为人民服务的。”“我们要增加我们的国民收入，使人民的生活一步步好起来。”“中国共产党必须把人民放在心中最高位置。”和所学可知，中国共产党执政理念的核心内涵是以人民为中心。

【小问 2 详解】

共同点：依据材料二中三个决议的背景和内容，结合所学知识可知，三次议都形成于中国共产党百年历史的重大节点和转折关头、三个决议都加强了全党的团结，为推进党和国家事业发展提供了行动指南。

努力：依据事件“⑤十一届三中全会”并结合所学可知，党的十一届三中全会以后，以邓小平同志为主要代表的中国共产党人，深刻总结我国社会主义建设正反两方面经验，创立了邓小平理论，作出把党和国家工作中心转移到经济建设上来、实行改革开放的历史性决策。党的十八大以来，创立了习近平新时代中国特色社会主义思想，确立了“两个一百年”奋斗目标，深入实施“一带一路”建设，为中国与世界和平、发展做出了卓越的贡献，为推进中华民族的伟大复兴贡献了中国智慧、中国力量。

【小问 3 详解】

贡献：根据材料三“2013 年以来，中国已与 150 多个国家、30 多个国际组织签署了 230 多份共建‘一带一路’合作文件。形成了 3000 多个合作项目，成立了 20 多个专业领域多边合作平台。”可以看出中国与世界各国加强多边合作；根据材料三“截至 2023 年，中国共派出维和人员 5 万多人次，赴 20 多个国家和地区参加近 30 项联合国维和行动，先后有 25 名中国维和人员献出宝贵生命。”和所学可知，中国为维护世界和平贡献力量；根据材料三“中国积极参与应对气候变化全球治理。”和所学可知，中国积极参与应对气候变化全球治理。

理念：根据材料三信息和所学知识可知，中国向世界传达的理念是携手构建人类命运共同体。

23. 【答案】(1) 功能：身份地位的象征；出行工具；运输工具。

制度及影响：①分封制；保证了周王朝对地方的控制，稳定了政局，扩大了统治范围。②郡县制；开创了此后我国历代王朝地方行政的基本模式。③行省制度；加强了中央对地方行政和军事控制，行省制度在历史上影响深远，明清以后继续沿用。

(2) B；理由：发明的时间、内燃机、流水线生产。

(3) 状况：新能源汽车产量、销量不断增加；国内市场占有率不断上升。

关系：相互促进。

【小问 1 详解】

功能：根据材料一“该车代表某种西周高等级贵族的礼制。”可知，古代车马是身份地位的象征；根据材料一“这种车子古代叫作安车，是秦始皇出巡时乘坐的车。”可知，古代车马是出行工具；根据材料一“该车造型精美，整体规整，充满了生活气息，丰富了交通运输史资料。”可知，古代车马是运输工具。

制度及影响：①根据材料一“有史书记载：天子驾六马，诸侯驾四，大夫三，士二，庶人一。”结合所学可知，材料反映的是西周的分封制。分封制的实行保证了周王朝对地方的控制，稳定了政局，扩大了统治范围。②：根据材料一“秦始皇曾东巡，经邯鄲郡、常山郡、广阳郡，进入今北京地区，到达蓟城”结合所学可知，材料反映的是秦朝的郡县制。秦朝时期实行郡县制，郡县的长官由中央直接任命。郡县制开创

了此后我国历代王朝地方行政的基本模式。③根据材料一“元朝为便利交通运输，建立驿站，不仅远至云南、辽阳行省，甚至直通国外”结合所学可知，材料反映的是元朝的行省制度。元朝的行省制度，加强了中央对地方行政和军事控制，行省制度在历史上影响深远，明清以后继续沿用。

【小问2详解】

时期：根据材料二“汽车”“生产流水线”结合所学可知，汽车、流水线生产汽车是第二次工业革命的成就。故空白处选B。

理由：结合所学可知，19世纪六七十年代，第二次工业革命兴起，内燃机驱动的汽车，福特公司利用流水线生产汽车都是这一时期的成果。因此，可以从发明的时间、内燃机、流水线生产等角度进行说明。

【小问3详解】

状况：根据材料三“2021—2023年我国新能源汽车产销表”可知，从2021—2023年，我国的新能源汽车的产量和销量逐年增加；国内市场占有率逐年提升。

关系：根据材料三“新质生产力是指新的高水平的现代化生产力，具有高科技、高效能、高质量、可持续等特点。”及“全球一半以上的新能源汽车行驶在中国大地上，60%以上的动力电池都是由中国生产供应。新能源汽车的普及有助于减少传统燃油车对环境的污染，提高空气质量。人们对于环保、科技的追求，推动着整个汽车产业向着更为可持续、智能化的方向发展。”可知，新质生产力促进了新能源汽车的发展，新能源汽车的发展也推动着新质生产力的发展。二者是相互促进的关系。

24.【答案】(1) 示例一：选景泰蓝工艺。价值：景泰蓝作为一门手工业技术，是研究中国工艺史的鲜活材料，而且景泰蓝制品经常被作为国礼馈赠外宾，是中国与世界人民友谊的见证。

示例二：选京剧。价值：京剧是中国的国粹之一，属于非物质文化遗产，现如今京剧遍及全国并走向世界，成为传播中华优秀传统文化的媒介。

示例三：选杨镇龙灯。价值：杨镇龙灯会是古老的传统民俗文化活动，其历史悠久、文化积淀深厚，挖掘保护杨镇龙灯会对于丰富民众娱乐生活也具有重要意义。(任选一个即可)

(2) 变化：由只有丸、散、膏丹传统剂型向中药片剂转变；由濒临破产到获得实质性发展；由为清宫服务到为大众服务，实行公私合营。

因素：国家对资本主义工商业进行社会主义改造；实行改革开放，进行经济体制改革。

(3) 作用：丰富了北京的文化历史资源，有利于打造自己的名牌；连接市民情感的纽带，有利于保护文化的多样性。

建议：国家应该出台相关的法律，加强对非物质文化遗产的保护；培养非物质文化遗产传承人；加大对非物质文化遗产的宣传力度；保存非物质文化遗产的文字、音像资料等。

【小问1详解】

示例一：选景泰蓝工艺。价值：根据材料一“其制作需要经过十几道工艺，体现了中国传统工艺门类之间的相互学习、借鉴，是研究中国工艺史的鲜活材料。景泰蓝制品经常被作为国礼馈赠外宾，是中国与世界人民友谊的见证”分析可得出，景泰蓝作为一门手工业技术，是研究中国工艺史的鲜活材料，而且景泰蓝制品经常被作为国礼馈赠外宾，是中国与世界人民友谊的见证。

示例二：选京剧。价值：根据材料一“京剧分布地以北京为中心，遍及全国并走向世界，成为传播中华优

秀传统文化的媒介”并结合所学京剧相关知识可知，京剧是中国的国粹之一，属于非物质文化遗产，现如今京剧遍及全国并走向世界，成为传播中华优秀传统文化的媒介。

示例三：选杨镇龙灯。价值：根据材料一“杨镇龙灯——顺义杨镇龙灯会距今已有 200 多年的历史，……只是表演形式稍做变动，以适应民间表演需要”并结合所学知识可知，杨镇龙灯会是古老的传统民俗文化活动，其历史悠久、文化积淀深厚，挖掘保护杨镇龙灯会对于丰富民众娱乐生活也具有重要意义。（任选一个即可）

【小问 2 详解】

变化：根据材料二“同仁堂研制生产了中国第一批中药片剂，结束了中药只有丸、散、膏丹传统剂型的历史，开创了先河”可得出，由只有丸、散、膏丹传统剂型向中药片剂转变；根据材料一“同仁堂药铺由乐氏四房实行共管。解放前夕，同仁堂设备陈旧，铺务管理陷入困境已到了濒临破产的地步”和“商务部认定中国北京同仁堂(集团)有限责任公司为首批“中华老字号”，“同仁堂中医药化”入选首批国家级非物质文化遗产代表性名录”可得出由濒临破产到获得实质性发展；根据材料一“同仁堂开始为清宫供御药”和“同仁堂顺应历史潮流，带头进行公私合营”可得出由为清宫服务到为大众服务，实行公私合营。

因素：根据材料二涉及的时间点“1953 年”“1954 年”“公私合营”并结合所学三大改造的内容可知，因素是国家对资本主义工商业进行社会主义改造；根据材料一“首批马德里商标注册”“有限责任公司”并结合所学改革开放的相关知识进行分析，可得出因素是国家实行改革开放，进行经济体制改革。

【小问 3 详解】

作用：根据材料三“这些宝贵的历史文化资源使北京有了自己独特的文化符号，有了可供挖掘的历史文化金矿”可得出丰富了北京的文化历史资源，有利于打造自己的名牌；根据材料三“是巩固连接北京市民情感的纽带，保持了北京乃至中国文化的多样性。”可得出是连接市民情感的纽带，有利于保护文化的多样性。

建议：结合非物质文化遗产保护的相关知识，从出台法律、培养继承人、宣传、保存资料等角度进行分析。例如国家应该出台相关的法律，加强对非物质文化遗产的保护；培养非物质文化遗产传承人；加大对非物质文化遗产的宣传力度；保存非物质文化遗产的文字、音像资料等。