

# 北京市平谷区 2024 年学业水平考试统一练习 (一)

## 历史试卷

2024. 4

注  
意  
事  
项

1. 本试卷共 8 页，包括两部分，24 道题。满分 70 分。考试时间 70 分钟。
2. 在答题卡上准确填写学校名称、班级和姓名。
3. 试题答案一律填涂或书写在答题卡上，在试卷上作答无效。
4. 在答题卡上，选择题用 2B 铅笔作答，其他试题用黑色字迹签字笔作答。
5. 考试结束，请将试卷和答题卡一并交回。

### 第一部分 选择题 (共 30 分)

本部分共 20 题，每题 1.5 分，共 30 分。在每题列出的四个选项中，选出最符合题目要求的一项。

1. 右侧是《中国原始农耕时代重要遗址分布示意图》(局部)，参观①处遗址可以看到

- A. 北京人使用的石器
- B. 河姆渡遗址出土的稻谷
- C. 装饰人面鱼纹图案的彩陶盆
- D. 春秋战国时期的铁制农具



2. 夏、商、西周时期创造了灿烂的文明。下列各项中能代表商朝文明的是
- |       |       |       |       |
|-------|-------|-------|-------|
| ①青铜器  | ②甲骨文  | ③禅让制  | ④百家争鸣 |
| A. ①② | B. ①③ | C. ②③ | D. ③④ |
3. 《齐民要术》中记载了许多胡食及制作方法，如胡羹，食材上使用了胡人的原料，融入了汉人特有的烹饪方法，去除腥味令其更加美味。该材料表明当时的饮食体现了
- |         |         |         |         |
|---------|---------|---------|---------|
| A. 科技进步 | B. 中外交流 | C. 民族交融 | D. 经济发展 |
|---------|---------|---------|---------|
4. 右图为北周时从西域传入的“鎏金银壶”，出土于宁夏固原。经考证，该壶是西亚的工艺品，壶身由六个浮雕人物图像构成，讲述了古希腊神话故事。该文物可用来说明
- |               |               |               |               |
|---------------|---------------|---------------|---------------|
| A. 北周青铜制造工艺高超 | B. 北周时开辟了丝绸之路 | C. 固原是丝绸之路的起点 | D. 欧亚大陆上文化的交流 |
|---------------|---------------|---------------|---------------|
5. 钱穆在《国史新论》中说：“唐代制度，在下有……为政府公开选拔人才；在上有……综合管理全国行政事务。这两种制度，奠定了中国传统政治后一千年的稳固基础。”材料中“公开选拔人才”的制度是指
- |        |        |          |        |
|--------|--------|----------|--------|
| A. 分封制 | B. 科举制 | C. 三省六部制 | D. 行省制 |
|--------|--------|----------|--------|



姓名

班级

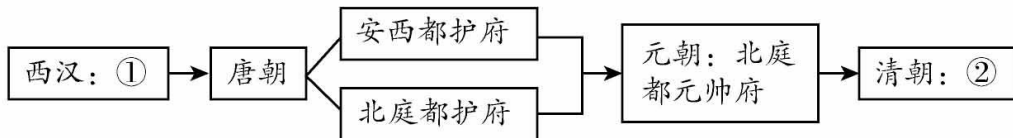
学校

6. 两宋时期，我国经济重心逐渐完成由北向南的转移。其有力的依据是

- ①长江下游和太湖流域成为全国举足轻重的丰饶粮仓
- ②南方的纺织业、制瓷业、造船业胜过北方
- ③北方的契丹、党项、女真等民族政权强势崛起
- ④广州、泉州是闻名世界的大商港

A. ①②③                      B. ②③④                      C. ①②④                      D. ①③④

7. 新疆自古以来是中国领土不可分割的一部分。根据图中信息，①②处应是



- A. 西域都护 驻藏大臣                      B. 宣政院 西域都护
- C. 西域都护 伊犁将军                      D. 宣政院 驻藏大臣

8. 依据下面知识卡内容可知

1843年，英国获得领事裁判权、片面最惠国待遇等  
 1858年，外国商船和军舰可以在长江各口岸自由航行  
 1895年，允许日本在通商口岸开设工厂

- A. 列强不断获得大量战争赔款                      B. 西方列强在华特权不断扩大
- C. 中国人民不断反抗列强侵略                      D. 中国完全沦为半殖民地社会

9. 五四运动，以彻底反帝反封建的革命性、追求救国强国真理的进步性、各族各界群众积极参与的广泛性，推动了中国社会进步，为新的革命力量、革命文化、革命斗争登上历史舞台创造了条件。新的“革命力量”、“革命斗争”分别是指

- A. 革命党人 旧民主主义革命                      B. 维新派 人民解放战争
- C. 工人阶级 新民主主义革命                      D. 工农联盟 社会主义改造

10. 下面是中国共产党奋斗历程的某一阶段。符合此阶段描述的是



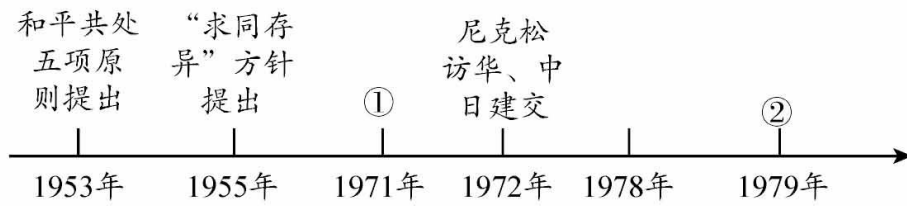
- A. 开天辟地，腥风血雨                      B. 燎原星火，战略转移
- C. 同仇敌忾，共赴国难                      D. 命运抉择，日月新天

11. 下表是某同学整理的知识点。序号处可填入的是

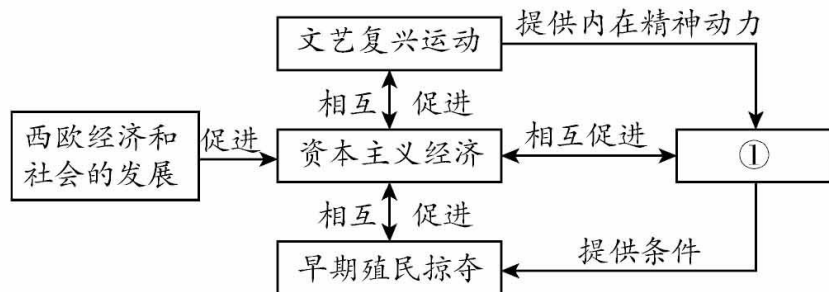
①	②	③
1954年第一届全国人民代表大会召开	1965年西藏自治区	1999年澳门特别行政区

- A. 对外开放 民族区域自治制度 “一国两制”
- B. 对外开放 “一国两制” 民族区域自治制度
- C. 民族区域自治制度 “一国两制” 对外开放
- D. 人民代表大会制度 民族区域自治制度 “一国两制”

12. 1950年11月，中国政府特别代表伍修权在联合国安理会上发言指出：“自从美国政府发动侵略朝鲜战争以来，侵犯我国领空、毁坏中国财产、杀害中国人民……美国第七舰队侵入台湾海峡……”材料表明中国人民志愿军在1950年入朝作战的原因是
- A. 维护朝鲜民主主义共和国的安全      B. 反抗侵略，维护世界和平  
C. 捍卫我国的安全、领土完整      D. 通过对抗美国提高中国的国际威望
13. 建国以后，我国外交取得了一系列成就，补全下列时间轴①②处内容



- A. 中国恢复在联合国合法席位 加入世界贸易组织  
B. 亚太经济合作组织 中国恢复在联合国合法席位  
C. 中国恢复在联合国合法席位 中美建交  
D. 加入世界贸易组织 中美建交
14. 以下是一位同学绘制的某单元的知识结构示意图，其中①处应为



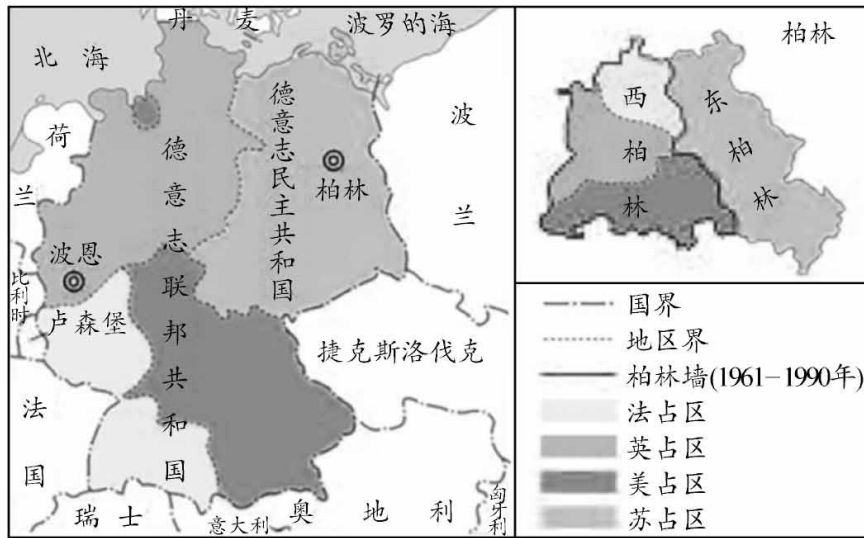
- A. 租地农场      B. 手工工场      C. 探寻新航路      D. “三角贸易”
15. 1689年，英国颁布《权利法案》，逐步确立君主立宪制；1787年美国宪法依据分权制衡原则设计了一个联邦制共和国；1804年，法国颁布《拿破仑法典》以巩固法国大革命成果。这反映了
- A. 资本主义经济出现萌芽      B. 资本主义制度初步确立  
C. 资本主义经济逐步发展      D. 资本主义制度达到完美
16. 在《共产党宣言》的影响下，1864年，欧洲各国工人建立国际工人协会，史称“第一国际”，1871年巴黎公社成立，随后的俄国十月革命、中国的新民主主义革命等相继展开。这表明马克思主义诞生
- A. 只适合欧洲的无产阶级革命      B. 是无产阶级革命经验的总结  
C. 只适合中俄两国的暴力革命      D. 推动世界无产阶级革命运动
17. 20世纪二三十年代，苏俄实施新经济政策和美国推行罗斯福新政。二者相同点包括
- ①都面临着极为困难的经济形势  
②都改变了本国原有社会制度  
③都根据国家发展的实际，灵活调整经济政策  
④都促进了本国经济的恢复和发展
- A. ①②③      B. ①②④      C. ②③④      D. ①③④
18. 2024年是第一次世界大战爆发110周年，第二次世界大战全面爆发85周年。以下表述正确的是
- ①两次世界大战都是世界人民反法西斯战争      ②飞机和坦克在第一次世界大战中投入使用



③斯大林格勒战役是第二次世界大战的转折点      ④两次世界大战都是规模空前的浩劫

- A. ①②③      B. ②③④      C. ①③④      D. ①②④

19. 对下面示意图解读正确的是



四国分区占领德国示意图

- A. 分区占领德国，标志两极格局形成      B. 冷战阴云笼罩，造成分裂与对抗  
C. 美苏大国争霸，促使西欧走向联合      D. 欧洲政局动荡，热战冲突加剧

20. 以下主题和史实对应正确的是


选项	主题	史实
A	两次工业革命时期的世界	美国内战 欧洲经济共同体成立
B	两次世界大战之间的世界	巴黎和会 马歇尔计划
C	第二次世界大战后，亚非拉国家的新发展	印度非暴力不合作运动 万隆会议
D	走向和平发展的世界	联合国的成立 世界贸易组织成立

## 第二部分 综合题 (共 40 分)

本部分共 4 题，共 40 分。请用黑色字迹签字笔在答题卡上各题的答题区域内作答，在试卷上作答无效。

21. (11 分) 阅读材料，回答问题。

材料一



①《天工开物》插图



②《汉代讲经图》



③《清明上河图》(局部)



④《五世达赖觐见顺治皇帝图》



(1) 将材料一中绘画作品按所属的历史时期进行排序：\_\_\_\_\_ → \_\_\_\_\_ → \_\_\_\_\_ → \_\_\_\_\_。(2分，写序号)

### 材料二

	<p>左图绘画作品再现了“一大”代表们准备启航时的动态瞬间。毛泽东位于构图中心位置。天空浓云密布，与远处东方曙光形成鲜明对比，烘托出 ① 这一开天辟地的大事变。</p>
	<p>左图绘画作品再现毛泽东面对国民党的黑暗统治，1927年9月毅然高举“工农革命军”的旗帜，与国民党反动派进行坚决斗争。之后在10月毛泽东率领起义部队到达 ② 。</p>
	<p>左图绘画作品展现了中共历史上一次重要会议的场景。毛泽东位于画面偏左侧的位置，这次会议开始确立以毛泽东为主要代表的马克思主义正确路线在中共中央的领导地位。绘画展现的会议是 ③ 。</p>

(2) 材料二中的三幅绘画作品是毛泽东领导新民主主义革命光辉历程的部分掠影。将① - ③补充完整。(3分) 任选一幅绘画作品，结合所学说出其反映史事的历史意义。(2分)

### 材料三

	<p>图1绘画作品透出安详、和谐、协调的恬静之美，将一个普通的人绘成了现实生活中的理想之光，呈现出惊艳的光辉。</p>
<p>图1 《少年人》意大利画家帕米贾尼诺 1525 年作</p>	
	<p>图2绘画作品反映了19世纪上半期英国童工在煤矿中劳动的场景。资本家以比成年男性工人更低的工资雇佣童工。煤矿的巷道非常狭小，生产条件非常恶劣，劳动强度也非常高。</p>
<p>图2 在英国煤矿中工作的童工 (绘画作品)</p>	

(3) 依据材料三，指出两幅绘画作品分别呈现了儿童怎样的形象或状态。(2分) 结合所学，分析上述绘画作品所反映的时代背景。(2分)

22. (11分) 阅读材料, 回答问题。

**材料一** 近五十年来, 中国人渐渐知道自己的不足了。第一期, 先从器物上感觉不足。第二期, 是从制度上感觉不足。……所希望的件件都落空, 渐渐有点废然思返, 要拿旧心理运用新制度, 决计不可能。

——梁启超《五十年中国进化概论》(1922年)

- (1) 依据材料一并结合所学, 指出梁启超归纳的第一期、第二期探索的史实。(2分)  
总结这一时期近代化探索中的历史教训。(1分)

**材料二**

<p>日本的最高领导阶层, 以岩仓为首的, 访问欧美的这样一个代表团, 最后用的是始惊、次醉、终狂三个词来概括, 我觉得是非常准确的。始惊就是他们到了欧美, 看到了西方发达的文物制度以后, 那种吃惊的程度; 次醉就是陶醉在西方这种先进的物质文明和精神文明之中; 终狂就是下决心发疯似地学习西方一系列的文物制度, 要使日本跟西方一样。</p> <p>——摘编自《大国崛起》解说词</p>	<p>克里米亚战争的失败, 使俄国人又一次体会到自己同欧洲强国之间的差距。知识界、工商界甚至包括一些身居要职的官员, 都纷纷起来指责影响工业化进程的农奴制度。在社会的巨大压力下, 在俄国施行了近五个世纪的农奴制被废除了。农奴制的改革为俄国的工业发展提供了大量的劳动力和广阔的市场。</p> <p>——摘编自斯塔夫里阿诺斯《全球通史》</p>
--	--

- (2) 依据材料二并结合所学, 说出反映日本和俄国近代化过程中的历史事件。(2分)  
比较两国近代化过程中的相同之处。(2分)

**材料三**

 <p>①1978年12月, 中共十一届三中全会在北京召开</p>	 <p>②1980年, 中央决定在深圳建立经济特区</p>	 <p>③1984年中华人民共和国成立35周年国庆游行时的标语“联产承包好”</p>	 <p>④1984年10月, 中共十二届三中全会通过了《中共中央关于经济体制改革的决定》, 要求加快以城市为重点的经济体制改革的步伐</p>
 <p>⑤1984年11月, 上海飞乐音响公司公开发行人股票, 成为改革开放后上海第一家试行股份制经营的股份有限公司</p>	 <p>⑥1984年12月中英双方签署关于香港问题的联合声明。宣布中华人民共和国政府将于1997年7月1日对香港恢复行使主权</p>	 <p>⑦2012年中国共产党第十八次全国代表大会召开。确定了全面建成小康社会和全面深化改革开放的目标</p>	 <p>⑧2023年11月, 第六届中国国际进口博览会在上海召开。本次进博会, 充分发挥推动高水平开放的平台作用, 让中国大市场成为世界共享的大市场, 助力推动构建开放型世界经济</p>



(3) 依据材料三并结合所学，选择两张照片，参照示例，对其所反映史事的因果关系进行说明。(4分，示例组合除外)

示例：⑦⑧

2012年中国共产党第十八次全国代表大会召开，大会确定了全面深化改革开放的目标，对新的时代条件下推进中国特色社会主义事业做出了全面部署。2023年进博会的举办是中国面向国际社会实施更高层次的对外开放，体现了我国对外开放不断深化。

23. (9分) 阅读材料，回答问题。

材料一 ①汉武帝时将“二十四节气”纳入《太初历》作为指导农事的历法补充。

②中国的火药和火器传入欧洲后，对欧洲的武器制造和作战方式产生巨大影响，推动欧洲社会的变革。

③沈括在《梦溪笔谈》中记载，活字印刷术“若止印三二本，未为简易；若印数十百千本，则极为神速”。

(1) 从材料一中找出能说明下列观点的内容(3分，写序号)

天文历法指导农业生产：\_\_\_\_\_

科学技术促进文化发展：\_\_\_\_\_

中国古代的科技影响世界：\_\_\_\_\_



材料二

中外科技发明成果比较			
时期	科技发明(件)	中国	世界其他国家
1—1500年	157	98	59
1501—1840年	472	19	453

——摘编自罗伯特·坦普尔《中国——发明和发现的国度》

(2) 依据材料二，写出中国科技成就在世界的地位发生了怎样的变化?(1分) 结合所学说出发生这一变化的原因。(2分)

材料三

	<p>①，英国科学家，近代自然科学的奠基人之一。他对光学分析告诉人们，光不再是无色的神秘物质，不再是上帝的住所，而是一个物理现象，是可以研究和分析的。他的这一成就不仅是学术观点方面的革命，也带来了宗教信仰的一场革命。</p> <p>——摘编自何成刚等主编《史学阅读与微课设计》</p>		<p>达尔文，英国生物学家，著有《物种起源》一书，提出了②的观点，打破了千百年来“上帝创造万物”的神创论。</p> <p>——摘编自部编教材《世界历史》九年级下册</p>
--	--	---	---

(3) 依据材料三并结合所学，将①②处补充完整。(2分) 说出两位科学家的成就在近代社会发展中的共同作用。(1分)



24. (9分) 阅读材料, 回答问题。

材料一

		
<p>①克盃铭文拓片 铭文记载, 周王封召公长子克为燕侯, 管理燕地的六支部族, 燕侯制作了克盃来纪念。</p>	<p>②北京建都纪念阙 2003年在金中都遗址上落成。阙是古代宫殿庙宇等前面的专用建筑物, 有装饰和象征的作用。</p>	<p>③元大都和义门瓮城城门 1969年拆除西直门箭楼时发现压在明代箭楼之下的瓮城城门, 门洞内有元至正十八年(1358年)的题记。</p>

(1) 从材料一中选出研究北京城发展史最可信的两则材料: \_\_\_\_\_。(2分, 写序号)

从下列各项中选择一个与材料内容匹配的研究主题\_\_\_\_\_。(1分, 写字母)

- A. 西周分封制的产生与瓦解
- B. 从边陲重镇到全国政治中心
- C. 行省制度的历史沿革

材料二 平谷是北京地区最古老的县。平谷建置于公元前195年, 当时隶属渔阳郡。《汉书·地理志》记载, 渔阳郡有12属县: “渔阳、狐奴、路、雍奴、泉州、平谷、安乐、斥(ti)奚、犷平、要阳、白檀、滑盐。”平谷县为其中之一, 而其它那些县或撤或已无存, 连名字也只有去志书典籍里觅了, 唯独平谷延续至今。

——摘编自柴福善《平谷史话》

(2) 依据材料二, 写出“平谷建置”所反映的地方行政制度的名称并结合所学分析其影响。(2分)

材料三 1669年同仁堂由乐显扬创建, 创业初成, 同仁堂人以“同修仁德, 济世养生”为己任, 讲究“仁心仁术”之道。中华人民共和国成立后, 同仁堂业务逐渐恢复和发展, 1954年8月27日, 随着乐松生在一纸协议上签上姓名, 乐家拥有同仁堂300余年的历史戛然而止。1992年, 同仁堂单独挂牌成立了“中国北京同仁堂集团公司”。1995年初以来, 同仁堂10条生产线通过澳大利亚TGA认证, 为产品进入国际市场奠定了基础, 1998年以后, 同仁堂在世界各地开店22家。

——摘编自杨在军《家族企业长寿之家族因素剖析》等

(3) 依据材料三并结合所学, 指出同仁堂文化理念与中国古代哪一思想学派相吻合。(1分)说出推动同仁堂在1954年转型的历史事件及意义。(2分)写出20世纪90年代以来同仁堂经营模式的改变反映出当今世界经济发展的哪一趋势?(1分)

平谷区 2024 年学业水平考试初三历史学科统一练习（一）（答案及评分参考）

2024. 4

第一部分

本部分共 20 小题，每小题 1.5 分，共 30 分

题目	1	2	3	4	5	6	7	8	9	10
答案	B	A	C	D	B	C	C	B	C	C
题目	11	12	13	14	15	16	17	18	19	20
答案	D	C	C	C	B	D	D	B	B	D

第二部分

本部分共 4 题，共 40 分

21. (11 分)

(1) ②③①④ (2 分)

(2) ①中国共产党成立②井冈山③遵义会议 (3 分)

①中共一大成立的意义：标志着中国共产党的诞生。是中国历史上开天辟地的大事变。自从有了中国共产党，中国革命的面貌就焕然一新了。

②井冈山革命根据地建立的意义：拉开了中国革命从城市转入农村、建立根据地的序幕。

③遵义会议的意义：挽救了党，挽救了红军，挽救了中国革命，是中国共产党历史上一个生死攸关的转折点。任选其一 (2 分)

(3) 图 1: 真实、生动、鲜活等；文艺复兴时期 (2 分)

图 2: 贫穷、悲惨等；工业革命时期 (2 分)

22. (11 分)

(1) 史实：第一期：洋务运动 (1 分)

第二期：戊戌变法；辛亥革命 (1 分)

教训：完全照搬西方模式；没有先进理论指导；没有坚强的领导核心；脱离群众。(1 分)

(2) 事件：日本明治维新；俄国农奴制改革 (2 分)

相同之处：都是自上而下的改革；都实现社会转型（走上资本主义道路）；都保留封建残余；都促进经济发展。(2 分)

(3) ①③1978 年，党的十一届三中全会决定以经济建设为中心，实行改革开放，开启了我国社会主义现代化建设的新时期。随后，改革从农村开始，实行家庭联产承包责任制，带来了农村生产力的大解放，农业生产和农民收入提高，1984 年，国庆游行时打出“联产承包责任好”的标语。

①② 1978 年，党的十一届三中全会决定以经济建设为中心，实行改革开放，开启了我国社会主义现代化建设的新时期。随后，1980 年，深圳经济特区开放，为对外开放积累了经验，推动了对外开放的步伐。

④⑤ 1984 年 10 月，中共十二届三中全会要求加快以城市为重点的经济体制改革，把原来单一的公有制经济，变为公有制为主体，多种所有制经济共同发展。随后，1984 年 11 月，上海第一家股份制经营的股份有限公司成立，体现了国家经济体制改革的决策推动多种所有制经济的发展。(共 4 分，任选两个史实写序号正确得 2 分，史论结合，建立联系，

得 2 分)

23. (9 分)

- (1) 天文历法指导农业生产: ① (1 分)  
科学技术促进文化发展: ③ (1 分)  
中国古代的科技影响世界: ② (1 分)
- (2) 变化: 16 世纪前中国科技发展领先世界其他国家 16 世纪后落后世界其他国家 (1 分)  
原因: 明清时期, 君主专制进一步强化, 为维护集权统治, 在文化上实行专制政策, 禁锢人们的思想, 严重阻碍了科技发展进步。文艺复兴、工业革命等推动科技发展。(2 分)
- (3) ①牛顿; ②进化论; (2 分)  
作用: 打破了宗教神学的禁锢, 促进了自然科学的进步, 解放了思想, 推动近代社会发展。(1 分)

24. (9 分)

- (1) 最可信的两则材料: ①③; (2 分) 研究主题: B。(1 分)
- (2) 郡县制; 影响: 加强了中央集权, 实现了对地方直接有效的管辖; 有利于巩固统一多民族国家。(2 分)
- (3) 儒家; (1 分) 对资本主义工商业的社会主义改造; 意义: 实现了生产资料私有制向社会主义公有制的转变。(2 分) 趋势: 经济全球化趋势 (1 分)