

# 北京市八一学校 2023~2024 学年度第二学期期中试卷

高一 历史

制卷人 李海静 审卷人 李海静

第一部分 选择题（每小题只有一项最符合题目要求。每题 1.5 分，共 60 分）

1. 《大唐西域记》中有这样的记载，“若夫族姓殊者，有四流焉：一曰婆罗门，净行也。”  
“二曰刹帝利，王种也。”“三曰吠舍，商贾也。”“四曰戌陀罗，农人也。”书中记录的是  
A. 西亚的君主制度 B. 埃及的法老制度  
C. 印度的种姓制度 D. 雅典的民主制度

2. 在世界历史上，一般被称为“中古时期”的时间段是

A. 公元前 6-公元 5 世纪 B. 5-15 世纪  
C. 公元前 6-公元 15 世纪 D. 14-17 世纪

3. 右面这幅漫画反映雅典民主制度的特点是

A. 间接民主  
B. 轮番而治  
C. 贵族执政  
D. 直接民主



4. “我的主人啊！臣下乃是我主的仆人，领有采邑的家臣。臣下愿竭忠尽智，不顾生死，一生侍奉我的主人。”在中世纪的欧洲，自称“臣下”者的身份最有可能是

A. 封建农奴 B. 封建贵族 C. 城市市民 D. 基督教徒

5. 罗马法体系最终完成的标志是

A. 习惯法的形成 B. 《十二铜表法》的制定  
C. 公民法的形成 D. 《查士丁尼民法大全》的颁布

6. 中古时期的阿拉伯帝国被誉为“东西方文明交流的桥梁”。古印度发明的数字由其传入欧洲后，逐渐成为全世界通用的数字，被称为

A. 腓尼基字母 B. 希腊字母 C. 罗马数字 D. 阿拉伯数字

7. 在欧洲殖民者入侵之前，美洲曾经创造了灿烂的文明，建立了众多的国家，在南美洲建立的庞大帝国是 A. 玛雅城市国家 B. 阿兹特克文明 C. 马里帝国 D. 印加帝国

8. 古代美洲的印第安人创造了灿烂的文明，独立培育出很多其他大陆没有的农作物。下列农作物的原产地在美洲的是



A. ①② B. ①③ C. ①④ D. ②③

9. 美国历史学家斯塔夫里阿诺斯说：“如果当初火星上有一位观察者，在观察约 1500 年前后的世界，那么，给他印象更深的将是伊斯兰世界而不是基督教世界。”其中“伊斯兰世界”是指  
 A. 拜占庭帝国      B. 奥斯曼帝国      C. 蒙古帝国      D. 阿拉伯帝国

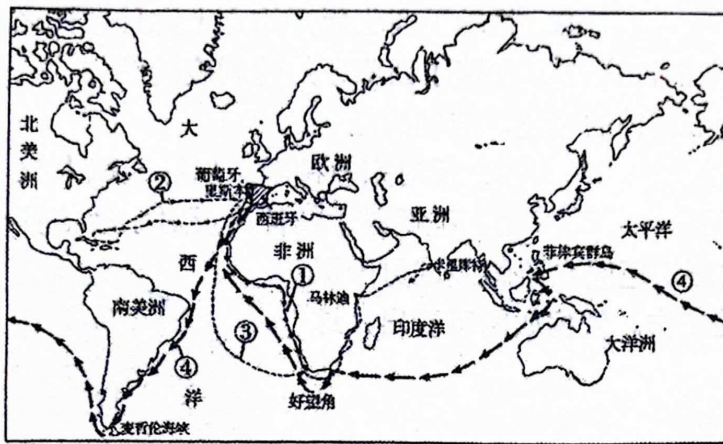
10. \_\_\_\_\_ 使世界各地开始建立广泛的直接联系，推动了世界各地人口的迁移和物种的大交流，在人类历史逐步从分散走向整体的进程中迈出了重要的一步。横线处应填

- A. 丝绸之路的开通      B. 奥斯曼帝国的建立  
 C. 新航路的开辟      D. 工业革命的开展

11. 在新航路开辟过程中，有一位航海家坚信地圆说，他在西班牙王室的支持下，多次横渡大西洋向西航行，虽然没有到达他梦想中的亚洲，但开辟了从欧洲前往美洲的航路。这位航海家是

- A. 迪亚士      B. 达·伽马      C. 哥伦布      D. 麦哲伦

12. 下图中，葡萄牙航海家麦哲伦的航海路线是

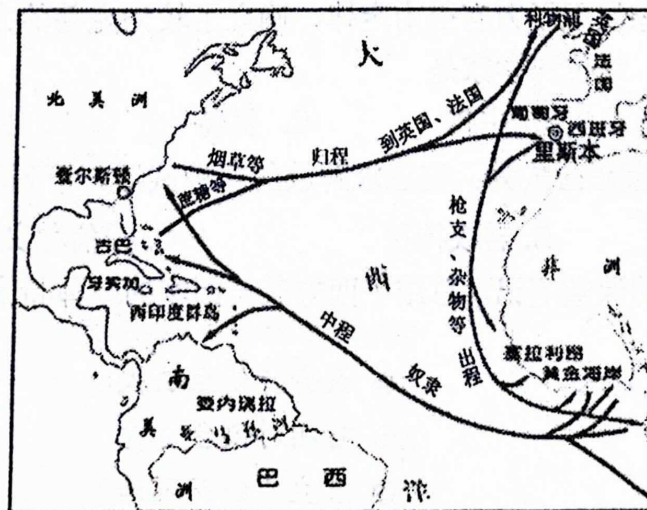


- A. ①      B. ②      C. ③      D. ④

13. 1492 年哥伦布首次航行到美洲大陆。此后，生物、农作物、人种、文化、传染病以及思想观念在东半球与西半球之间流动，史称“哥伦布大交换”。它反映出新航路的开辟

- A. 促使商路和国际贸易中心转移      B. 建立了欧洲对美洲的殖民统治  
 C. 扩大了原产美洲的农作物传播      D. 将各地文明逐渐连成一个整体

14. 观察“三角贸易示意图”，能够推导出来的历史结论是



- ①三角贸易推动了欧洲资本原始积累      ②美国是三角贸易中最大的奴隶贩子  
 ③贩卖黑奴给美洲带去廉价的劳动力      ④奴隶贸易给非洲带来巨大人口损失
- A. ①②③      B. ①②④      C. ①③④      D. ②③④

15. 17 世纪欧洲一书中记载绘制了凤梨、马铃薯、木薯的插图，它反映出新航路的开辟

- A. 促使商路和国际贸易中心转移      B. 促进了洲际间植物的交流  
 C. 为欧洲提供了资本的原始积累      D. 使美洲传统社会遭到灭顶之灾

16. 1518 年底，天花首次在美洲出现，并在其后两百年中多次发作。在 17 世纪的前 3/4 的时间里，新英格兰土著人口的数量从 73 万人下降到 1.2 万人。由此导致

- A. 大量印第安人被屠杀      B. 许多欧洲人移民美洲  
 C. 大量黑人被贩卖到美洲      D. 众多中国人向美洲移民

17. 16 世纪末，西班牙物价平均上涨了四倍多，谷价平均上涨了五倍多。这一现象

- A. 被称为“商业革命”      B. 推动了西班牙开始走上海外殖民之路  
 C. 反映出美洲作物对西班牙农业的冲击      D. 加速了西班牙封建制度的解体

18. 对文艺复兴时期人文主义核心精神的表述，准确的是

- A. 肯定人的价值，强调发展个性      B. 反对宗教神学，倡导天赋人权  
 C. 提倡生而平等，主张民主政治      D. 强调科学精神，反对宗教信仰

19. 文艺复兴时期，众多流派的画坛巨匠在绘画领域勇于探索和创造，为世人留下了不朽的杰作。依据如图可看出，这一时期美术创作的特点是

- A. 以浪漫主义为其主要创作风格  
 B. 以抨击教会腐败为创作主题  
 C. 注重鲜明的色彩和夸张的形式  
 D. 借助宗教题材弘扬人性之美



20. 罗马城内有架“圣梯”，凡人只要爬上去便可赎罪。一天，有人爬到中间，又突然退了下来，旁人问其原因，他说：“只要心中有了信仰，就能赎罪，不必在乎表面的礼仪。”下列主张与此情境相符的是

- A. 因信称义      B. 社会契约      C. 因行称义      D. 天赋人权

21. 近代某位科学家发现了万有引力定律，确立了较为完整的力学体系，为近代物理学的发展奠定了基础。这位科学家是

- A. 哥白尼      B. 牛顿      C. 瓦特      D. 贝尔

22. 17~18 世纪，启蒙思想成为人们追求解放的精神武器。下列观点属于启蒙思想的是

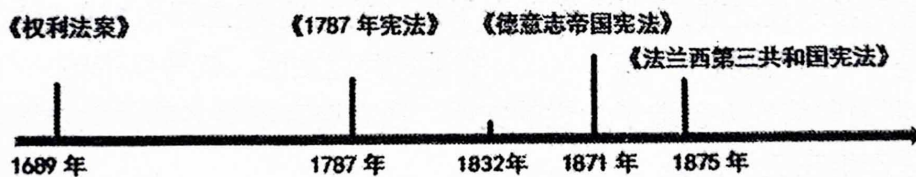
- A. 美德即知识      B. 君权神授      C. 因信称义      D. 天赋人权

23. 右边是一同学的课堂笔记，总结了西方某一国家的政体特点，该国是

- A. 法国  
 B. 德国  
 C. 美国  
 D. 英国

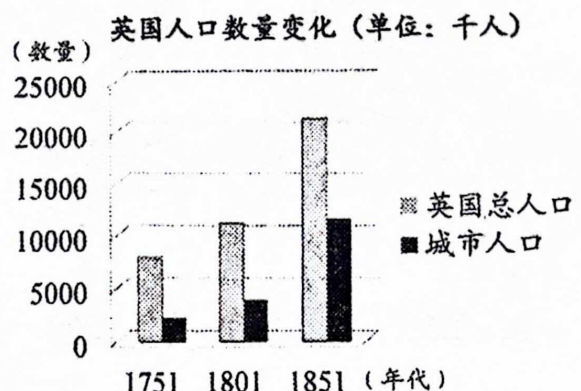
- 议会行使立法权
- 首相对议会负责
- 君主“统而不治”

24. 为英国君主立宪制确立提供法律依据的文献是  
 A. 1215年《大宪章》 B. 1689年《权利法案》  
 C. 1776年《独立宣言》 D. 1791年《人权宣言》
25. 2016年7月13日《泰晤士报》报道：英国历史上第二位女首相特雷莎·梅正式走马上任，接受伊丽莎白二世女王的任命，组建新政府。这反映出英国政治体制的特点是  
 A. 首相对国王负责 B. 首相掌握了行政权力  
 C. 议会对内阁负责 D. 议会与国王集体统治
26. 1789~1875年间法国出现过君主立宪制、军事帝国、复辟王朝、民主共和制等不同政体。这反映了  
 A. 地方割据势力强大 B. 启蒙思想日益深入  
 C. 民主进程艰难曲折 D. 政治体制不断完善
27. 近代某国被称为“各种政体的实验场”，其最后确立的共和政体被称为“一票共和”。这个国家是  
 A. 英国 B. 法国 C. 美国 D. 德国
28. 独立战争后的美国被人称为“一个头脑听从四肢指挥的怪物”“沙子扭成的绳子”。为了改变这种状况，美国的做法是  
 A. 确立联邦制 B. 建立中央集权制度 C. 实行两党制 D. 实施三权分立体制
29. 为实现把统治者“关在笼子里的梦想”，美国采取的重要举措是  
 A. 颁布《独立宣言》 B. 建立邦联制 C. 推行三权分立 D. 实行总统制
30. 依据美国1787年宪法，总统拥有  
 A. 立法权 B. 财政预算权 C. 司法权 D. 行政权
31. 与英国《权利法案》相比，德意志帝国宪法的特点是  
 ①专制主义色彩浓厚 ②国家元首掌握国家最高权力  
 ③国家元首“统而不治” ④首相不对议会而对君主负责  
 A. ①②③ B. ②③④ C. ①②④ D. ①③④
32. 下图反映西方政治发展中重要法律文献出现的时序。图示所反映的发展趋势是



- A. 西方政治民主化完成 B. 君主专制的加强  
 C. 都建立起联邦制国家 D. 西方代议制扩展

33. 右图所示英国城市人口变化的主要原因是  
 A. “三角贸易”展开  
 B. 君主立宪政体建立  
 C. 工业革命广泛开展  
 D. 欧洲经济的一体化



34. 1830年后英国煤产量迅速增长,其主要原因是

- A. 蒸汽机的广泛应用  
B. 内燃机的广泛应用  
C. 发电厂的广泛建立  
D. 城市人口迅速增长

35. 在1876年费城世博会上展出的产品达3万种,有很多新技术首次露面,可能在这次展会上出现的新成果是

- A. 珍妮纺纱机  
B. 电话  
C. 电视机  
D. 计算机

36. 19世纪后期,英国有钱人以坐船游览伦敦的泰晤士河为时尚,但是这一时期河水已经浑浊不堪,臭气熏天。由此可见

- A. 水力成为主要的能源  
B. 工业革命造成了环境污染  
C. 城市日益喧嚣和拥挤  
D. 工业革命助长了奢侈风气

37. 一位同学在查阅纺织技术革新的材料时发现了以下两则事例。这两则事例能说明

事例一: 1783年, 苏格兰人托马斯·培尔发明滚筒印花机, 革新布匹印花技术, 提高工效100倍。

事例二: 1792年, 美国人E·惠特尼发明轧棉机, 实现棉花脱籽工序的机械化, 这项技术很快传入英国。一个人操作轧棉机每天能轧棉1000余磅。此前每人每天只能轧棉5磅到6磅。

- A. 英国的工场手工业逐渐繁荣  
B. 资本主义生产关系萌芽  
C. 工业革命时期技术不断改进  
D. 人类进入“电气时代”

38. 习近平总书记在纪念马克思诞辰200周年大会上讲话中说:“1848年, 马克思、恩格斯合作撰写了《共产党宣言》, 一经问世就震动了世界。”《共产党宣言》问世的意义在于

- ①标志着科学社会主义诞生  
②揭示了无产阶级的历史使命  
③直接指导了巴黎公社起义  
④阐明了社会历史发展的客观规律

- A. ①②③  
B. ①②④  
C. ①③④  
D. ②③④

39. 抓关键词是学习历史的方法之一。下列各项与“偷袭蒙马特尔高地”“五月流血周”“无产阶级专政尝试”三个关键词直接相关的是

- A. 攻占巴士底狱  
B. 巴黎公社  
C. 空想社会主义  
D. 十月革命

40. 霍布斯鲍姆在《帝国的年代》中指出:“1880年时, 我们所面对的不完全是一个单一的世界, 而是一个由两部分所合成的全球体系: 一部分是已开发的、具有主宰性、富有的; 另一部分是落后的、依赖的、贫穷的……”, 材料中的第二部分实际是指

- A. 帝国主义国家  
B. 亚非拉殖民地半殖民地国家  
C. 所有的亚非拉国家  
D. 贫困、落后的国家

## 第二部分 非选择题 (共 40 分)

41. 阅读下列材料, 回答问题 (14 分)

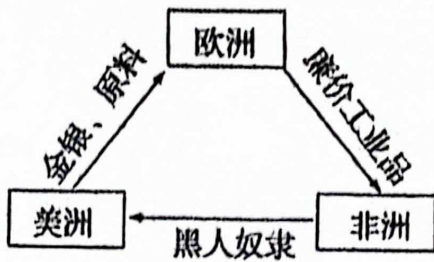
材料一 在进入印度之前, 雅利安人分为军事贵族或武士、从事祭祀的僧侣和普通牧民三个群体……(征服印度后) 那些被征服的印度原居民和沦为卑微奴隶的人被视为最低贱的等级……随着奴隶制的发展和社会分化, 等级的差别逐渐以制度的形式被确定下来。四种社会群体分别为种姓制度中的四种种姓, 即婆罗门、刹帝利、吠舍、首陀罗。——朱寰《世界古代史》(上册)

(1) 指出印度种姓制度形成的大体时间和区域。根据材料一结合所学分析种姓制度形成的原因。(6 分)

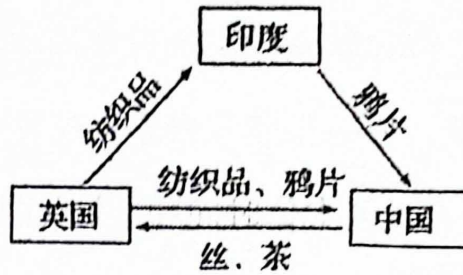
材料二 19 世纪 30 年代殖民政策进入新阶段后, 其破坏性和建设性的双重使命都逐渐明朗, 到了帝国主义阶段, 两者的显现更加突出。但殖民者对破坏性和建设性两个使命的完成都不彻底, 一般都是进行一定阶段后半途止步。这同样是由其卑鄙私利决定的, 为了巩固殖民统治, 它需要谋求殖民地半殖民地原有封建势力的支持, 为此就需要自觉地与旧势力妥协, 人为地保留某些旧的制度与结构, 而说到建设性使命, 殖民者虽然不得不实行, 却绝不愿看到殖民地半殖民地真正出现一个新社会。道理很明显: 如果是那样那也就宣告了他们为所欲为的剥削时代的终结。——林承节《殖民统治时期的印度史》

(2) 材料二中的“破坏性和建设性”是指什么? 根据材料二的观点分析印度种姓制度在近代长期延续的原因。(8 分)

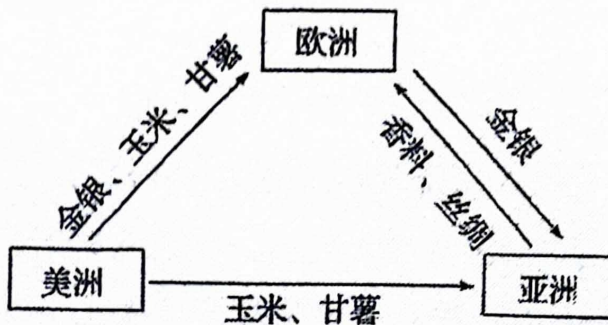
42.三角贸易是指一个牵扯到三个区域或港口的贸易名词。它随着殖民扩张的不断深入、世界市场的扩展而发生着相应的变化。以下三幅图反映的是三个历史时期（新航路开辟初期、新航路开辟后 15~16 世纪、19 世纪前中期）的三角贸易。



图一



图二



图三

分别提取图一、图二、图三的三角贸易信息，并据此说明与其相对应的历史时期。（9分）

43.阅读材料,回答问题（8分）

材料一 英国城市人口数量与比例变化

年份	英国人口 (千人)	城市人口 (千人)	城市人口占总人口百分比
1751	7390	1657	22%
1801	10755	3488	32%
1851	20879	11194	54%

（依据赵煦《英国早期城市化研究》）

阅读上表,概括 1751~1851 年英国人口的变化,并结合所学分析导致这种变化的相关因素。（8分）

#### 44. 思想解放与社会变革（9分）

材料一 人人生而平等，他们都从他们的“造物主”那边赋予的某些不可转让的权利，其中包括生命权、自由权和追求幸福的权利。为了保障这些权利，所以才在人们中间成立政府。而政府的正当权力，系得自被统治者的同意。如果遇有任何一种形式的政府变成是损害这些目的的，那么，人民就有权利来改变它或废除它，以建立新的政府。

——摘编自《独立宣言》

材料二 在权利方面，人们生来是而且始终是自由平等的。整个主权在根本上存在于国民之中。任何团体或个人不得行使主权所未明确赋予的权力。法律是公共意志的表现，全国公民都有权亲身或经由其代表参与法律的制定。所有公民……都平等地按其能力担任一切官职、公共职位和职务，除德行和才能的差别外，没有其他差别。

——摘编自《人权宣言》

材料三 这几件事情综合在一起，反映了这个时代的特点：人的精神在解放，眼界在拓展；人对世界的认识，对社会的认识，对人自身的认识，都在发生与中世纪不同的根本性变化。

——陈乐民《欧洲文明十五讲》

(1) 阅读材料一、材料二，提炼二者思想主张的共同点，并指出其思想来源。（3分）

(2) 结合14-18世纪的世界历史，运用唯物史观，对材料三的观点进行说明。（6分）



## 2023~2024 学年度第二学期高一历史期中试卷参考答案

1-5 CBDBD    6-10 DDCBC    11-15 CDDCB    16-20 CDADA  
21-25 BDDBB    26-30 CBACD    31-35 CDCAB    36-40 BCB BB

41. (14分) (1)时空:公元前6世纪左右,恒河流域。(2分)

原因:婆罗门教为其提供了理论和宗教基础;早期雅利安人社会分工的产物;与雅利安人的军事征服密切相关。(4分) (任意两点即满分)

内涵:是马克思关于西方殖民侵略影响双重性的理论,即西方的殖民侵略破坏了殖民地半殖民地国家原有的社会结构,破坏了当地的经济。同时,客观上又促进了资本主义因素在殖民地半殖民地国家的发展。(4分)

原因:种姓制度在印度根深蒂固;英国殖民者与印度封建势力妥协,同时也是为了维持印度的落后不愿意废除种姓制度。(4分) (任意两点即满分)

42. (9分) 图一:欧洲殖民者将廉价工业品运往非洲,然后从非洲掠夺黑人贩卖到美洲做奴隶,再将美洲的金银、原料运回到欧洲。这与新航路开辟后15~16世纪的黑奴贸易相符。因在美洲实行种族灭绝政策,美洲印第安人锐减,为开发美洲而兴起黑奴贸易。这为欧洲资本主义发展提供了资本的原始积累,且推动了世界市场的进一步扩大。故图1为新航路开辟后15~16世纪的黑奴贸易。

图二:英国殖民者将在印度种植的鸦片走私到中国,然后从中国进口茶、丝等原料、半成品,再将工业品出口到印度和中国。这与19世纪前中期的贸易状况相符。此时英国殖民者将在印度种植的鸦片走私到中国,以扭转对华贸易逆差。故图2为19世纪前中期西方资本主义国家对中国的鸦片贸易。

图三:欧洲殖民者从美洲掠夺金银,引进玉米、甘薯等作物,然后以金银换取亚洲的丝绸、香料,而美洲的玉米、甘薯也传入中国。这与新航路开辟初期的状况相符。此时美洲被发现,世界市场的雏形开始出现;欧洲的商品在亚洲缺乏竞争力,故用白银购买亚洲商品,白银流入亚洲。故图3为新航路开辟初期的三角贸易。

43. (8分) (变化:英国总人口与城市人口迅速增长;城市人口占总人口比例不断增加并占据主导地位。(4分)

因素:英国工业革命为人口的增加提供了物质基础;工业的发展促进了城市数量增加和规模扩大,使城乡人口比例发生了根本改变。(4分)

44. (9分) (1) 共同点:自由,平等,天赋人权,人民主权,法制等。思想来源:启蒙运动的启蒙思想。(3分)

(2) 说明:14世纪随着商品经济的发展和资本主义萌芽,一方面新兴资产阶级要求冲破封建思想的束缚,兴起了文艺复兴运动,其精神内核是人文主义,肯定人的价值和尊严,人对自身的认识发生变化。另一方面欧洲对货币的需求增加,推动新航路的开辟,世界开始连为一个整体,人类认识世界的视野更为开阔,人对世界的认识发生变化。随着新航路的开辟和文艺复兴运动的开展,推动欧洲资本主义发展,资产阶级力量壮大,他们要求进一步突破封建束缚,推动宗教改革,启蒙运动的到来。启蒙运动的核心思想为理性主义,反对封建王权,教权和等级制度,要求建立民主,自由,法制的社会,使得人对社会的认识发生变化,推动着资产阶级革命和改革的到来,推动着欧洲资本主义制度的确立,从而实现由封建社会向资本主义社会的过渡。(6分)