



丰台区 2024 年九年级学业水平考试综合练习（一）

历史试卷

2024. 04

考生须知

1. 本试卷共 8 页，满分 70 分。考试时间 70 分钟。
2. 在试卷和答题卡上认真填写学校名称、班级、姓名和考号。
3. 试题答案一律填涂或书写在答题卡上，在试卷上作答无效。
4. 选择题用 2B 铅笔作答，其他试题用黑色字迹签字笔作答。
5. 考试结束，将本试卷和答题卡一并交回。

第一部分

本部分共 20 小题，每小题 1.5 分，共 30 分。在每小题列出的四个选项中，选出最符合题目要求的一项。

1. 2023 年，中国科学院科研团队应用 CT 扫描和 3D 重建等新技术手段，在周口店遗址区域内识别出一块人类顶骨化石（如右图）。该化石与周口店直立人头盖骨的右侧顶骨大致重叠。这一发现可用于研究

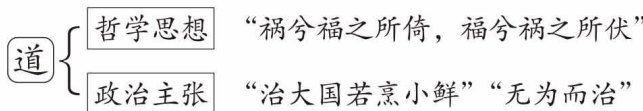


- A. 中国古人类的演化
B. 原始农业的起源
C. 炎帝黄帝的传说
D. 早期国家的产生

2. 《春秋左传注疏》曰：“故封立亲戚为诸侯之君，以为藩篱，屏蔽周室”。据此判断上述现象开始出现于

- A. 夏朝
B. 商朝
C. 西周
D. 东周

3. 以下示意图呈现的是中国古代某一思想家的主张，这位思想家是



- A. 孔子
B. 老子
C. 孟子
D. 墨子

4. 秦朝从国家制度层面奠定了统一民族国家的物质、精神基础。下列史实能够佐证这一观点的是

- ① “车同轨”
② “书同文”
③ “推恩令”
④ 科举制
- A. ①②
B. ①③
C. ①④
D. ②④

5. 悬泉置遗址是汉代设于河西走廊地区交通线上的一座规模较大的驿置。遗址中出土文物 7 万余件，其中简牍 3 万余枚，记录了汉代与西域各国往来的历史。该遗址见证了

- A. 政治制度的完善
B. 丝绸之路上文明交流
C. 人口大规模迁徙
D. 文景之治局面的出现

考号

姓名

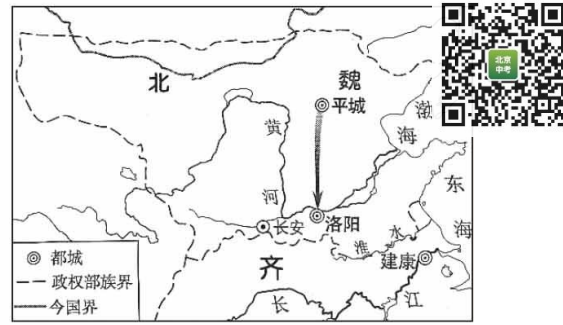
班级

学校



题
答
要
不
内
线
封
密

6. 右图反映的历史事件的影响是

- A. 形成三国鼎立局面
- B. 结束分裂割据状态
- C. 削弱专制主义皇权
- D. 促进了民族交融



7. 以下两则材料共同反映了

| | |
|--|---|
|  <p>“济南刘家功夫针铺”铜板为目前已知世界上最早的商标广告，标明了铺号，且以白兔为商品标识</p> |  <p>北宋纸币铜板拓片。北宋前期，四川地区出现“交子”，这是世界上最早的纸币</p> |
|--|---|

- A. 货币交易量增长
- B. 商业贸易的繁荣
- C. 农业技术的进步
- D. 都市生活的繁华

8. 某同学进行“中国古代农学进步”的主题学习，下列著作属于这一主题的是

- ①《伤寒杂病论》 ②《齐民要术》 ③《农政全书》 ④《本草纲目》
- A. ①② B. ①③ C. ②③ D. ②④

9. 右图对联赞扬了一位明朝的民族英雄。这位民族英雄是

- A. 戚继光
- B. 郑成功
- C. 林则徐
- D. 邓世昌



10. 有学者认为，鸦片战争以后，外国资本主义对中国人民的侵略和奴役，封建主义势力对农民群众的剥削与压迫，加剧了中国的社会危机。1851年，一场规模空前、震撼中外的农民起义爆发。该学者意在说明

- A. 中英鸦片战争的进程
- B. 火烧圆明园的影响
- C. 太平天国运动的背景
- D. 义和团运动的结果

11. 19世纪60~90年代，清政府创办近代工矿企业，开启了中国近代化进程。甲午中日战争后，先进的中国人认识到，单凭引进外国器物不足以挽救民族危亡，于是谋求制度变革。以下属于制度变革的史事是

- A. 洋务运动 B. 戊戌变法 C. 新文化运动 D. 西安事变

12. 年画《海上第一名园》再现了近代上海张园的街景（如下图），有西式拱形玻璃窗的中式建筑，穿着传统服装却手持西式洋伞的女性，及高高架起的电线与路灯。对上述现象理解正确的是

- A. 年画创作题材保守陈旧
- B. 呈现新旧并呈的社会风貌
- C. 沿海与内地发展不平衡
- D. 第二次工业革命成果传遍中国



13. 下列两枚纪念章共同反映的时代主题是



1951年桂林专区土地改革纪念



抗美援朝保家卫国纪念

- A. 抗击外来侵略 B. 加强边疆管理 C. 巩固新生政权 D. 实行耕者有其田

14. 李大钊认为，社会主义因“各地、各时之情形不同，务求其适合者行之，遂发生共性与特性结合的一种新制度。故中国将来实行社会主义，必与英、德、俄……有异。”下列口号能反映这一观点的是

- A. “御敌于国门之外” B. “必与俄国打成一片，一切均借俄助”
C. “停止内战，一致对外” D. “走自己的路，建设有中国特色的社会主义”

15. 右图为意大利人贝利尼绘制的肖像画《一个雇佣兵》，描绘了一个具体的、有坚强意志的人，突出人物的独立和自信。该画作的特点是

- A. 追求现世的幸福 B. 提倡苦行禁欲
C. 揭露教会的腐朽 D. 强调人的个性



16. 以下示意图反映了

标志马克思主义诞生 系统阐释剩余价值学说 系统阐述科学社会主义理论体系

1848年 《共产党宣言》发表 1867年 《资本论》第一卷出版 1880年 《社会主义从空想到科学的发展》发表

- A. 马克思主义理论不断发展 B. 无产阶级政权的普遍建立
C. 科学社会主义的广泛传播 D. 国际工人运动已走向高潮

17. 19世纪中期，一些国家通过资产阶级改革走上了资本主义发展道路。以下史实能说明这一结论的是

- A. 俄国农奴制改革、日本明治维新 B. 英国资产阶级革命、俄国农奴制改革
C. 法国大革命、美国内战 D. 美国独立战争、日本明治维新

18. 右侧是一部历史著作的目录（部分）。其中①处应为

- A. 法西斯国家的侵略与扩张
B. 二战后资本主义的新变化
C. 二战后世界殖民体系的崩溃
D. 亚非拉民族民主运动的高涨

第七章 ①
第三节 印度的非暴力运动
……
第五节 埃及的华夫脱运动
……
第七节 墨西哥的卡德纳斯改革

19. 某著作写道：“罗斯福总统的伟大，在于他是随着历史的潮流去选择自己的道路。”面对经济大危机，罗斯福总统选择的“道路”是

- A. 推行农业集体化 B. 继续自由放任的政策
C. 实施新经济政策 D. 采用国家干预经济手段





20. 史论结合是历史学习的基本方法。以下史实与结论对应正确的是

| 选项 | 史实 | 结论 |
|----|-------------------|--------------|
| A | 斯大林格勒保卫战胜利 | 开辟欧洲第二战场 |
| B | 1947 年杜鲁门主义出台 | 两极格局正式形成 |
| C | 联合国已进行了 70 多项维和行动 | 致力于维护世界和平与安全 |
| D | 1995 年世界贸易组织成立 | 增加全球贸易壁垒 |

第二部分

本部分共 4 题，共 40 分。

21. (10 分) 通讯·时代·发展

材料一 元朝以大都为中心修筑了驿道，东连高丽，东北至奴儿干（今黑龙江口一带），北达吉利吉思，西通伊利、钦察两汗国，西南抵乌思藏（今前、后藏地区），南接安南（今越南北部）、缅甸……全国共设有陆站、水站约 1500 处，为各级政府因公差遣人员服务，提供交通工具、住所、饮食、薪炭等，也用来运输官府物资……急递铺是元代的官方邮递系统。每 10 或 15、25 里设一铺，置铺兵五人，负责传递文书。传递速度规定为一昼夜 400 里，急件 500 里。

——摘自袁行霈《中华文明史》

(1) 依据材料一，概括元代邮驿的特点。(3 分)

材料二 以往，人们只有通过运货马车、驿使或船才能将一个音信送到一个遥远的地方。然而，19 世纪中叶，发明了电报。1866 年，铺设了一道横越大西洋的电缆，建立了东半球与美洲之间直接的通讯联络。19 世纪 70 年代，电话诞生。1901 年马可尼成功把无线电信号发送过大西洋，将各大陆更加紧密地联系起来。

——摘编自斯塔夫里阿诺斯《全球通史》等

(2) 依据材料二，指出通讯方式的变化。(2 分) 结合所学，分析 19 世纪中叶到 20 世纪初期通讯业发展的原因。(2 分)

材料三

| | | |
|----------------|--|---|
| 20 世纪 80 年代 | | 书信是主要交流方式，而电报是最快捷的通信工具，但价格昂贵，寻常百姓只有在紧急情况下才会发送电报 |
| 20 世纪 90 年代 | | 除公用电话，家用固定电话开始普及。移动电话“大哥大”也进入人们的生活，但价格昂贵，尚未普及 |
| 21 世纪 | | 从功能手机到智能型手机迭代更新。互联网迅速发展，可视电话、QQ 及微信等方便了交流，还可轻松实现购物、学习、娱乐等 |




(3) 依据材料三并结合所学，谈谈对我国现代通讯发展的认识。(3 分)

密封线内不要答题



22. (10分) 中国共产党始终把为中华民族谋复兴作为自己的初心使命。

材料一

| | | |
|---|--|---|
|  |  |  |
| <p>① 《张云峰烈士绝笔书》</p> | <p>② 《袁国平致侄书》节选</p> | <p>③ 毛泽东为刘胡兰题词</p> |
| <p>1927年4月，共产党员张云峰被国民党逮捕。就义前，他给母亲和妻子写了绝笔书：“还有二点钟，我就要受死刑了，我是笑的死，不是哭的死，请你不用悲伤。”</p> | <p>1938年，新四军政治部主任袁国平给侄儿的家书：“此刻我身无分文，无法帮助家里，因为我们都是以殉道者的精神为革命、为国家民族服务的……抗战成功再与你们欢聚。”</p> | <p>1947年，14岁的中共候补党员刘胡兰被国民党逮捕，在敌人威胁面前，她说：“怕死不当共产党！”从容就义。毛泽东主席为她题词：“生的伟大，死的光荣。”</p> |

(1) 依据材料一并结合所学，任选两则材料，分别写出其历史背景。(2分) 说出上述材料共同反映的精神内涵。(2分)

材料二

| 背景 | 会议名称 | 主要内容 |
|---------------------------------------|------|--|
| 中央红军突破了敌人四道封锁线，但损失惨重，8万多人锐减到3万多人 | ① | 纠正博古等人军事上和组织上“左”的错误，肯定毛泽东的正确军事主张，增选毛泽东为中央政治局常委 |
| 社会主义改造基本完成，社会主义工业化取得重大进展，社会主义基本制度建立起来 | 中共八大 | 指出党的主要任务是集中力量把我国尽快地从落后的农业国变为先进的工业国 |
| 在历史转折关头，人们期待走出一条新的社会主义发展道路 | ② | 党和国家的工作中心转移到经济建设上来，实行改革开放 |

(2) 将材料二中的①②处补充完整。(2分) 任选一次会议，并结合所学，分析其历史意义(2分)

题
答
要
不
内
线
封
密

材料三 《中共中央关于党的百年奋斗重大成就和历史经验的决议》，从五个方面总结党的百年奋斗的历史意义，即党的百年奋斗从根本上改变了中国人民的前途命运、开辟了实现中华民族伟大复兴的正确道路、展示了马克思主义的强大生命力、深刻影响了世界历史进程、锻造了走在时代前列的中国共产党。



——摘自人民日报《深刻理解党百年奋斗的历史意义》

(3) 从材料三中任选一个“方面”，结合史实谈谈对党百年奋斗历史意义的认识。(2分)

23.(10分) 历史是相互关联、相互影响的一幅立体画卷。

材料一 葡萄酒，西域有之，前世或有贡献，及(唐太宗)破高昌(今新疆吐鲁番地区)，收马乳蒲桃(葡萄)实于苑(宫苑)中种之，并得其酒法，自损益造酒，酒成，凡有八色，芳香酷烈，味兼醍醐。既颁赐群臣，京中始识其味。

——摘自《唐会要》

(1) 依据材料一，指出唐代葡萄种植与加工的情况。(2分) 结合所学，分析上述历史现象所处时代的特征。(1分)

材料二



(2) 依据材料二，判断上述现象最早出现在_____，(1分，写字母) 并运用材料说明判断理由。(2分)

- A. 隋唐时期 B. 明清时期

材料三



| | | | |
|---|---|--|--|
| | | | |
| <p>① 19 世纪末 20 世纪初两大军事集团三国同盟、三国协约形成</p> | <p>② 1914 年，奥匈帝国斐迪南大公夫妇在萨拉热窝被刺杀</p> | <p>③ 1917 年 11 月（俄历十月），列宁领导彼得格勒武装起义取得胜利</p> | <p>④ 1918 年，李大钊发表《布尔什维主义的胜利》等文章，第一次举起马克思主义旗帜</p> |
| | | | |
| <p>⑤ 1919 年 1 月，在巴黎凡尔赛宫召开会议，讨论对德和约及战后安排</p> | <p>⑥ 1919 年 5 月 4 日，北京 3000 多名学生汇集天安门前，举行示威游行</p> | <p>⑦ 1912 年，荣氏兄弟创建福新面粉厂。到 1919 年，荣氏面粉厂增至 8 个</p> | <p>⑧ 1921 年 7 月，中国共产党第一次全国代表大会在上海开幕</p> |

(3) 史事的发生都有其相互联系。从材料三中选择两张图片，参照示例，对其所反映史事的因果联系进行说明。(4 分，示例组合除外)

示例：①②

19 世纪末 20 世纪初，资本主义列强为争夺世界霸权，形成两大军事集团，展开扩军备战。

1914 年，奥匈帝国斐迪南大公夫妇被刺杀，成为第一次世界大战导火线。

两大军事集团扩军备战冲突不断，引发萨拉热窝事件，导致第一次世界大战爆发。



24. (10分) 曾经的紫禁城, 今日的故宫博物院。

材料一

| | | |
|--|---|--|
|  <p>①紫禁城示意图</p> |  <p>②太和殿屋脊小兽</p> | <p>紫禁城奉天门(今太和门)“(院子)长三百腕尺(测量单位), 宽两百五十腕尺……其中是一座长六十腕尺、宽四十腕尺的大殿。”</p> <p>③《沙哈鲁遣使中国记》</p> |
| <p>一位同学参观故宫博物院后, 用电脑绘制的示意图。图中标注了紫禁城的主要建筑</p> | <p>康熙年间重建太和殿时的原件。中国传统建筑中脊兽一般为单数, 只有地位极尊贵的太和殿有十个脊兽</p> | <p>明朝时期波斯贴木耳朝来华外交使团中的一位成员撰写</p> |

(1) 材料一中可用于研究明清时期紫禁城的两则可信史料是_____。(1分, 写序号, 多选、少选、错选不得分)。依据可信史料, 概括紫禁城的特点。(2分)

材料二 紫禁城大事记(部分)

- 1859年, 基于对理政空间的需要, 紫禁城长春宫一区开始被改造。此后, 为慈禧听政、寝居需求, 又加盖游廊、戏台等
- 1912年, 在紫禁城颁布《清帝退位诏书》, 宣统帝(溥仪)逊位, 暂居紫禁城内廷
- 1914年, 紫禁城对公众开放, 成立古物陈列所
- 1924年, 溥仪被要求偕同眷属离开紫禁城
- 1925年, 故宫博物院开院典礼在紫禁城乾清门前举行

(2) 依据材料二, 指出近代紫禁城功能的变化。(2分) 结合时代背景, 分析紫禁城功能变化的主要原因。(2分)

材料三 1949年初, 故宫与北平城一道完整地保留下来, 北平市军事管制委员会接管故宫博物院, 要求工作人员保证文物、古迹安全。1961年, 故宫被国务院列为国家重点文物保护单位。1987年, 联合国教科文组织将故宫作为人类文化遗产列入《世界遗产名录》。

在新发展阶段, 故宫博物院坚持“保护第一、加强管理、挖掘价值、有效利用、让文物活起来”的新时代文物工作方针, 牢固树立以保护为主的发展思想, 真实完整地保护故宫, 并负责任地传承弘扬故宫世界文化遗产承载的中华优秀传统文化。

——摘编自王旭东《基于新发展理念故宫世界文化遗产保护实践与探索》等

(3) 依据材料三并结合所学, 写出促成故宫得以保留下来的相关历史事件。(1分) 谈谈对故宫博物院新时代文物工作方针的看法并说明理由。(2分)

密封线内不要答题