



# 房山区 2023-2024 学年度第二学期学业水平调研（一）

## 七年级地理

本试卷共 12 页，满分 70 分，考试时长 70 分钟。考生务必将答案填涂或书写在答题卡上，在试卷上作答无效。考试结束后，将试卷和答题卡一并交回。

### 第 I 卷 选择题（30 分）

单项选择题（请将答案填涂在答题卡对应位置，共 20 小题，每题 1.5 分，共 30 分。多选、错选、漏选该小题均不得分。）

锄禾日当午，汗滴禾下土。谁知盘中餐，粒粒皆辛苦。图 1 为某地的宣传公益广告作品。读图，完成 1-2 题。

1. 图中所示的农业生产部门为

- A. 林业
- B. 种植业
- C. 渔业
- D. 畜牧业

2. 这则公益广告寓意为

- A. 珍惜粮食
- B. 科技强农
- C. 保护耕地
- D. 计划生育



图 1

我国水稻专家利用遗传工程技术选育出耐盐碱的海水稻。图 2 为中国水稻分布图。读图，完成 3-5 题。

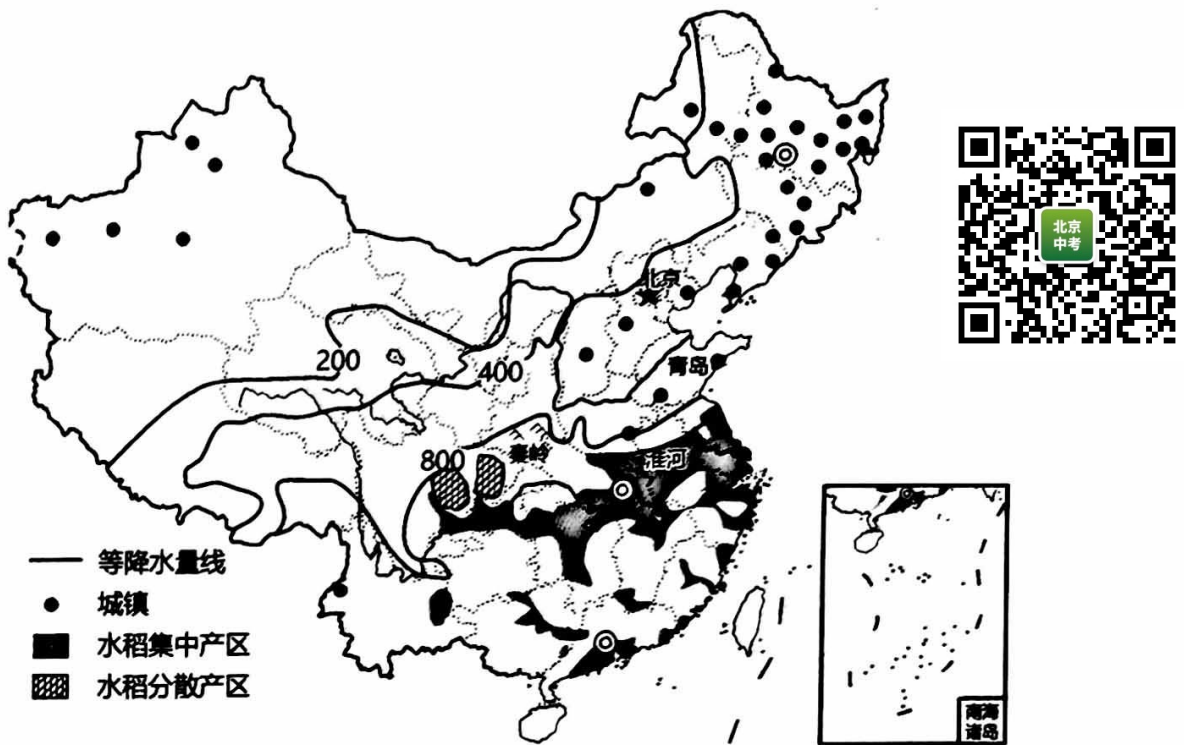


图 2

3. 我国水稻集中产区主要分布在
  - A. 内陆地区
  - B. 年降水量 800 毫米以上地区
  - C. 黄河流域
  - D. 东北平原和华北平原地区
4. 青岛成为海水稻培育基地的自然条件是
  - A. 交通便利，科技发达
  - B. 沿海滩涂，盐碱地面积大
  - C. 长夏无冬，热量丰富
  - D. 降水丰富，季节变化不大
5. 海水稻培育成功主要得益于
  - A. 滴灌喷灌技术的推广
  - B. 自然环境条件的改善
  - C. 农业机械化水平提高
  - D. 农业科学技术的发展

长江三角洲地区的经济发展对长江流域乃至全国具有辐射带动作用。图 3 为长江三角洲地区简图和沪宁杭工业基地分布图。读图，完成 6-8 题。

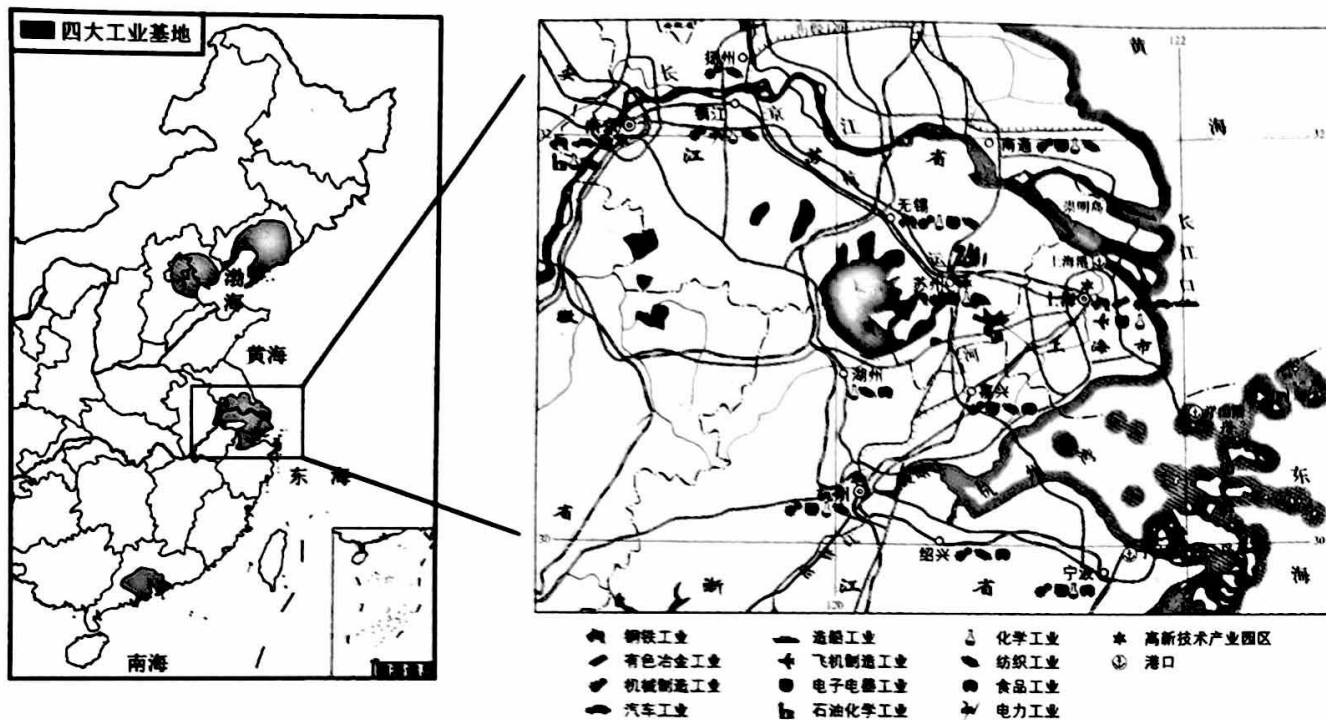


图 3

6. 长江三角洲地区

- A. 地处长江下游地区，濒临南海
- B. 依托长江干流，联系京津冀地区
- C. 地处江海交汇之地，港口众多
- D. 依托京杭运河，联系粤港澳地区



7. 该地区的沪宁杭工业基地

- A. 矿产资源丰富，以重工业为主
- B. 以首都为核心，科研力量雄厚
- C. 工业结构完整，国际竞争力强
- D. 邻近香港澳门，消费市场广阔

8. 为提升辐射带动作用，该地区应进一步

- ①完善基础设施建设
- ②提升科技创新能力
- ③减少外来人口流动
- ④增加煤炭石油出口

- A. ①②
- B. ②③
- C. ③④
- D. ②④



北京中关村国家自主创新示范区是我国第一个国家级高新技术产业开发区。这里汇聚了中国最顶尖的科技力量和创新智慧。数万家互联网、移动通信、卫星应用、生物医药、新材料、通用航空和新能源等高新技术产业云集于此，见证了中国科技的崛起和发展。图4为北京中关村国家自主创新示范区分布图。读图，回答9-10题。

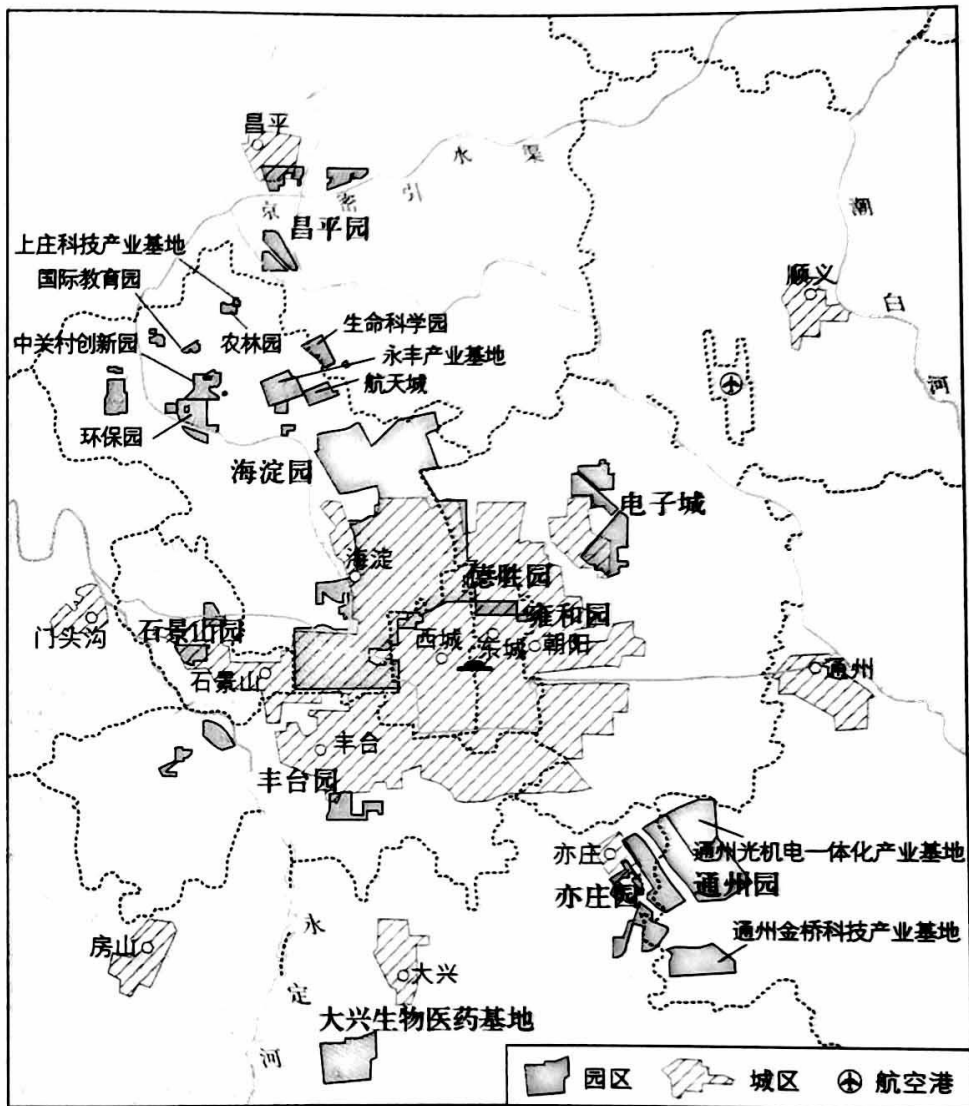


图4

9. 中关村国家自主创新示范区主要涉及的产业有

- ①环保产业 ②煤炭化工 ③生物医药 ④航天产业

- A. ①②③      B. ①③④      C. ②③④      D. ①②④

10. 中关村国家自主创新示范区的园区

- A. 全部分布在城区      B. 沿河流两岸分布  
C. 分布在航空港附近      D. 主要分布在海淀区和通州区



家住上海市区的小明一家四口计划暑假去新疆旅游。图 5 为上海到乌鲁木齐不同交通运输方式的信息图。读图，完成 11-12 题。



图 5

11. 小明一家的出行计划中，最合理的是

- A. 姐姐想边走边停，游玩沿途景点，选择乘坐火车
- B. 小明想以最便宜的方式到达，选择自驾出行
- C. 妈妈想尽可能避免天气影响，选择乘坐飞机
- D. 爸爸想以最快的方式到达，选择乘坐飞机



12. 小明一家最终选择丁航线出行，原因可能是

- ①无须转机 ②起降时间适宜 ③到达时间最早 ④价格最低

- A. ①②                      B. ①③                      C. ②④                      D. ③④

“天下地土，南北高下相半。且以江淮南北论之：江淮以北，高田平旷，所种宜黍稷等稼；江淮以南，下土涂泥，所种宜稻秫。又南北渐远，寒暖殊别，故所种早晚不同……”

引自《王祯农书·地利篇》。图 6 为秦岭—淮河一线局部地区示意图。读图，完成第 13-14 题。



图 6

姓名 \_\_\_\_\_ 班级 \_\_\_\_\_ 学校 \_\_\_\_\_


必 将 答 案 答 在 答 题 卡 上

13. “江淮以北”和“江淮以南”泛指我国的
- A. 北方地区和南方地区  
B. 高原地区和平原地区  
C. 青藏地区和西北地区  
D. 人口稠密区和稀疏区

14. 反映我国东部地区南北差异的是
- A. 江淮以南，土地广阔平坦  
B. 江淮以北水田广布，种植水稻  
C. 江淮以北，河流纵横交错  
D. 南北距离越远，热量差异越大



传统民居是地方文化特色的名片。图7为四合院和吊脚楼的景观图。读图，完成15-17题。



四合院



吊脚楼

图7

15. 四合院和吊脚楼分别位于我国
- A. 北方地区、青藏地区  
B. 南方地区、西北地区  
C. 北方地区、南方地区  
D. 西北地区、青藏地区
16. 吊脚楼的建造特点包括
- ①竹木结构，依山而建      ②易于拆装，便于搬迁  
③高出地面，防潮防洪      ④青砖灰瓦，保暖防寒
- A. ①②      B. ①③      C. ②③      D. ②④
17. 北京四合院具有丰富的文化内涵。为保护四合院，下列做法合理的有
- ①将居民全部迁出    ②保护并加以修缮    ③拆除建为商业区    ④设立文化体验基地
- A. ①②      B. ①③      C. ②④      D. ③④

某中学组织开展了“穿越中国之旅”的研学旅行活动。图8为中国四大分区及研学路线示意图。读图，完成18-20题。

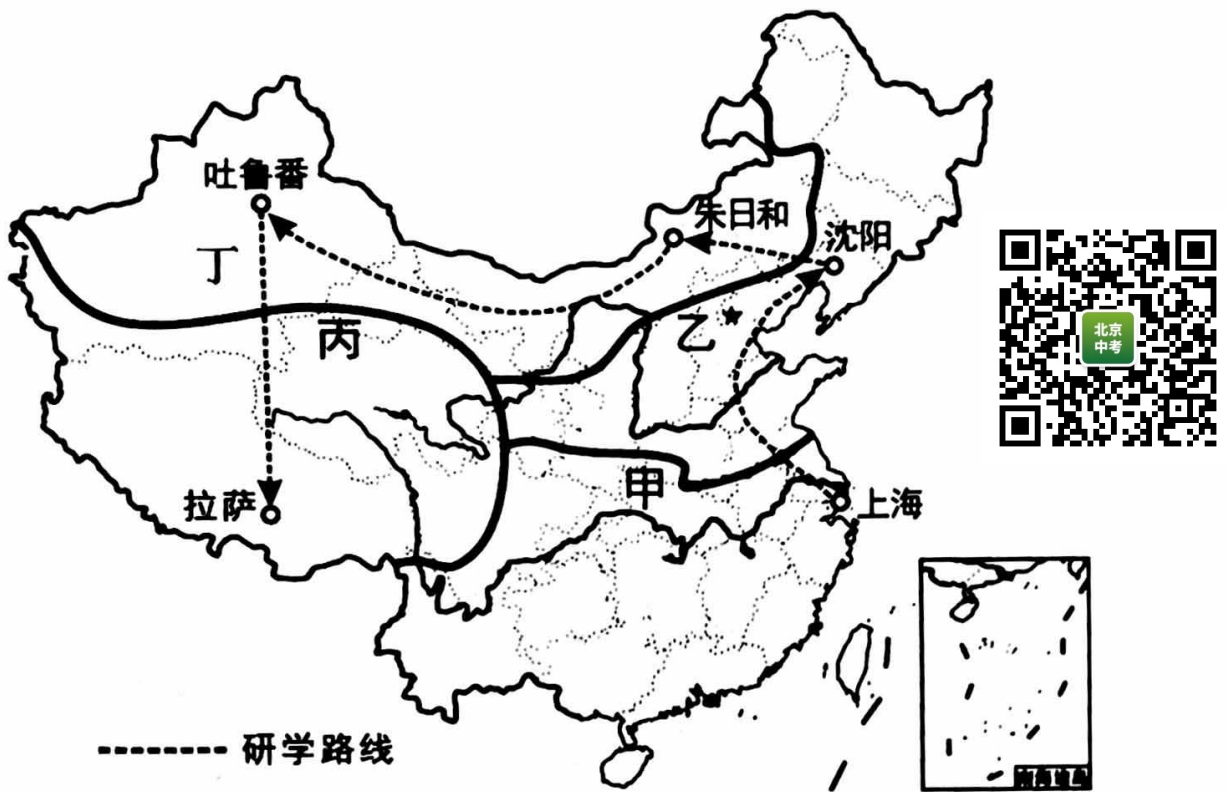


图8

18. 图中5个站点城市
- |              |              |
|--------------|--------------|
| A. 均位于地势第一阶梯 | B. 均位于秦淮以南   |
| C. 分散分布在四大分区 | D. 在丙地区分布的最多 |
19. 甲、乙两个区域划分的主要影响因素是
- |       |       |       |       |
|-------|-------|-------|-------|
| A. 地形 | B. 气候 | C. 河流 | D. 经济 |
|-------|-------|-------|-------|
20. 拉萨、上海两地纬度相近，但夏季气温不同，景观差异很大，主要因为
- |           |           |
|-----------|-----------|
| A. 海陆位置不同 | B. 河流分布差异 |
| C. 海拔高度不同 | D. 人类活动差异 |



## 第 II 卷 非选择题 (40 分)

21. (12 分) 农业是国民经济的基础。图 9 为中国主要粮食作物和畜牧业分布图。图 10 为中国部分年份粮食种植面积和产量的统计图。阅读图文资料, 回答下列问题。

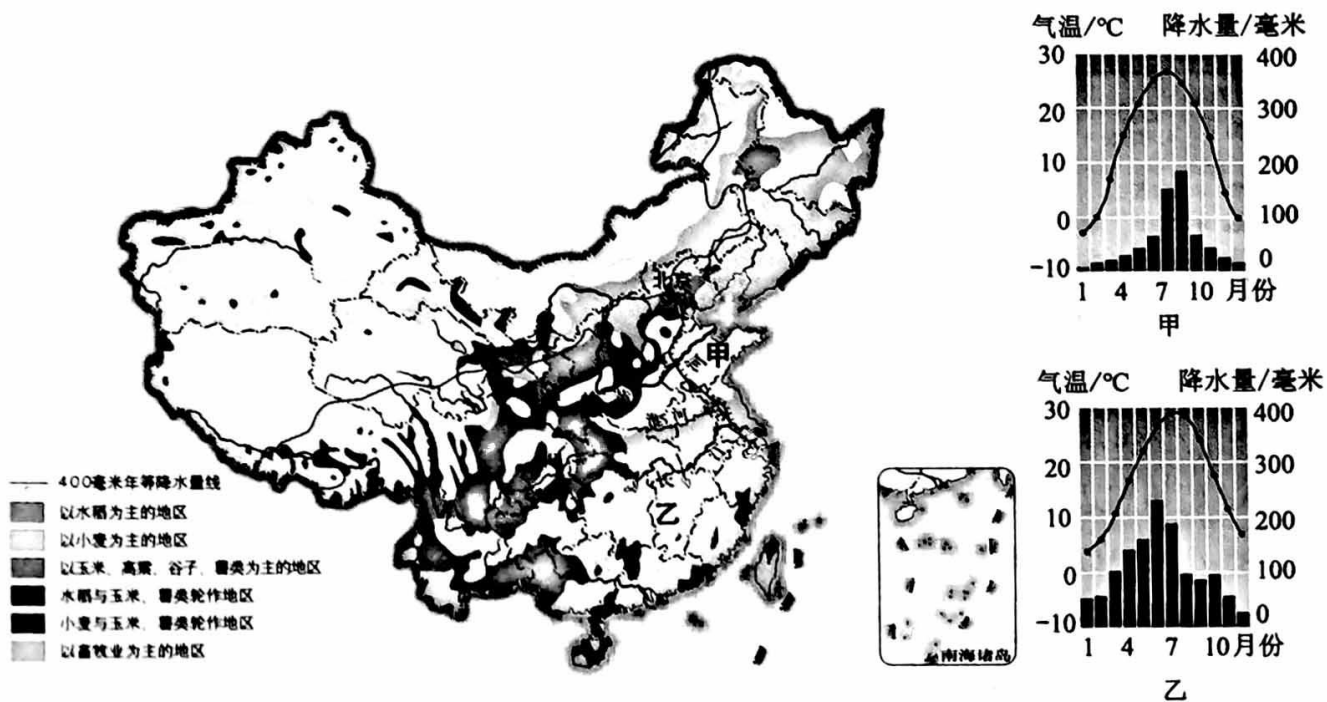


图 9

(1) 我国幅员辽阔, 农业生产存在明显地域差异。400mm 年等降水量线以东地区以\_\_\_\_ (农业生产部门) 为主, 以西地区以\_\_\_\_ (农业生产部门) 为主。

(2) 比较甲、乙两地农业生产和自然条件的差异, 完成下表。

	位置	气候	耕地类型	主要粮食作物
甲地	秦岭—淮河以 ①	夏季高温多雨, 冬季②。	以旱地为主	③
乙地	秦岭—淮河以 ④	夏季⑤, 冬季温和少雨。	以⑥为主	水稻



(3) 读图 10 可知我国 2015—2020 年间粮食\_\_\_\_。(两项选择)



图 10

- A. 实现连续增产
- B. 种植面积稳定在 11200 万公顷以上
- C. 种植面积逐年增加
- D. 2018 年种植面积最大，产量增加最多

(4) 根据数据统计，目前我国每年直接浪费掉的粮食达到 3500 万吨，浪费掉的粮食能够满足上亿人一年口粮的需要。为避免粮食的浪费，谈谈你的具体做法。(至少答出两点)

22. (8 分) 环渤海经济圈为连接东北亚经济圈和京津冀城市群的重要区域。图 11 为环渤海经济圈示意图和京津冀地区各类高新技术产业企业数量占比统计图。读图，完成下列问题。

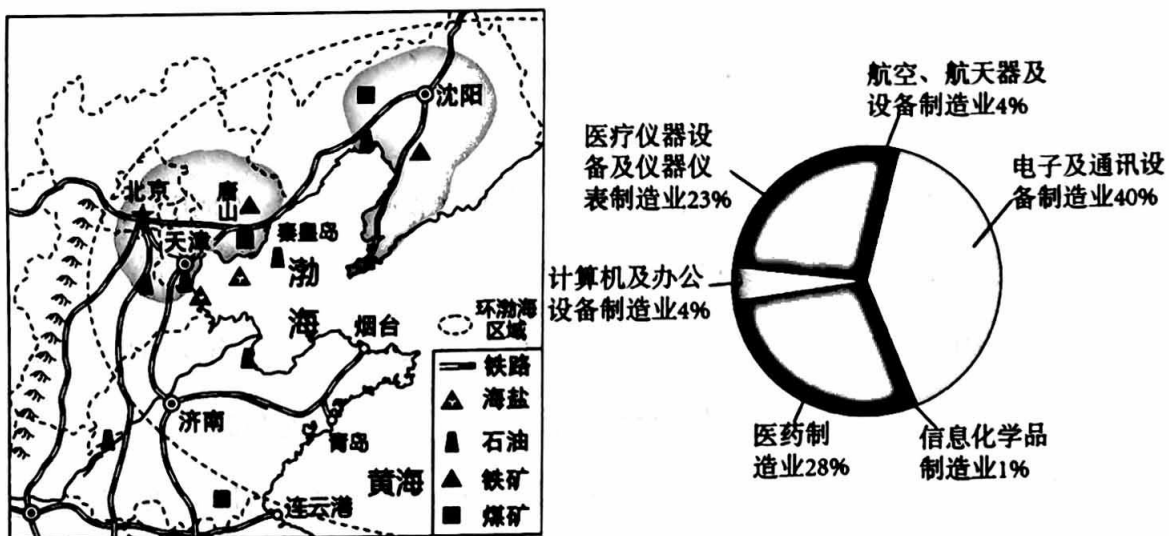


图 11

(1) 环渤海经济圈濒临渤海和\_\_\_海，包含\_\_\_省、河北省、北京市、天津市、山东省等省级行政区域。

(2) 环渤海经济圈内分布有我国最大的重工业基地\_\_\_工业基地和北方最大的综合性工业基地\_\_\_工业基地。

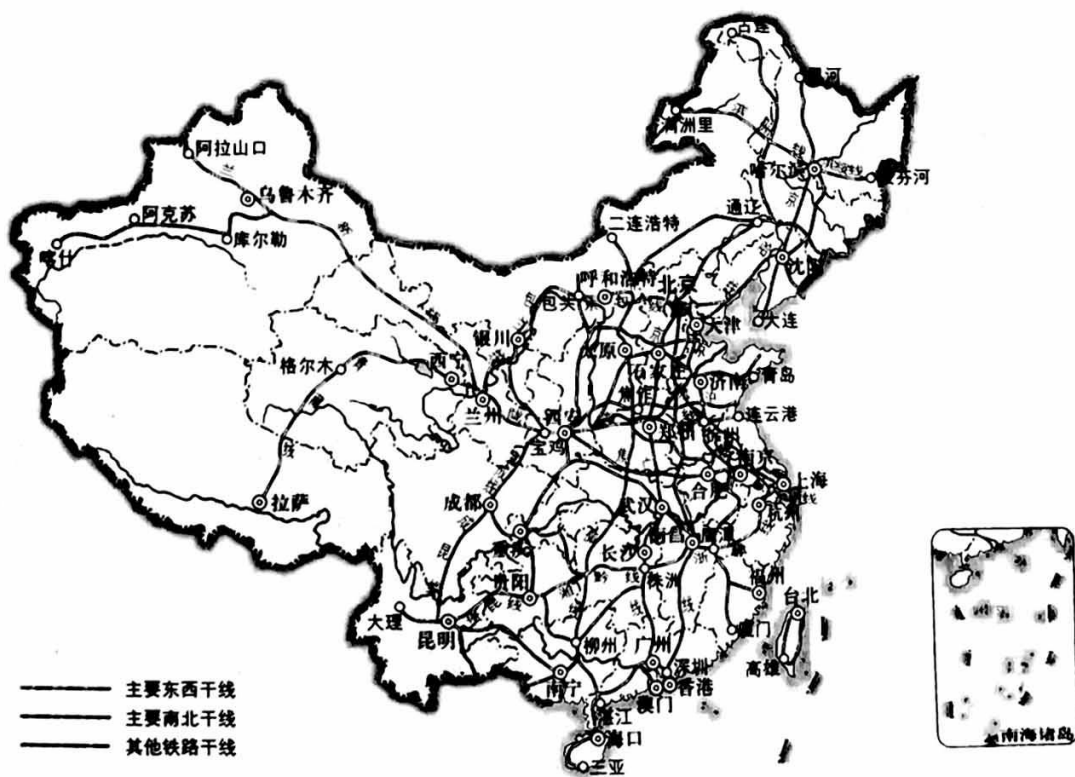
(3) 读图简要分析环渤海经济圈内工业发展的有利条件为\_\_\_\_\_，  
\_\_\_\_\_。(2分)

(4) 京津冀地区高新技术产业发展迅猛，读产业企业数量占比统计图，企业数量占比最多的产业是\_\_\_，该地区发展高新技术产业的优势条件\_\_\_(单选)。

- A. 地形平坦      B. 气候适宜      C. 城市众多      D. 科教发达

23. (10分) 交通运输是兴国之要、强国之基。图12为中国铁路分布图，图13为2009~2018年中国高铁运营里程及高铁占比变化图，图14为京广高铁示意图。读图，回答下列问题。

**主题一：识铁路分布** 铁路运输是我国交通运输业的主力，其中高速铁路承担客运服务，发展迅速，已成为国家名片。



中国主要铁路分布

图12



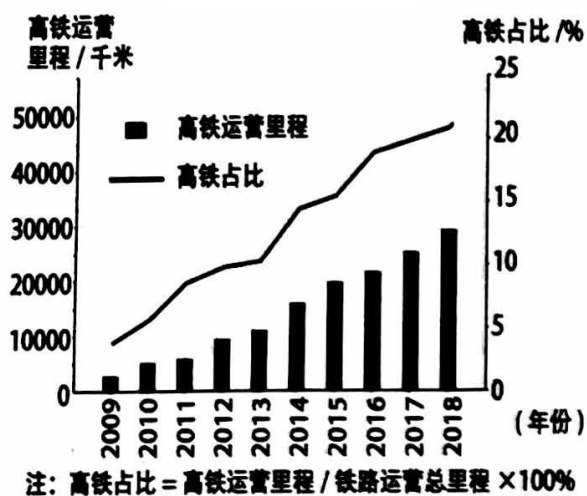


图 13

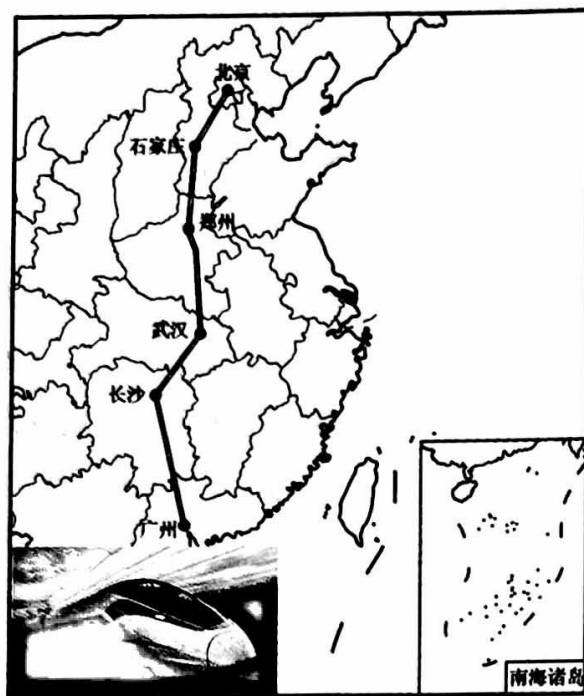


图 14

(1) 我国铁路分布\_\_\_\_ (不均/均匀), 东部\_\_\_\_, 西部\_\_\_\_。

(2) 铁路运输运量\_\_\_\_、连续性强、速度较快、运费较低、受天气条件限制\_\_\_\_, 是我国交通运输业的主力。

(3) 我国发展高铁可以\_\_\_\_ (单选)。

- ①加快矿产外运, 发挥资源大国优势
- ②推动技术研发, 促进现代制造业发展
- ③加强城际联系, 带动经济快速发展
- ④促进对外联系, 加强国际交流与合作

- A. ①②③      B. ①②④      C. ①③④      D. ②③④

**主题二: 说高铁发展** 2008 年京津城际铁路开通运营, 标志着中国跨入高铁时代。

从渤海之滨到西部戈壁, 从东北雪原到江南水乡, 中国高铁串珠成线、连线成网。

(4) 读图 13 可知 2009~2018 年间, 我国高铁运营里程大致呈持续\_\_\_\_趋势。

(5) 截至 2020 年 12 月底, 我国高铁里程排第一的省级行政区是安徽省, 其简称是\_\_\_\_。

**主题三：坐着高铁看中国** 2019年有约2.5亿人次通过京广高铁南来北往，它已成为名副其实的“中国黄金大动脉”。

(6)京广高铁大致呈\_\_\_\_走向，从北京站出发，依次经河北省、河南省、湖北省、湖南省，终点到\_\_\_\_省广州站，是世界上运营里程最长的高速铁路。

24.(10分)自2018年起，我国将每年的秋分设为“中国农民丰收节”。图15为我国各地丰收节的景象。图16为中国四大地理区域图。读图，完成下列各题。




图 15



图 16

(1)图中④为我国四大地理区域中的\_\_\_\_地区,其丰收节景象为\_\_\_\_(填甲/乙/丙/丁),该区域以\_\_\_\_(地形类型)为主,海拔\_\_\_\_,气温\_\_\_\_。

(2)图甲为我国四大地理区域中的\_\_\_\_地区(写四大地理区域名称)丰收节景象。该地区距海较\_\_\_\_,年降水量\_\_\_\_,冬寒夏热,日温差大,生产的葡萄糖分高。

(3)黄河干流中下游河段主要流经\_\_\_\_地区(写四大地理区域名称),冬季\_\_\_\_(有/无)结冰现象。