

房山区 2023-2024 学年度第二学期综合练习（一）

九年级历史

本试卷共 12 页，满分 70 分，考试时长 70 分钟。考生务必将答案填涂或书写在答题卡上，在试卷上作答无效。考试结束后，将试卷和答题卡一并交回。

第一部分

本部分共 20 小题，每小题 1.5 分，共 30 分。在每小题列出的四个选项中，选出最符合题目要求的一项。

1. 表格中是旧石器时代某一人类遗存的信息。依据信息判断，他们应是

信息 1: 距今约 70 万—20 万年
信息 2: 北京西南周口店龙骨山
信息 3: 已经学会使用火

- A. 元谋人 B. 北京人 C. 河姆渡人 D. 半坡人
2. 《商君书》记载：“能得爵首一者，赏爵一级，益田一顷，益宅九亩。”该措施对秦国的影响是
- A. 强化对地方控制 B. 加强对人民管理
C. 激发生产积极性 D. 提高军队战斗力
3. 下面资料反映出都江堰水利工程的特点是

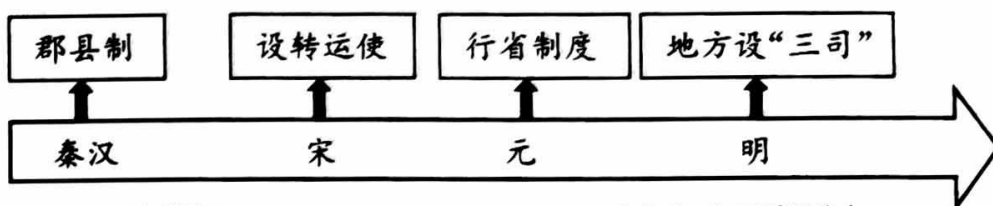
都江堰建成之初，灌溉面积五六十万亩。后来逐渐延伸到 13 个县，支流和渠道有 500 多条，灌溉面积 300 多万亩。新中国成立以后，经过不断维护和修整，都江堰的灌溉面积超过 1000 万亩。

- A. 选址科学 B. 结构精巧 C. 综合性强 D. 造福千秋
4. 将“仁”作为处理人与人关系的最高行为准则和道德规范，还主张实行“仁政”“礼治”的学派是
- A. 儒家 B. 道家 C. 法家 D. 墨家

5. 下表是北魏孝文帝改革前后北魏墓葬变化对比表。据此可知改革

	改革前北魏墓	改革后北魏墓
殉葬牲畜	牛、羊、马	猪、狗、鸡、羊等家畜陶俑
墓葬形制	梯形竖穴土坑墓（鲜卑族传统）	弧边方形砖室墓（仿东汉）
壁画装饰	狩猎、宴饮、打场、采桑等场景	儒家“孝悌”“升仙”等内容

- A. 结束了南北分裂割据的局面
 B. 促进了民族交融
 C. 推动了江南地区经济的发展
 D. 提高了文人地位
6. 下图是某同学复习中国古代政治制度时制作的年代尺。其反映出的趋势是



- A. 中外交流不断深入
 B. 地方权力不断增大
 C. 封建经济不断发展
 D. 中央集权不断加强
7. 以下表格呈现了中国古代中央政府对某一地区加强管辖的历史脉络。其中①处应:

朝代	事件
西汉	设置西域都护
唐	设置安西都护府和北庭都护府
清	(康熙) 平定噶尔丹叛乱
	(乾隆) ①

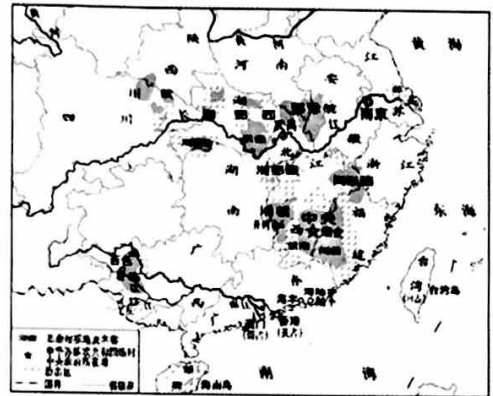
- A. 设置台湾府
 B. 设置驻藏大臣
 C. 设置伊犁将军
 D. 建立新疆行省
8. 以下以农业生产技术为主题的书籍是
- A. 《天工开物》《红楼梦》
 B. 《伤寒杂病论》《本草纲目》
 C. 《齐民要术》《农政全书》
 D. 《梦溪笔谈》《马可·波罗行纪》
9. 下图为某历史学习小组搜集的一组资料。由此判断他们研究的内容是



- A. 西方科技的引进
 B. 风俗习惯的变化
 C. 民族意识的觉醒
 D. 实业救国的实践

10. 在一本回忆录中有这样的记载：(1919年5月)天安门外有学生千余人，高呼口号“外争主权，内除国贼”“拒绝在和约上签字”等。这段文字描述的历史事件
- A. 宣告了中国两千多年君主专制制度的终结
 - B. 是中国历史上第一次近代化运动
 - C. 沉重地打击了清朝的统治和外国侵略势力
 - D. 是中国旧民主主义革命走向新民主主义革命的转折点

11. 右图是《1929—1932年农村革命根据地分布示意图》。与此图形势直接相关的著作是



- A. 《星星之火，可以燎原》
- B. 《论持久战》
- C. 《论联合政府》
- D. 《论十大关系》

12. 无声文物“讲述”有情故事。以下一组文物有助于理解



周巍峙为《中国人民志愿军战歌》谱曲的手稿



上甘岭阵地上的碎石粉末



黄继光烈士的日记本、背包



停战协定签订当日的《志愿军报》

- A. 红船精神
- B. 长征精神
- C. 抗美援朝精神
- D. “两弹一星”精神

13. 为了厘清“自治区”“经济特区”“特别行政区”的概念，小明同学制作了以下表格。请帮助他将①对外开放、②“一国两制”、③民族区域自治制度，填入对应位置。

卡片：_____	卡片：_____	卡片：_____
1965年西藏自治区成立	1980年深圳经济特区建立	1999年澳门特别行政区成立

从左至右排列序号，正确的是

- A. ①②③
- B. ①③②
- C. ②①③
- D. ③①②

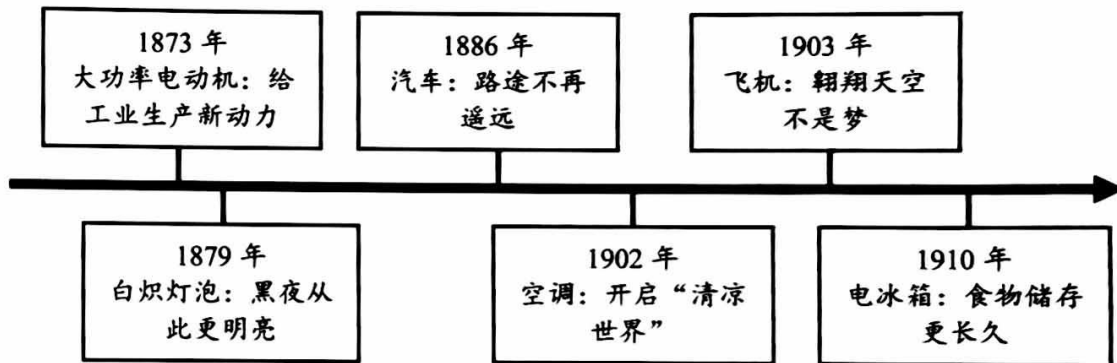
14. 14—17 世纪的文艺复兴运动，涌现出了大量的文学家、思想家和艺术家。下面属于这一时期的作品是

- A. 《神曲》 B. 《英雄交响曲》 C. 《高老头》 D. 《战争与和平》

15. 以下大事年表的名称应是

时间	1640 年	1688 年	1787 年	1789 年	1804 年
事件	英国议会重新召开	英国发生“光荣革命”	美国宪法制定	巴黎人民攻占巴士底狱	《拿破仑法典》颁布

- A. 走向近代 B. 资本主义制度的初步确立
C. 资本主义制度的扩展 D. 二战后的世界变化
16. 《共产党宣言》是国际共产主义运动史上的重要文献。它的发表标志着
- A. 马克思主义诞生 B. 无产阶级政权的建立
C. 第一国际的成立 D. 社会主义制度的确立
17. 发明创造改变了生产生活。以下发明成果出现于



- A. 第一次工业革命时期 B. 第二次工业革命时期
C. 罗斯福新政时期 D. 第二次世界大战时期
18. 英国科学家牛顿是近代自然科学的奠基人之一。他提出了
- A. 地圆说 B. 万有引力定律 C. 进化论 D. 相对论
19. 1903 年，一位德国大臣说：“皇帝首要的和基本的思想就是粉碎英国的霸权，以有利于德国。” 1911 年，一位英国外交大臣说：“真正决定我国外交政策的，是海上霸权的问题。” 以上材料可用于研究
- A. 第一次世界大战的背景 B. 英国殖民霸权的确立
C. 第一次世界大战的结果 D. 德国法西斯政权建立
20. 1942 年 1 月，美、英、中、苏等 26 个国家签署《联合国家宣言》，保证使用全部的资源对法西斯国家作战，相互合作，绝不单独停战议和。这一举措
- A. 加速了反法西斯战争胜利进程 B. 彻底消除签字国之间的分歧
C. 奠定了二战后世界发展新格局 D. 标志着两极格局的最终瓦解

第二部分

本部分共 4 道题，共 40 分。

21. (12 分) 繁华丝路·美美与共

【丝路使者·逐梦】

材料一 无数像他们一样的丝路使者们，用自己的人生织就了这条贯穿东西的伟大的丝绸之路。

A	B	C
<p>他，于公元前 138 年和公元前 119 年，两次踏上前往西域的征程。他走访了乌孙等西域许多国家。之后，西域各国纷纷派使节来到长安，促进了汉朝与西域各国之间的相互了解与往来。</p>	<p>他，在贞观初年前往天竺取经。他遍访天竺的名寺，研习佛法。10 多年后，他携带大量佛经回到长安。他的《大唐西域记》是研究中外交流史的珍贵文献。</p>	<p>他，于 1405—1433 年率满载着中国的优质丝绸、精美瓷器、上等茶叶和漆器等各类物品的船队 7 次下“西洋”。他的远航，时间之长，规模之大，堪称世界航海史上的空前壮举，为人类的航海事业作出了伟大贡献。</p>

材料二

<p>①</p>	<p>②</p>
<p>③</p>	

(1) 请分别写出材料一中三个“他”的名字。(3 分) 在材料二中找到与“他”相对应的路线图。(3 分，只填序号)

【丝路信物·联结】

材料三 千百年来，无数文物犹如一颗颗珍珠散落于丝绸之路沿线，串起一段段记忆。

公元1世纪 庞贝古城壁画	隋 驮囊陶骆驼	宋 金腰带	明 青花开光水禽团盘
			
出土于罗马帝国的庞贝古城遗址，收藏于意大利那不勒斯国家考古博物馆。壁画描绘了一位正在采花女子的背影，画中飘逸的衣裙，正是来自于遥远东方的珍贵丝绸。	出土于陕西省，以古丝绸之路上重要的交通工具骆驼为形，驼囊上模印了来自于西方的兽首角杯及罗马柱，这体现希腊题材与本土题材的结合。	出土于广东“南海I号”沉船中，腰带工艺精良，带体呈麻花状，带扣装饰细腻，极具异域风情。这种腰带形制不见于国内，推测为中东地区器物样式。	产自于景德镇窑，现收藏于上海博物馆。盘心以八瓣花连弧开光装饰，被称为“克拉克”或“芙蓉手”瓷，是明末外销瓷中最著名的品种，国内很少见，是专为出口而生产的。

(2) 依据材料三，概括以上文物的特点。(2分) 结合所学，说出丝绸之路的作用。(2分)

【丝路建设·共赢】

材料四

十年间，中国已经与 152 个国家和 32 个国家组织签署了 200 多份共建“一带一路”合作文件；中国与共建国家进出口总额累计超 21 万亿美元，对共建国家直接投资累计超 2700 亿美元；为共建国家和地区创造了 42.1 万个工作岗位；中国每年向共建国家和地区提供 1 万个政府奖学金名额，累计培养各类人才 10 万余名；与 144 个共建国家签署文化和旅游领域合作文件；共建国家在华新设企业接近 6.7 万家；中欧班列已通达欧洲 25 个国家和地区的 200 多座城市；“丝绸之路文化遗产保护与传承联盟”已吸纳 17 个国家 54 家单位。

——数据（2013—2023 年）整理自中国一带一路网

(3) 依据材料四中“一带一路”的建设成就，说出中国政府所秉持的理念。(2分)

22. (10分) 书信与记忆

材料一

家书即家信，指漂泊在外的人与家人相互来往的信，是人们在不同的时间和空间进行信息和情感交流的载体。家书以其真实的、鲜活的、广泛的、个人化的记录，可以补充历史的细节，丰富大历史的“表情”。家书的内容记载了真实的社会状况、人物的生活状态和心理活动，可为社会史研究注入活力，同时为撰写个人史、家庭史等提供重要史料。

——摘编自张丁《大历史的小细节，大时代的“微”情感——民间家书的文化价值》

(1) 依据材料一，概括家书的史料价值。(2分)

材料二 抗战家书节选

宁儿：

我最亲爱的孩子啊！
母亲不用千言万语来教育你，就用实行来教育你。在你长大成人之后，希望你不要忘记你的母亲是为国而牺牲的！

你的母亲赵一曼于车中
1936年8月2日

亲爱的父亲、母亲：

儿不愿做个时代的落伍者，不愿落人后……和男人一样为国家民族求解放，做一点有意义的事业……所以儿决定来此（延安）学习一点真实学问，求中国民族解放的方法。

漂泊的女儿敬稟
(复旦学生韩雅兰)
1937年4月18日

母亲：

我军在西北的战场上，不仅取得光荣的战绩，山西的民众，整个华北的民众，对我军极表好感。他们都唤着“八路军是我们的救星”。我们也决心与华北人民共艰苦，共生死。

男自林（左权）
1937年12月3日于洪洞

亲爱的父母亲：

这次去，纯为效劳祖国而去，虽然在救国建国的大事业中，我的力量简直是够不上“沧海一粟”，可集天下的水滴而汇成大洋，我希望能在这救亡的洪流中，竭我一滴之微力。

女儿雪娇（华侨）
(民国)廿八年五月十八日

仰之我弟如晤：

我相信，只要我等能奉此决心，我们的国家及我五千年历史之民族，决不至亡于区区三岛倭奴之手。为国家民族死之决心，海不清，石不烂，决不半点改变。

小兄张自忠手启
(民国二十九年)五月六日

亲爱的荷馨：

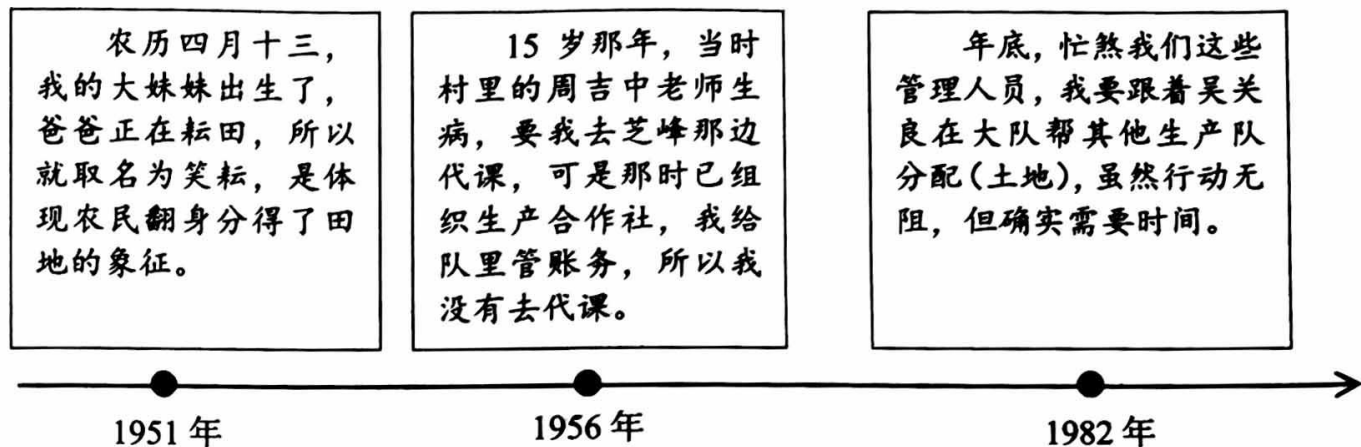
余此次奉命固守同古（位于今缅甸），因上面大计未定，其后方联络过远，敌人行动又快，现在孤军奋斗，决以全部牺牲以报国家养育！为国战死，事极光荣！

安澜（中国远征军将领）
民国三十一年三月二十二日

(2) 依据材料二并结合所学，指出以上家书书写时中国社会的主要矛盾。(1分) 概括家书所反映的共同愿望。(2分)

材料三

《见证：一位农民的新中国七十年》通过出生在浙西的农民罗雪昌的独特视角，从一个个体的角度来呈现我国 70 年的发展变迁。



(3) 分别说出材料三中所体现的农业政策。(3 分)

(4) 结合你的生活实际，说出当今与家人朋友联系的方式。(1 分) 谈谈这种联系方式所反映的时代发展特点。(1 分)

23. (9 分) 咖啡看见历史

材料一

16 世纪，在阿拉伯半岛的也门，出现了一种用原产自埃塞俄比亚的植物果实制作的新饮料，这就是咖啡。到 17 世纪，咖啡在欧洲已经非常流行。为了控制咖啡贸易，欧洲人从阿拉伯半岛获取了咖啡幼苗。之后咖啡产业在西半球快速发展：1730 年英国人把咖啡引进牙买加；1748 年西班牙把咖啡带到古巴，在 1750 年传入危地马拉，1764 传到秘鲁，1779 年是哥斯达黎加，1784 年是委内瑞拉，1790 年是墨西哥；葡萄牙人则在 1752 年将咖啡引入了巴西。所有这些国家的共同点是他们拥有大量奴隶，能够以惊人的速度建立起咖啡种植园。

——摘编自（美）安东尼·威尔蒂《咖啡：黑色的历史》

(1) 依据材料一并结合所学，说出咖啡产业在西半球快速发展的背景。(2 分)

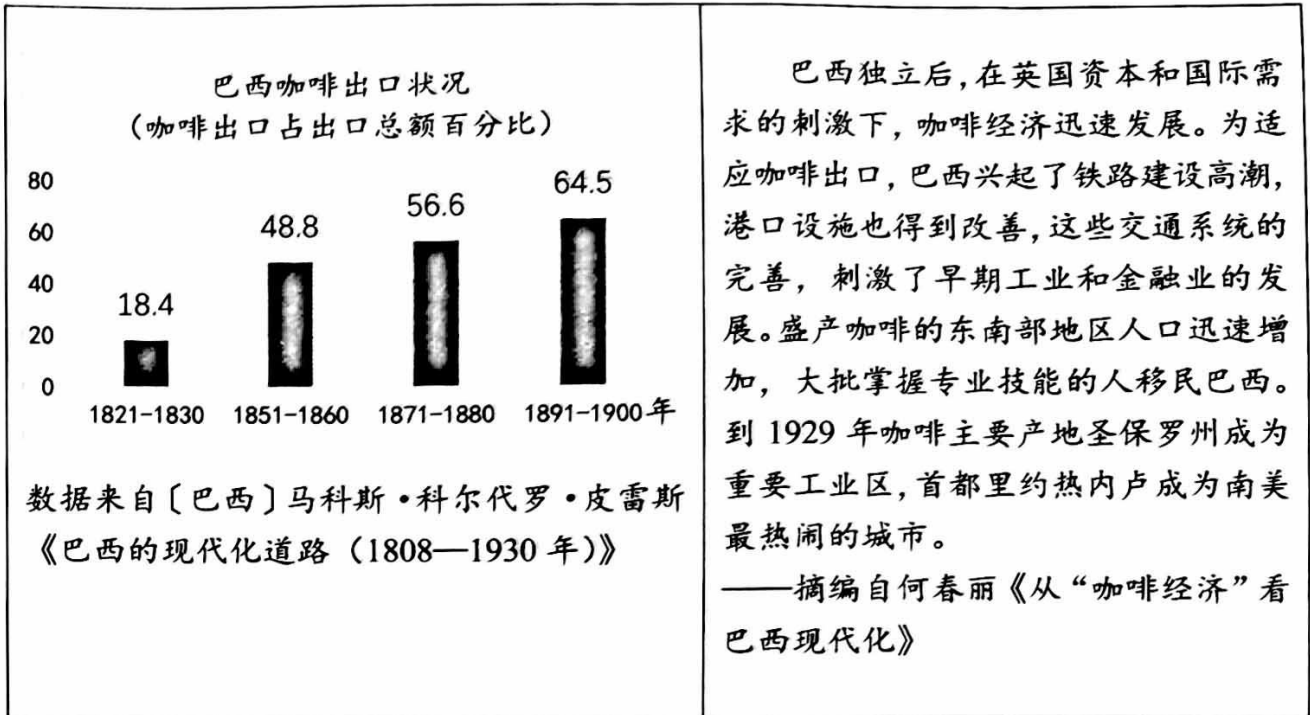
材料二

咖啡种植地民族解放运动概况（部分）

阶段	事件
19世纪到第一次世界大战前	1804年，经过十几年艰难斗争，法属殖民地海地独立
	1822年，葡属巴西宣布脱离葡萄牙统治而独立，1825年，葡萄牙承认巴西独立
	19世纪前期，玻利瓦尔和圣马丁领导独立运动，西属拉丁美洲基本取得独立
	1857年，印度爆发反抗英国殖民统治的民族大起义
	1896年，埃塞俄比亚经过两年艰难斗争，打退意大利侵略者，保持了自己独立
第一次世界大战后	1926—1927年，印度尼西亚共产党领导了第一次反抗荷兰殖民者的武装起义
	20世纪30年代，墨西哥卡德纳斯改革，巩固了资产阶级革命的成果
	1941年，埃塞俄比亚击败意大利的侵略军，恢复国家独立
第二次世界大战后	1947年，英国被迫同意印度独立
	1959年，卡斯特罗领导古巴人民推翻美国支持的独裁政权
	1960年，17个非洲国家独立，这一年被称为“非洲年”
	1990年，纳米比亚独立，标志着所有非洲国家都摆脱了殖民主义的枷锁

(2) 依据材料二，概括咖啡种植地民族解放运动的特点。(3分)

材料三



(3) 依据材料三,说出“咖啡经济”在巴西发展中的作用。(2分)

材料四

咖啡贸易是中非经贸合作的重要组成部分,依托中非经贸合作平台,中国帮助非洲整合咖啡产业链上下游资源,打通从“一粒种子”到“一杯咖啡”中间的各个环节。中国农业农村部国际交流服务中心自2012年以来累计向非洲11个国家派出38个组367人次农业专家,共向受援国传授适用技术近千项。农业农村部系统自2012年以来为非洲52个国家举办了400余期农业培训班,累计培训学员近万人次。在开展对非农业合作过程中,中方毫无保留地把长期以来从中国农业发展和脱贫攻坚中总结的经验和智慧分享给非洲朋友。

——摘编自人民日报《中非农业科技合作坚持“授人以渔”》(2022年10月18日)

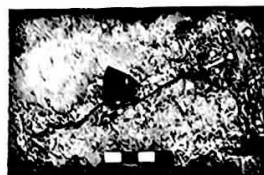
(4) 依据材料四并结合所学,谈谈中国对非洲国家农业发展做出的贡献。(2分)

24. (9分) 龙年话龙

【寻龙之足迹】

材料一

辽宁查海遗址龙形堆石 辽宁牛河梁遗址玉猪龙 山西陶寺遗址彩绘龙纹陶盘 二里头遗址绿松石龙形器 卷体夔纹蟠龙盖鼎



距今约 8000—7000 年

目前所见最早的可能与龙相关的形象。

距今约 5500—5000 年

不同地区出现的龙形象来源有鳄鱼、蛇、猪等多种说法，但多为单一动物为原型。

距今约 4300—4000 年

此盘龙纹身像蛇，又与鳄鱼接近，是集两种或两种以上动物的特征于一身。

夏

二里头时期的龙形象有了规范和统一。

西周

龙形象融入蛇身、鹿角、鸟爪等重要部件，各地区龙纹整体特征相近。

分有宫廷龙纹以及民间龙纹两部分，龙纹使用更加广泛。

清



故宫九龙壁(局部)

龙形象逐渐定型，“角似鹿、头似驼、眼似兔、项似蛇、腹似蜃、鳞似鱼、爪似鹰、掌似虎、耳似牛”。

宋



《九龙图》(局部)

龙形态升腾于云雾之间，龙纹的使用更为普遍。

唐



鎏金铁芯铜龙



龙纹瓦当

汉

(1) 依据材料一，说说你对龙形象演变过程的认识。(2分)

【见龙之腾飞】

材料二



图一是 1900 年在德国国内邮寄的明信片《在中国的战争》。画面中一条龙被困于宫殿之中，正在被攻击，代表日本的人物站在前方打先锋，英德等伺机而动，反映的是列强瓜分中国的场景。





图二为 2023 年末联合国总部举办的“龙腾四海，共迎新春”画展中意大利设计者的作品。这幅画以中国红为底色，将中国龙与意大利建筑进行融合，画面周围有橄榄枝，象征着和平，也象征着两国文化的交融与和谐之美。

(2) 依据材料二并结合所学，说出画作中 1900 年和 2023 年龙形象寓意的不同。(2 分)
并分析寓意变化的原因。(1 分)

【探龙之精神】

材料三 国之利器，以龙为名

	
<p>“雪龙 2”号——我国第一艘自主建造的极地科学考察破冰船，也是世界上第一艘双向破冰极地科考船。“龙”代表中国，“雪”意味着南极的冰雪世界。</p>	<p>“蛟龙”号——我国自行设计、自主集成研制、拥有自主知识产权的世界首个深海载人潜水器。“蛟龙号”也是取“蛟龙”入水的美好寓意。</p>
	
<p>华龙一号——我国具有完全自主知识产权的三代核电技术，打破了国外核电技术垄断与知识产权限制，实现了核电从跟跑到并跑的跨越。“华”表示华夏民族，“龙”体现中国人的民族精神，“一号”表示是自主开发的排头兵、引领者。</p>	<p>威龙 歼-20——一款具备高隐身性、高态势感知、高机动性等能力的国产隐形第五代制空战斗机。“威”指威武霸气、扬我国威，“龙”则代表守卫和平的中国。</p>

(3) 大国重器以龙为名寄托了中国人的美好愿望。依据材料三，归纳我国科技发展的表现。(2 分)

【承龙之血脉】

(4) “古老的东方有一条龙，它的名字就叫中国。古老的东方有一群人，他们全都是龙的传人。”结合上述材料，谈谈我们为何以“龙的传人”自称。(2 分)

房山区 2023-2024 年学年度第二学期综合练习（一）

九年级历史

第一部分 选择题

1	2	3	4	5	6	7	8	9	10
B	D	D	A	B	D	C	C	C	D
11	12	13	14	15	16	17	18	19	20
A	C	D	A	B	A	B	B	A	A

第二部分 材料分析题

21.

(1)

	A	B	C
“他”	张骞	玄奘	郑和
路线图	③	②	①

(6分)

(2) 特点：样式丰富、材质种类多、制作精美、工艺水平高、风格中外融合等。(2分)

作用：丝绸之路是古代东西方往来的大动脉，对于中国同其他国家和地区的贸易与文化交流，起到了极大的促进作用。(2分)

(3) 和平合作、开放包容、互学互鉴、互利共赢(2分)

22.

(1) 家书能真实、鲜活、广泛地记录历史。(2分)

(2) 中华民族同日本帝国主义的矛盾(中日民族矛盾)。(1分)

愿望：取得抗日战争的完全胜利，实现民族独立、人民解放。(2分)

(3) 实施土地改革；开展农业合作化；实行家庭联产承包责任制(3分)

(4) 方式：视频、电话、网络联系等。(1分)

特点：信息化(1分)

23.

(1) 新航路的开辟、欧洲殖民扩张、三角贸易(2分)

(2) 亚非拉地区民族解放运动高涨；民族解放运动持续时间长；斗争过程坎坷；涉及国家数量多，范围广；都在积极反抗侵略统治并谋求本国发展。(3分)

(3) 出口咖啡为巴西带来大量收益；“咖啡经济”繁荣促进巴西基础设施建设；促进巴西工业、金融业发展；促进人口增加以及城市化建设等。(2分)

(4) 帮助非洲整合资源；向非洲派遣专家、传授技术；给非洲培养技术人才；传授中国发展的经验和智慧等。(2分)

24.

(1) 体现中华文明多元一体、兼收并蓄、绵延不断的特征。(2分)

(2) 变化：画作中龙形象由任人宰割、受尽侵略到象征和平、友好发展。(2分)

原因：中国国家实力、国家地位提高；中国提倡和平发展理念。(1分)

(3) 自主、创新、领先世界、领域广泛。(2分)

(4) 言之有理即可。(2分)