



顺义区 2024 年初中学业水平考试综合练习(一)

历史试卷

学校 _____ 班级 _____ 姓名 _____ 准考证号 _____

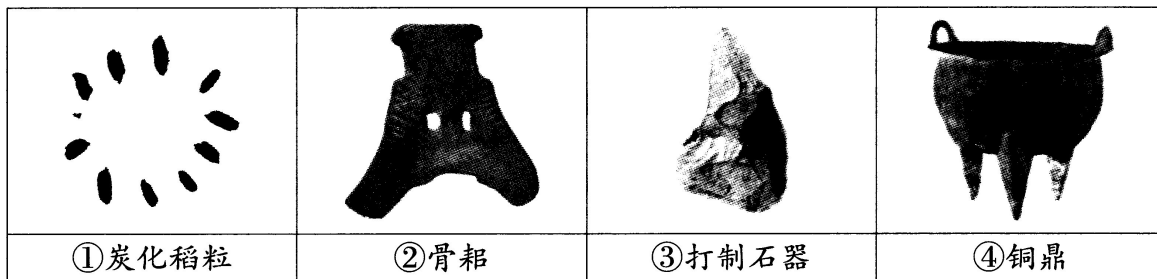
考生须知

1. 本试卷共 8 页,共两部分,共 24 题,满分 70 分。考试时间 70 分钟。
2. 在答题卡上准确填写学校、班级、姓名和准考证号。
3. 试题答案一律填涂或书写在答题卡上,在试卷上作答无效。
4. 在答题卡上,选择题用 2B 铅笔作答,其他试题用黑色字迹签字笔作答。
5. 考试结束后,将答题卡交回。

第一部分

本部分共 20 题,每题 1.5 分,共 30 分。在每题列出的四个选项中,选出最符合题目要求的一项。

1. 下列考古发现中,能够用于研究中国原始农耕生活的是



- A. ①② B. ①③ C. ②③ D. ③④

2. 战国时期,由于生产工具和技术的进步,推动社会结构发生了重大变化;各诸侯国统治者寄希望于实行改革来确定新的政治经济秩序,以求富国强兵。以上内容可以说明

- A. 早期国家的产生 B. 铁器牛耕出现的原因
C. 商鞅变法的背景 D. 秦国完成统一的过程

3. 以下分别是秦始皇和汉武帝实行的统治措施(部分)。其共同点是

秦始皇	汉武帝
命李斯等人统一文字,制定笔画规整的小篆,作为通用文字颁行全国	接受董仲舒的建议,把儒家学说立为正统思想;在长安兴办太学

- A. 加强国家对思想文化的管理 B. 打击了豪强地主势力
C. 改变了以往币制混乱的状况 D. 便利了各地交通往来

4. 某同学在整理两汉时期的笔记时出现了“蔡伦改进造纸术”“张仲景与《伤寒杂病论》”“华佗发明‘麻沸散’”等内容。按其整理的主题还可以补充的有

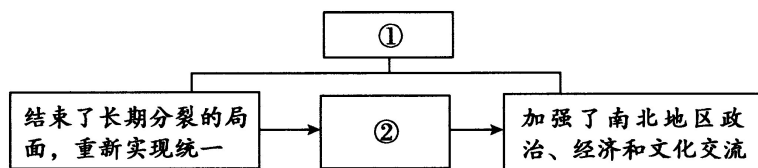
- A. 王羲之作《兰亭集序》 B. 司马迁撰写《史记》
C. 毕昇发明活字印刷术 D. 宋应星著《天工开物》

5. 魏晋南北朝时期,在相互接触中,北方原有民族格局被打乱,民族间差异逐渐缩小。各民族间相互学习,形成了民族交融的高潮,为新的统一局面的出现奠定了基础。其意在说明

- A. 丝绸之路是古代东西方的大动脉 B. 赤壁之战为三国鼎立局面奠基
C. 南朝时形成了大规模的人口迁徙 D. 民族交融为隋唐发展创造条件



6. 以下是某朝代的知识结构示意图。填入①②处的应是



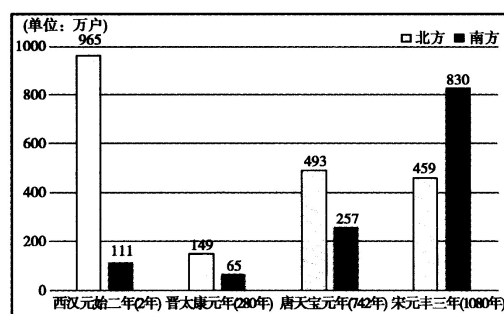
- A. 战国 修建都江堰
- B. 秦朝 修建长城
- C. 隋朝 开通大运河
- D. 明朝 修建北京城

7. 有文章指出：“九品中正之弊致成贵族政治，矫之以科举，而后贡选考试机会均等……庶民之优秀者，亦得与贵族均享政权。”这表明科举制度

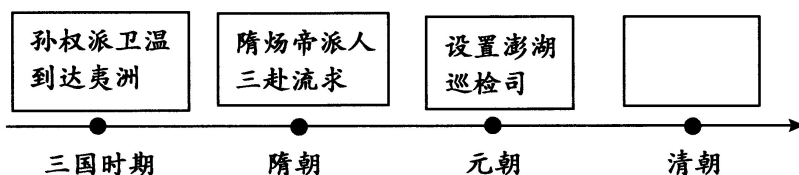
- A. 扩大了官吏的选拔范围
- B. 选拔权由上层权贵垄断
- C. 扭转了尚武轻文的风气
- D. 严格规定考试文体格式

8. 右侧《西汉至宋代南北方户数变化图》反映了

- A. 民族政权的并立
- B. 对外交往的频繁
- C. 政治制度的完善
- D. 经济重心的南移



9. 某同学用时间轴的形式梳理了中国古代某一地区的相关史实。填入方框里的内容应是



- A. 设置西域都护
- B. 设置宣政院
- C. 设置台湾府
- D. 设置伊犁将军

10. 近代随着列强的入侵,中国逐步沦为半殖民地半封建社会。下表反映的现象是

时间	条约	内容
1842年	《南京条约》	开放广州、福州、厦门、宁波、上海五处为通商口岸
1858年	《天津条约》	增开汉口、南京等十处为通商口岸
1895年	《马关条约》	开放沙市、重庆、苏州、杭州为商埠
1901年	《辛丑条约》	划定北京东交民巷为使馆界,允许各国派兵驻守

- A. 列强侵占了中国大量的领土
- B. 中国的赔款金额逐渐增加
- C. 列强侵略势力逐渐深入腹地
- D. 列强掀起瓜分中国的狂潮

11. 右侧所示是中国近代某一刊物上发表过的文章及作者。该刊物是

- A. 《申报》
- B. 《时务报》
- C. 《民报》
- D. 《新青年》

1917年 陈独秀 《复辟与尊孔》
 1917年 胡适 《文学改良刍议》
 1918年 鲁迅 《狂人日记》
 1918年 李大钊 《庶民的胜利》



12. 以下歌曲在 20 世纪三四十年代响彻中华大地,汇成时代的最强音。这里的“时代最强音”指的是

时间	歌曲名称	歌词(部分)
1934 年	《毕业歌》	同学们,大家起来,担负起天下的兴亡!
1939 年	《黄河大合唱》	保卫家乡! 保卫黄河! 保卫华北! 保卫全中国!
1943 年	《团结就是力量》	向着法西斯蒂开火,让一切不民主的制度死亡。

- A. 自强求富 B. 变法图强 C. 走向共和 D. 抗日救亡

13. 中国共产党历来重视农民、农业和农村问题。以下图片反映的历史事件的共同作用是



解放战争时期翻身农民丈量分配土地



《中华人民共和国土地改革法》受到农民热烈拥护

- A. 保障了解放战争的胜利 B. 解放了农村生产力
C. 实现了社会主义工业化 D. 确立了土地公有制

14. 1955 年,周恩来在国际会议中进行了精彩发言,强调“求同”而不是“立异”,主张不同思想意识和社会制度的存在并不妨碍求同和团结。这次会议

- A. 促使中国提出和平共处五项原则 B. 加强了中国与亚非各国的团结合作
C. 推动了中美关系走向正常化 D. 推动了中国全方位外交格局的建立

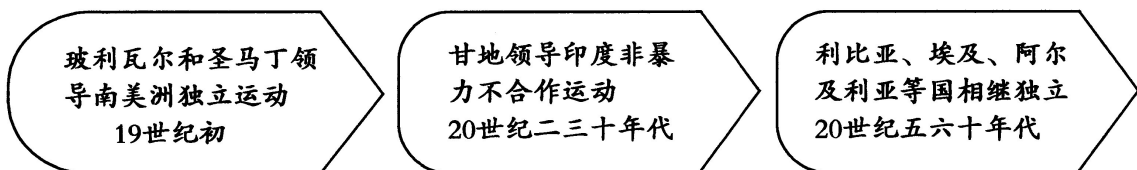
15. 某学习小组摘录了斯塔夫里阿诺斯在《全球通史》中的一段话:“1500 年以前,人类基本上生活在彼此隔绝的地区中……直到 1500 年前后,各种族集团之间才第一次有了直接交往。从那时起,他们才终于联系在一起。”据此判断其学习的主题是

- A. 郑和下西洋的背景 B. 新航路开辟的影响
C. 日本明治维新的措施 D. 经济大危机的表现

16. 1689 年《权利法案》基本上是重申英国人“自古就有的权利”,比如议会必须定期召开,征税权属于议会等。从表面上看似乎没什么新意,但事实上却是政体制度上的一次革命。材料中“政体制度上的一次革命”指

- A. 君主立宪制逐渐形成 B. 君主制度彻底废除
C. 民主共和制正式确立 D. 福利政策广泛推行

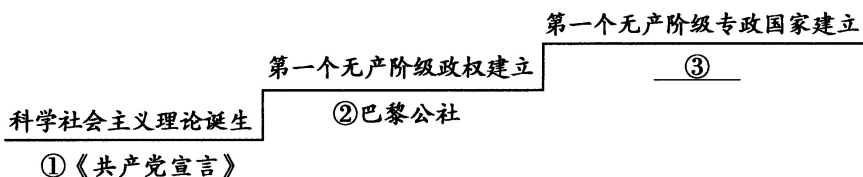
17. 某校的历史展览中出现了以下内容。由此可知其展览的主题为



- A. 中世纪城市的兴起 B. 亚非拉民族解放运动的发展
C. 资本主义制度的扩展 D. 欧洲一体化的趋势不断加强



18. 以下是国际共产主义运动发展示意图,其中③处的内容是



- A. 彼得一世改革
B. 亚历山大二世改革
C. 俄国十月革命
D. 新经济政策
19. 1942年1月,美、英、苏、中等26个国家的代表在华盛顿签署了一份文件,以下列举了其
中部分内容。据此判断,该文件的发表

(一)每一政府各自保证对与各该政府作战的三国同盟成员国及其附从者使用其全部资源,不论军事的或经济的
(二)每一政府各自保证与本宣言签字国政府合作,并不与敌人缔结单独停战协定或和约




- A. 使欧洲冷战对峙的局面基本形成
B. 标志世界反法西斯同盟建立
C. 标志着新的国际组织联合国成立
D. 促进了全球贸易和经济发展
20. 习近平总书记强调:“认识世界发展大势,跟上时代潮流,是一个极为重要并且常做常新的课题”。20世纪至今,世界政治格局出现了三次大的演变,按其形成的先后顺序排列正确的是
- ① 多极化趋势
② 凡尔赛-华盛顿体系
③ 两极格局
- A. ①②③
B. ①③②
C. ②③①
D. ③①②

第二部分

本部分共4题,共40分。

21. (10分)展览:历史见证·创新发展







材料一

故宫博物院瓷器展(部分)		
		
(商)原始瓷青釉弦纹罐	(宋)汝窑天青釉三足樽承盘	(元)青花釉里红镂雕盖罐
商代社会发展,手工业进步。原始青瓷制作过程中已开始使用瓷土和拉胚技术,但是其烧成温度比瓷器低,器物造型不甚规整,釉色不稳定。在烧造工艺上与真正的瓷器相比还具有一定的原始性	宋代经济繁荣,瓷器制造业蓬勃发展。宋代瓷器造型丰富,刻花、印花等技术以及青色、白色等单色瓷器不断发明,特别是天青色烧制所需瓷土规格较高,窑温控制比较精确,釉彩杂质很少	元代实现了大一统,贸易往来频繁。元朝对工匠的重视激发了制瓷的创造力。与此同时景德镇制瓷业高度发达。烧制青花釉里红瓷器需要精确控制窑温和烧制时间,釉料极其纯净

(1)依据材料一,指出中国古代瓷器艺术风格的变化。(1分)说说其变化的原因。(2分)



材料二

		
①中世纪晚期,西欧农民使用重犁,生产力发展,产品推向市场	②1776年《独立宣言》签署,号召殖民地人民反对英国的殖民统治	③达·芬奇作品《蒙娜丽莎》以现实人物为主题,展现了生命的活力
		
④1765年以后,英国利用《印花税》等新税法加大对殖民地的剥削	⑤1789年7月14日,巴黎人民攻占了象征国王统治的巴士底狱	⑥1789年制宪议会颁布《人权宣言》,宣告法律面前人人平等

(2) 史事的发生都有其前因后果。从材料二中选择两件展品,参照示例,对其所反映史事的因果关系进行说明。(5分,示例组合除外)

示例:①③

中世纪晚期,西欧农民使用重犁,促进了生产力的发展,出现了资本主义萌芽。

达·芬奇创作的《蒙娜丽莎》,以现实人物为主题,是文艺复兴时期的绘画代表作品。

欧洲资本主义经济的萌芽,使得形成中的资产阶级不满罗马教廷的精神控制,提倡发扬人的个性,人文主义思潮逐渐流行,文艺复兴运动兴起。

材料三 在北京的中轴线北延长线东侧,一座永久性、综合性的党史展览馆巍然矗立。按照习近平总书记重要指示,展览把握住“守正”和“创新”的关系,既突出大气耐看,同时创造新体验。其展览运用数字化等技术和手段,研究设计体验式、沉浸式、互动式的项目。例如,“4D+6面”全景影院立体直观还原历史场景;《飞越中国》项目让体验者在驾驶舱中飞越革命圣地;通过炼钢炉造型艺术装置结合液晶屏幕上钢水流动的动画视频,展示新中国成立初期各项建设取得的若干个“第一”。这些项目让人们在观展中获得全方位的感受,丰富展览的观赏性和参与性,提高艺术水准和品位。

——摘编自新华社《壮丽的史诗,精神的殿堂》

(3) 依据材料三,谈谈你对“展览数字化”的认识。(2分)

22. (10分) 在接续奋斗中书写中华民族新的辉煌

材料一 【探寻思想之源】

▶ 政之急者,莫大乎使民富且寿也

——《孔子家语》

▶ 治国有常,而利民为本 ——《淮南子》

▶ 无产阶级的运动是绝大多数人的,为绝大多数人谋利益的独立的运动

——《共产党宣言》

● 中国共产党是为人民服务的

——毛泽东

● 我们要增加我们的国民收入,使人民的生活一步步好起来 ——邓小平

● 中国共产党必须把人民放在心中最高位置 ——习近平

(1) 依据材料一并结合所学,指出中国共产党执政理念的思想来源及核心内涵。(3分)



材料二 【践行初心使命】

决议名称	背景	内容(部分)
《关于若干历史问题的决议》(1945年)	诞生于抗日战争即将胜利、夺取新民主主义革命胜利的关键时期	为实现新民主主义而进行的二十四年的奋斗中,我们党始终一贯地领导了广大的中国人民,进行了艰苦卓绝的革命斗争,取得了伟大的成绩和丰富的经验……在以毛泽东同志为首的中央的正确领导之下,必将使中国革命达到彻底的胜利
《关于建国以来党的若干历史问题的决议》(1981年)	形成于解放思想、拨乱反正的历史转折中	中国共产党在中华人民共和国成立以后的历史,总的说来,是我们党在马克思列宁主义、毛泽东思想指导下,领导全国各族人民进行社会主义革命和社会主义建设并取得巨大成就的历史。社会主义制度的建立,是我国今后一切进步和发展的基础
《中共中央关于党的百年奋斗重大成就和历史经验的决议》(2021年)	形成于“两个一百年”奋斗目标交汇的关键节点	党的十八大以来,以习近平同志为核心的党中央领导全党全军全国各族人民砥砺前行,全面建成小康社会目标如期实现,党心军心民心空前凝聚振奋,为实现中华民族伟大复兴提供了更为完善的制度保证、更为坚实的物质基础、更为主动的精神力量

(2) 依据材料二,从背景和内容的角度概括三个决议的共同点。(2分)结合所学,参照示例,从以下所给的事件中任选其一,说明中国共产党为推进中华民族的伟大复兴所做的努力。(2分,示例除外)

- ①建立井冈山革命根据地 ②红军长征 ③百团大战 ④抗美援朝 ⑤十一届三中全会

示例:中国共产党在井冈山建立农村革命根据地,领导人民打土豪、分田地,建立革命政权,开展了土地革命和游击战争,从进攻大城市转向进军农村,是中国革命具有决定意义的新起点,推动了中华民族的伟大复兴。

材料三 【贡献中国力量】

2013年以来,中国已与150多个国家、30多个国际组织签署了230多份共建“一带一路”合作文件。形成了3000多个合作项目,成立了20多个专业领域多边合作平台



截至2023年,中国共派出维和人员5万多人次,赴20多个国家和地区参加近30项联合国维和行动,先后有25名中国维和人员献出宝贵生命

中国积极参与应对气候变化全球治理。截至2023年11月,中国已与40个发展中国家签署48份气候变化南南合作谅解备忘录,通过合作建设低碳示范区、开展减缓和适应气候变化项目、组织能力建设和培训等方式,为其他发展中国家提供支持

(3) 依据材料三,指出中国为世界发展所作的贡献。(2分)结合所学,说说中国向世界传达的理念。(1分)



23. (10分) 车轮上的历史

材料一



①西周青铜轮牙马车



②秦始皇陵出土的铜车马



③元代黑陶马车


该车车轮外沿由青铜铸造。据车轮上的痕迹判断，该车代表某种西周高等级贵族的礼制。关于这种礼制，有史书记载：“天子驾六马，诸侯驾四，大夫三，士二，庶人一”

这种车子古代叫作“安车”，是秦始皇出巡时乘坐的车。秦始皇曾东巡，经邯郸郡、常山郡、广阳郡，进入今北京地区，到达蓟城

该车造型精美，整体规整，充满了生活气息，丰富了交通运输史资料。元朝为便利交通运输，建立驿站，不仅远至云南、辽阳行省，甚至直通国外

(1) 依据材料一，概括中国古代车马的主要功能。(2分) 结合所学，任选一件文物，说明与之相关的政治制度名称及其影响。(2分)

材料二



1885年内燃机驱动的德国“奔驰1号”汽车



1913年美国福特汽车公司的生产流水线

(2) 依据材料二并结合所学，判断以上发明成果出现在_____；(1分，写字母) 结合相关史实，从不同角度说明判断理由。(2分)

- A. 第一次工业革命时期 B. 第二次工业革命时期

材料三

新质生产力是指新的高水平的现代化生产力，具有高科技、高效能、高质量、可持续等特点

2021—2023年我国新能源汽车产销表

时间	产量(万辆)	销量(万辆)	国内市场占有率
2021年	367.7	299	13.4%
2022年	700.3	688.7	25.6%
2023年	958.7	949.5	31.6%



全球一半以上的新能源汽车行驶在中国大地上，60%以上的动力电池都是由中国生产供应。新能源汽车的普及有助于减少传统燃油车对环境的污染，提高空气质量。人们对于环保、科技的追求，推动着整个汽车产业向着更为可持续、智能化的方向发展

(3) 依据材料三，说出我国新能源汽车的发展状况。(2分) 谈谈新能源汽车与新质生产力的关系。(1分)



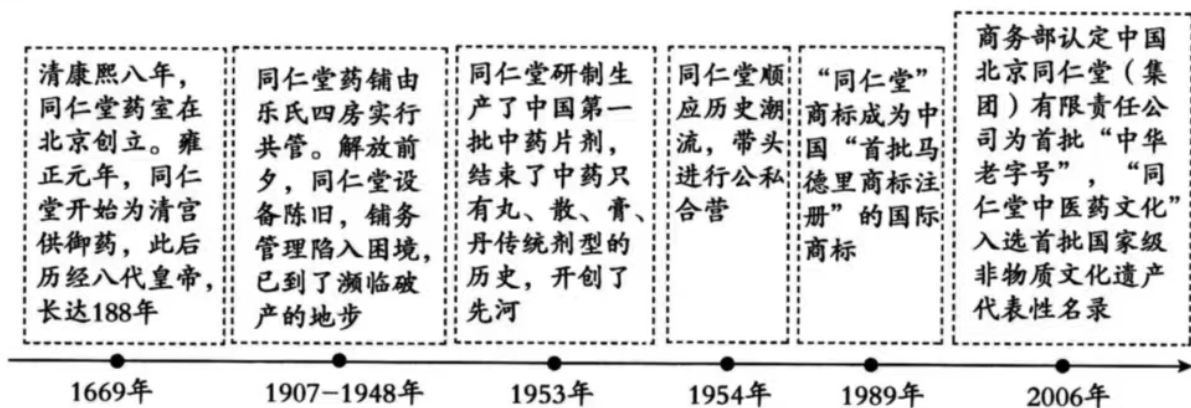
24. (10分) 探寻历史文脉·走进北京非遗

材料一

北京景泰蓝技艺	京剧	杨镇龙灯
因成熟于明景泰年间而得名。其制作需要经过十几道工序,体现了中国传统工艺门类之间的相互学习、借鉴,是研究中国工艺史的鲜活材料。景泰蓝制品经常被作为国礼馈赠外宾,是中国与世界人民友谊的见证	清乾隆年间,四大徽班进京,与来自湖北的汉调艺人合作,接受昆曲、秦腔的表演方法,吸收地方民间曲调,最终形成京剧。京剧分布地以北京为中心,遍及全国并走向世界,成为传播中华优秀传统文化的媒介	顺义杨镇龙灯会距今已有200多年的历史,最初是庙会活动。后来,逐渐变为娱乐乡亲,增加节日气氛的活动。但龙灯会的舞龙技法、套路、伴奏的鼓谱仍沿袭前代,只是表演形式稍做变动,以适应民间表演需要

(1) 依据材料一, 任选一项非物质文化遗产, 从历史或现实角度说明其价值。(2分)

材料二



(2) 依据材料二, 概括同仁堂的发展变化。(2分) 结合所学, 分析影响其变化的因素。(2分)

材料三 作为六朝古都,北京不仅拥有故宫、颐和园等闻名世界的物质文化遗产,更有着曲艺、工艺美术、传统医药、民俗等璀璨的非物质文化遗产。这些宝贵的历史文化资源使北京有了自己独特的文化符号,有了可供挖掘的历史文化金矿。新时代新征程上,开展与加强非物质文化遗产的保护与传承工作,是北京坚持和强化首都作为全国政治中心、文化中心、国际交往中心、科技创新中心的核心功能,实施建设“国际中心城市”战略的重要内容和举措,是巩固连接北京市民情感的纽带,保持了北京乃至中国文化的多样性。

——摘编自《北京非物质文化遗产巡礼:北京市级》

(3) 依据材料三,分析非物质文化遗产在北京城市发展中的作用。(2分) 结合所学,请你从国家和个人两个角度,针对北京非物质文化遗产的保护与传承提出合理建议。(2分)