



# 门头沟区 2024 年初三年级综合练习 (一)

## 历史

2024 . 04

注意  
事项

1. 本试卷共 10 页，共两部分，共 24 道题，满分 70 分。考试时间 70 分钟。
2. 在试卷和答题纸上准确填写学校名称、姓名和准考证号。
3. 试题答案一律填涂或书写在答题纸上，在试卷上作答无效。
4. 在答题纸上，选择题用 2B 铅笔作答，其他试题用黑色字迹签字笔作答。
5. 考试结束，请将本试卷、答题卡和草稿纸一并交回。

### 第一部分

本部分共 20 题，每题 1.5 分，共 30 分。在每题列出的四个选项中，选出最符合题目要求的一项。

1. 下列近年中国考古新发现中，与半坡遗址有同类发现的是

发现用火遗迹以及刮削器、砍砸器、尖状器

发现了多座聚集而居的半地穴式房址

出土“干支木牍”。其中一枚书“今日”二字

发掘出大量石膏佛像残片和覆钵式舍利塔

山东沂水跋山遗址群

A

河北尚义县四台遗址

B

重庆武隆关口一号墓

C

新疆喀什莫尔寺遗址

D

2. 以下示意图表现的是中国古代某一思想家的主张，这位思想家是

治国理念	“夫唯不争，故天下莫能与之争。”
哲学思想	“祸兮，福之所倚；福兮，祸之所伏。”

A. 老子    B. 孔子    C. 墨子    D. 韩非子


3. 睡虎地秦墓竹简中记载“为器同物者，其小大、短长、广亦必等”，如果“衡石不正、斗不正等”，管理它们的官吏要受到相应的惩罚，这说明秦朝

A. 对度量衡的标准有严格规定    B. 大兴土木征调民力征发徭役  
C. 陆路交通贯穿全国四通八达    D. 地方废除分封制实行郡县制



4. 文献阅读是历史学习的重要方法之一。某生在利用关键词“北朝”、“农书”、“现存最早”搜索后，得到的相关文献是  
A. 《伤寒杂病论》 B. 《兰亭集序》 C. 《齐民要术》 D. 《资治通鉴》
5. 一位画家在莫高窟临摹壁画时，发现其与日本奈良法隆寺的壁画极其相似。经过考证后发现，这两幅壁画应该是根据同一个底稿画出来的，都来自唐朝的长安画坊。这说明唐朝  
A. 中外文化交流频繁 B. 手工业技术的高超  
C. 社会风气兼容并包 D. 商业活动繁荣多样

6. “升官图”是我国的古老棋类升级游戏，玩家需要从白丁做到“状元”。此游戏隋唐开始流传，宋时在民间得到普及，至民国方止。对此解读正确的是



- ①统一文字促进文化交流 ②休养生息稳定社会局势

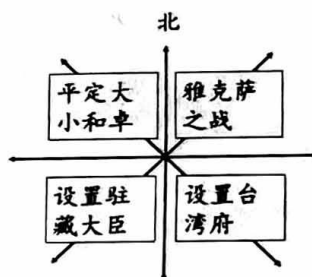
- ③科举选拔推动阶层流动 ④城市繁华造就生活丰富

- A. ①② B. ③④ C. ①③ D. ②③

“升官图”

7. 以下对右侧示意图解读正确的是

- A. 唐朝中外交往繁盛  
B. 北宋削弱地方权力  
C. 元朝对大都的有效管辖  
D. 清朝加强对边疆的管理



8. 19世纪中期流传这样一首歌谣：“有个林则徐，下令禁鸦片，弄得洋人大动气，就此派洋兵，打到下关镇，两江杨总督，讲和把钱偿。割出租界五口又通商，这件国耻把心伤”。歌谣中涉及到的历史事件依次为





- A. 虎门销烟、鸦片战争、《南京条约》  
B. 太平天国运动、第二次鸦片战争、《北京条约》  
C. 虎门销烟、鸦片战争、《虎门条约》  
D. 太平天国运动、第二次鸦片战争、《马关条约》

9. 一副对联这样写道：废两千年帝制，首义归功先行者；积四十载经验，遗言启迪后来人。对联中歌颂的人物是

- A. 洪秀全 B. 康有为 C. 孙中山 D. 袁世凯



10. 以下为一组长征题材的组画。请为它们排序

			
①反映的是红军在长征途中翻越第一座大雪山场景。	②描绘的是瑞金镇百姓送别红军队伍的画面。	③画面表现了三大主力汇聚在一起时的历史场面。	④反映了挽救了红军，挽救了党，挽救了中国革命的一次会议。

- A. ②①③④    B. ③②①④    C. ②③①④    D. ②④①③

11. 右侧为书籍《名家史学精讲——中国共产党历史》的目录（部分），其中第六讲的题目应为

- A. 开天辟地——中国共产党的诞生  
B. 创业艰难——从土地革命到抗日战争  
C. 历史转折——改革开放的缘起和进程  
D. 新时代——中国梦的提出与新的开局

第四讲 建国大业——中华人民共和国成立和社会主义制度建立  
第五讲 艰辛探索——社会主义建设的探索和曲折发展  
第六讲 \_\_\_\_\_  
第七讲 跨越世纪——建立社会主义市场经济体制

12. 以下是十四届全国人大二次会议政府工作报告中的成绩单（部分），其主题是

2023年，我国自己建造的第一艘大型邮轮试航成功并交付运营  
2023年，新能源汽车产销量占全球比重超过60%  
2023年，国产大飞机C919投入商业运营

- A. 军队建设逐步完善    B. 海上防御体系加强  
C. 核能开发步伐稳健    D. 交通运输发展迅速

13. 在西方体育发展史上，进入14世纪，对身体活动的束缚开始松懈，体育活动被大力倡导，时人认为人类能够成为“自己尊贵而自由的形塑者”。这反映出

- A. 体育活动的规范性稳步提升    B. 人文主义思潮逐渐影响体育  
C. 人的身体和灵魂受神学影响    D. 西方体育运动发展停滞不前



14. 下表中①和②处应填写

<p>1689年，英国议会通过了《权利法案》，英国议会的权利日益超过国王，①逐渐形成。</p>	<p>1787年，②在美国费城颁布，其内容包含了联邦原则、分权制衡原则等，是世界上第一部资产阶级成文宪法。</p>
---	---


- A. ①君主立宪制 ②《1787年宪法》  
 B. ①联邦共和制 ②《拿破仑法典》  
 C. ①君主专制 ②《宅地法》  
 D. ①联邦共和制 ②《1787年宪法》
15. 斯塔夫里阿诺斯在《全球通史》中指出：“马克思根据自己的历史研究坚信资本主义将因阶级斗争而被推翻，并被一种新型的社会主义代替。”指导这一斗争和运动的理论来自于
- A. 《查士丁尼法典》 B. 《人权宣言》  
 C. 《共产党宣言》 D. 《联合国宣言》

16. 发表于1882年的日本漫画《美的类型》(见左图)中，男性一改之前结发、穿和服的形象，变为戴帽剃发，身穿近代洋装。这种变化源于



- A. “废藩置县” B. “殖产兴业”  
 C. “文明开化” D. 实行征兵制
17. 教师在介绍某一历史人物的成就时，着重提到了“新政”“国家干预”“雅尔塔会议”等词，据此判断，此历史人物应是

- A. 列宁 B. 罗斯福 C. 斯大林 D. 丘吉尔
18. 2019年，为了纪念这次战役胜利75周年，英国发行了系列邮票，其中两枚邮票展示了英国皇家海军在登陆中炮轰德军阵地，为抢滩部队提供火力支援的画面(见右图)。这次战役



- A. 标志着二战的全面爆发  
 B. 粉碎了德军不可战胜的神话  
 C. 使英美对德宣战二战达到最大规模  
 D. 开辟了欧洲第二战场
19. 英国作家乔治·奥威尔在1945年发表的文章中指出，战后幸存的超级大国之间“令人不安的僵持状态”和“不是和平的和平”的状态将会长久存在。这种状态结束于
- A. 杜鲁门主义出台 B. 马歇尔计划实施  
 C. “北约”“华约”对峙 D. 苏联的分裂解体



20. 以下是某班制作的黑板报，其主题是

1945年成立的联合国在维护国际和平与安全方面发挥了积极作用，使许多国家和地区避免了一些可能发生的战争。

1993年，大部分西欧国家在欧共体的基础上组成了欧洲联盟，大大加快了欧洲一体化进程。

2024年，上合组织成立20周年。中国作为上合组织的创始成员国，始终愿同上合组织其他伙伴一道，增进团结互信，凝聚合作共识。

- A. 分裂与对峙                      B. 和平与发展  
C. 强权与暴力                      D. 独立与解放

## 第二部分

本部分共4题，共40分。

21. (10分) 生产力演进有其规律，根据当下生产力发展出现的新特征，可以把整个生产力演进过程划分为三个阶段，即传统生产力、新兴生产力和当下开启的新质生产力。

材料一 生产工具是生产力水平的标志

中国古代生产工具变化表

春秋 以前		<p><b>骨耜及其复原图</b></p> <p>人们以木、石、骨、蚌作为主要的生产工具，也有少量的青铜工具用于农业生产。这些工具或质地较为脆硬无法开垦荒地或较为粗糙无法进行精耕细作。</p>
春秋		<p><b>战国铁犁铧</b></p> <p>冶铁技术出现，使①被广泛使用，推动了生产力的发展和井田制的解体，并逐渐代替木、石、骨、蚌成为主要的生产工具。</p>
西汉		<p><b>三脚耨车(复原图)</b></p> <p>汉武帝时赵过发明三脚耨车，多用于北方小麦耕种。使用时一人在前面牵牛拉着耨车，一人在后面手扶耨车播种，一天就能播种一顷地，大大提高了播种效率。</p>
唐朝		<p><b>② (复原图)</b></p> <p>它在操作时犁身可以摆动，富有机动性，便于深耕，且轻巧柔便，适宜了江南地区水田面积小的特点。一改汉代耕犁耕地时回头转弯不够灵活，起土费力的缺点。</p>



(1) 依据材料一，将①②补充完整。(2分) 并概括中国古代生产工具变化的特点。(2分)

材料二 据统计，1751年至1850年，英国取得了129项重大科学成就。与此同时，手工工场的技术分工越来越细，劳动工具越来越专门化，而且使工人得到专门的技术训练，从而为机器的发明和应用准备了条件。18世纪末至19世纪上半期，英国各地举办了很多讲习所，传授应用科学知识。此外，还开办了一些名为“技术学校”的夜校，最多时有200多所，大多数集中在工业城市。这些都促成了19世纪70年代以前英国工业生产的蓬勃发展。

——摘编自许永璋《从近代英国工业的兴衰看科学技术的作用》

(2) 依据材料二并结合所学，概括近代英国工业发展的原因(2分) 及影响。(1分)

材料三 2024年3月4日，十四届全国人大二次会议的代表委员针对新质人才的培养建言献策。

全国政协委员 俞建	教育部部长 怀进鹏	国家管理委员 会主任 张玉 卓	富士康科技集团 叉车工人 马贵 帮
我国稀土产业专家型人才多以技术型为主，在产业生产、市场营销等方面由行业专家转型为企业家的专业人才较少。	发展新质生产力、实现现代化需要各方面人才，需要各领域拔尖创新人才。在基础研究、技术创新，特别是技术转移和成果转化等方面，通过多方协作来加大创新人才培养。	驱动企业创新发展，关键要把培养青年科技人才作为长期的战略性工作。	作为国家支柱产业，制造业对技术人才有着强烈需求。而解决制造业高级技工短缺问题，除了学校层面的“提档升级”，他认为学校也应加强操作实践。

(3) 依据材料三并结合所学，概括代表们对于新质人才的素养要求(2分) 并谈谈你的看法。(1分)



22. (10分) 盐是人类生活的必需品，也是关系国计民生的重要战略物资。

材料一 文景之治后，中央与地方的矛盾不断加剧。武帝时，北击匈奴的战争，耗费甚巨，财政危机严重，号召全国有钱人捐款，然而响应者寥寥。因此，公元前119年，汉武帝正式下令采用募民煮盐而官府专卖的做法，盐业由政府经营。盐业官营等举措解决了上述问题，共同推动了社会发展。

——摘编自陈心怡《浅析汉朝的盐铁官营争论》

(1) 依据材料一，概括盐业官营的影响(2分)并结合所学说出汉武帝时期“大一统”采取的其他举措。(1分)

材料二 遵循毛泽东的农民武装“上山”，但“单靠农民的力量是不行的，必须有一个军事的帮助”的方针，全国革命形势迅速发展。1931年11月，中华苏维埃共和国的成立，使国民党统治集团感到极大震惊。他们在实施军事封锁的同时，对苏区采取食盐管制。为此，苏区各地从老屋、旧灶中取硝土、卤水作原料，熬制提炼食用硝盐。然而，长期食用硝盐对身体有害，因此还是要想方设法“进口”食盐，为此，在边境村设立了大量对外贸易处，同白区贸易，互通有无，解决了食盐奇缺的问题。

——摘编自陈安《苏区的“夺盐战争”》

(2) 依据材料二并结合所学，概括划线处的革命路线(1分)并分析苏区度过食盐困难的方法。(2分)

### 材料三

名称	时间	与食盐相关的史实
①	1930年	甘地向英国殖民政府提出废除食盐专卖法等要求。遭到拒绝后，甘地以反对食盐专卖为突破口，带领数十名追随者步行到海边，自取海水制盐。
②	1862-1864年	联邦军队接连3年对美国南方的佛罗里达等州的盐场进行封锁和袭击，造成南方叛乱地区物价飞涨，人民怨声载道，盐场黑奴借机大量逃亡。

(3) 依据材料三并结合所学，说出①、②关联的事件名称及影响。(4分)



23. (10分) 漫画是一种简单夸张的方式，能够描述历史和当下发生的事情。

材料一 历史漫画相对于文字材料来说，表现形式更直接，读者能根据画面的内容及主次、人物、场景等分析出作者要表达的含义。它们大多通过夸张的线条，抽象而富有趣味的表现手法，让人觉得眼前一亮的同时忍不住捧腹大笑，同时对于漫画背后的含义也有了想要深入了解的兴趣。漫画还发挥着类似新闻报道的社会监督功能，或者说它们本身就是一种历史记录。这样，就可以在客观事实的基础上，通过漫画语言艺术来表达观点、发表评论。

——摘编自余伟民《老漫画中的中国史》

(1) 依据材料一，概括历史漫画的特点。(2分)

材料二

①19世纪后半期，英、德、法、俄等国矛盾冲突不断，并计划组建两大军事集团。	②1914年6月28日，奥匈帝国斐迪南大公在萨拉热窝被刺杀。	③1917年11月6日，列宁亲自领导彼得格勒武装起义取得胜利。	④1919年，战胜的协约国在巴黎召开会议并最终签署了对德和约及战后安排。
⑤1919年5月4日，北京大中学生汇集在天安门前，发表演讲，举行示威游行。	⑥1921年，苏维埃政府实施以征收粮食税代替余粮收集制，实行自由贸易等政策。	⑦1922年，美、英、中等九国代表签署了针对中国问题的《九国公约》。	⑧1928-1937年，苏联先后完成了第一个、第二个五年计划。





(2) 史事的发生都有其前因后果。从材料中选择两组史实，参照示例，对其所反映史事的因果关系进行说明。(5分，示例组合除外)

示例：漫画③⑥

1917年，十月革命建立了第一个无产阶级专政的国家，推动了国际无产阶级革命运动，鼓舞了殖民地人民的解放斗争。之后，为了粉碎外国武装干涉，实施了战时共产主义政策。但是，长期的战时共产主义政策导致了经济困难、社会矛盾加剧。

1921年，列宁实施新经济政策，这项政策从国情出发，调动了生产者的积极性，迅速缓解了危机，巩固了新生的苏维埃政权，巩固了工农联盟，促使国民经济稳步发展。

材料三

<p>此漫画发表于1927年出版的《革命歌声》，名为《锄列强，倒军阀，灭尽世上压迫人！》，描绘了国共第一次合作后进行的 <u>A</u>。</p>	<p>漫画展示了1927年至1933年期间的历史。左下角第一面旗帜上的“南昌暴动”四个字，象征1927年发动的这次起义，其影响是 <u>B</u>。</p>	<p>漫画为1947年张竹创作的《自卫战争的第二条战线》。漫画内容为1946年，蒋介石公然违背 <u>C</u> (文件名称)，发动内战后，国统区面临的经济和政治危机。</p>

(3) 依据材料三并结合所学，将A、B、C处补充完整。(3分)



24. (10分) 门头沟区蕴含着丰富的历史文化, 既包括有形遗产, 又包含非物质文化遗产。为“迈出教材半步”, 某校近期利用“迷你学期”开展了门头沟区域内的历史文化研学活动。



研学第一项: 听古老语言——斋堂话

斋堂镇位于门头沟区, 其独特的语言——斋堂话是研究北京方言的重要来源。比如, 称“蝉”为“鸣音哇子”, “没办法了”称“没闹了”。这种独特的方言, 其构成源于在相当长的历史时期, 斋堂处于边陲之地, 是多民族来往频繁相互影响的地区。其北部的永定河水势凶猛, 河上无桥, 只靠极少数船舶摆渡。斋堂地区居民比较稳定, 即使战乱时期, 土著居民仍无大批远迁不归的现象。因此, 该地区语言的词汇和语音声调方面受外界影响较少。

——摘编自朱炼《试析京西斋堂话的造词特征及其成因》

(1) 依据材料一, 说出斋堂话形成的原因。(2分)



研学第二项: 探红色文化——平西情报联络站

平西情报联络站位于门头沟区妙峰山镇涧沟村, 是中国共产党领导下的红色情报联络站。全民族抗战时期, 联络站安排自身安全受迫的国际友人林迈可夫妇居住在雁翅镇淤白村, 后经晋察冀军区去往延安。联络站还利用西山到西直门的古香道, 以老百姓日常朝香活动为掩护, 解决了平西根据地位处深山, 物资匮乏的问题。1947年10月(解放战争时期), 平西情报联络站通过华北的中共地下党员获得了一份极为重要的机密情报, 为在战役中歼灭敌军有生力量、扭转华北战局起到了重要作用。

——摘编自解永越《“胜似雄兵十万”的平西情报联络站》

(2) 依据材料二, 说出平西情报联络站的作用。(2分) 运用史实, 说明中国共产党在划线时期所作的贡献(两个时期各一例)。(2分)



研学第三项: 我的家乡真可爱——想把她讲给你听

研学对象	研究方向
示例: 斋堂话	北京地区方言的流变和北京民俗文化的发展
.....	.....

(3) 依据材料三, 根据自身实际, 安排门头沟研学的第三项任务, 包括研学对象和研究方向。(仿照示例完成, 示例不可重复使用)。(2分) 说说经过研学后, 你对门头沟区历史文化宣传推广的建议。(2分)