



# 北京交大附中 2023—2024 学年第二学期期中练习

## 高一历史

命题人：王信 审题人：孙红燕

2024.4

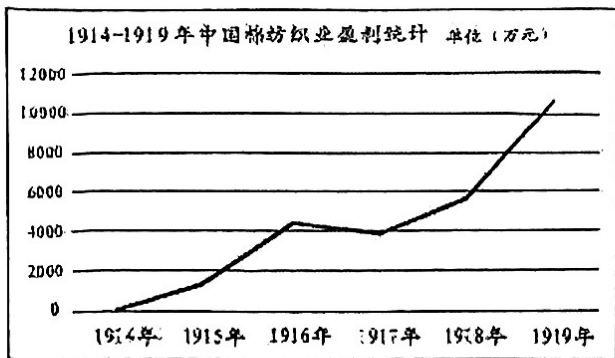
说明：本试卷共 7 页，共 100 分。考试时长 60 分钟。

### 第一部分

本部分共 30 题，每题 2 分，共 60 分。在每题列出的四个选项中，选出符合题目要求的一项。

本部分共 30 题，每题 2 分，共 60 分。在每题列出的四个选项中，选出符合题目要求的一项。

1. 下图为 1914—1919 年中国棉纺织业盈利统计折线图。促使这一时期棉纺织业盈利变化的原因有



- ①清末“新政”设立商部                      ②欧洲列强忙于一战放松对华侵略  
 ③民国政府鼓励创办实业                      ④群众性的反帝爱国斗争此起彼伏
- A. ①②③              B. ①②④              C. ①③④              D. ②③④

2. 1915 年，陈独秀、李大钊等一批先进的知识分子认识到共和制度得不到巩固，根本原因在于缺乏对旧思想、旧文化，旧礼教的彻底批判，为此发起的运动是

- A. 太平天国运动   B. 保路运动              C. 新文化运动              D. 一二·九运动

3. 《2004~2010 年全国红色旅游发展规划纲要》提出要建设 12 个“重点红色旅游区”。下列各项主题中，符合“沪浙红色旅游区”的是

- A. 党的创立，开天辟地                      B. 武装起义，八一建军  
 C. 秋收起义，转战农村                      D. 万里长征，战略转移

4. 时空观念是历史学科诸素养中学科本质的体现。以下图片反映的历史事件，按时间先后排列正确的是



- ①国民党一大会场照片   ②浙江嘉兴南湖红船   ③五四运动浮雕   ④南昌起义油画
- A. ①②③④              B. ②④①③              C. ③②①④              D. ④②③①



5. 下图是 1919 年 5 月《新申报》的“号外”，有“今日各校学生游街”“声明不认二十一款……撤回赴欧和会专使”等内容。这张“号外”报道的历史事件是

- A. 五四运动爆发 B. 国民党一大召开 C. 北伐战争开始 D. 东北改旗易帜



6. 在红军长征途中的某次会议上，开始确立以毛泽东为主要代表的马克思主义正确路线在党中央的领导地位，在极其危急的情况下，挽救了党，挽救了红军，挽救了中国革命。这次会议是

- A. 八七会议 B. 古田会议 C. 遵义会议 D. 中共七大

7. 1937 年 7 月 8 日，中国共产党通电全国：“全中国同胞，政府，与军队，团结起来，筑成民族统一战线的坚固长城，抵抗日寇的侵掠！”通电针对的历史事件是

- A. 九一八事变 B. 华北事变 C. 西安事变 D. 卢沟桥事变

8. 1942 年 1 月，美、英、苏、中领衔签署二十六国联合宣言，世界反法西斯同盟正式成立。中国《中央日报》社论称：“在今日整个世界之中，我们已是四强之一，中美英苏不但是现在反侵略阵线的四大主力，并且是未来重建新世界的四根支柱。在我国历史上，我们的国际地位从未有达到这样高峰。”该观点所要说明的是

- A. 中国已是反法西斯战争重要战场 B. 抗日战争提高了中国的国际地位  
C. 各国联合是反法西斯斗争的关键 D. 抗日战争极大提高了民族凝聚力

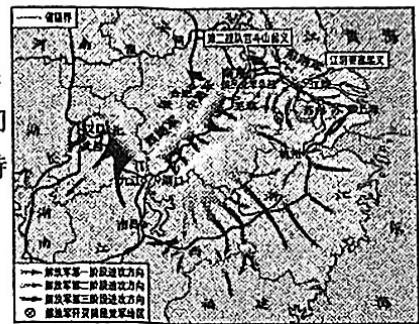
9. 右表是全面抗战爆发后海外华侨捐款的部分统计资料，从资料中可以获取的历史信息是

时间	华侨所在地区	捐款数额 (国币)
1937. 7-1939. 5	菲律宾	1710 万元
1937. 7-1938. 12	西欧	1700 万元
1937. 7-1938. 12	澳大利亚	545. 59 万元

- A. 抗战得到了海外华侨支持 B. 亚洲华侨捐款的人数最多  
C. 抗战得到各国政府的帮助 D. 中国的国际地位得到提高

10. 1949 年春，中共在河北平山西柏坡召开了七届二中全会，会上毛泽东指出党的工作重心必须由乡村转移到城市，提醒全党“务必使同志们继续地保持谦虚、谨慎、不骄、不躁的作风，务必使同志们继续地保持艰苦奋斗的作风”。这次会议召开的背景是

- A. 北伐战争胜利进军 B. 中央红军到达陕北  
C. 中国全面抗战开始 D. 解放战争即将胜利



11. 研读地图是学习历史的重要方法。下列历史地图反映的战役是

- A. 辽沈战役 B. 淮海战役  
C. 平津战役 D. 渡江战役

12. 下图是新中国成立后拍摄的一张照片，其中有“人民政府领导我们分到田地”“郁金友分到五亩田地”等字样。照片反映的历史事件是

- A. 银元之战 B. 米棉之战 C. 土地改革 D. 抗美援朝



13. 1955 年，周恩来在某次国际会议上说：中国代表团参加会议的目的是“来求团结而不是来吵架的”，“是来求同而不是来立异的”。据此判断，该会议是

- A. 朝鲜停战谈判 B. 日内瓦会议 C. 万隆会议 D. 中非合作论坛




14. 20 世纪 50 年代，我国民主政治建设取得的重大成就包括

- ① 基层群众自治制度                      ② 人民代表大会制度  
 ③ 民族区域自治制度                      ④ 中国共产党领导的多党合作和政治协商制度
- A. ①②③                      B. ①②④                      C. ①③④                      D. ②③④

15. 20 世纪 70 年代，中国外交打开新局面。属于这一时期的外交成就是

- A. 新中国首次以五大国之一的地位和身份参加日内瓦会议  
 B. 周恩来总理在接见印度代表团时提出和平共处五项原则  
 C. 中华人民共和国恢复在联合国的一切合法权利  
 D. 上海合作组织在中国的积极参与和推动下成立

16. 照片记录历史的瞬间，是时代的缩影。下列照片反映的历史事件，按时间先后排列正确的是



① 中英香港政权交接仪式



② 抗美援朝, 卫国保家



③ 中国加入世界贸易组织



④ 第一颗人造卫星发射成功

- A. ①③②④                      B. ①④②③                      C. ②④①③                      D. ③①②④

17. 20 世纪六十年代，大量先进典型和英雄人物抒写了改天换地的壮丽诗篇，形成了艰苦奋斗、自力更生的时代精神，如：铁人精神、焦裕禄精神、红旗渠精神、雷锋精神。这一时期中国人民的主要任务是

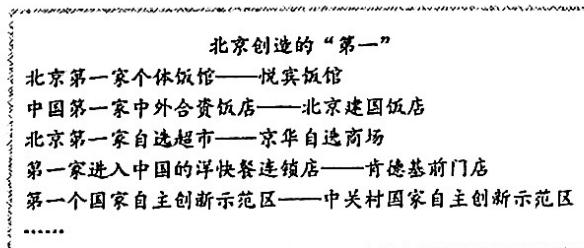
- A. 彻底打败日本侵略者                      B. 取消列强在华特权  
 C. 肃清一切反革命武装                      D. 全面建设社会主义

18. 阅读下表，说明农业总产值和农村居民人均可支配收入变化的原因是

年代	农业总产值（亿元）	农村居民人均可支配收入（元）
1978 年	1397	133.6
1988 年	3666.9	544.9
1990 年	7662.1	686.3

- A. 农业社会主义改造的完成                      B. 人民公社化运动的开展  
 C. 家庭联产承包责任制的实行                      D. 城市经济体制改革的进行

19. 北京是中国最具创新力的大城市之一，创造了许多第一（见下图）。对创新成就取得原因解释准确的是



- A. 社会主义经济体系的基本建立                      B. 社会主义建设总路线的确定  
 C. “调整、巩固、充实、提高”方针的贯彻                      D. 城市经济体制改革不断深化



20. 改革开放 40 多年来，中国社会主义现代化建设取得历史性成就。下列成就属于这一时期的有

- ① 三线建设加速                      ② 国产民用大飞机 C919 试飞成功  
③ 载人航天和探月工程顺利推进    ④ “神威·太湖之光” 超级计算机研制成功

- A. ①②③                      B. ①②④                      C. ①③④                      D. ②③④

21. 庄园是中古西欧基本的农业经济组织，下图是一个庄园的图解。据此可知，西欧庄园的主要特点是

- A. 等级森严  
B. 自给自足  
C. 中央集权  
D. 市民自治



22. 古代美洲的印第安人创造了灿烂的文明，为世界文明的发展作出了重要贡献。以下属于古代美洲文明的是

- ① 玛雅文明    ② 阿兹特克文明    ③ 印加文明    ④ 阿拉伯文明  
A. ①②③    B. ①②④    C. ①③④    D. ②③④

23. 恩格斯说：“国王是整个封建等级制的最上级，是附庸不能撇开不要的最高首脑，而同时他们又不断反叛这个最高首脑。”恩格斯评论的封君封臣制度出现于

- A. 古代的南亚    B. 中古时期的西欧    C. 古代的美洲    D. 中古时期的西非

24. 下列是某学生所做的读书摘录，据此可以得出的正确结论是

- ◆ 646 年，日本大化改新，实行租庸调制
- ◆ 10 世纪，高丽王朝在中央设三省六部
- ◆ 11 世纪，越南引进科举制度

- A. 亚非国家间的友好往来    B. 东西方文明间相互交融  
C. 中华文明影响周边国家    D. 亚洲各国经济联系加强

25. 新航路的开辟带来新旧大陆间人群和物种的大交流，改变了世界历史的面貌。下列选项与该论断相符的是

- A. 美洲的马铃薯成为欧洲人的主食之一    B. 欧洲的玉米传入美洲并得到广泛种植  
C. 大量非洲人口被贩卖到欧洲各国为奴    D. 亚洲的香料改变了欧洲人的饮食结构

26. 在中世纪欧洲人们习惯用拉丁语写作。但 14 世纪以来，用本民族语言写作的人越来越多，如薄伽丘用意大利语方言写作《十日谈》，马丁·路德将《圣经》翻译成德语，受到大家欢迎。这一现象

- ① 强化了天主教会的控制                      ② 有利于近代民族国家的形成  
③ 有利于宗教改革的推进                      ④ 推动了资产阶级文化的传播  
A. ①②③                      B. ②③④                      C. ①③④                      D. ①②④

27. 谚语在一定程度上反映了社会情绪。“神父的口袋最深”、“离罗马越近，基督徒越坏”是 16 世纪德国社会中流行的谚语。这些谚语

- A. 改变人们对上帝的虔诚信仰                      B. 引发欧洲首次思想解放运动  
C. 反映人们对天主教会的不满                      D. 深受法国启蒙思想家的影响



28. 17 世纪的哲学家们认为真相是可知的，必须通过缜密的观察和实验这类运用人类理性的方法来发现。如果人类能发现真相，发现自然的规律，那么这些知识就能帮助我们创造一个更好的世界。以上观念产生的影响是

- A. 影响了新航路的开辟      B. 有利于文艺复兴的开展  
C. 促进了宗教改革的发生      D. 推动了启蒙运动的兴起

29. 美国建国初期，制宪会议的参加者麦迪逊认为，新宪法授予联邦政府的权力很少，并有明确的规定；各州所保留的权力很多，却没有明确规定。在第一届国会上，麦迪逊提出宪法修正案：除了明确授予中央政府的权力以外，其余的权力由各州自行保留。这一主张

- A. 赋予各州主权      B. 恢复邦联制度  
C. 体现了分权与制衡原则      D. 旨在扩大联邦政府权力

30. 法国大革命期间，议会颁布一部纲领性文件，明确提出了自由、平等、法治、人民主权和保护私有财产等原则。这一文件是

- A. 《权利法案》 B. 《独立宣言》 C. 《人权宣言》 D. 《宅地法》

## 第二部分

本部分共 3 题，共 40 分。

### 31. 制度变革与创新（14 分）

秦朝彻底废除了周朝的分封制度，全国共设 36 郡，后来陆续增设至 40 余郡，郡下设县。郡、县主要官员均由朝廷任免，他们通过自战国沿用下来的“上计”制度接受中央考核。县以下又有乡、里两级基层管理组织。这样，秦王朝的统治由朝廷下至郡、县、乡、里，层层控制，国家权力自上而下延伸到社会最底层，又自下而上逐级集中到最高统治者皇帝手中。这也是秦以下中国历代王朝的基本统治模式。

——摘编自张帆《中国古代简史》

（1）依据材料概括秦朝管理地方的举措，并分析其影响。（6 分）

从制度的角度观察，隋唐大一统的基础是南北朝的制度遗产。各项制度的渊源虽然不同，但隋唐王朝的基本态度是予以继承而非否定。除了废除九品中正制、实行①科举制之外，②三省六部制、州县制、府兵制、均田制、③租调制等，均得到较好的承袭与实行。贞观之治、开元盛世的施政精神是对既有制度予以严格实行，而非轻易推行制度改易。

——摘编自李磊《试析南北朝至隋唐历史阶段的连续性》

（2）依据材料和所学，从①②③中任选一种制度，简述其在隋唐时期的发展及其历史作用。（4 分）



序号	年份	事件
①	1950年	《中华人民共和国土地改革法》颁布，指出土改的目的是废除封建土地所有制
②	1954年	第一届全国人民代表大会召开，颁布《中华人民共和国宪法》
③	1956年	对农业、手工业和资本主义工商业的社会主义改造基本完成
④	1978年	小岗村率先实行包产到户，之后家庭联产承包责任制逐渐在全国各地推广
⑤	1992年	中共十四大提出我国经济体制改革的目标是建立社会主义市场经济体制

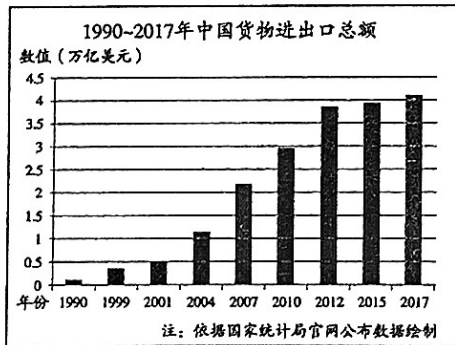
(3) 从上表①-⑤中任选一件事，~~参照示例~~，说明制度变革如何推动了社会进步。(4分)

### 32. 改革·创新·发展 (12分)

新民主主义革命时期……以毛泽东同志为主要代表的中国共产党人，把马克思列宁主义基本原理同中国具体实际相结合，对经过艰苦探索、付出巨大牺牲积累的一系列独创性经验作了理论概括，开辟了农村包围城市、武装夺取政权的正确革命道路，创立了毛泽东思想，为夺取新民主主义革命胜利指明了正确方向。

《中共中央关于党的百年奋斗重大成就和历史经验的决议》

(1) 结合材料和所学，概述 20 世纪 20 年代末 30 年代初，中国共产党是如何开辟革命新道路的。(6分)



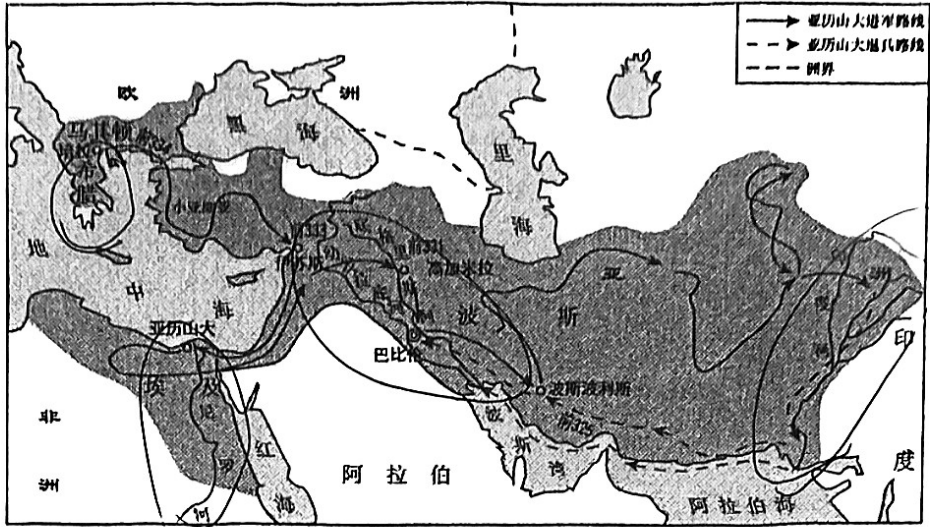
中国改革开放若干大事

1978年	中共十一届三中全会作出实行改革开放的决策
1984年	中国开放14个沿海城市
1992年	中共十四大确立社会主义市场经济体制改革的目标
2008年	中国加入20国集团
2013年	中国提出“一带一路”合作倡议

(2) 依据材料并结合所学，对 20 世纪 90 年代以来中国的对外贸易趋势及其原因进行说明和解释。(6分)



### 33. 文明的交流与转型 (14分)



亚历山大帝国形势图

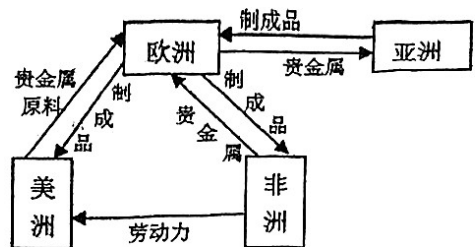
材料：从公元前334年亚历山大东侵到公元前30年罗马帝国最后吞并埃及，这300多年在地中海东部地区的历史上被称之为“希腊化时代”。希腊化时代的文化是希腊文化与东方文化相互交流融会的结晶。虽然它承袭希腊的传统，但与古典时期的希腊文化不同。如果说希腊古典文化是一种城邦文化，那么希腊化文化则是一种走向帝国的多民族的文化。其基本特征是希腊一体化和地方多元性相结合，文化中心也从雅典移到了埃及的亚历山大。

——摘编自齐涛《世界通史教程：古代卷》

(1) 依据亚历山大帝国形势图，指出亚历山大帝国沟通了哪些古代文明？结合材料说明“希腊化时代”的文化特点。(6分)

材料：新航路开辟后，世界各主要大洲之间建立了直接的商业联系，世界经济开始联为一个整体。右图是《16、17世纪各大洲之间商品与物资流向示意图》

(2) 依据上图并结合所学，说明16、17世纪贵金属的流动情况及其对欧洲、亚洲的影响。(4分)





材料：《政府论》是洛克倾注多年的心血之作。在这部著作中，他对近半个世纪英国政治思想领域的斗争进行了清理和总结，为新政权提供了理论论证。洛克法治思想的突出特点，是强调依法行政，即用法律约束和限制行政权力（即王权）。他指出，在君主专制政体中，君主只是用心血来潮或毫无约束的意志代替法律，而没有任何准绳和规定约束君主的行为。

——摘编自徐大同《西方政治思想史》

- (3) 依据材料概括洛克的思想主张。结合所学，用“光荣革命”后的史实说明英国政治变革是如何体现洛克思想主张的。（4分）