

房山区 2023-2024 学年度第一学期期末检测试卷



高一历史

本试卷共 10 页，共 100 分，考试时长 90 分钟。考生务必将答案答在答题卡上，在试卷上作答无效。考试结束后，将答题卡交回，试卷自行保存。

第一部分

本部分共 30 小题，每小题 2 分，共 60 分。在每题列出的四个选项中，选出最符合题目要求的一项。

- 山西襄汾陶寺遗址距今约 4300—4000 年，面积达 280 万平方米，城内有围墙环绕的宫城，宫城内有多处大型夯土建筑基址。城内大型墓葬分布集中，往往随葬着陶鼓、玉钺、龙盘等表明墓主人尊贵身份的礼器。城内还出土了小件青铜器和带有书写符号的陶壶。该遗址的考古发现表明
 - 中国进入了旧石器时代的晚期
 - 中原地区已经出现了早期国家
 - 长江下游地区创造了成熟文字
 - 中华文明多元一体格局的确立
- 《史记·蒙恬列传》记载：“……乃使蒙恬将三十万众北逐戎狄，收河南。筑长城，因地形，用制险塞，起临洮，至辽东，延袤万余里。”上述秦朝的举措
 - 解决了边境上匈奴的威胁
 - 加强了对西南边疆的管理
 - 实现了对地方的垂直管理
 - 巩固了国家大一统的局面
- 对下表信息解读正确的是

时间	历史事件	结果
前 138 年	张骞第一次出使西域	张骞被匈奴扣留 10 余年，联合大月氏计划没能实现
前 127 年	河套战役	匈奴南进，汉派卫青击匈奴，收复河南地（河套地区）
前 121 年	河西战役	汉派霍去病北击匈奴，夺回河西走廊，设河西四郡
前 119 年	漠北战役	匈奴南进，汉大破匈奴，匈奴再无力与西汉对抗
前 119 年	张骞第二次出使西域	西域各国纷纷派使节来长安，促进了相互了解和往来

- ①汉与匈奴作战主要是为开通丝绸之路 ②汉朝在稳固边疆基础上积极开拓疆域
 ③管理河西四郡的中央机构是西域都护 ④外交是一个国家综合实力的集中体现
- A. ①② B. ①③ C. ②④ D. ③④

4. 《史记·货殖列传》记载：“楚越之地，地广人希（稀），饭稻羹鱼，或火耕而水耨……无积聚而多贫。”《宋书》则写道：“江南之为国盛矣……地广野丰，民勤本业，一岁或稔，则数郡忘饥……鱼盐杞梓之利，充仞八方，丝绵布帛之饶，覆衣天下。”导致上述变化的原因有

- ①政治局势相对稳定 ②劳动力资源的充实
 ③农业生产技术改进 ④工商业贸易的发达
- A. ①②③ B. ①②④ C. ①③④ D. ②③④

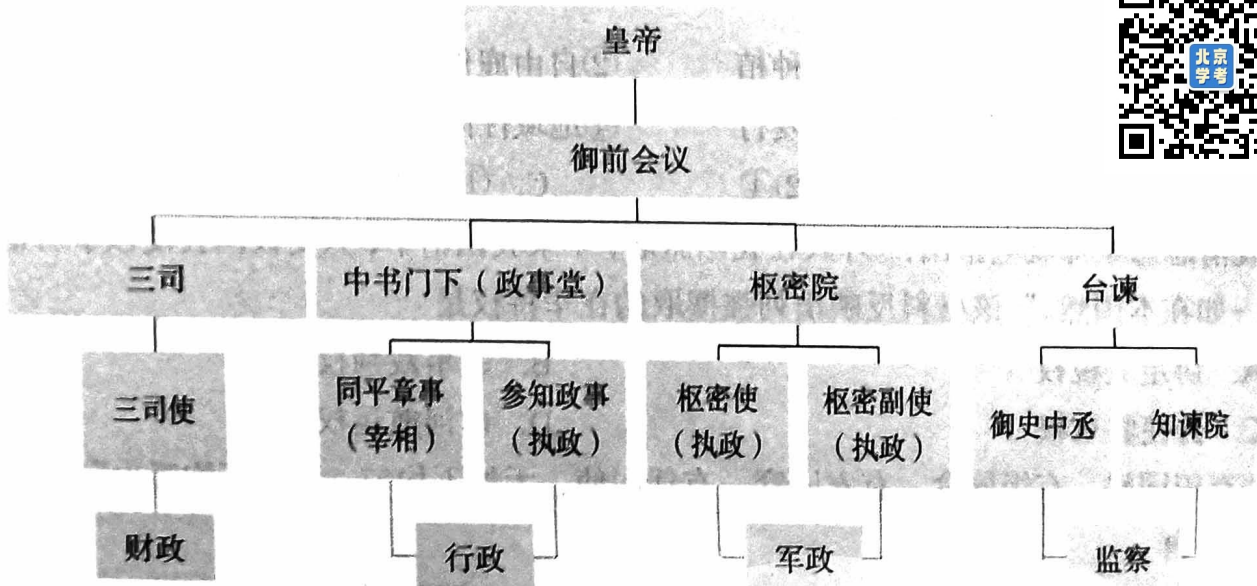
5. 大雁塔位于陕西西安的慈恩寺中，“雁塔题名”（右图）成为进士及第的代称。上述现象的出现源于

- A. 军功爵制 B. 察举制
 C. 九品中正制 D. 科举制



大雁塔唐朝进士题名帖

6. 下图是中国某朝代的中央权力分配示意图，该制度始于



- A. 西周 B. 东汉 C. 隋朝 D. 北宋

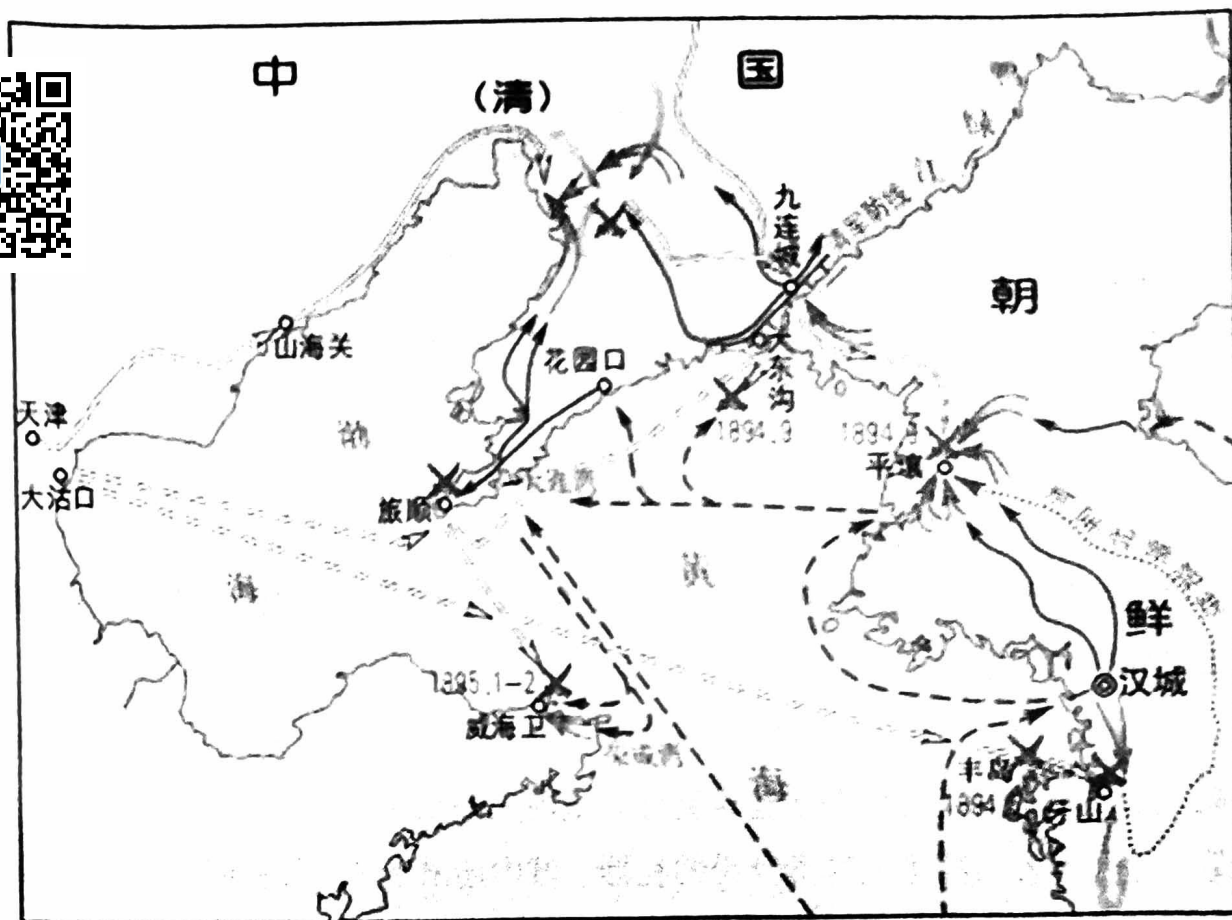
7. 12世纪后期金世宗在位，“当此之时，群臣守职，上下相安，家给人足，仓廩有余”，金世宗也被百姓誉为“小尧舜”。历史上称之为

- A. 文景之治 B. 开元盛世 C. 大定之治 D. 康乾盛世

8. 元朝不仅版图辽阔, 而且对边疆地区实施了较为有效的统治。《元书·地理志》总结道: “盖岭北、辽阳与甘肃、四川、云南、湖广之边, 唐所谓羁縻之州, 往往在是, 今皆赋役之, 比于内地。”材料表明元朝的边疆管理
- A. 呈现出了与内地一体化的趋向
B. 采取了因地制宜的政策
C. 通过设置羁縻府州来维护统治
D. 奠定了现代中国的版图
9. 中国古代科技文化成就辉煌, 长期领先于世界。以下说法正确的是
- A. 贾思勰, 南北朝时期数学家和天文学家, 把圆周率的值精确到小数点后七位
B. 孙思邈, 北魏农学家, 绘制的《禹贡地域图》是中国现存最早最完整的农书
C. 祖冲之, 唐朝医学家, 所著《千金方》是中国最早的一部临床实用百科全书
D. 郭守敬, 元朝天文学家, 编定《授时历》, 测定回归年平均长度领先于世界
10. 下列人物与其思想观点对应正确的是
- A. 孔子——“人法地, 地法天, 天法道, 道法自然。”
B. 董仲舒——“物物皆有理。如火之所以热, 水之所以寒, 至于君臣、父子间皆是理。”
C. 朱熹——“是非之心, 不待虑而知, 不待学而能, 是故谓之良知。”
D. 顾炎武——“保天下者, 匹夫之贱与有责焉耳矣。”
11. 自明朝后期起, 农业、手工业、商业领域出现了一些新现象。下列史实能够佐证这一观点的有
- ①玉米等外来高产作物的广泛种植
②自由雇佣劳动出现
③纸币在全国范围内作为主币发行
④地域性商帮的兴起
- A. ①②③
B. ①②④
C. ①③④
D. ②③④
12. 晚清思想家郑观应指出: “外人在我国旅居, 不隶我国治下, 只受彼国公使领事所辖, 一如在本国然。”该材料反映出列强攫取的在华特权是
- A. 协定关税权
B. 领事裁判权
C. 公使驻京权
D. 内河航运权
3. “有田同耕, 有饭同食, 有衣同穿, 有钱同使, 无处不均匀, 无人不饱暖也”这一史料出自
- A. 《天朝田亩制度》
B. 《资政新篇》
C. 《孔子改制考》
D. 《新学伪经考》
- “中国文武制度, 事事远出西人之上, 独火器万不能及。”为改变这种状况, 洋务派创办的企业是
- A. 福州船政局
B. 上海轮船招商局
C. 开平煤矿
D. 上海机器织布局



15. 下图为近代列强某次侵华战争形势图。根据图中信息判断该战争是



- A. 鸦片战争
B. 第二次鸦片战争
C. 甲午中日战争
D. 八国联军侵华战争

16. 据统计，战前（1914年8月前）注册的工业公司，共计146个，资本总额41148205元；而自1914年8月至1920年，新注册的公司就有272个，资本额达117434500元，所涉及的行业众多，尤以纺织业和面粉业这两个关系民众衣食的行业发展得最快。推动这一变化的因素有

- ① 民国建立扫除了政治上一些障碍
② 西方列强忙于第一次世界大战
③ 群众性的反帝爱国斗争此起彼伏
④ 国民政府在形式上统一了全国

- A. ①②③
B. ①②④
C. ①③④
D. ②③④

17. 下表为近代某历史人物的部分经历，据此判断该人物是

时间	1915年	1917年	1920年	1921年
经历	创办《青年杂志》	担任北京大学文科学长	建立了中国第一个共产党的早期组织	当选为中国共产党中央局书记

- A. 李大钊
B. 陈独秀
C. 胡适
D. 鲁迅


18. 据《上海罢市实录》记载：“有小学生决议不购食日制之奶糖，有牙医明确标示‘不医仇人’……至于处于社会底层的苦力、小工也上街游行，散发传单”“青红帮……议决，无论罢市若干日，所有盗窃扒手，一律停止”。据此可知，五四运动
- ①人民踊跃参与，群众基础广泛 ②是一次彻底不妥协的爱国运动
③收回了巴黎和会上丧失的权益 ④捍卫民族尊严，凝聚民族力量
- A. ①②③ B. ①②④ C. ①③④ D. ②③④
19. 《申报》刊登了《九江英租界收回之内容》：“已决定由英国政府将九江英工部局章程，悉行取消，并自三月十五日起，将九江租界区域内行政事宜无条件移交国民政府。”收回九江英租界发生于
- A. 清末新政 B. 二次革命 C. 国民革命 D. 抗日战争
20. 某班正在策划“缅怀革命先烈，赓续红色血脉”主题展览活动，以下四幅图片按时序布展正确的是



- A. ①②③④ B. ①③②④ C. ③①②④ D. ③②④①



21. 右图所示历史事件的重大历史意义是
- A. 打退了国民党对解放区的全面进攻
 - B. 粉碎了国民党对解放区的重点进攻
 - C. 揭开了人民解放军战略进攻的序幕
 - D. 表明解放战争进入到战略决战阶段



刘邓大军千里跃进大别山

22. 2020年10月23日上午10时，纪念中国人民志愿军抗美援朝出国作战70周年大会在北京人民大会堂隆重举行。抗美援朝战争

- ①保卫新生人民共和国的安全
- ②提高新中国在国际上的威望
- ③践行“和平共处”五项原则
- ④全面确立了社会主义公有制

- A. ①②
- B. ①④
- C. ②③
- D. ③④

23. 右图是新中国成立初期拍摄的一张照片，其中有“人民政府领导我们分到田地”“郁金友分到五亩田地”等字样。照片反映的历史事件是

- A. 银元之战
- B. 米棉之战
- C. 土地改革
- D. 家庭联产承包责任制



24. 下表为1952年、1957年中国农业、工业产值占比情况变化表，数据变化的原因是

项目	1952年	1957年
农业	56.9%	43.3%
工业	43.1%	56.7%

- A. 第一个五年计划的实施
- B. 和平外交方针的制定
- C. 剿匪镇反取得初步胜利
- D. 三大改造的顺利完成

25. 1959-1961年，我国经济发生了严重困难。为克服困难，中共中央实行的方针是

- A. “鼓足干劲、力争上游、多快好省地建设社会主义”
- B. “调整、巩固、充实、提高”
- C. “解放思想，实事求是，团结一致向前看”
- D. “计划和市场都是经济手段”

26. 20世纪60年代,“铁人”王进喜曾说“宁可少活二十年,拼命也要拿下大油田”。以王进喜为代表的大庆工人用实际行动诠释了艰苦奋斗、奋发图强的时代精神。以下历史人物诠释了同一时代精神的是

- ①邱少云 ②雷锋 ③焦裕禄 ④李四光
 A. ①②③ B. ①②④ C. ①③④ D. ②③④

27. 20世纪70年代,中国外交打开新局面。属于这一时期的外交成就是

- A. 新中国首次以五大国之一的地位和身份参加日内瓦会议
 B. 周恩来总理在接见印度代表团时提出和平共处五项原则
 C. 中华人民共和国恢复在联合国的一切合法权利
 D. 中国倡导并推动建立“中国—东盟自由贸易区”




28. 从1964年开始,三线建设跨越3个五年计划,在中西部建成约2000个大中型企业、设施和科研研究所,包括以重庆为中心的常规兵器工业基地、川贵陕的电子工业基地和航空工业基地以及长江中上游的船舶工业基地等。可见,三线建设

- ①推动沿海地区城市化进程 ②增强了国家的国防力量
 ③实现了产业结构平衡发展 ④改善了我国的工业布局

- A. ①③ B. ①④ C. ②③ D. ②④

29. 以下四幅图片反映了



中英香港政权交接仪式 中葡澳门政权交接仪式 通过《反分裂国家法》习近平、马英九历史性握手

- A. 香港、澳门经济的发展 B. 祖国统一大业已经完成
 C. 海峡两岸关系不断发展 D. “一国两制”具体实践

30. 中共十八大以来,中国特色社会主义进入了新时代,其伟大成就包括

- ①全面建成了小康社会 ②推动构建人类命运共同体
 ③开展中国特色大国外交 ④建立完整的国民经济体系

- A. ①②③ B. ①②④ C. ①③④ D. ②③④

第二部分



本部分共3题，40分。

31. (17分) “中国”

材料一 在秦汉统一以前，“中国”一词所共喻之定义已十分明确。那就是主要在指称诸夏之列邦，并包括其所活动之全部领域，载于文献者，均漫指黄河及淮河流域之大部分。至于此一称谓之实际含义，则充分显示民族文化一统观念。诸夏列邦之冠以“中国”之统称，主要在表明同一族类之性质与同一文化之教养之两大特色。因为实际上自远古以来并无政治统一之事实，而族类之混同，则已构成一致同血缘之庞大族群，在当时则称为诸夏。同时文化之融合与同化，也已构成一致之观念意识、生活习惯、语言文字与社会结构，在当时则形容为中国。

——摘编自王尔敏《“中国”名称溯源及其近代诠释》

(1) 依据材料一，说明秦汉统一前“中国”一词的具体内涵。(4分)

材料二



①唐蕃会盟碑

②隋唐统一，使“中国”版图进一步扩大。为了维护辽阔边疆地区的安定，唐朝确立了羁縻府州制度，以各边疆民族部落的分布范围作为羁縻府、州行政区划的基础，并在众多的羁縻府州基础上设立都护府，由都护府直接管理，再统于唐王朝中央政府。唐朝为了巩固自己的统治，对边疆民族总体上讲是以怀柔、招抚为主，以改善或加强与边疆民族的关系。为了巩固对边疆的统治，唐王朝也采取了积极开发的政策，其主要内容是发展屯田、开辟互市贸易等。

——摘编自马大正《中国古代的边疆政策与边疆治理》



③阎立本《职贡图》，反映的是外国使节和我国边远少数民族使臣携带贡品来唐朝进贡的生动情景。

(2) 写出材料二中①②③的史料类别；结合所学，概括指出唐朝与边疆各民族进行交往的方式及其历史意义。(7分)

材料三 我们应该采用整个历史时期，整个几千年来历史发展所自然形成的中国为历史上的中国……随着历史的发展，边区各族和中原汉族之间的关系越来越密切了，形成了一种相互依存的关系，光是经济文化的交流关系不够了，光是每一边区和中原的合并也不够了，到17、18世纪，历史的发展使中国需要形成一个统一的政权，把中原地区和各个边区统一在一个政权之下。而清朝正是顺应了历史发展的趋势，完成了这个统一任务。

——谭其骧《历史上的中国和中国的历史疆域》

(3) 依据材料三，结合所学，指出17—18世纪清朝为完成“统一任务”所做的努力，并分析其完成统一的历史条件。(6分)



32. (11分) 近代中国的民主革命

材料一

时间	事件	历史意义
19世纪40—50年代	开眼看世界	初步提出了向西方学习以求自强的主张
1898年	戊戌维新运动	推动了中国民族资本主义的发展和新思想的传播
19世纪末—20世纪初	辛亥革命	拉开了中国完全意义上的近代民族民主革命的序幕

(1) 依据材料一，提炼上表信息所反映的共同历史主题，任选一个历史事件加以分析。(5分)

材料二 中国共产党抗战语录摘编

停止内战，以便集中一切国力去为抗日救国的神圣事业而奋斗！(1935.8.1)

只有全民族实行抗战，才是我们的出路！(1937.7.8)

坚持抗战到底，反对中途妥协；巩固国内团结，反对内部分裂；力求全国进步，反对向后倒退。(1939.7.7)

——本书编写组《中国共产党简史》

材料三 中国共产党领导的抗日民主根据地共计19块，面积100万平方公里，军队132万人，民兵260万人，人口近1亿。中国共产党领导的武装力量作战12.5万余次，钳制和歼灭日军大量兵力，歼灭大部分伪军，敌后战场逐渐成为中国人民抗日战争的主战场。

——本书编写组《中国共产党简史》

(2) 习近平总书记曾指出：“中国共产党的中流砥柱作用是中国人民抗日战争胜利的关键。”依据材料二、三，结合所学，对这句话加以说明。(6分)

房山区 2023-2024 学年度第一学期期末考试

高一历史参考答案

第一部分选择题（每小题 2 分，共 60 分）



在下列各题的四个选项中，只有一项是符合题意的。

1	2	3	4	5	6	7	8	9	10
B	D	C	A	D	D	C	A	D	D
11	12	13	14	15	16	17	18	19	20
B	B	A	A	C	A	B	B	C	C
21	22	23	24	25	26	27	28	29	30
C	A	C	A	B	D	C	D	D	A

第二部分 非选择题（共 40 分）

31. (17 分)

(1) **内涵**：地理上：黄河中下游的中原地区；文化上：诗书礼乐制度；族类上：华夏族。（4 分）

(2) **史料类别**：①实物史料；②文献史料；③图像史料。（3 分）

方式：军事征服（或战争）；设立机构；册封；和亲；会盟。（2 分）

历史意义：①加强了中央对边疆的管理；②推动了中央与边疆民族的和平交往，促进民族交融；③推动统一多民族封建国家的巩固与发展；④有利于祖国边疆地区的开发和疆域拓展。

（2 分）

(3) **努力**：收复台湾，1684 年在台湾设府，隶属福建省；清政府通过雅克萨之战的胜利，于 1689 年与俄国签订《尼布楚条约》，从法律上确定黑龙江、乌苏里江流域包括库页岛在内的广大地区都是中国领土；平定噶尔丹和大小和卓的叛乱，1762 年在新疆设立伊犁将军，总领军政事务；1727 年开始派遣驻藏大臣，1793 年颁布《钦定藏内善后章程》；雍正在西南大规模推行“改土归流”。（4 分）

历史条件：中华民族共同体的不断发展；清朝实力强大，统治者重视。（2 分）

32. (11 分)

(1) **主题**：争取民族独立与人民解放，挽救民族危亡；探寻国家出路；中国的现代化；向西方学习（2 分，任意一个即可）

分析答案示例：（背景、过程、影响三个方面）

辛亥革命：面对清政府的腐朽统治和民族危亡，19 世纪末-20 世纪初，以孙中山为首的革命党人掀起了推翻清政府的革命运动。孙中山提出三民主义，创建中国同盟会，领导各地武装

起义，最终 1911 年武昌起义胜利，推翻了清政府，结束了二千多年的君主专制统治，建立了资产阶级共和国中华民国，颁布《中华民国临时约法》，确立了共和政体。但辛亥革命并没有解决近代中国社会的根本问题，没有完成民族独立和人民解放的历史任务。（3 分）

（2）**说明：**中国共产党率先提出“停止内战、一致抗日”的口号并坚持贯彻到底，促成西安事变的和平解决，逐步建立抗日民族统一战线，实行全民族抗战，成为凝聚全民族力量的组织者。中国共产党领导的八路军、新四军等武装力量，广泛开展游击战争，创建敌后抗日根据地，钳制和歼灭日军大量兵力，歼灭大部分伪军，给予日本侵略者以沉重打击。特别抗日战争进入战略相持阶段后，敌后战场成为抗击日本侵略的主战场；中国共产党是抗日民族统一战线的坚定维护者，坚决打退国民党当局掀起的反共高潮，提出“坚持抗战到底，反对中途妥协”的策略，巩固和发展了抗日民族统一战线。为此，习近平总书记说：“中国共产党的中流砥柱作用是中国人民抗日战争胜利的关键。”（或：倡导、建立、巩固抗日民族统一战线；提出全面抗战路线和持久抗战战略；开展独立自主的游击战和有条件的运动战；建立敌后抗日根据地，相持阶段抗击日本侵略的主战场；提出新民主主义理论。）（6 分）

33.（12 分）

（1）**历史内涵：**中华人民共和国的成立，结束了帝国主义、封建主义和官僚资本主义长期压迫和剥削中国各族人民的历史；人民真正成为国家的主人；从根本上改变了中国社会的发展方向；为实现由新民主主义向社会主义过渡创造了前提条件；中华民族开始以崭新的姿态自立于世界民族之林，中国历史进入新纪元。（3 分）

内容：人民代表大会制度是根本政治制度，中国共产党领导的多党合作和政治协商制度、民族区域自治制度是基本政治制度，它们初步构成了我社会主义的政治制度体系。（3 分）

（2）**题目：**改革开放改善了人民的生活。（1分）

简要阐释：1978 年，安徽凤阳小岗村农民实行分田包干到户，提高了农民积极性，实现了粮食产量的快速增收，安徽凤阳迅速摆脱了贫困，改革开放首先在农村取得突破；1980 年，中央决定在深圳、珠海、汕头、厦门设立经济特区，采用多种形式吸引和利用外资，学习国外先进技术和经营管理方法，为中国的经济发展注入了活力；1987 年，中国第一家肯德基在北京开业，开启了新餐饮模式甚至新的生活方式，丰富了人民的生活；中国的改革开放促进了中国经济的迅速发展，提高了综合国力，到 2000 年人民生活总体上达到小康水平，2010 年，经济总量跃居世界第二位，2021 年脱贫攻坚取得全面胜利，全面建成小康社会，人民的生活得到全面改善。（5 分）

